

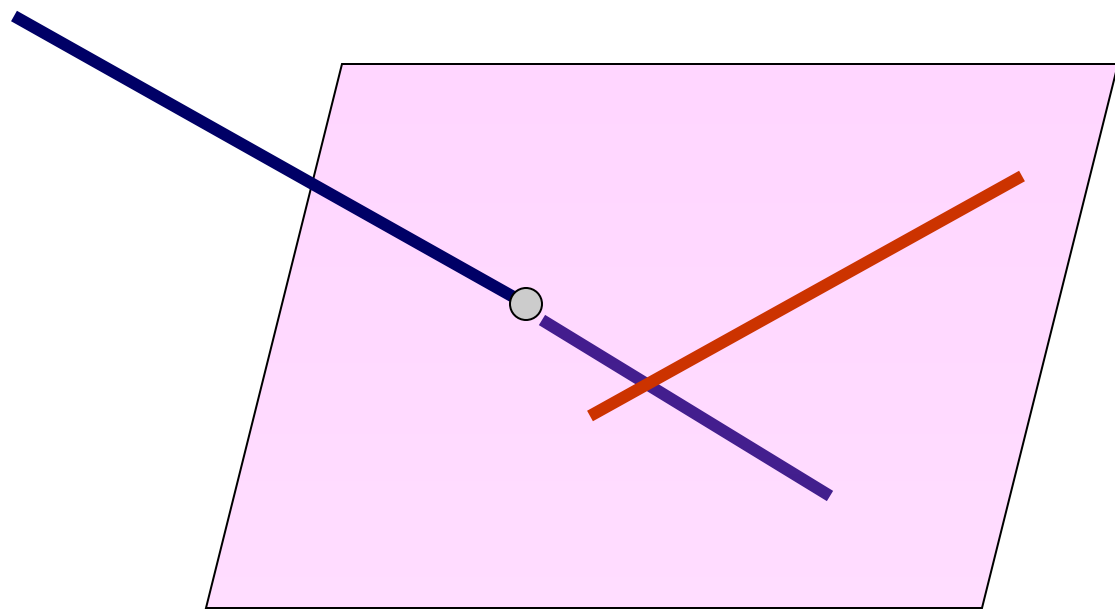
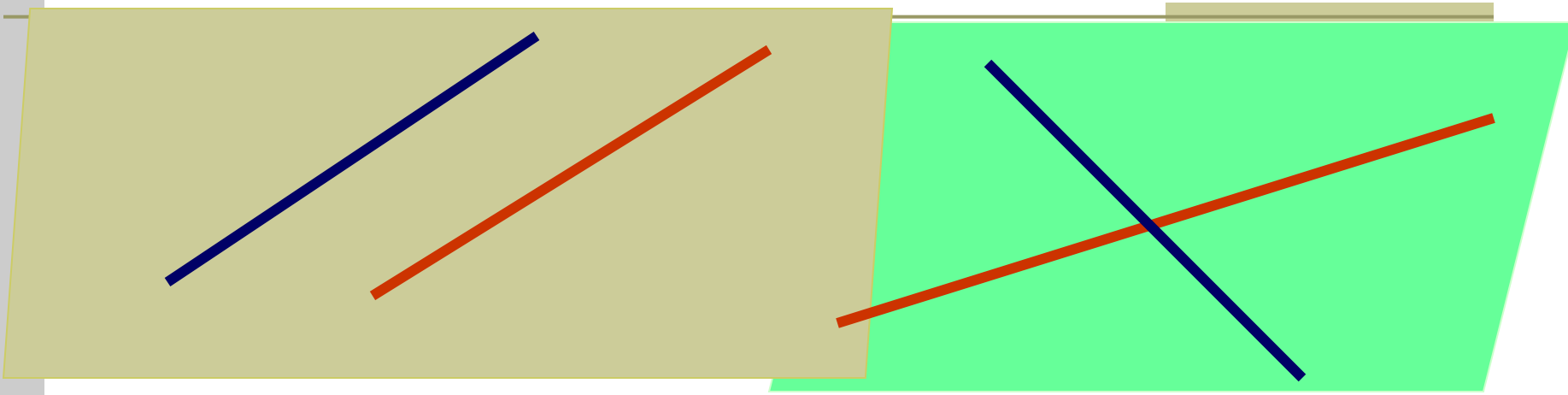


УРОК №23

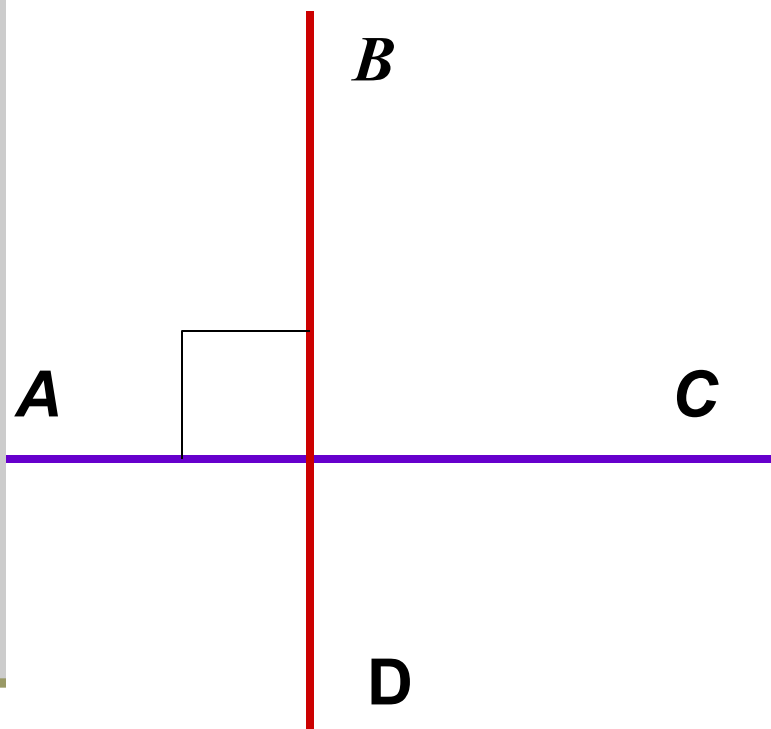
1. Перпендикулярные прямые в пространстве

- Ученик должен знать определение перпендикулярных прямых в пространстве.
- Ученик должен знать лемму о перпендикулярности двух параллельных прямых третьей прямой

Взаимное расположение двух прямых в плоскости



Планиметрия



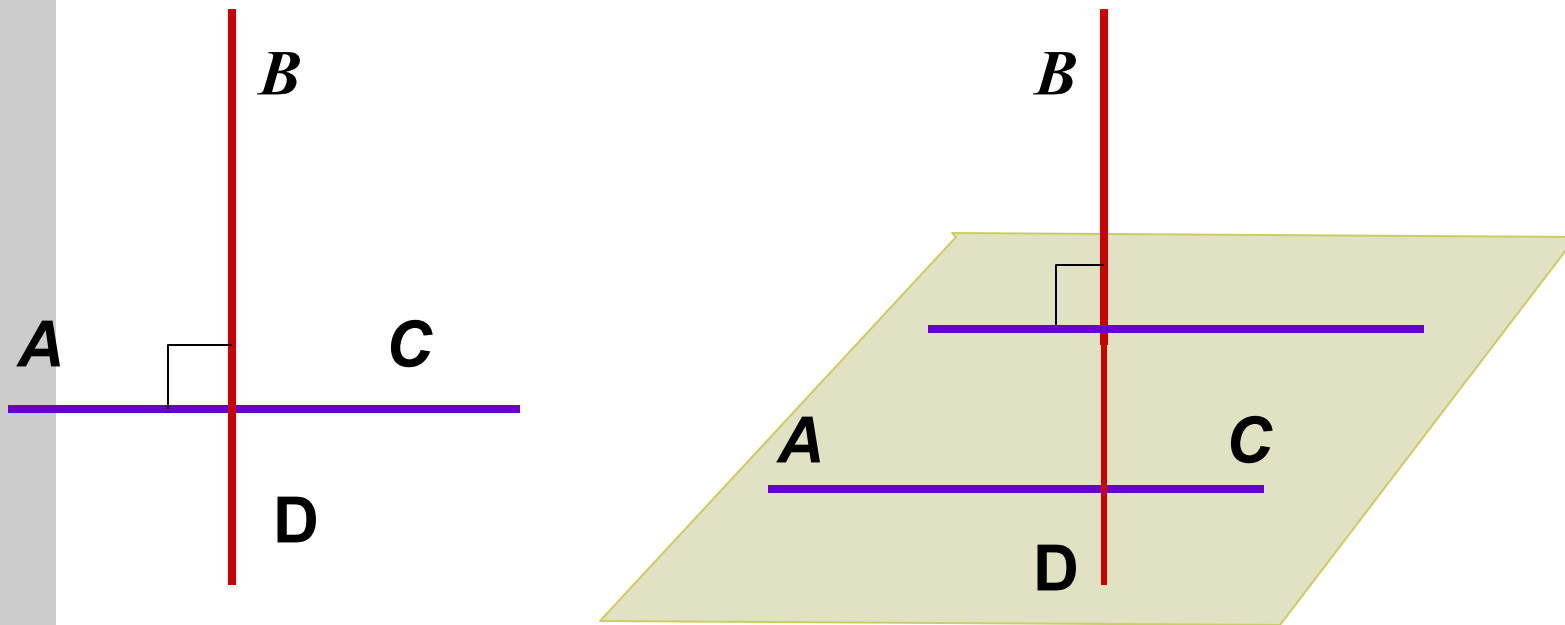
1. Определение:

Две пересекающиеся прямые называются перпендикулярными, если они образуют четыре прямых угла.

2. Свойство:

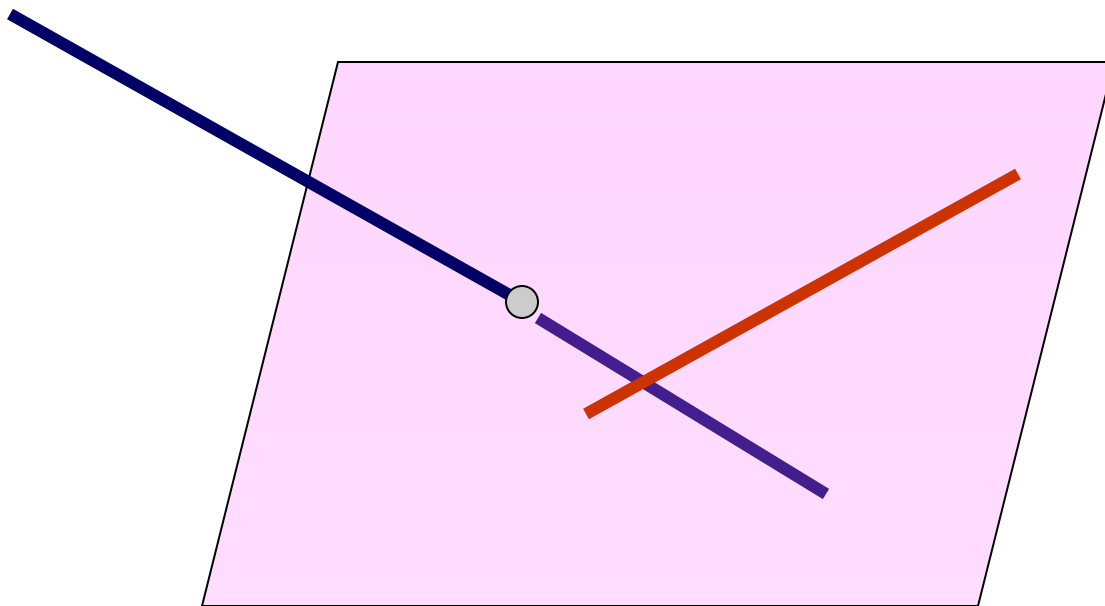
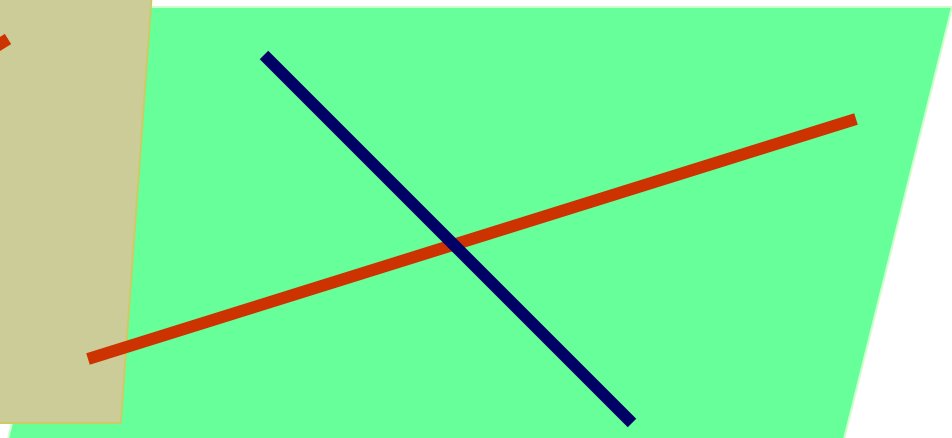
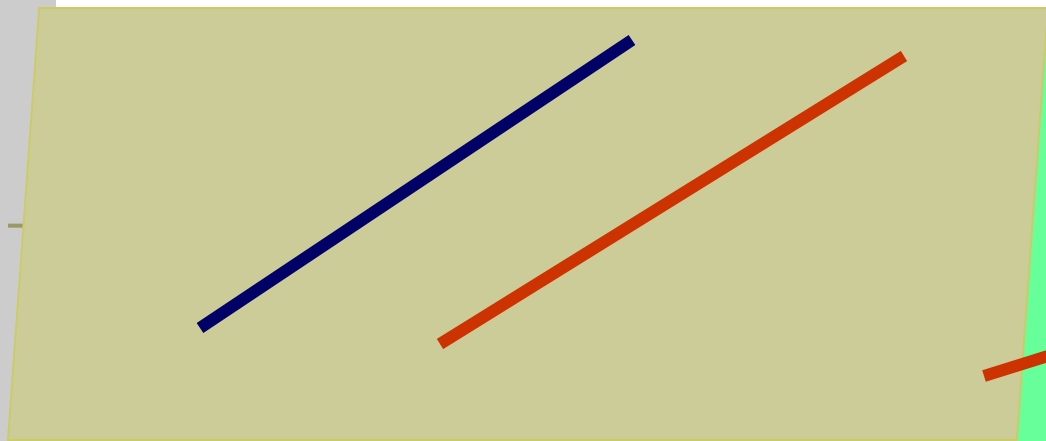
Две прямые перпендикулярные третьей не пересекаются.

Стереометрия



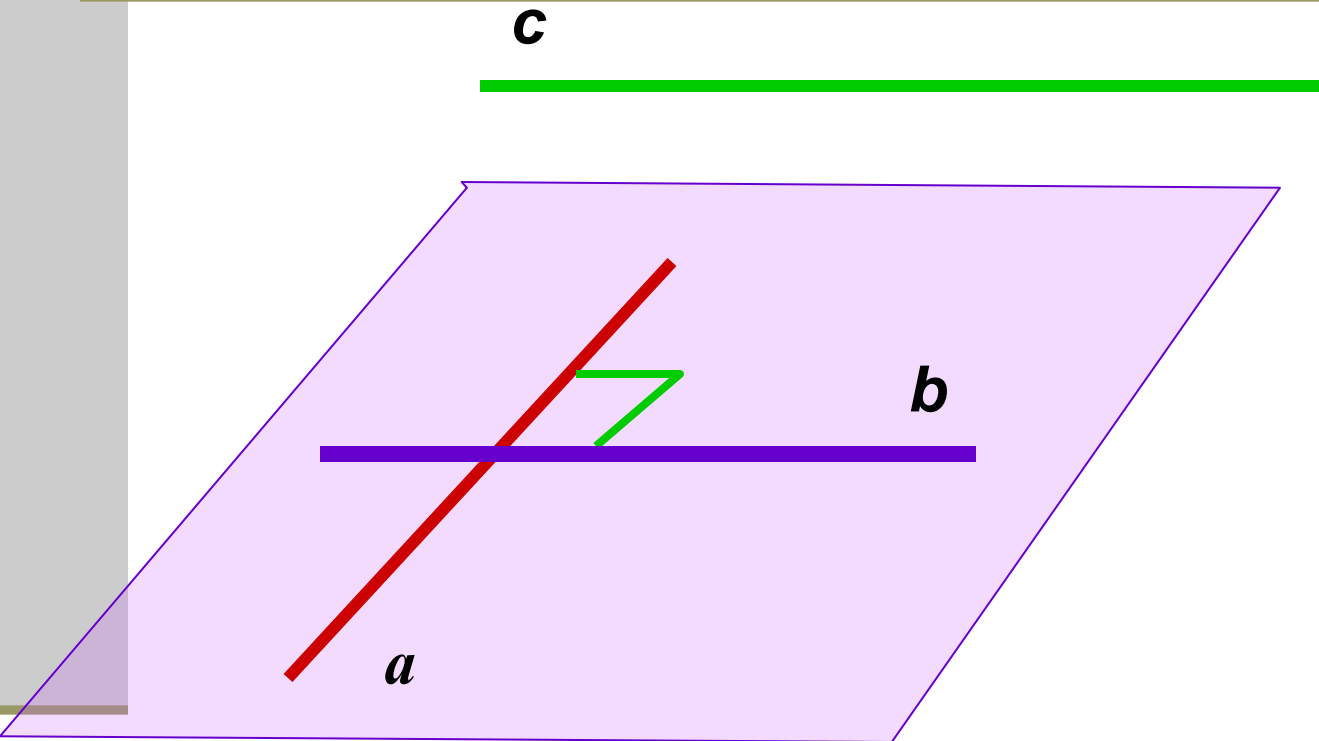
Две прямые в пространстве называются перпендикулярными, если угол между ними равен 90° .

Взаимное расположение прямых в пространстве



Прямые a и b пересекаются.

Прямые a и c скрещиваются.



$$a \perp b$$

$$a \perp c$$

Лемма о перпендикулярности двух параллельных прямых к третьей прямой

Если одна из двух параллельных прямых перпендикулярна к третьей прямой, то и другая прямая перпендикулярна к этой прямой

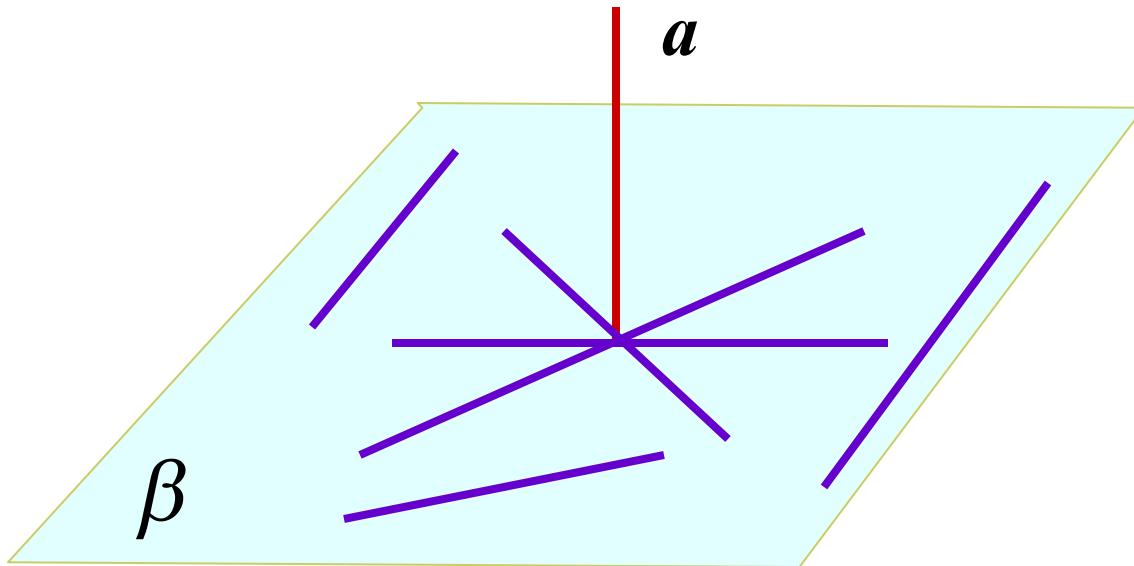
2. Параллельные прямые, перпендикулярные к плоскости.

Знать определение прямой перпендикулярной к плоскости.

Уметь формулировать и доказывать теоремы прямую и обратную о параллельных прямых.

Определение:

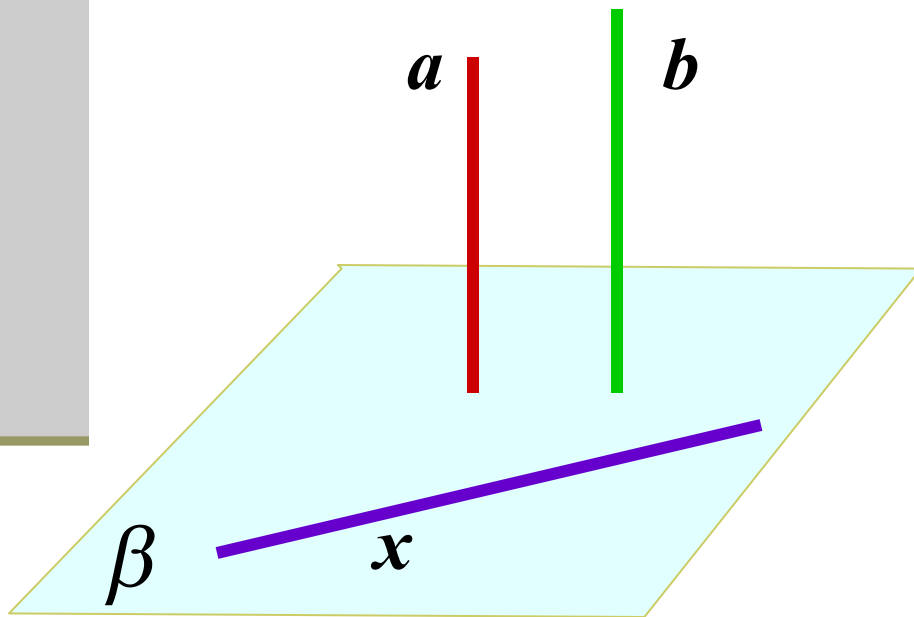
Прямая называется перпендикулярной к плоскости, если она перпендикулярна к любой прямой, лежащей в этой плоскости.



$$a \perp \beta$$

Теорема 1

Если одна из двух параллельных прямых перпендикулярна к плоскости, то другая прямая перпендикулярна к этой плоскости



Дано: $a \parallel b$ $a \perp \beta$

Доказать $b \perp \beta$

Доказательство

$x \in \beta$

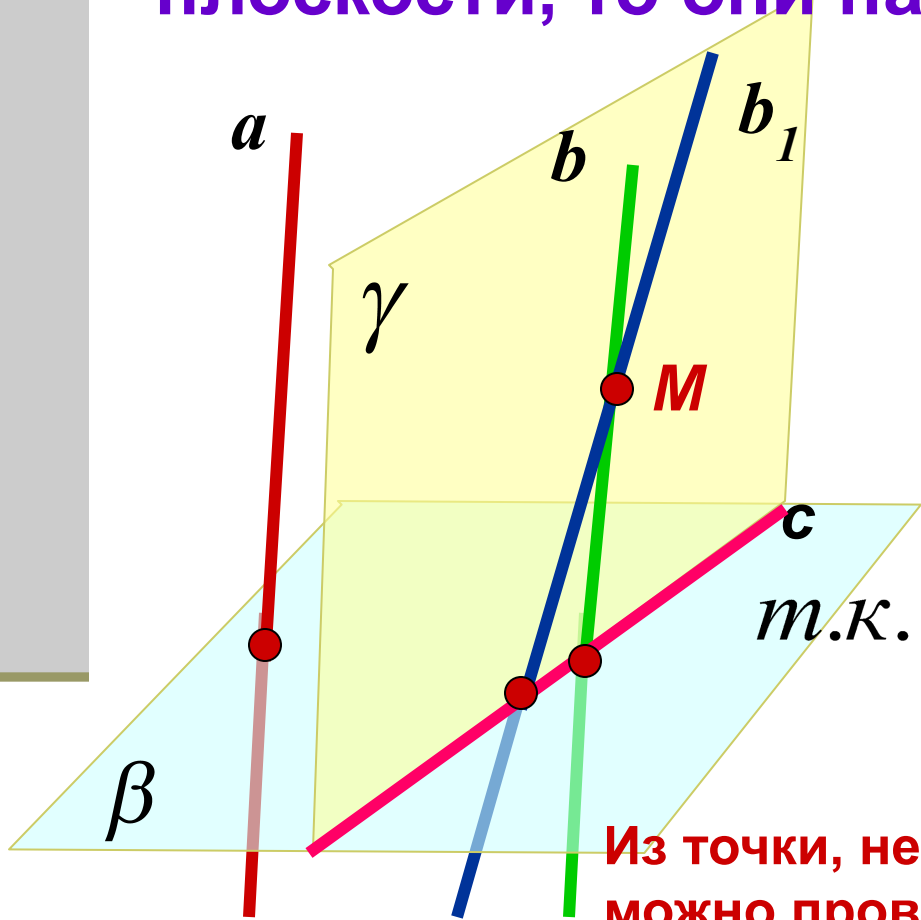
$a \perp \beta$, то $a \perp x$

по лемме $b \perp x$

$b \perp \beta$

Теорема 2. (Обратная)

Если две прямые перпендикулярны к плоскости, то они параллельны.



Дано: $a \perp \beta$ $b \perp \beta$

Доказать $a \parallel b$

Доказательство

$M \in b$ $b_1 \parallel a$

т.к. $a \perp \beta$, то по T_1 $b_1 \perp \beta$
 $b_1 = b$

Из точки, не лежащей на данной прямой, можно провести перпендикуляр к данной прямой, и притом только один.

О Две прямые в пространстве называются перпендикулярными, если угол между ними равен 90° .

Л Если одна из двух параллельных прямых перпендикулярна к третьей прямой, то и другая прямая перпендикулярна к этой прямой

О Прямая называется перпендикулярной к плоскости, если она перпендикулярна к любой прямой, лежащей в этой плоскости.

Т¹ Если одна из двух параллельных прямых перпендикулярна к плоскости, то другая прямая перпендикулярна к этой плоскости

Т² Если две прямые перпендикулярны к плоскости, то они параллельны.

Домашнее задание

*п. 15, 16 стр. 34 -36 (знать определения;
формулировки и доказательства
леммы и теорем).*

Вопросы № 1, 2, 3, 4 стр. 54

№ 116(б), №117