



Медиана , биссектриса  
и высота треугольника




**Знать:** - элементы треугольника

**Уметь:**

- определять элементы треугольников,
- находить определение в учебнике, применять их при выполнении задания,
- уметь строить различные элементы треугольника,
- находить элементы треугольника на чертеже.



# Царство геометрии





Его

Величес

ТВО

ТРЕУГОЛЬНИК

# ЗАПОМНИ!



Биссектриса

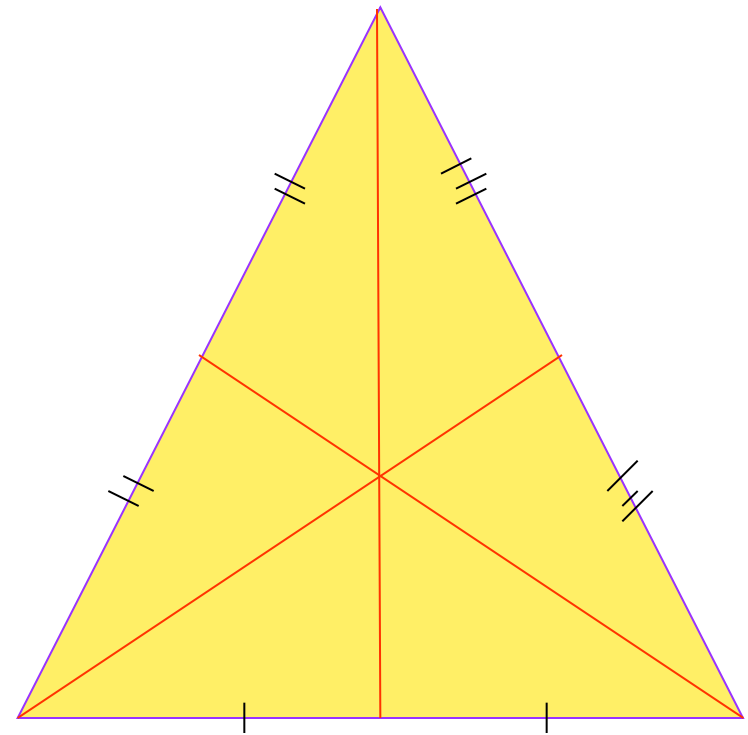
Медиана

Высота




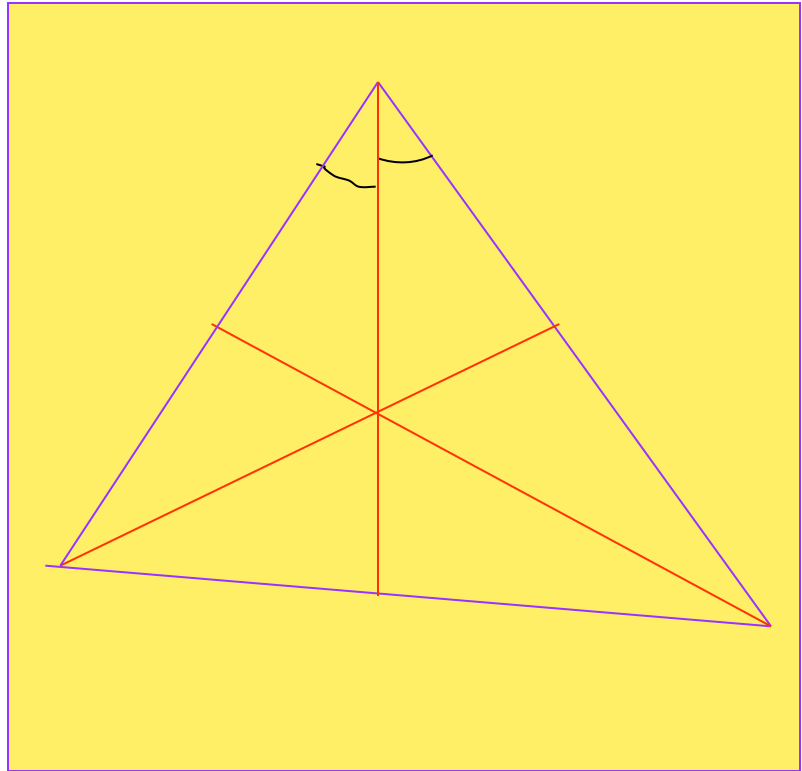
# МЕДИАНА

- Отрезок, соединяющий вершину треугольника с серединой противоположной стороны, называется медианой треугольника
- Любой треугольник имеет три медианы



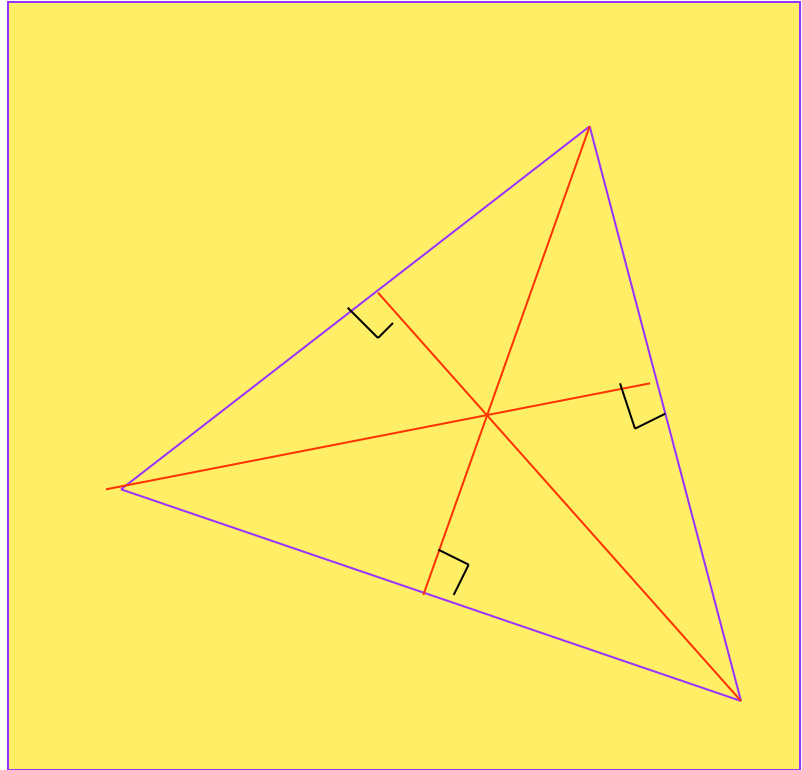
# БИСЕКТРИСА

- Отрезок биссектрисы угла треугольника, соединяющий вершину треугольника с точкой противоположной стороны, называется биссектрисой треугольника
- Любой треугольник имеет три биссектрисы



# ВЫСОТА

- Перпендикуляр, проведенный из вершины треугольника к прямой, содержащий противоположную сторону, называется высотой треугольника
- Любой треугольник имеет три высоты.





*Закончить фразу так,  
чтобы можно было научиться различать*



Медиана треугольника - это отрезок.....  
Биссектриса треугольника - это отрезок.....  
Высота треугольника - это перпендикуляр .....





# Игра «Лото»



Медиана

Высота

Треугольник

Биссектриса



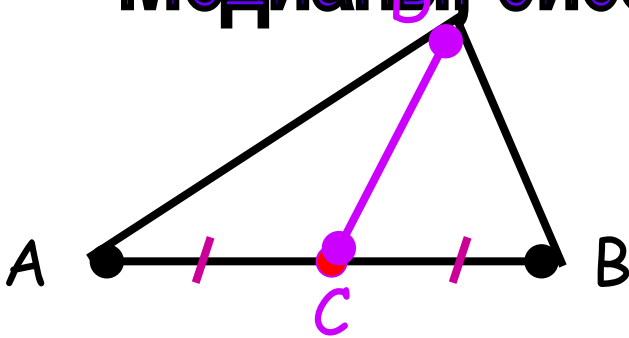

Треугольник

Медиана

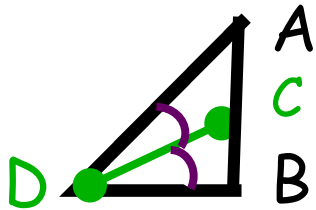
Высота

Биссектриса

# Медианы, биссектрисы, высоты треугольника.

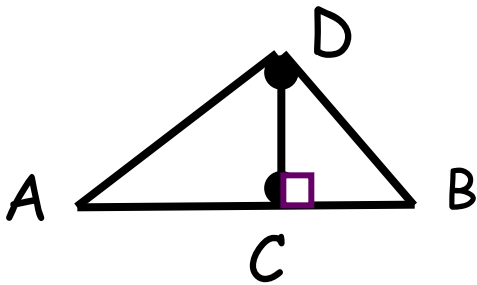


- DC - медиана треугольника ADB:
- а) отрезок;
  - б) выходит из вершины треугольника;
  - в) делит противоположную сторону пополам..



DC- биссектриса треугольника ADB:

- а) отрезок;
- б) выходит из вершины угла треугольника;
- в) делит угол пополам.



DC - высота треугольника DAB:

- а) отрезок;
- б) выходит из вершины треугольника;
- в)  $DC \perp AB$



# Домашнее задание

- Выучить определения стр.32,33
- №101.№102.№103 построить

