


Геометрический

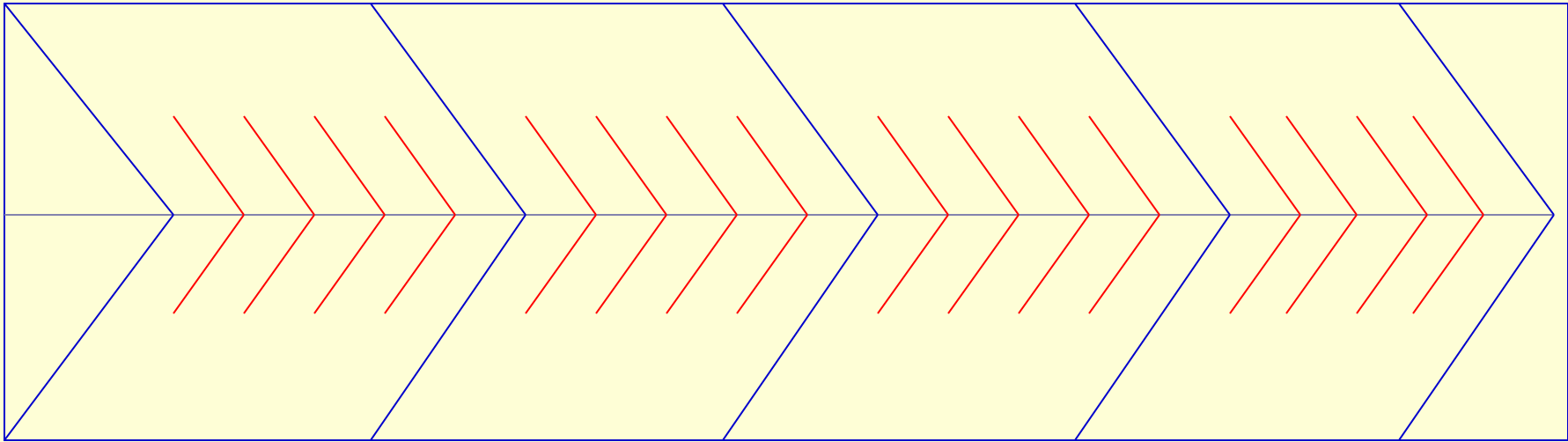
Участники:
5 – 9 классы

Учителя:
Насырова Р.Н.
Шарафутдинова Р.А.

Лучший математик




костяная дощечка с рисунком



О чем говорит этот рисунок?





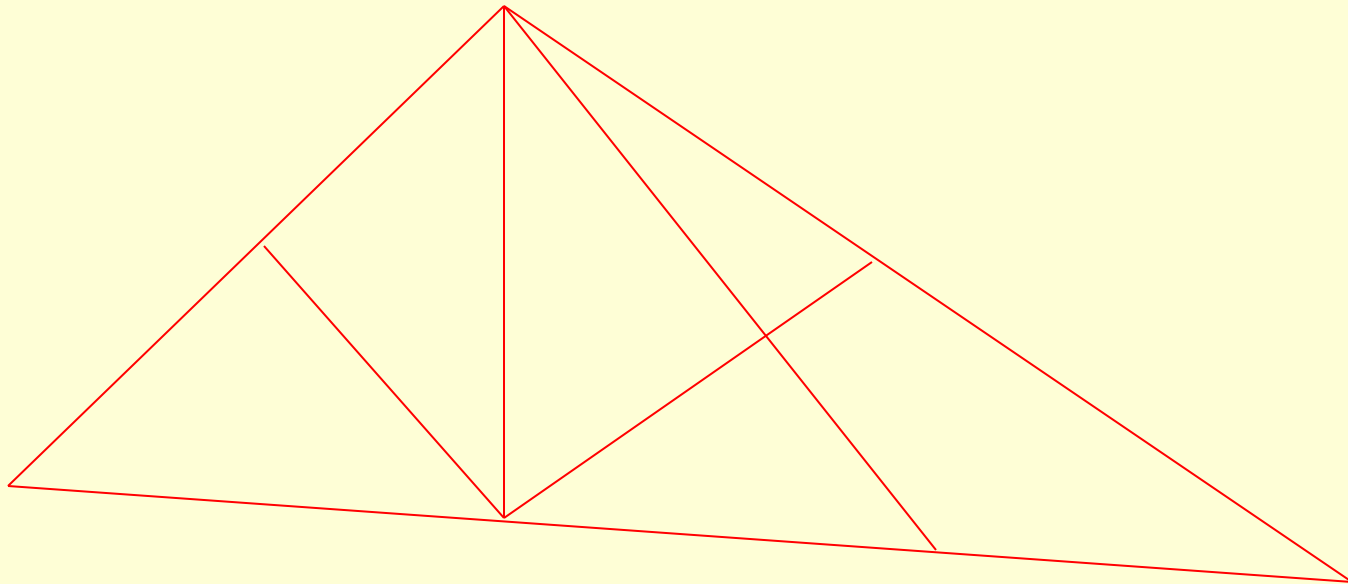
Запишите сумму (произведение) чисел по горизонтали и по вертикали в пустые клетки.

Кто быстро и правильно сосчитает.

2	4	7	
1	8	3	
9	5	6	



ПОСЧИТАЙ, СКОЛЬКО
ТРЕУГОЛЬНИКОВ?



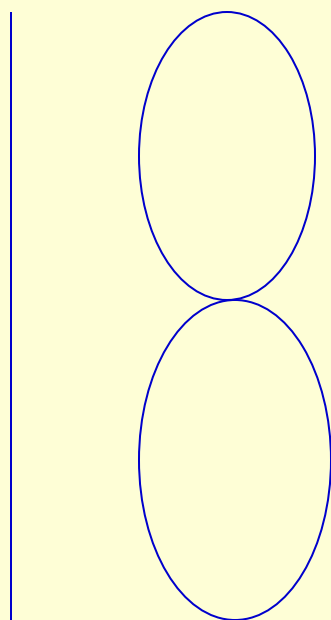
Геометрический

Участники:
5 – 9 классы

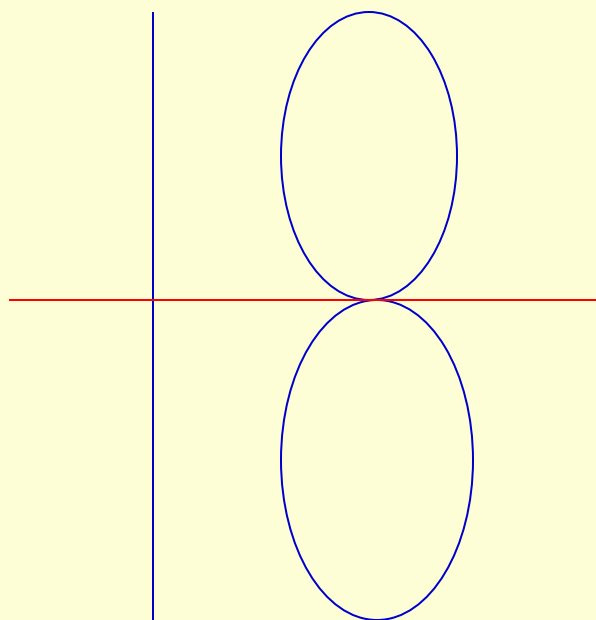
Учителя:
Насырова Р.Н.
Шарафутдинова Р.А.

Лучший математик - 2007

Разделите число 18 так,
чтобы ответ был равен 1



Разделите число 18 так,
чтобы ответ был равен 1



Геометрический

Участники:
5 – 9 классы

Учителя:
Насырова Р.Н.
Шарафутдинова Р.А.

Лучший математик - 2007