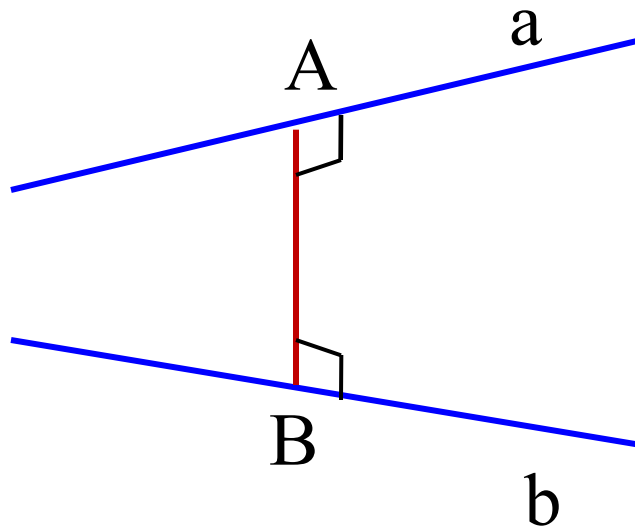


Стереометрия

Расстояние между
скрещивающимися
прямыми

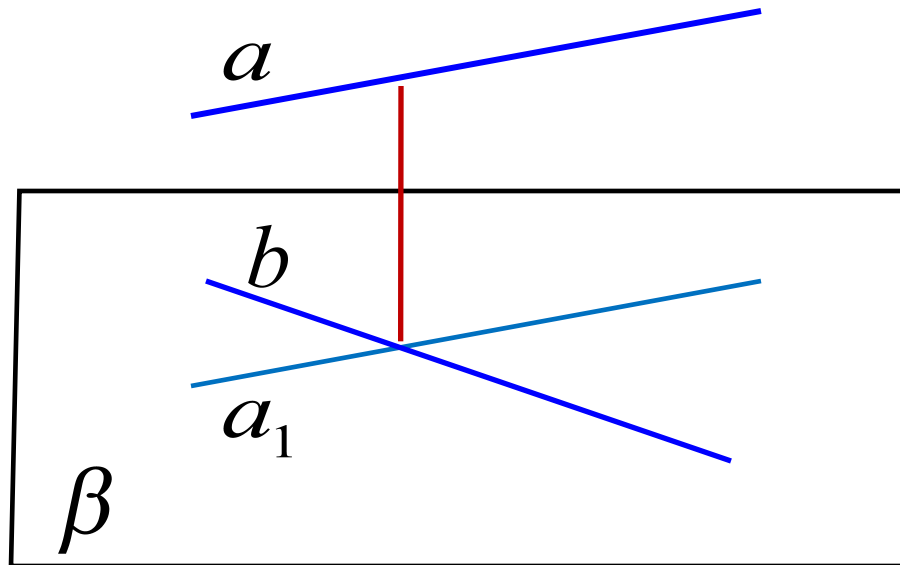
Общим перпендикуляром двух скрещивающихся прямых называют отрезок с концами на этих прямых, являющийся перпендикуляром к каждой из них.



$$\rho(a; b) = AB$$

Расстоянием между скрещивающимися прямыми называют длину их общего перпендикуляра.

Способы вычисления расстояния между скрещивающимися прямыми.

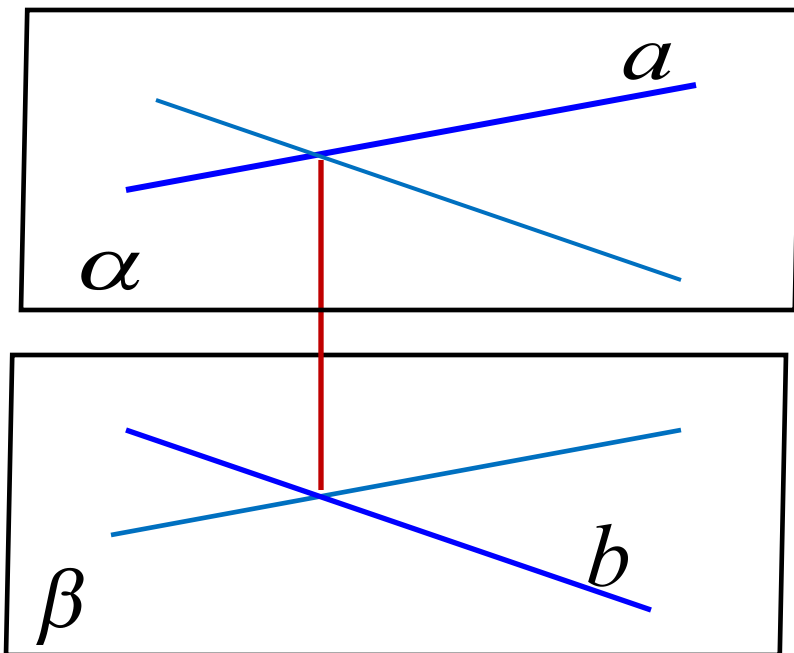


$$\beta \parallel a$$

$$\rho(a; b) = \rho(a; \beta)$$

Расстояние между скрещивающимися прямыми равно расстоянию от любой точки одной из этих прямых до плоскости, проходящей через вторую прямую параллельно первой прямой.

Способы вычисления расстояния между скрещивающимися прямыми.

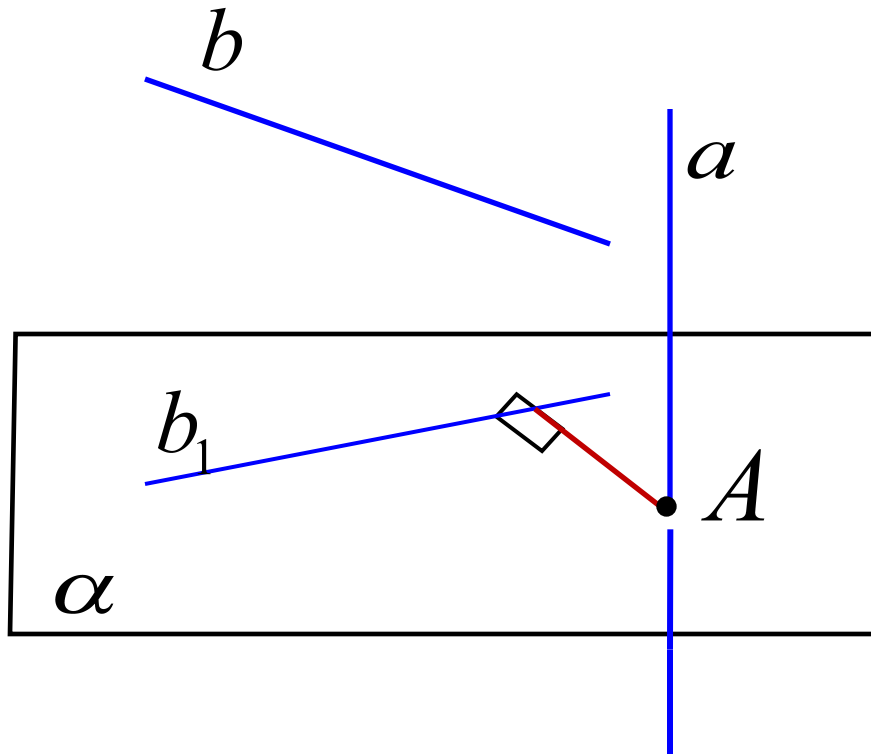


$$\alpha \parallel \beta$$

$$\rho(a; b) = \rho(\alpha; \beta)$$

Расстояние между скрещивающимися прямыми равно расстоянию между двумя параллельными плоскостями, содержащими эти прямые.

Способы вычисления расстояния между скрещивающимися прямыми.



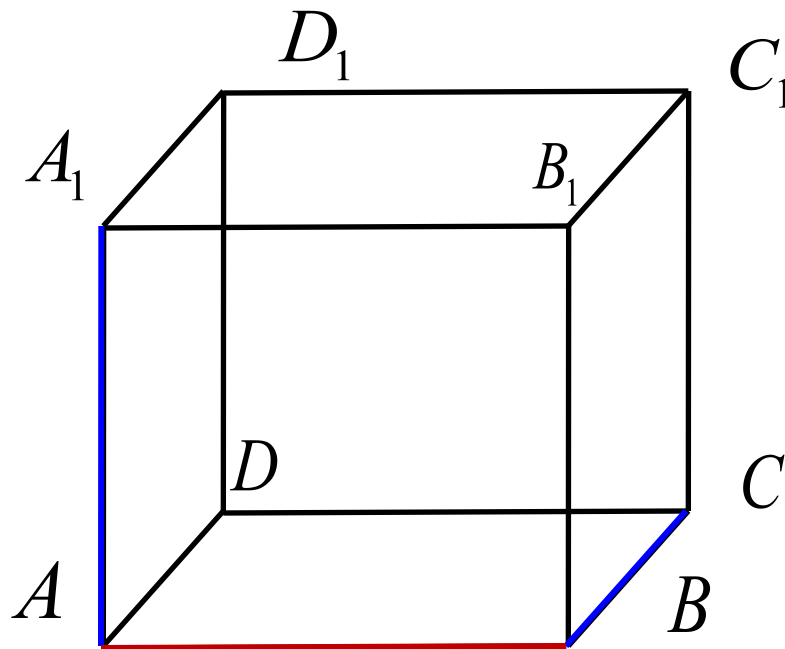
$$\alpha \perp a$$

$$a \rightarrow A \quad b \rightarrow b_1$$

$$\rho(a; b) = \rho(A; b_1)$$

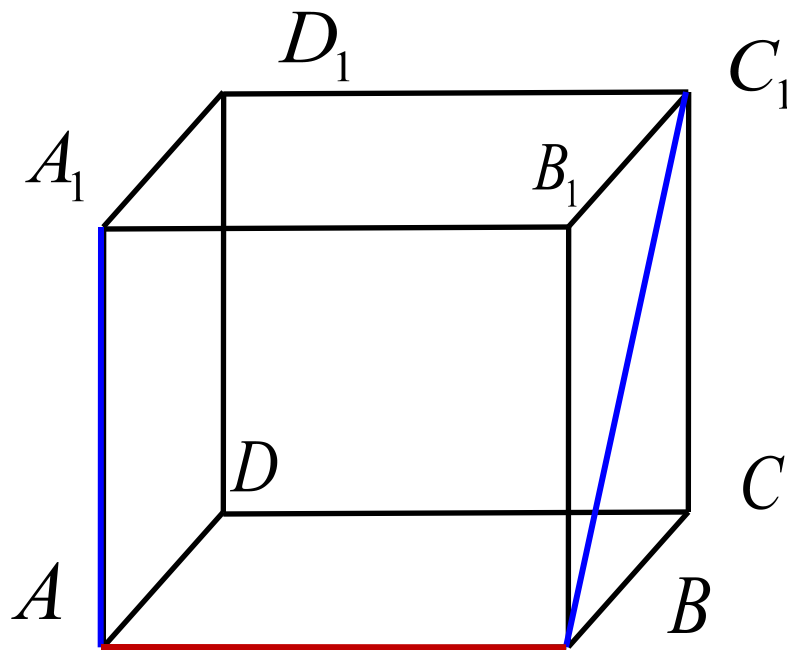
Расстояние между скрещивающимися прямыми равно расстоянию между их проекциями на плоскость, перпендикулярную одной из них.

№1 В единичном кубе найдите $\rho(AA_1; BC)$



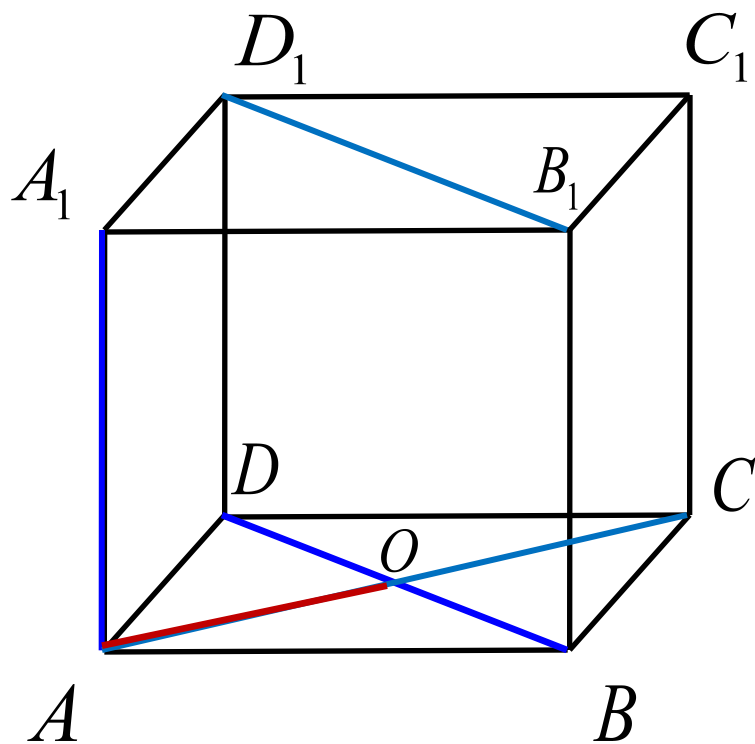
$$\rho(AA_1; BC) = 1$$

№2 В единичном кубе найдите $\rho(AA_1; BC_1)$



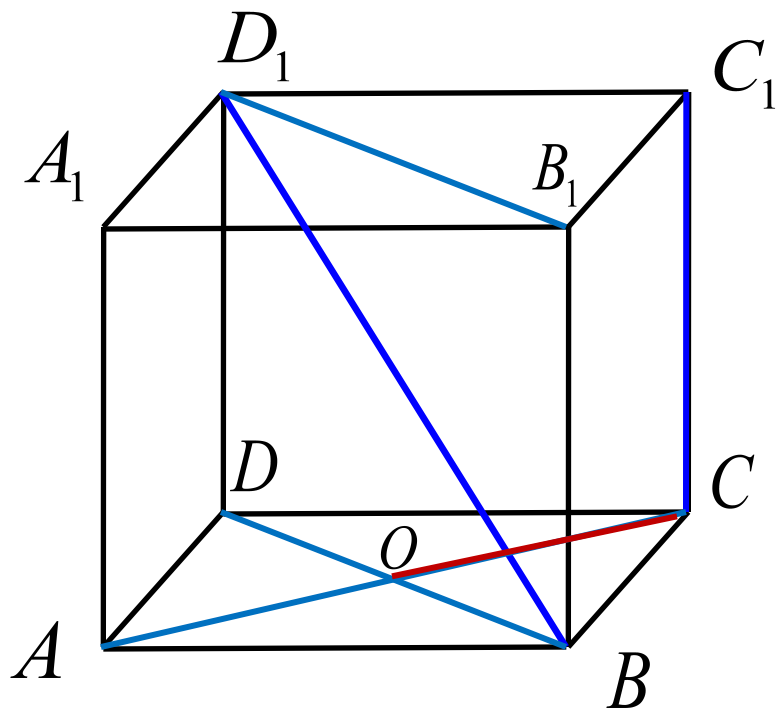
$$\rho(AA_1; BC_1) = 1$$

№3 В единичном кубе найдите $\rho(AA_1; BD)$



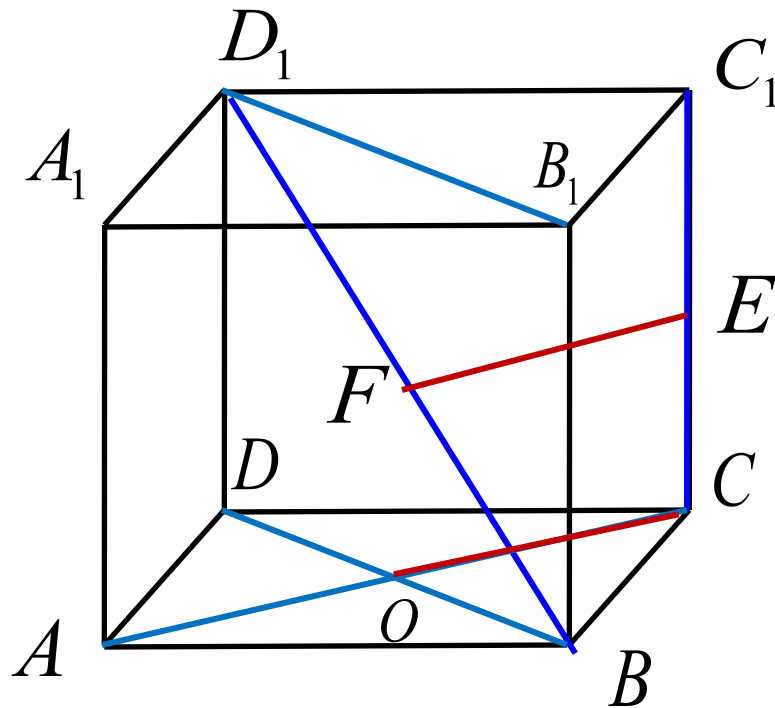
$$\rho(AA_1; BD) = \frac{\sqrt{2}}{2}$$

№ 4 В единичном кубе найдите $\rho(CC_1; BD_1)$



$$\rho(CC_1; BD_1) = \frac{\sqrt{2}}{2}$$

**Общий перпендикуляр двух скрещивающихся
прямых BD_1 и CC_1 есть отрезок, соединяющий
середины отрезков BD_1 и CC_1**

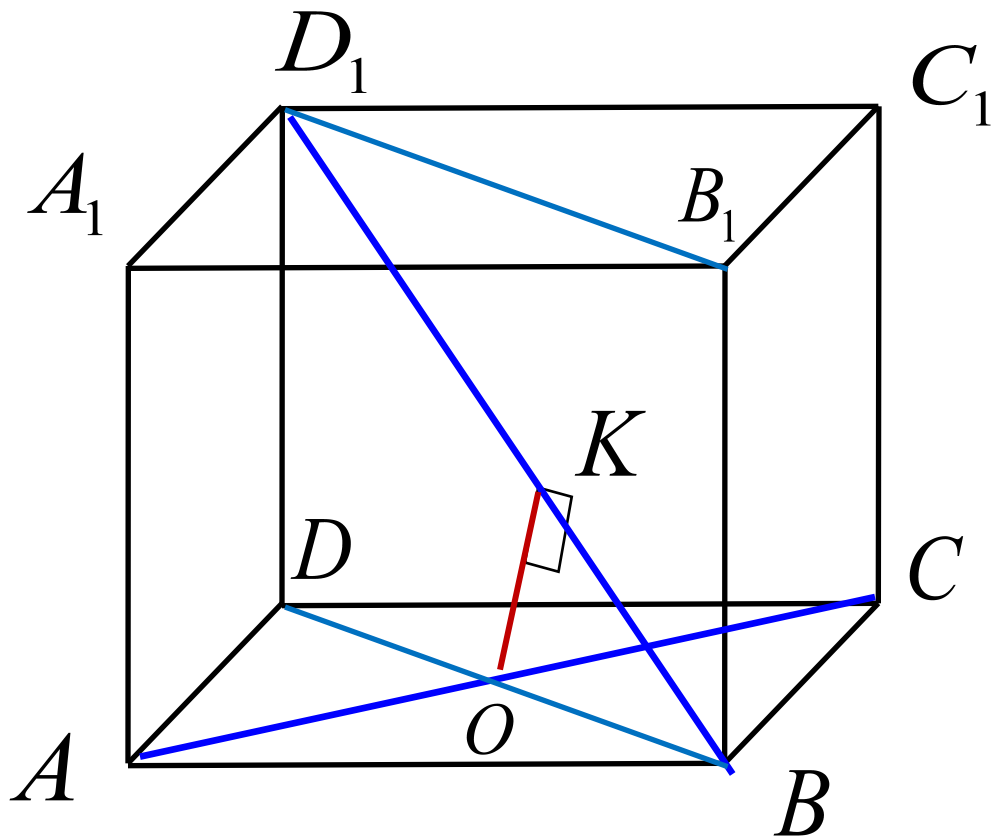


E – середина CC_1

F – середина BD_1

$$\rho(CC_1; BD_1) = EF$$

№ 5 В единичном кубе найдите $\rho(AC; BD_1)$



$$AC \perp (BDD_1)$$

$$OK \perp BD_1$$

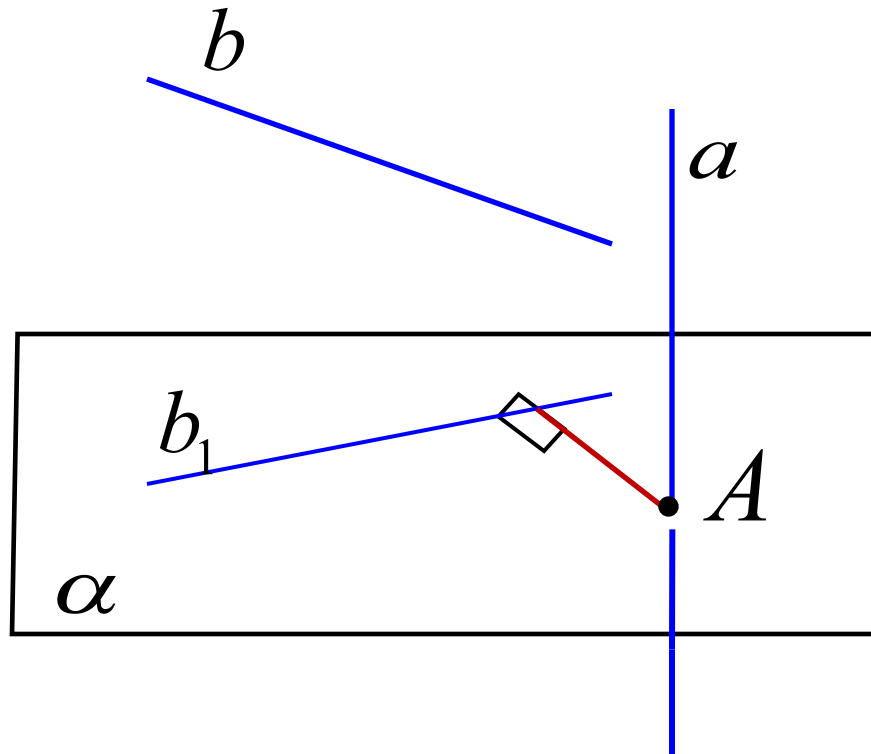
$$\triangle BKO \sim \triangle BDD_1$$

$$\frac{OK}{DD_1} = \frac{OB}{BD_1}$$

$$\frac{OK}{1} = \frac{\sqrt{2}}{2} : \sqrt{3}$$

$$OK = \frac{\sqrt{6}}{6}$$

Способы вычисления расстояния между скрещивающимися прямыми.



$$\alpha \perp a$$

$$a \rightarrow A \quad b \rightarrow b_1$$

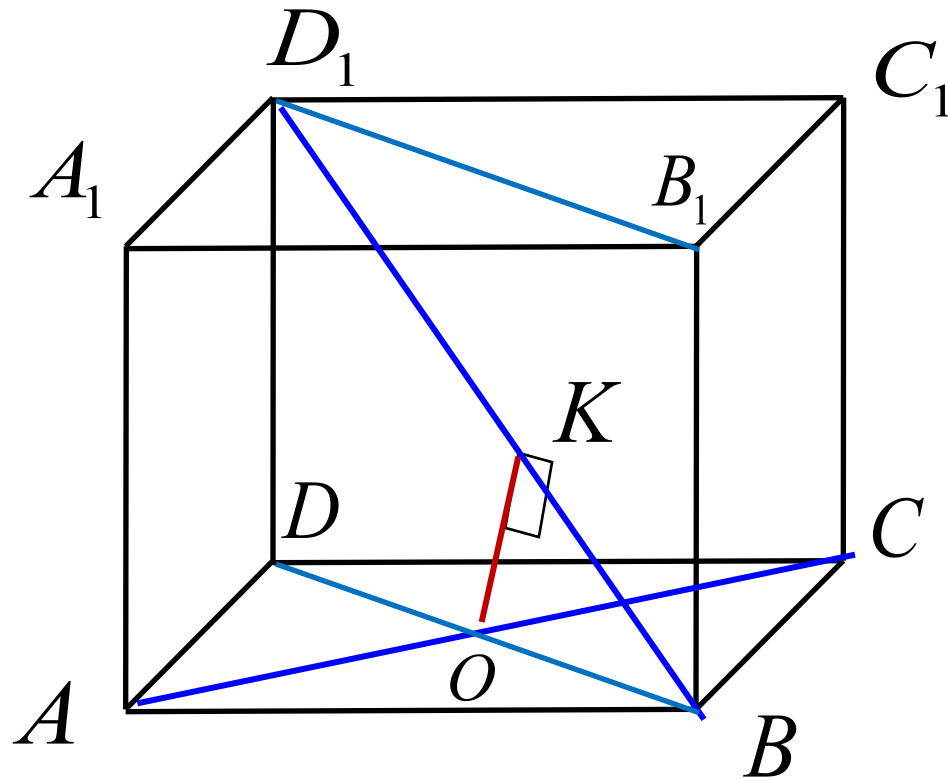
$$\rho(a; b) = \rho(A; b_1)$$

Расстояние между скрещивающимися прямыми равно расстоянию между их проекциями на плоскость, перпендикулярную одной из них.

№5 В единичном кубе найдите $\rho(AC; BD_1)$

O – проекция прямой AC
на плоскость BDD_1

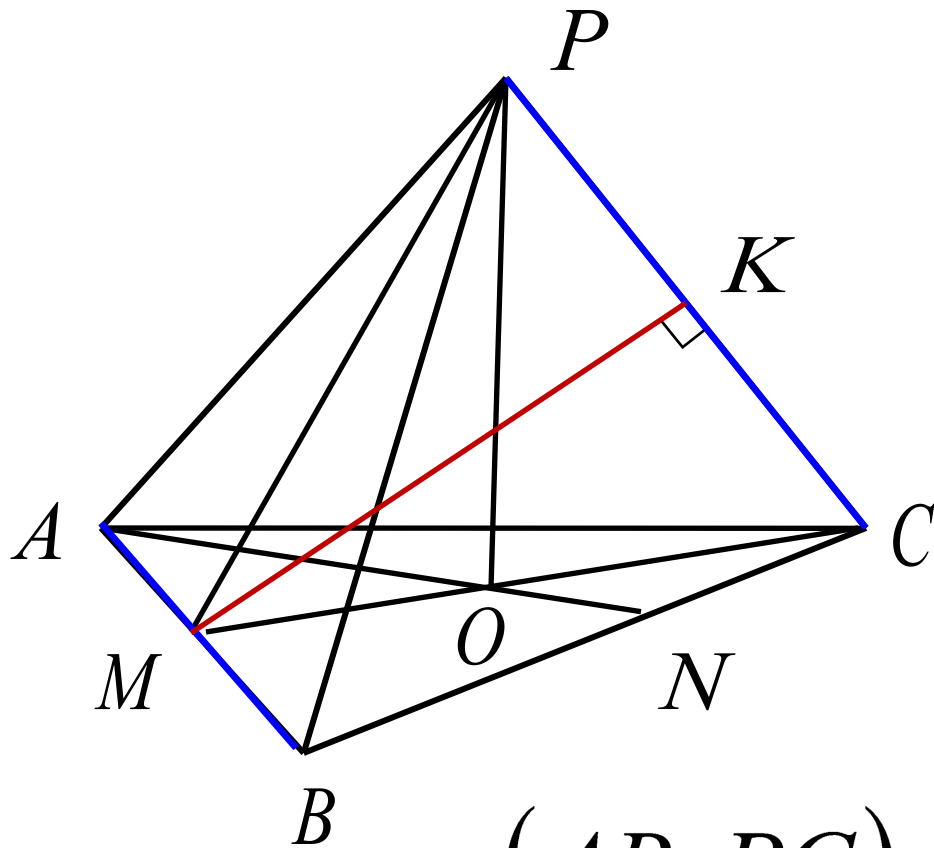
$$BD_1 \subset (BDD_1)$$



$$\rho(AC; BD_1) = \rho(O; BD_1) = OK$$

$$OK = \frac{\sqrt{6}}{6}$$

№6 Дана правильная пирамида $PABC$ с боковым ребром $PA = 3$ и стороной основания 2 . Найдите $\rho(AB; PC)$

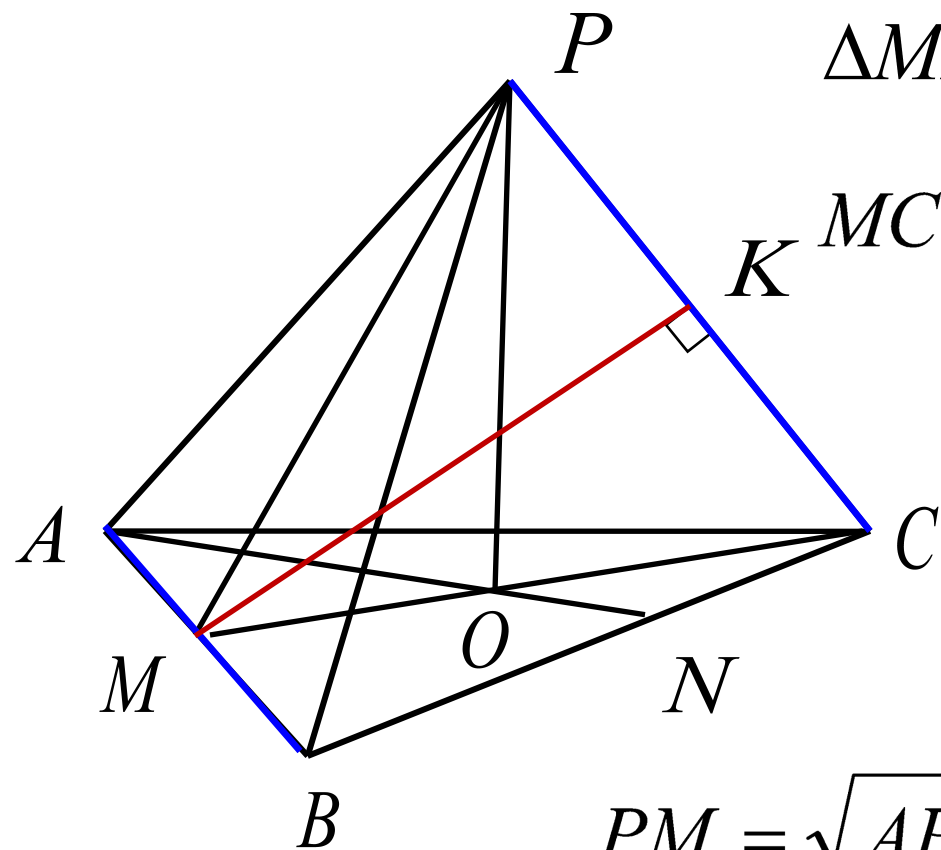


$$PO \perp (ABC)$$

$$AB \perp CM \quad AB \perp PM$$

$$AB \perp (PMC)$$

$$\rho(AB; PC) = \rho(M; PC) = MK$$



$\triangle MBC$ - прямоугольный

$$MC = \sqrt{BC^2 - BM^2} = \sqrt{4 - 1} = \sqrt{3}$$

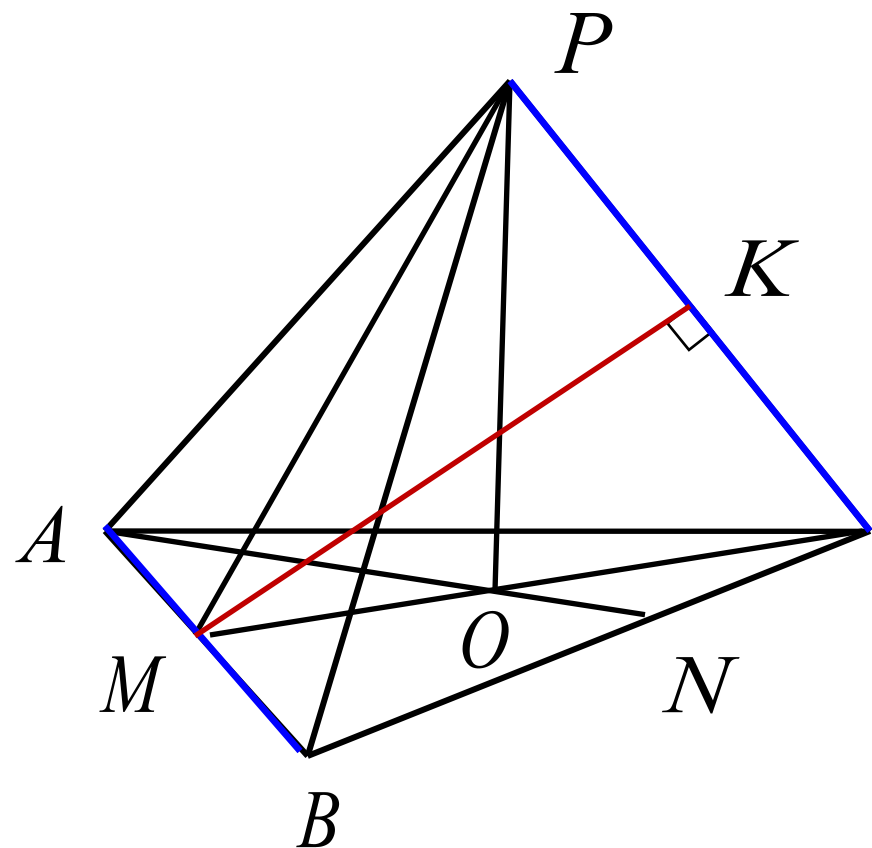
$$MO = \frac{\sqrt{3}}{3}$$

$\triangle AMP$ - прямоугольный

$$PM = \sqrt{AP^2 - AM^2} = \sqrt{9 - 1} = 2\sqrt{2}$$

$\triangle POM$ - прямоугольный

$$PO = \sqrt{PM^2 - MO^2} = \sqrt{8 - \frac{3}{9}} = \frac{\sqrt{69}}{3}$$



$$S_{MPC} = \frac{1}{2} MC \cdot PO$$

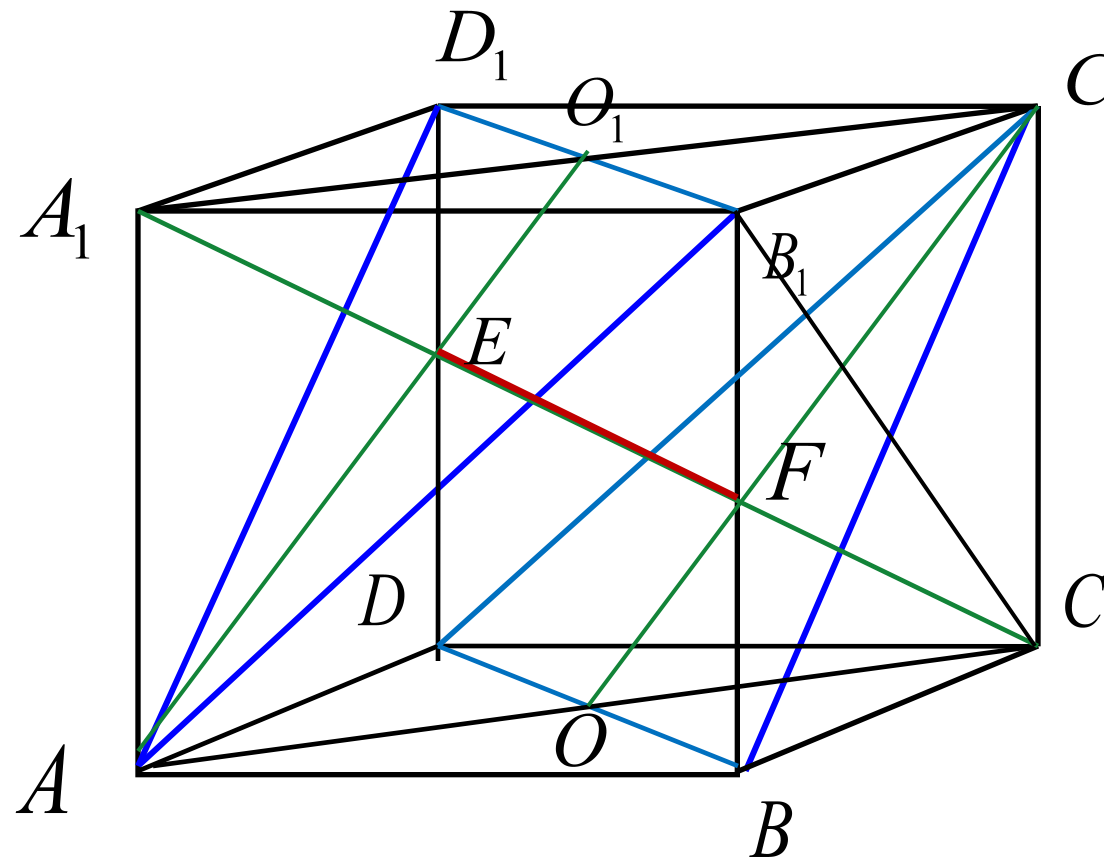
$$S_{MPC} = \frac{1}{2} PC \cdot MK$$

$$MC \cdot PO = PC \cdot MK$$

$$MK = \frac{MC \cdot PO}{PC} = \frac{\sqrt{3} \cdot \sqrt{69}}{3 \cdot 3} = \frac{\sqrt{23}}{3}$$

$$\rho(AB; PC) = \frac{\sqrt{23}}{3}$$

№ 7 В единичном кубе найдите расстояние между прямыми AB_1 и BC_1

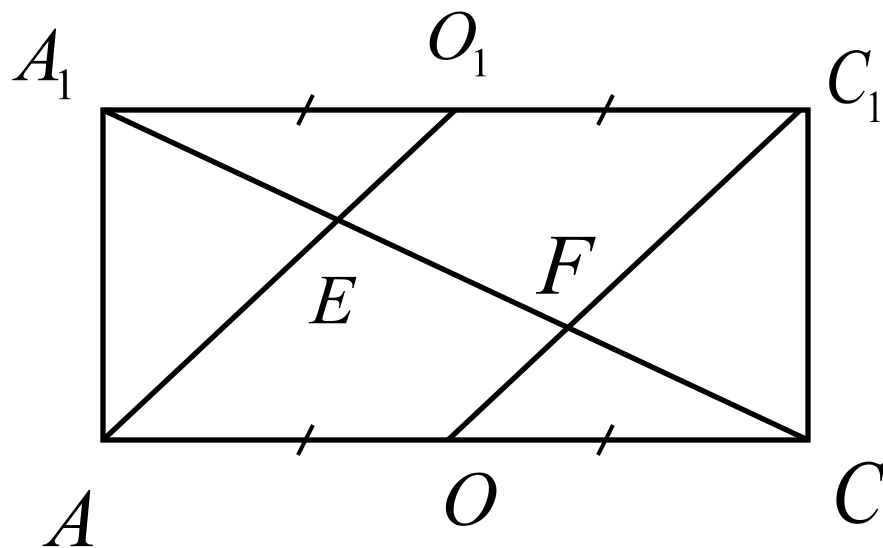


$$C_1 \quad (AB_1D_1) \parallel (BDC_1)$$

$$CA_1 \perp (AB_1D_1)$$

$$CA_1 \perp (BDC_1)$$

$$\rho(AB_1; BC_1) = EF$$



$$A O_1 \parallel O C_1 \quad A_1 O_1 = O_1 C_1 \quad \Rightarrow \quad A_1 E = E F$$

$$A O = O C \quad \Rightarrow \quad E F = F C$$

$$E F = \frac{1}{3} A_1 C = \frac{\sqrt{3}}{3} \quad \rho(A B_1; B C_1) = \frac{\sqrt{3}}{3}$$