

Домашнее задание

на 19.11.18

- ✓ Заведите тонкую тетрадь для дом.работ по геометрии
(не больше 24 лист)
- ✓ Выполните задания на слайдах

Знакомьтесь с учебником



Условные обозначения



Простые задачи



Задачи среднего уровня сложности



Сложные задачи



Задачи для математических кружков и факультативов



Ключевые задачи, результат которых можно использовать при решении других задач



Окончание доказательства теоремы или решения задачи

439

Задания, рекомендуемые для домашней работы

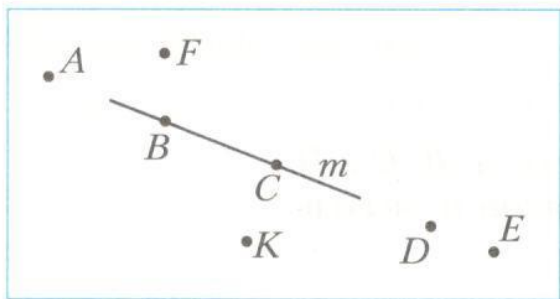
480

Задания для устной работы

2. Отметьте точки M и K и проведите через них прямую. Отметьте на этой прямой точку E . Запишите все возможные обозначения полученной прямой.

Выполнить чертёж в тетради и запишите с помощью символов.

3. Запишите, какие из точек, изображённые — не принадлежат.

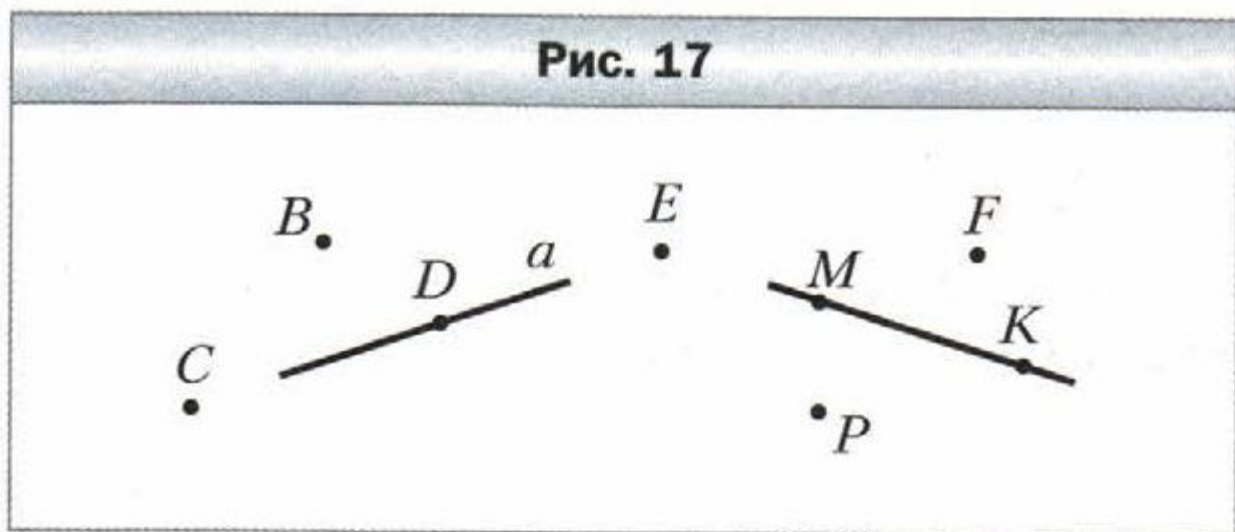


Точки _____ принадлежат
прямой m .

Точки _____ не принадлежат
прямой m .

Упражнения

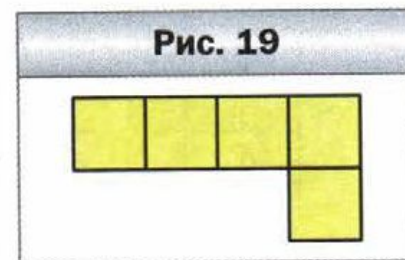
8. Пользуясь рисунком 17:
- 1) определите, пересекаются ли прямые a и MK .
 - 2) укажите все отмеченные точки, принадлежащие прямой a ; прямой MK ;
 - 3) укажите все отмеченные точки, не принадлежащие прямой a ; прямой MK ;
 - 4) укажите все отмеченные точки, принадлежащие прямой a , но не принадлежащие прямой MK ;



Творческое задание

**Наблюдайте, рисуйте,
конструируйте, фантазируйте**

- 19.** Из фигурок, имеющих вид уголка (рис. 19), сложите квадрат.



Сделайте на отдельном листе. Можно нарисовать, можно вырезать из цветной бумаги и сложить квадрат.
Ваше творчество приветствуется!