

Прибавить числа **5, 6, 7,**
8, 9.

Составление таблицы.



Урок №

69

УСТНЫЙ СЧЁТ

$$2 + 2 =$$

$$6 - 4 =$$



Запиши только ответы:



1. Запиши число, которое на 4 больше, чем 5
2. Запиши число, которое на 3 меньше, чем 8
3. Запиши число, которое при счёте идёт за числом 6
4. Запиши число, которое предшествует 4
5. Вставь пропущенное число $\square - 4 = 2$
6. Вставь пропущенное число $4 + \square = 8$
7. К какому числу надо прибавить 4, чтобы получить 9

9 5 7 3 6 4 5



Найди верные неравенства.



$$5 + 4 > 7$$




$$10 - 2 < 4$$

$$2 + 4 < 9$$

$$9 - 3 > 4$$



Составь задачу по картинке.



$$4 + 3 = 7$$

$$4 - 3 = 1$$



Буратино решил 7 примеров. Два он сосчитал с ошибками. Сколько примеров верно решил Буратино?



$$7 - 2 = 5$$



На клумбе возле дома Мальвины распустились 4 георгина и 3 розы. Сколько всего цветов на клумбе?



$$4 + 3 = 7$$

7




Сосчитай сколько углов и сторон у данной фигуры?



сторон




РАБОТА ПО УЧЕБНИКУ



Стр.
16

НАРИСУЙ
И
РАСКРАСЬ
УЗОР:

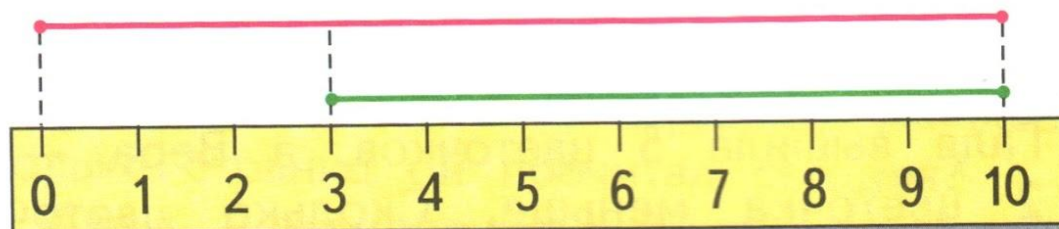


Объясни, как составлена каждая таблица.
Спиши и вычисли суммы, используя перестановку слагаемых.
Проверь себя по таблице на обороте обложки.

$\square + 5$	$\square + 6$	$\square + 7$	$\square + 8$	$\square + 9$
$1 + 5$				
$2 + 5$	$1 + 6$			
$3 + 5$	$2 + 6$	$1 + 7$		
$4 + 5$	$3 + 6$	$2 + 7$	$1 + 8$	
$5 + 5$	$4 + 6$	$3 + 7$	$2 + 8$	$1 + 9$

1. Найди в таблице примеры, в которых сумма равна числу 10, 8, 7.
2. Катя придумала 5 примеров на сложение и 4 примера на вычитание. Поставь вопрос так, чтобы задача решалась вычитанием.

3. Узнай длину каждого отрезка. Какой из них длиннее и на сколько сантиметров?



Реши задачу разными способами.

4. Составь по рисунку разные задачи и реши их.
5. Составь из 7 одинаковых палочек 2 одинаковых квадрата, а из 10 палочек 1 большой квадрат и 1 маленький.



?

$$9 - 8 + 7$$

$$8 - 6 + 5$$

$$9 - 7 + 6$$

РАБОТА В ТЕТРАДИ




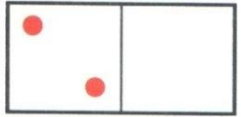

Стр.

11

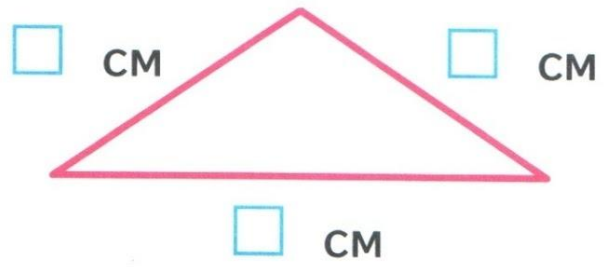
- 1 У Веры .
У Лены на 2 больше.
Сколько треугольников у Лены?

_____ Ответ: _____

- 2 


		
$5 + 3 =$	$2 + 6 =$	$3 + 4 =$
$8 - 3 =$	$8 - 2 =$	$7 - 3 =$
$8 - 5 =$	$8 - 6 =$	$7 - 4 =$

- 3



$\square \text{ CM} = \square \text{ CM}$
 $\square \text{ CM} > \square \text{ CM}$

ЗАДАНИЯ ПОВЫШЕННОЙ ТРУДНОСТИ



Сосчитай примеры:



$$14 - 4 + 2 = 12$$

$$15 - 1 - 3 - 2 = 9$$

$$7 + 3 + 4 + 1 = 15$$

Две девочки играли в куклы 2 часа. Сколько часов играла в куклы каждая девочка?



2

часа





коне

ц

