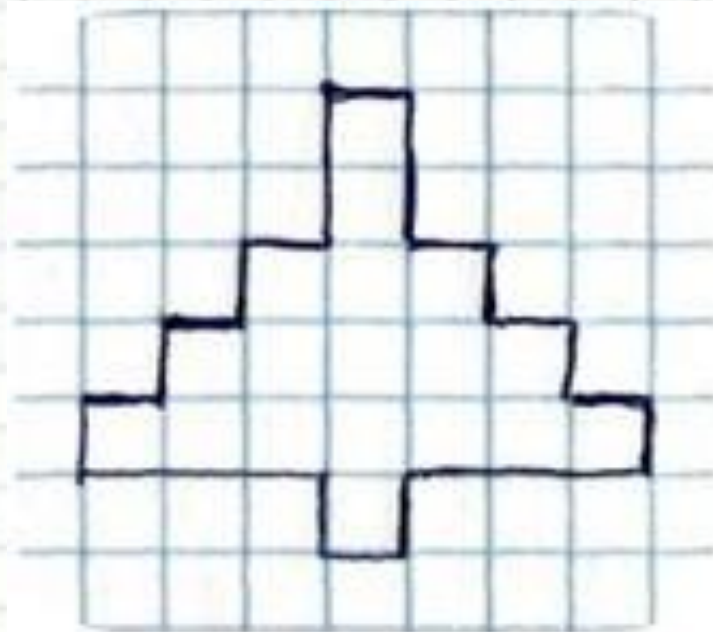




**6 февраля.
Домашняя
работа.**

Графический диктант





Прибавление числа 2

1. Определи, какое число будет послезавтра, если сегодня:

3
сентябрь

7
сентябрь

8
сентябрь

9
сентябрь



Работа по учебнику стр. 36 №3

3. Чтобы к числу прибавить 2, можно назвать по порядку два следующих за ним при счёте числа. Ответом является последнее число.

Складывая, называй два следующих при счёте числа и результат сложения.

$6 + 2$

$4 + 2$

$7 + 2$

$9 + 2$

$8 + 2$


$3 + 2$

$5 + 2$

$2 + 2$




Самостоятельная работа!



$7 + 2 =$

$3 + 2 =$



$2 + 2 =$

$6 + 2 =$



$1 + 2 =$

$4 + 2 =$

$5 + 2 =$

$0 + 2 =$



Работа в РТ стр. 25

$+ 2$

2	→		→	4
6	→		→	8
4	→		→	6
9	→		→	10
0	→		→	0

11
2

The image shows a math worksheet on a grid background. At the top, there is a drawing of a girl and a boy. Below them is the title 'Работа в РТ стр. 25'. The main part of the worksheet is a vertical column of five empty boxes. To the left of each box is a number with an arrow pointing to the box: 2, 6, 4, 9, and 0. To the right of each box is an arrow pointing to a result: 4, 8, 6, 10, and 0. Above the first box is a '+ 2' with a curved arrow indicating the operation. To the right of the column, the numbers 11 and 2 are written. At the bottom right, there is a drawing of a girl in a red jacket and blue pants with a backpack and goggles, holding a wrench. A gear is on the ground next to her.

Сколько тарелок вымыли мама и дочка вместе?

Мам



Доч



ка

8

+

2

=

10

(м.)




Запомни!

- Выучи таблицу «Прибавления числа 2» в учебнике на стр. 39.



– я теперь самостоятельно
смогу решать такие примеры



– мне нужна помощь в
решении таких примеров



– мне надо ещё
потренироваться

Нарисуй себе в тетрадь
нужную звездочку.