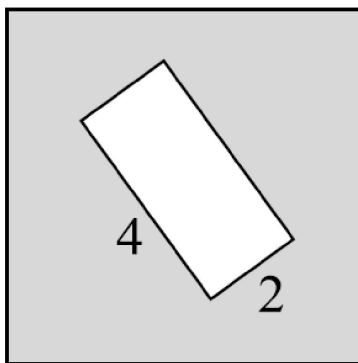


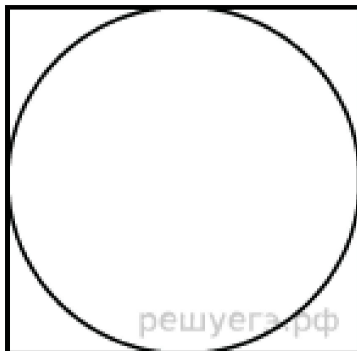
№1 Периметр квадрата равен 40. Найдите площадь квадрата

№2 Из квадрата вырезали прямоугольник (см. рисунок). Найдите площадь оставшейся части фигуры.



решуегэ.рф

№3 Найдите площадь квадрата, описанного вокруг окружности радиуса 83.




решуегэ.рф

№4 Одно ребро прямоугольного параллелепипеда равно 12см, второе – в 4 раза больше первого, а третье – на 16 см больше первого. Найдите объем прямоугольного параллелепипеда

№5 Длина аквариума 80см, ширина 45 см, высота 55см. Сколько литров воды надо влить в этот аквариум, что бы уровень воды был ниже верхнего края аквариума на 10 см?



№6 Найти площадь прямоугольного участка земли, если разность сторон 13 м, а сумма 25 м



№7 Найдите площадь прямоугольника, при условии, что его периметр равен периметру квадрата со стороной 8 см и длина прямоугольника больше ширины в 3 раза.

