

✓Какое число
пропущено?

1 в.

$$5 + 5 + \boxed{2} = 12$$

$$6 + 4 + \boxed{3} = 13$$

$$7 + 3 + \boxed{5} = 15$$

$$8 + 2 + \boxed{6} = 16$$

✓Какой знак + или -
пропущен?

2 в.

$$7 + 3 - 6 = 6 \boxed{-} 2$$

$$8 \boxed{-} 5 = 9 - 8 + 2$$

$$2 \boxed{-} 2 = 9 + 1 - 10$$

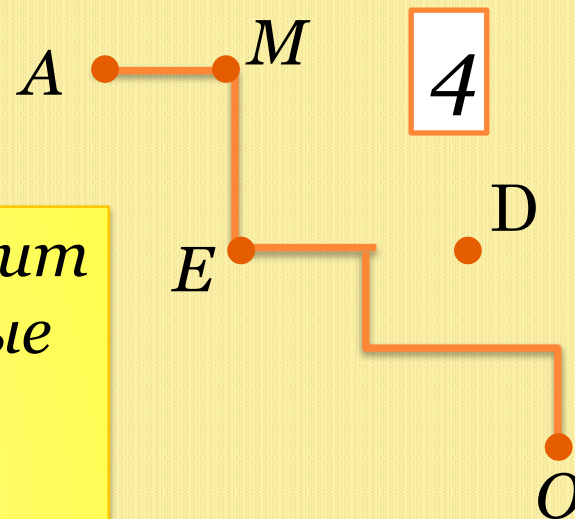
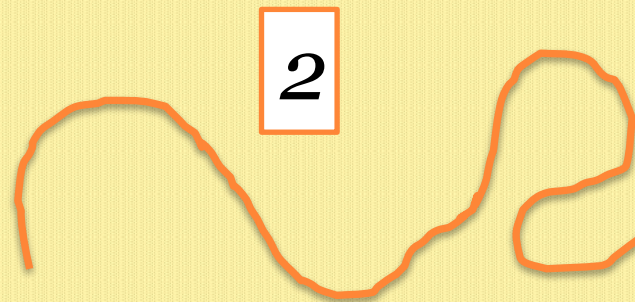
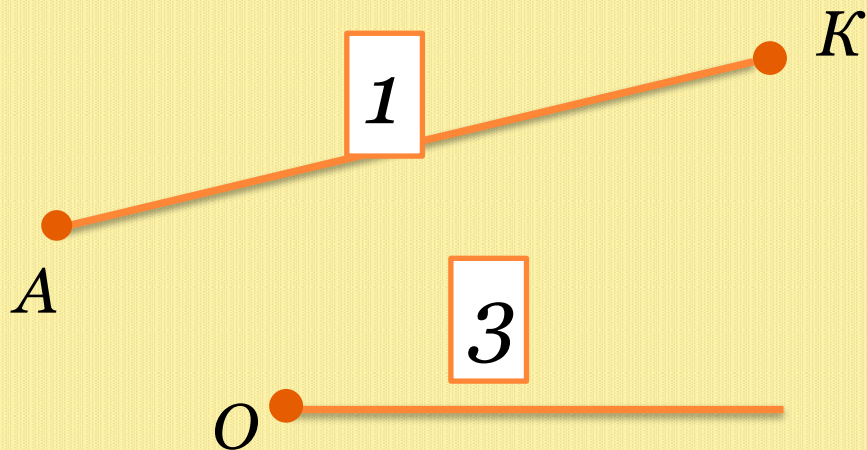
$$8 - 5 + 4 = 5 \boxed{+} 2$$



Ломаная линия.



Догадайся, какую фигуру называют ломаной.



AMEDO – ломаная линия. Она состоит из отрезков *AM*, *ME*, *ED*, *DO*, которые называют **звеньями ломаной**.

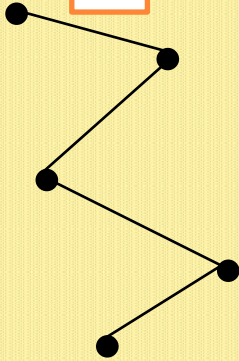
Концы этих отрезков *A*, *M*, *E*, *D*, *O* называют **вершинами ломаной**.

- Сколько вершин у ломаной *AMEDO*?
- Сколько звеньев у ломаной *AMEDO*?

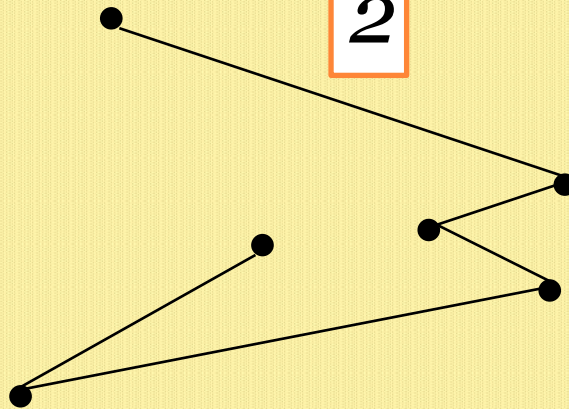


Догадайся, какую из фигур называют
замкнутой ломаной линией.

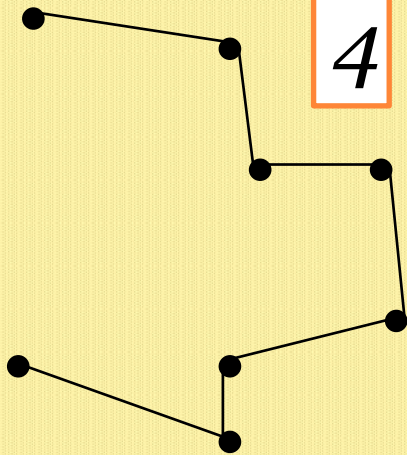
1



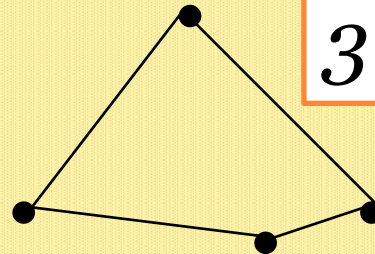
2



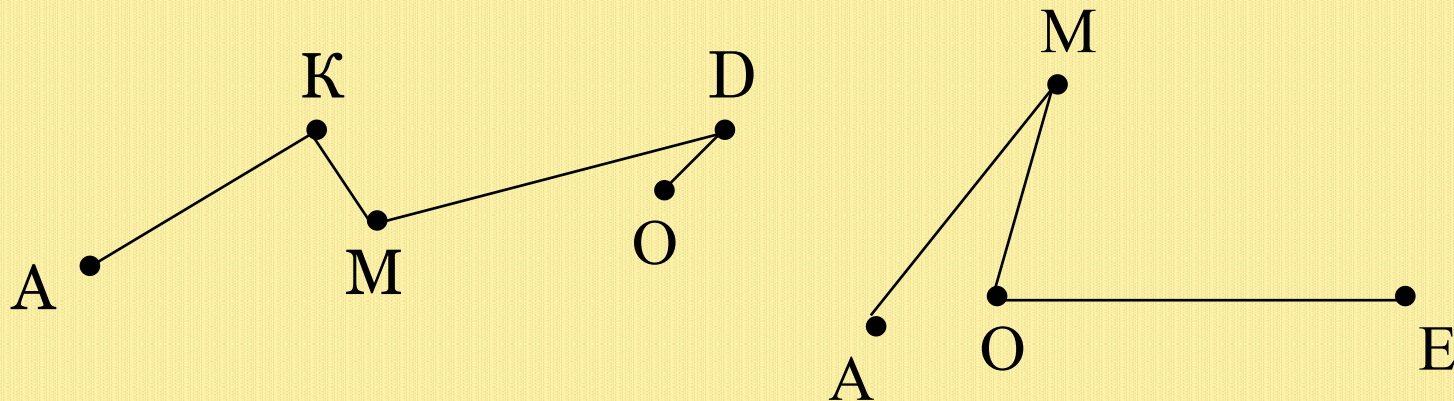
4



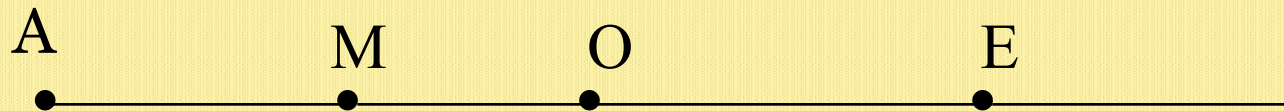
3

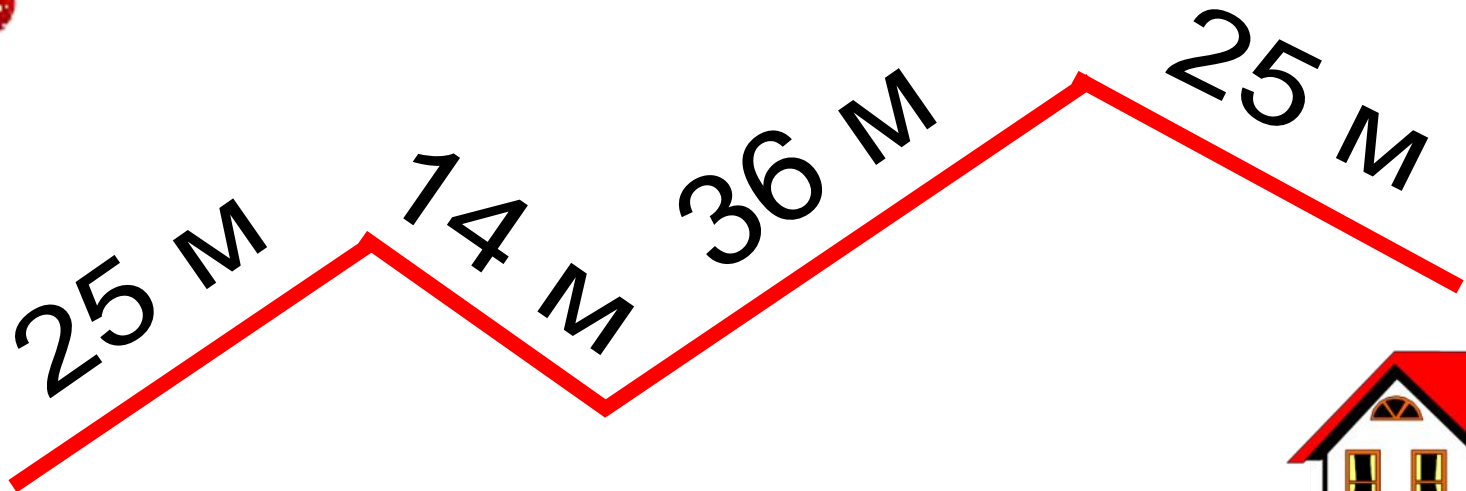


❖ Сравни длины ломаных АКМДО и АМОЕ.



❖ Расскажи, как действовала Маша?







20 cm



15 cm



35 cm



0