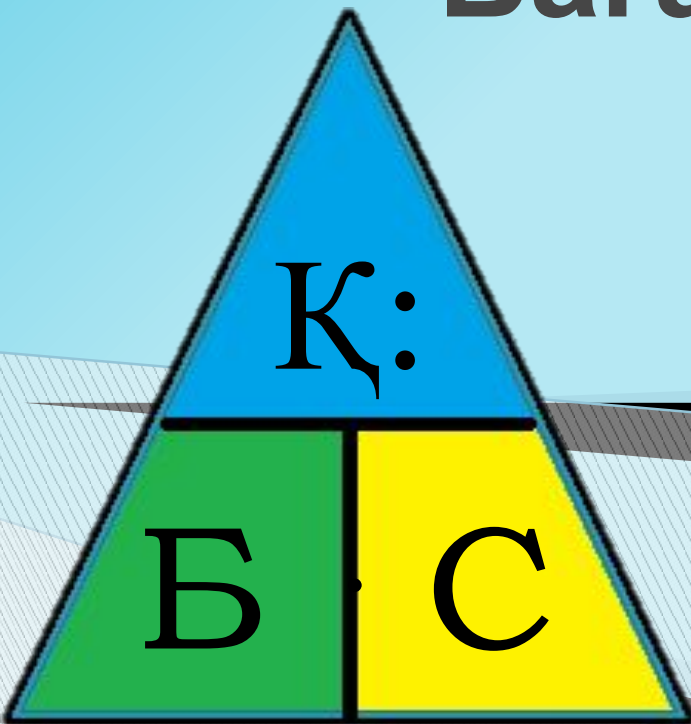


# Бағасы. Саны. Құны

№ 58 сабақ



# Ауызша есептеу

«Қақпаға дөп соқ»

24



28

27

# 50 ТЕНГЕГЕ НЕ САТЫП АЛУҒА БОЛАДЫ?



40 ТҒ.



35 ТҒ.



40 ТҒ.



8 ТҒ.



4 ТҒ.



5 ТҒ.



# 50 ТЕНГЕГЕ НЕ САТЫП АЛУҒА БОЛАДЫ?



40 ТҒ.



8 ТҒ.



# 50 ТЕНГЕГЕ НЕ САТЫП АЛУҒА БОЛАДЫ?



40 ТҒ.



4 ТҒ.



5 ТҒ.



# 50 ТЕҢГЕГЕ НЕ САТЫП АЛУҒА БОЛАДЫ?



40 ТҒ.



4 ТҒ.



5 ТҒ.



# 50 ТЕНГЕГЕ НЕ САТЫП АЛУҒА БОЛАДЫ?



8 ТҒ.



40 ТҒ.



# 50 ТЕНГЕГЕ НЕ САТЫП АЛУҒА БОЛАДЫ?



35 ТҒ.



8 ТҒ.



5 ТҒ.



# 50 ТЕНГЕГЕ НЕ САТЫП АЛУҒА БОЛАДЫ?



35 ТҒ.



8 ТҒ.



4 ТҒ.



# 50 ТЕНГЕГЕ НЕ САТЫП АЛУҒА БОЛАДЫ?



35 ТҒ.



4 ТҒ.



5 ТҒ.

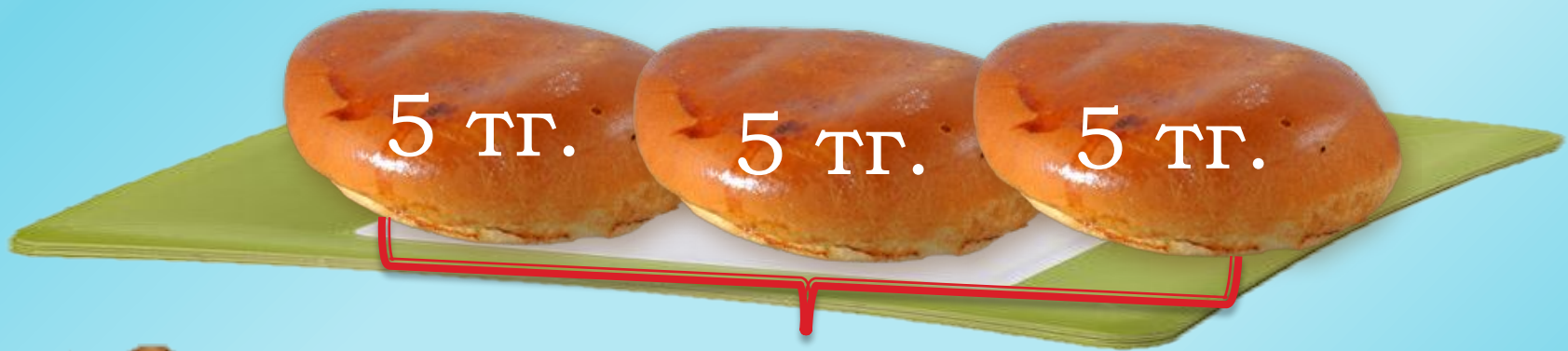


**Бір самсаның бағасы қанша?**

**Бағасы – 5 тг.**

**Неше самса сатып алды?**

**Саны – 3**



**Сатып алған 3 самсаға қанша ақша төледі?**

$$5+5+5=15 \text{ (тг)}$$

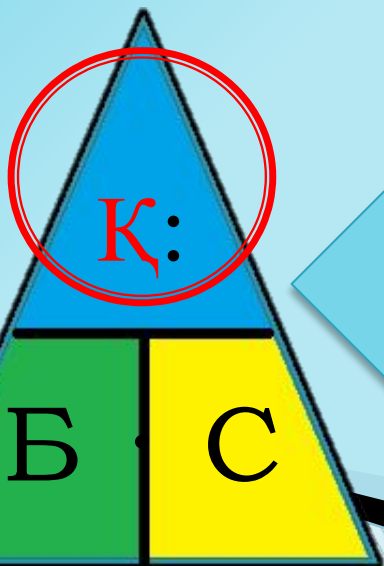
$$5 \cdot 3=15 \text{ (тг)}$$

**Құны: 15 теңге**



№2. Бір кәмпит **5 теңге** тұрады. 4 (6, 7, 8) кәмпит сатып алу үшін қанша ақша төлеу керек?

Бағасы	Саны	Құны
 5 теңге	4	$5 \cdot 4$
	6	$5 \cdot 6$
	7	$5 \cdot 7$
	8	$5 \cdot 8$



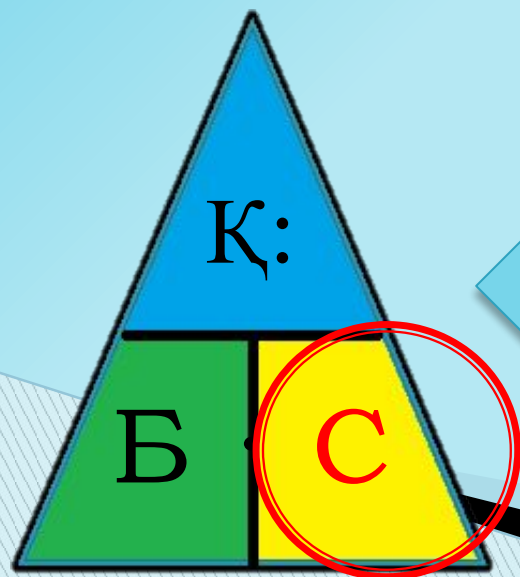
Тауардың **ҚҰНЫН** анықтау үшін, **БАҒАСЫН** оның **САНЫНА** көбейту керек.

$$Қ = Б \cdot С$$



№3. Сатып алынған тауарға 24 (32, 40, 48) теңге төленді.  
Бір кәмпит 8 теңге тұрса, неше кәмпит сатып алынды?

Бағасы	Саны	Құны
 8 теңге	24 : 8	24 теңге
	32 : 8	32 теңге
	40 : 8	40 теңге
	48 : 8	48 теңге



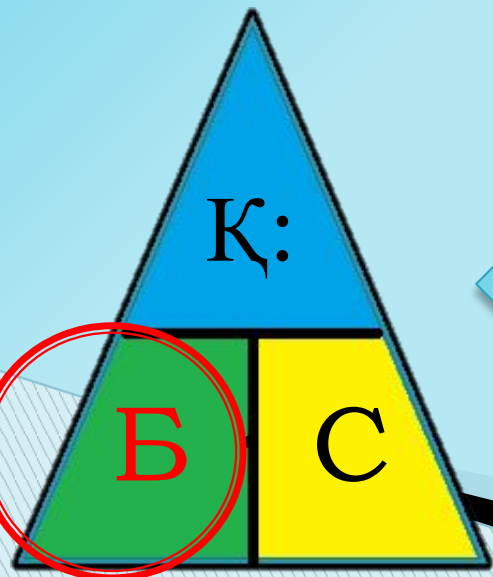
Сатып алынған тауардың  
**САНЫН** анықтау үшін,  
тауардың **ҚҰНЫН** оның  
**БАҒАСЫНА** бөлу керек.

$$С = К : Б$$



№4. 4 кәмпитке 20 (28, 36, 32) теңге төленді.  
Бір кәмпит қанша тұрады?

Бағасы	Саны	Құны
20 : 4		20 теңге
28 : 4		28 теңге
32 : 4		32 теңге
36 : 4		36 теңге



Сатып алынған тауардың  
**БАҒАСЫН** анықтау үшін  
тауардың **ҚҰНЫН** оның  
**САНЫНА** бөлу керек.

$$Б = Қ : С$$



# №5. Кесте бойынша есептер құрастырып, оларды шығар



	Бағасы	Саны	Құны
	9 теңге	3	<b>9 · 3</b>
	5 теңге	<b>30 : 5</b>	30 теңге
	<b>48 : 6</b>	6	48 теңге

№6. Сандардың арасындағы байланысты тап.  
Көбейту мен бөлуге өрнектер құрастыр.

1	2	3	4	5	6	36	48	24
4	5	6						
7	8	9				54	42	32

$$6 \cdot 6 = 36$$

$$36 : 6 = 6$$





№7. Туісті сөзді таңда  
(*артады/кемиді*)

<p><b>Саны бірдей</b></p>	<p><b>Бағасы артады</b></p> <p>Б1</p> <p>Б2</p>	<p><b>Құны артады</b></p> <p>Б1 Б1 Б1</p> <p>Б2 Б2 Б2</p>
<p><b>Бағасы бірдей</b></p> 	<p><b>Саны кемиді</b></p> <p>С1 Б Б Б Б</p> <p>С2 Б Б</p>	<p><b>Құны кемиді</b></p> <p>Қ1 Б Б Б Б</p> <p>Қ2 Б Б</p>
	<p><b>Құны кемиді</b></p> <p>Қ1 Б Б Б Б</p> <p>Қ2 Б Б</p>	<p><b>Саны кемиді</b></p> <p>С1 Б Б Б Б</p> <p>С2 Б Б</p>