

Иркутская область Усть – Кутский район
Муниципальное общеобразовательное учреждение
п. Верхнемарково Усть – Кутский район УКМО

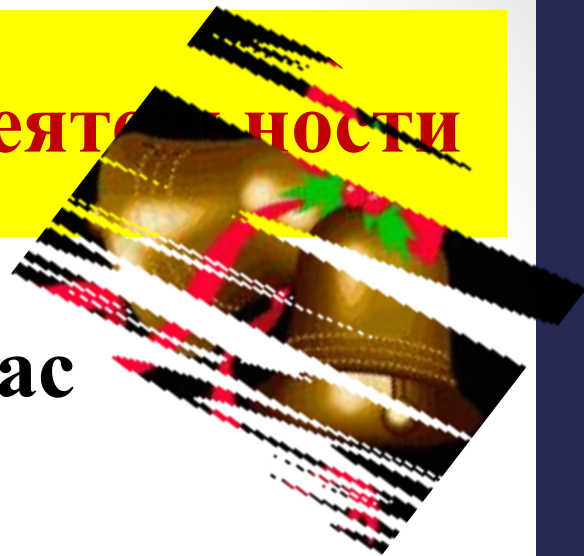
Вычитание из чисел

6, 7.

Состав чисел 6 и 7.

Составитель: Реуцкая Елена Борисовна
учитель начальных классов
высшая квалификационная категория
МОУ СОШ п. Верхнемарково
Усть – Кутский район
Иркутская область

Мотивация познавательной деятельности



Прозвенел для нас
ЗВОНОК.

Начинается **урок.**

К нам без опоздания
приходи **старание.**

Помоги нам
потрудиться,
Мы пришли сюда
учиться.



Мотивация познавательной деятельности

На уроке наши глаза
внимательно смотрят и всё

(видят),

Уши внимательно слушают и всё


(слышат),

Голова хорошо

(думает),

А наши пальчики нам

(помогают).



Подготовка к восприятию нового материала

Коль у замочка дужка
есть,
Похож замок на цифру?

Я такую кочергу
Сунуть в печку не
смогу.
Про нее известно всем,
Что она зовется...



1	2	3	4	5	6	7	8	9	10
---	---	---	---	---	---	---	---	---	----

1. Закрась красным цветом число, которое больше числа 6 на 4
2. Закрась синим цветом число, соседи которого 8 и 10
3. Закрась зелёным цветом число, которое получится, если из 7 вычести 4
4. Закрась жёлтым цветом число, которое получится, если 5 увеличить на 3
5. Закрась голубым цветом число, которое на 2 меньше 6
6. Подчеркни одной чертой число, предшествующее 3

1	<u>2</u>	3	4	5	6	7	8	9	10
---	----------	---	---	---	---	---	---	---	----

Что общего у данных заданий?

$$6 = 5 + 1$$

$$7 = 5 + \dots$$

$$7 = 6 + \dots$$

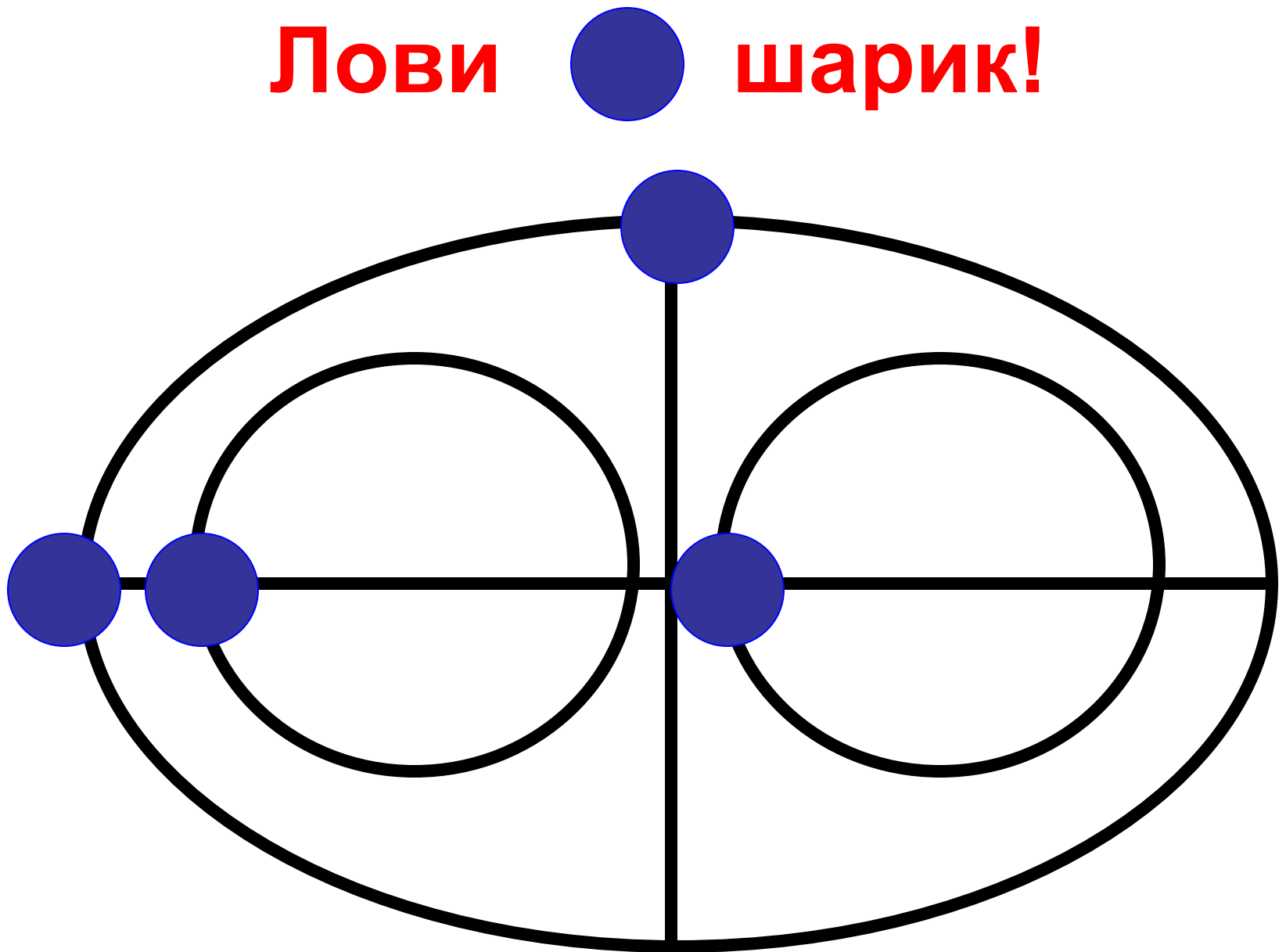
$$6 - 5 = \dots$$

$$7 - 5 = \dots$$

$$7 - 6 = \dots$$




Лови шарик!



Восприятие нового материала

1. На сколько 1 меньше 6? 5
2. На сколько 7 больше 5? 2
3. На сколько 3 меньше 7? 4
4. На сколько 6 меньше 7? 1
5. На сколько 5 меньше 7? 2
6. На сколько 6 больше 5? 1

3.



Сколько всего
яблок?

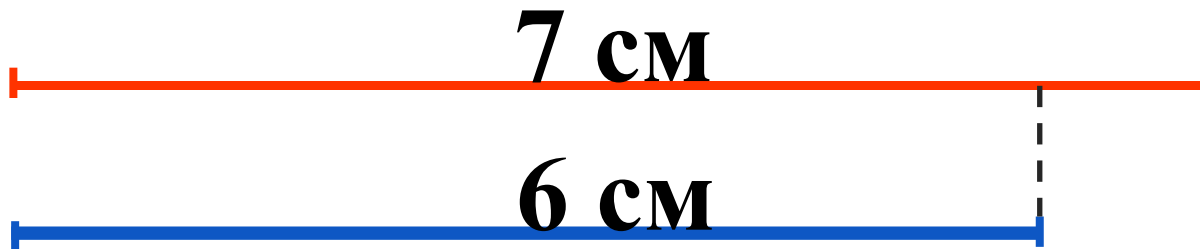


Всего 10 вилок.
Сколько ... в коробке?

$$7 - 2 = 5(\text{я.})$$

$$10 - 4 = 6(\text{в.})$$


Самостоятельная работа с самопроверкой по образцу




$$7 - 6 = 1$$

СМ

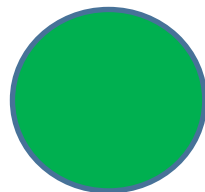
Рефлексия



Я всё
понял.



Я понял не
всё.



Я многое не
понял.

Молодцы!
Спасибо за
урок!



Список источников информации

1. Стихи о цифрах 6 и 7
<http://ucthat-v-skole.ru/biblioteka/stikhi/stikhi-pro-tsifry/89-stikhi-pro-tsifru-6> ,
<http://ucthat-v-skole.ru/biblioteka/stikhi/stikhi-pro-tsifry/91-stikhi-pro-tsifru-7> .
2. Офтальмотренаж «Лови шарик» <http://lusana.ru/presentation/23968>
3. Светофор http://pandia.ru/text/80/038/images/image003_19.jpg
4. Колокольчик http://pngimg.com/upload/small/bell_PNG10135.png
5. Сова
<https://image.jimcdn.com/app/cms/image/transf/dimension=230x10000:format=gif/path/se8ac1ef443300cee/image/if0b064065d190dd8/version/1455581976/image.gif>
6. Ученик и робот <http://school37.admsurgut.ru/images/702.gif>
7. Мальчик
http://2.bp.blogspot.com/-OB0kvmWTe_A/Vd0zbB8yi8I/AAAAAAAAAC38/iN3M2wtTWWg/s1600/Nomor%2Bdan%2BPenjumlahan%2Bpengali%2Bdan%2Bsma%2Bdengan%2Bdi%2Bdalam%2Bmate-matika.jpg
8. Девочка <http://s45.radikal.ru/i108/1008/a2/fb8a113eab6dt.jpg>