

# Повторение курса математики начальной школы



# ВЫСКАЗЫВАНИЕ О МАТЕМАТИКЕ

		3.Ж	2.И	2.М	2.И	3.Я				
		2.Ц	2.Р	1.А	1.В	1.А	3.Я			
		2.Р	3.2	2.2	1.1					
		3.З	2.1	1.5	2.1	2.2	2.1			
2.4	1.1	3.Ф	1.И	2.З	1.И	3.К	2.И	2.2	1.1	
М	а	Т	е	М	1.А	1.Т	И	К	а	
				1.3	2.Э	1.Е	1.5			
				Г	Л	а	з			

## К.Л.В.Ломоносов

1	А	В	Г	Е	З	
2	И	К	Л	М	П	Р
3	Т	У	Ф	Х	Я	
	1	2	3	4	5	6



# *РАССКАЗ ШРЕКА.*

*«Я встал пораньше, в 4 кг утра. Позавтракал плотно, выпил 1 км молока. Потом отправился на озеро, Расстояние до него немалое, 5 градусов. Утром было прохладно, температура всего 10 часов тепла. Поэтому я шел быстро, со скоростью 6 метров. Пришел, закинул удочку, не прошло и 20 сантиметров, как я поймал первую рыбку. Большущую – длиной 50 минут и весом 3 км/ч.*

*Отличная получилась уха!»*

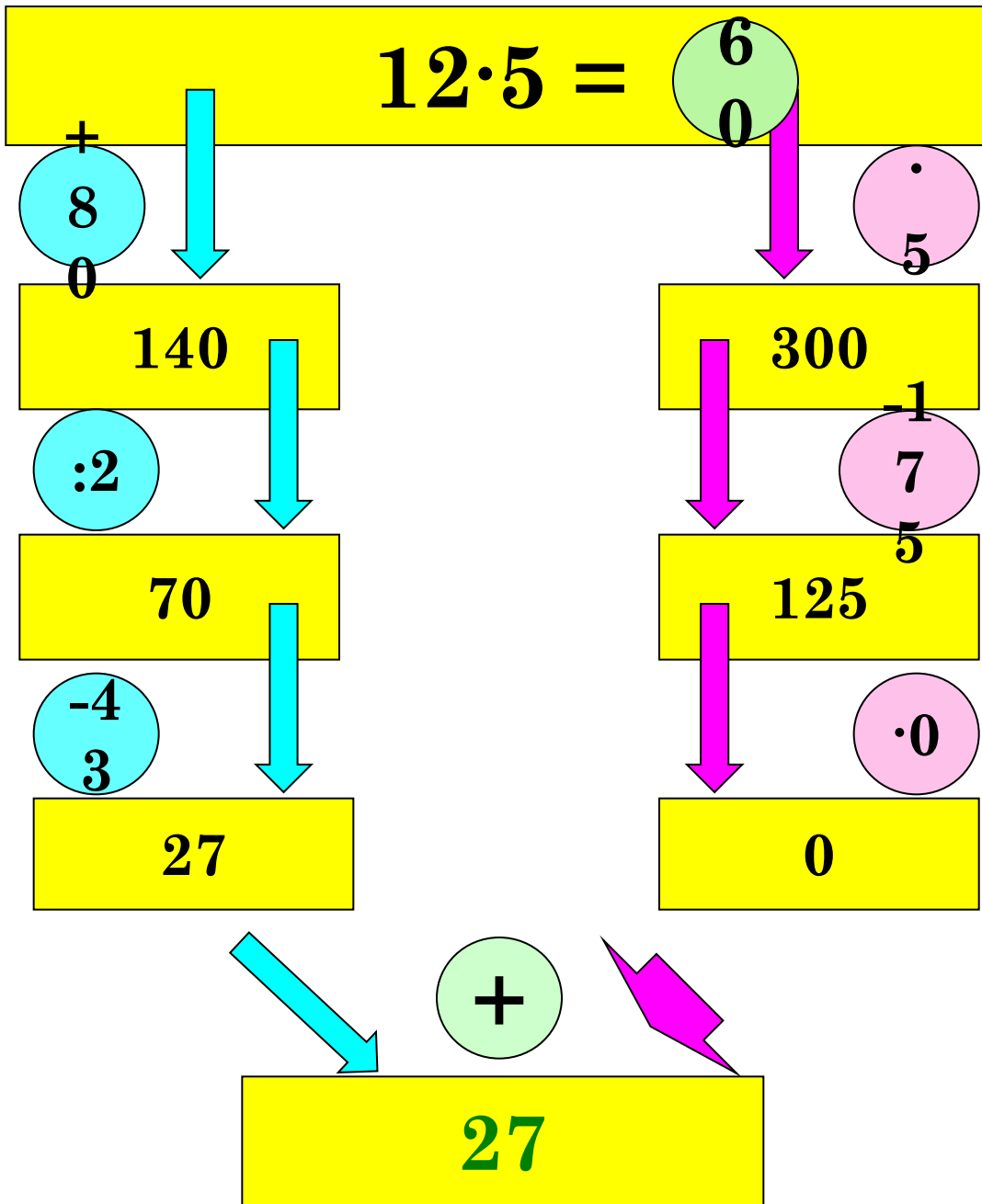


# ЗАДАЧА.


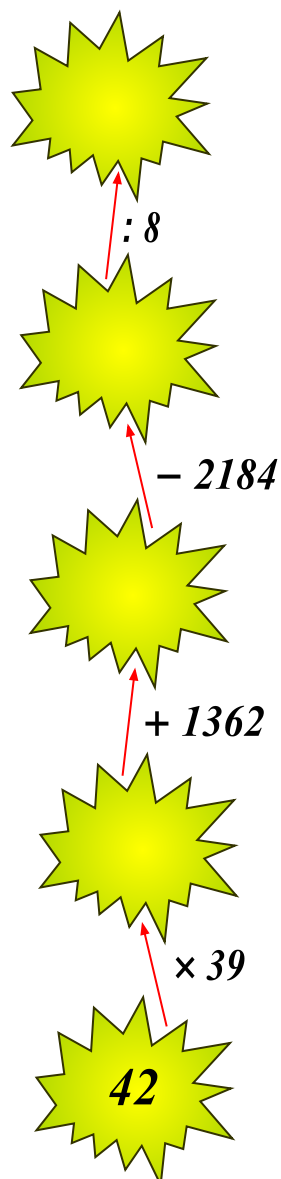
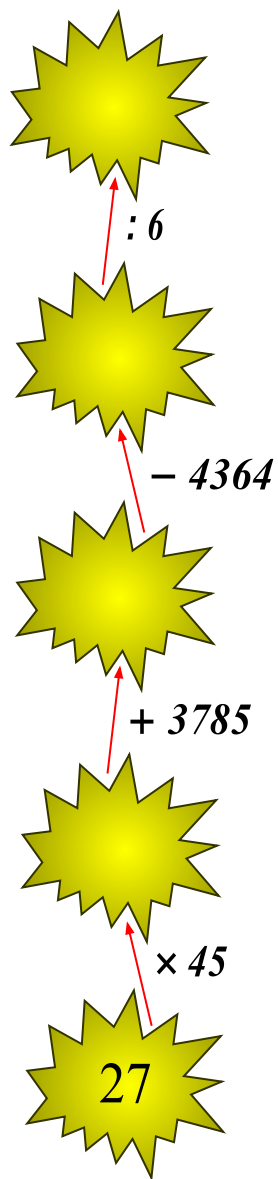
«Я встал пораньше, в 4 к<sup>в</sup>тра.лит  
Позавтракал плотно, выпил 1 л<sup>р</sup>  
молока. Потом отправился на озеро,  
Расстояние до него немалое, 5 а<sup>километро</sup>  
Утром было прохладно, температура<sup>в</sup>  
всего 10 <sup>градусо</sup>в тепла. Поэтому  
я шел быстро, со скоростью  
6 л<sup>км/ч</sup>. Пришел, закинул удочку,  
не прошло и 20 с<sup>минут</sup>,  
как я поймал первую рыбку.  
Большущую – длиной 50 <sup>сантимер</sup>  
и весом 3 к<sup>кг</sup> ов  
Отличная получилась уха!»



# Устные упражнения



# НАХОЖДЕНИЕ ЗНАЧЕНИЯ ВЫРАЖЕНИЯ



Последуйте за котом по  
математическим кочкам.  
Не торопитесь при  
выполнении вычислений, а  
то можете соскользнуть с  
кочки и увязнуть в болоте!



# РЕШЕНИЕ УРАВНЕНИЙ

$$(x + 3) \cdot 7 = 133;$$

$$124 : (x - 14) = 31$$



# РЕШЕНИЕ ЗАДАЧ

Принцесса и Шрек пошли в лес, осмотреть свои владения. Они решили узнать, какой длины изгородь им придется поставить.

Известно, что длина участка прямоугольной формы равна 150 м, а ширина на 16 м меньше. Необходимо узнать, какой длины должна быть изгородь, чтобы огородить весь участок.





**1-а**

**2-в**

**3-е**

**4-и**

**5-о**


**6-г**

**7-л**

**8-р**

**9-к**

**0-н**



**Огры**— мифические существа, чудовищные, безобразные великаны-людоеды. У них очень внушительный рост, достигающий в величину до 20-40 метров. Их выдающееся качество — невероятная сила. Они часто носят тяжелейшие дубины на охоту или в качестве оружия, но всё же их нельзя недооценивать и в безоружном бою. Из костей своих жертв они изготавливают трофеи и талисманы, которыми они украшают как своё жильё, так и самих себя.



## ДОМАШНЕЕ ЗАДАНИЕ

- Составить и решить задачу о Шреке и Фионе.
  
- Составить и решить уравнение.



## ЛИТЕРАТУРА:

- « Математика: Открытые уроки. 5,6,7,9.11 классы.»  
Выпуск 2/ Авт.-сост. Н.М.Ляшева и др. – Волгоград:  
Учитель,2005
- <http://karmanform.ucoz.ru/5.rar>
- <http://www.zaitseva-irina.ru/html/f1103452759.html>
- [http://go.mail.ru/search\\_images?use\\_morph=yes&q=http://go.mail.ru/search\\_images?use\\_morph=yes&q=шрек](http://go.mail.ru/search_images?use_morph=yes&q=http://go.mail.ru/search_images?use_morph=yes&q=шрек)

