

# Диагностическая работа



**МБОУ СОШ № 99 г.о. Самара**

**Предмет: Математика**

**Класс: 1**

**Учебник: Башмаков М.И. 2012 г**

**Учитель: Гаврилова Г.А.**

**Год издания: 2014**

Поставьте знак + или – так,  
чтобы равенство было верным.

$6 \text{ --- } 2 < 5$

$5 \text{ + } 4 = 9$

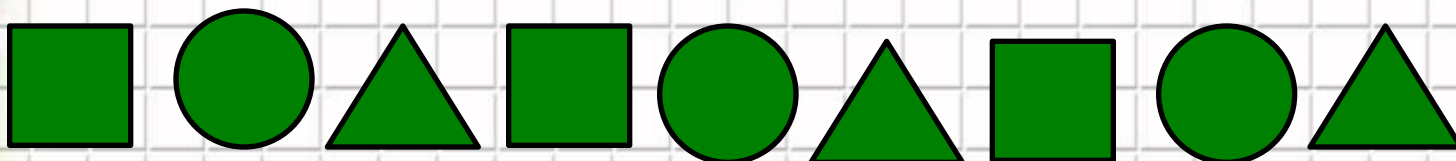
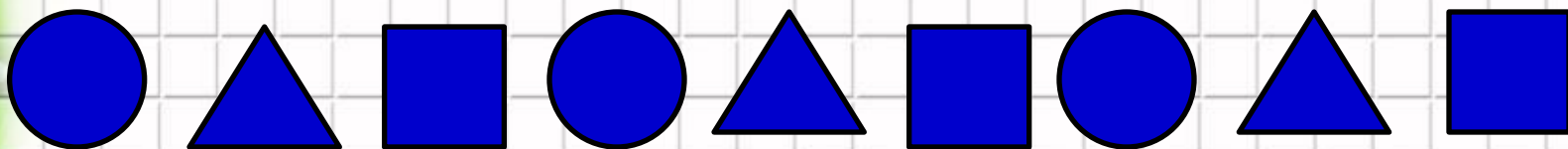
$6 \text{ + } 2 > 5$

$5 \text{ --- } 4 =$

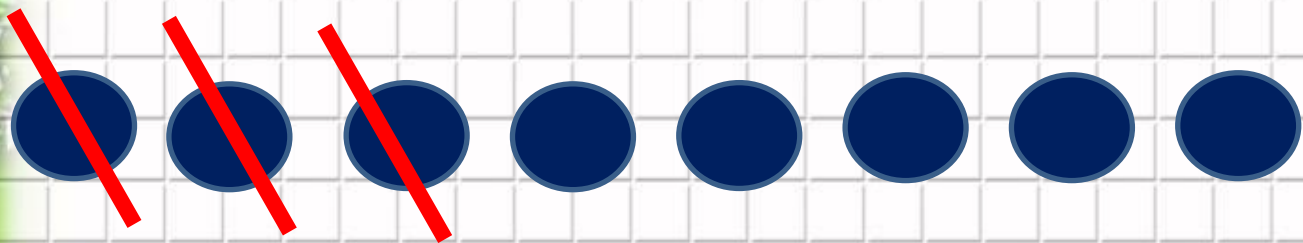




# Продолжи ряд



- У Кати было 8 карандашей. Она отдала 3 Оле. Сколько карандашей у нее осталось?




$$8 - 3 = 5 \text{ (к.)}$$



**Составь схему, запиши выражение.**



- У Вари было 3 куклы и 4 лошадки. Сколько игрушек было у Вари?



$$3 + 4 = 7$$

(иг.)



**Составь схему, запиши выражение.**


У Васи 7 машин, а у Толи 4.  
Вася отдал Толику 1 машину.  
Увеличилось или уменьшилось  
количество машин у Толи?

Увеличилось

Уменьшилось



# Составь четыре равенства



$$1 + 7 = 8$$

$$8 - 1 = 7$$


$$7 + 1 = 8$$

$$8 - 7 = 1$$





# Что лишнее?



**Это не природа.**



Сначала у ребят был урок окружающего мира, потом физкультура, а потом они пошли в столовую на завтрак. Расставь цифры от 1 до 4.



**Что нового узнали?  
Что было трудно?  
Оцени себя?**

