

2

класс



Тренажёр по математике



Друзья!

Позвольте представиться. Меня все зовут Уточка Пеппа. А это мои самые верные, отзывчивые, умные и добрые друзья. Мы тоже, как и вы, изучаем математику. Только в нашей лесной школе. Предлагаем вам увлекательные задания. Мы их пройдём вместе с вами. Следуйте по стрелкам - указателям.



ПУСК



А меня друзья
зовут Кролик Ум.
Если вам будет
трудно, щёлкните
на мое или моих
друзей
изображение



Привет, я
Чив!



Будем
знакомы.
Филин.



Мышонок
Шустрик!
Готов помочь!





Ребята, после каждого задания
вы сможете оценить свою
работу.

Для этого найдите на
страничке смайлик
и щёлкните по нему мышкой.



Желаю удачи!



СМЕЛЕЕ ВЫБЕРИТЕ ЗАДАНИЕ

УСТНЫЙ СЧЁТ

МАТЕМАТИЧЕСКИЕ ДИКТАНТЫ



ЗАДАЧИ

ВЕСЁЛЫЕ ЗАДАЧИ



Устный счёт



Задание №1

В ведре **12** л молока, а в бидоне на **3** л меньше. Сколько молока в бидоне?

Ответ

9 л

Задание №2

Все задачи можно
решить вычитанием

Ответ

Брат и сестра нашли вместе **15** грибов.
Брат нашёл **7** грибов. Сколько грибов
нашла сестра?

8 грибов

Задание №3

В магазине было **20** кг яблок. Один
покупатель купил **4** кг, а другой – **5** кг.
Сколько килограммов яблок осталось
в магазине?

Ответ

11 кг



Устный счёт



Задание №4

Альбом стоит **11** руб., а тетрадь – на **6** руб. дешевле. Сколько стоит тетрадь?

Ответ

5 рублей

Задание №5

В гараже стояло **18** машин. Утром уехало **4** машины, а днём – **9** машин. Сколько машин осталось в гараже?

Ответ

5 машин

Задание №6

Лене **17** лет, а Ире **13** лет. На сколько лет Ира младше Лены?

Ответ

На **4** года

дешевле

младше

меньше



Устный счёт



Задание №7

У бабушки **19** цыплят и **7** утят. На сколько утят меньше, чем цыплят?

На **12** меньше

Ответ

Задание №8

На стройку привезли **15** машин с песком и **11** машин с цементом. На сколько машин с песком больше, чем с цементом?

На **4** машины

Ответ

Задание №9

Книга стоит **18** рублей, а тетрадь – **5** рублей. На сколько рублей тетрадь дешевле книги?

На **13** рублей

Ответ





Математический диктант № 1

1 Запиши число, в котором **1** дес. и **5** ед.

2 Запиши число, в котором **3** дес. и **6** ед.

3 Найди разность чисел **17** и **9**

4 Число **9** увеличь на **10**

5 Число **17** уменьши на **2**

6 Найди сумму чисел **7** и **8**

7 Вырази в сантиметрах **4** дм **6** см

Ответы
знает
Кролик
Ум



Работайте на отдельном листе бумаги



Математический диктант № 2



1	Вычисли: $30 + 7 + 20 + 3$
2	Число 37 уменьши на 4
3	Первое слагаемое – 30 , второе слагаемое – 5 . Чему равна сумма?
4	Число 47 уменьши на 30
5	Найди сумму чисел 32 и 40
6	Число 84 уменьши на 50
7	Длина одной комнаты 8 м, а другой – на 3 м больше. Узнай длину второй комнаты.

Ответы
знает
Кролик

Ум



Работайте на отдельном листе бумаги



Математический диктант № 3



1	Сумму чисел 45 и 25 уменьши на 27
2	Разность чисел 39 и 19 увеличь на 50
3	Какое число надо вычесть из числа 64 , чтобы получилось 14 ?
4	Найди разность чисел 26 и 9
5	Вычти удобным способом: $36 + 12 + 4 + 8$
6	Вставь знак > или < так, чтобы получилось верное неравенство: $67 - 20 - 8 \dots 40$
7	Вырази в миллиметрах 4 см 2 мм

**Ответы
знает
Кролик
Ум**



Работайте на отдельном листе бумаги

Задачи

№ 1



Прочитай задачу и выбери выражение для ее решения.

К кормушке прилетели **9** синичек и **5** снегирей. Все снегيري быстро улетели, и столько же улетело синичек.

Сколько птиц осталось у кормушки?

$$9 - 5$$

НЕВЕРНО

$$9 + 5 - 5$$

НЕВЕРНО

$$(9 + 5) - (5 + 5)$$

ВЕРНО!

Задача на
3 действия



Задачи

№ 2



Прочитай задачу. Выбери верное решение.

Орёл вьёт гнездо на
высоте **20** м. Это на **18** м
выше, чем вьёт грач.

На какой высоте вьёт
гнездо грач?

$$20 + 18 = 38 \text{ (м)}$$

НЕВЕРНО

$$20 - 18 = 2 \text{ (м)}$$

ВЕРНО!



Необходимо
выполнить
вычитание



Задачи

№ 3



К какой задаче это решение?

$$4 + 3 - 2 = 5 \text{ (ст.)}$$

Маша собрала **4** стакана земляники и **3** стакана малины. После обеда осталось **2** стакана ягод. Сколько стаканов ягод съели за обедом?

Маша собрала **4** стакана земляники и **3** стакана малины. После обеда осталось **5** стаканов ягод. Сколько стаканов ягод съели за обедом?



Мудрый Филин
знает ответ



Весёлые задачи



Реши задачу



Попугай Кеша рассказывал каждый день слушателям по **3** истории о своих приключениях. Сколько историй рассказал Кеша за неделю?

Ответ:

21 историю рассказал Кеша за неделю





1 неделя = **7** дней



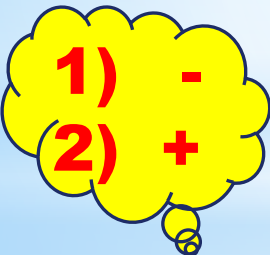
Весёлые задачи



Реши задачу



В комнате веселились **17** мух. Дядя Гоша открыл форточку и, размахивая полотенцем, выгнал из комнаты **12** мух. Прежде чем он успел закрыть форточку, **7** мух вернулись обратно. Сколько мух теперь веселится в комнате?



1) -
2) +



Ответ:

12 мух веселится в комнате




Весёлые задачи



Реши задачу

Курица бабушки Стефы высидела **3** яйца, из которых вылупились **4** крокодильчика, **8** индюшат, **3** черепашки, **6** кобр, **2** цыплёнка, **3** динозаврика и **4** страусёнка.


Сколько куриных яиц было в общей куче?



Ответ:

2






Молодцы, ребята!

Удачи вам!

До новых встреч!



Использованные источники:

1. Давыдкина Л.М., Мокрушина О.А. Математический тренажёр: текстовые задачи. 2 класс. – 2-е изд., перераб. – М.: ВАКО, 2015, - 80 с.
2. Математические диктанты. 2 класс / Сост. М.Н. Алимбиева, Т.В. Векшина. – М.: МАКО, 2014, - 48 с.
3. Сборник текстовых задач по математике. 2 класс / Сост. Т.Н. Максимова, О.А. Мокрушина. – 3-е изд., перераб. – М.: МАКО, 2014. – 96 с.
4. Картинки:
Кролик, филлин, мышонок, воробей - Хрестоматия для дошкольников / Сост. В. Лунин, художники М. Соловьев, Н. Бурмисова, В. Бастрыкин, А. Остроменский, Т. Галанова, З. Буттаев, В. Суриков, Е. Подколзин, Е. Запесочная. – М.: АСТ – ПРЕСС, 2005. – 144 с.
Уточка - Давыдкина Л.М., Мокрушина О.А. Математический тренажёр: текстовые задачи. 2 класс. – 2-е изд., перераб. – М.: ВАКО, 2015, - 80 с.
Попугай Кеша – https://img-fotki.yandex.ru/get/15509/16969765.266/0_9ad42_56e91fc2_orig.png
Муха – http://ic.pics.livejournal.com/ve_selo/51932881/39038/39038_600.jpg
Муха 1 – <http://razvitie-krohi.ru/wp-content/uploads/2015/07/muha.jpg>
Муха 2 – http://allforchildren.ru/pictures/fly_s/fly005.gif
Кобра – http://pictures.ucoz.ru/_ph/3/2/306054946.png

Использованные источники (продолжение):

Страус – <http://cdn.bolshoyvopros.ru/files/users/images/59/a5/59a5e3ad905df586863bdd809ea2c52c.gif>

Дракончик – <https://pp.vk.me/c627116/v627116235/170d2/q46E-IWM44Y.jpg>

Крокодил – http://pictures.ucoz.ru/_ph/3/2/420279727.png

Цыпленок – <http://i99.beon.ru/s05.radikal.ru/i178/1009/f6/53a9fd8737c9.jpg>

Черепашка – <http://cs305608.vk.me/v305608136/2f3e/CzcEA7zk41A.jpg>

Индюк – <http://azbuka-bukvar.com/wp-content/uploads/2012/03/azbuka-zabava-bukva-i.jpg>

Курица – <http://www.devichnik.ru/pasha/images/kura.jpg>

Курица 1 – <http://www.abc-color.com/image/coloring/chickens/001/broody/broody-picture-color.png>

Курица 2 – <http://previews.123rf.com/images/kalomirael/kalomirael1110/kalomirael111000006/10827062-Broody-hen-with-chickens-Stock-Photo.jpg>

5. Программа MS Power Point 2010

Как ты выполнил задание?
Выбери один вариант ответа

ЗАДАНИЕ ВЫПОЛНЕНО ВЕРНО
БЕЗ ПОДСКАЗКИ

ЗАДАНИЕ ВЫПОЛНЕНО ВЕРНО
С ПОДСКАЗКОЙ

ЗАДАНИЕ ВЫПОЛНЕНО НЕВЕРНО
БЕЗ ПОДСКАЗКИ

ЗАДАНИЕ ВЫПОЛНЕНО НЕВЕРНО
С ПОДСКАЗКОЙ



ХОРОШО!



ОТЛИЧНО!



СТАРАЙСЯ