





467, 476, 647, 674, 746, 764

9 5 8 5 3 8 4





№2, с. 8



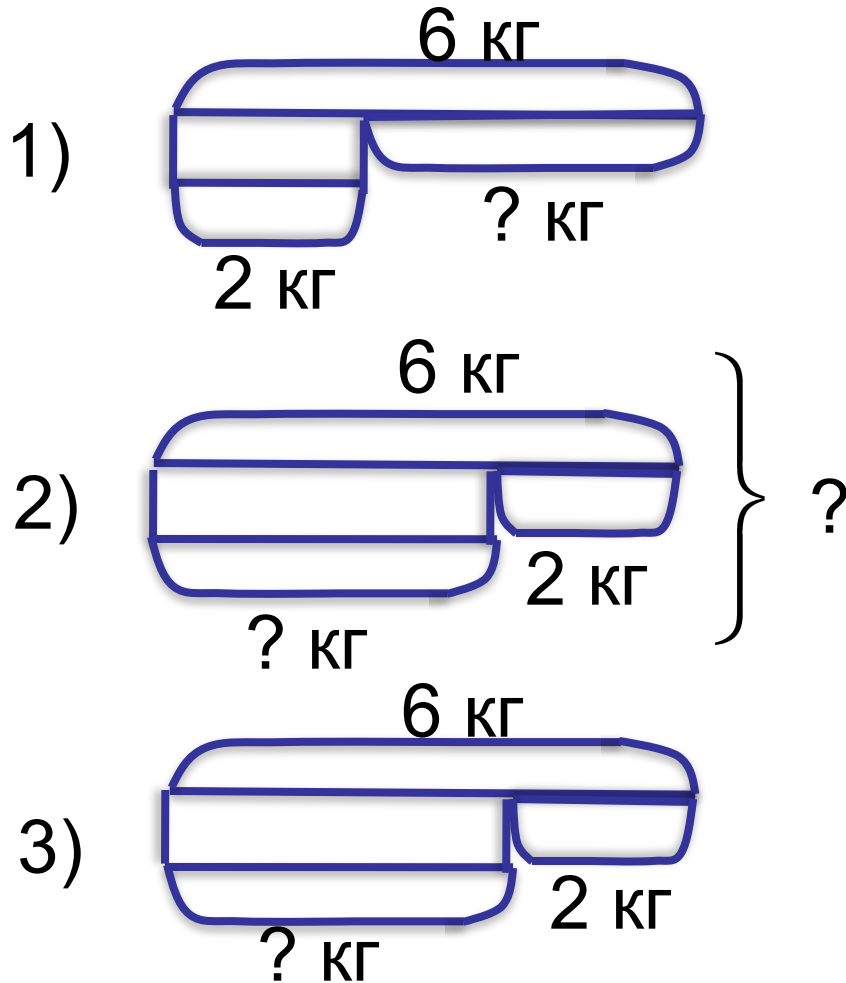


- Какие из этих слов являются названиями величин?
- **Масса, цвет, вкус, длина, запах, объём.**
- Какие единицы измерения каждой из этих величин вам известны?



- Лемуры собрали 6 кг орехов, а панды – на 2 кг меньше. Сколько кг орехов они собрали вместе?

Лемуры собрали 6 кг орехов, а панды – на 2 кг меньше. Сколько кг орехов они собрали вместе?



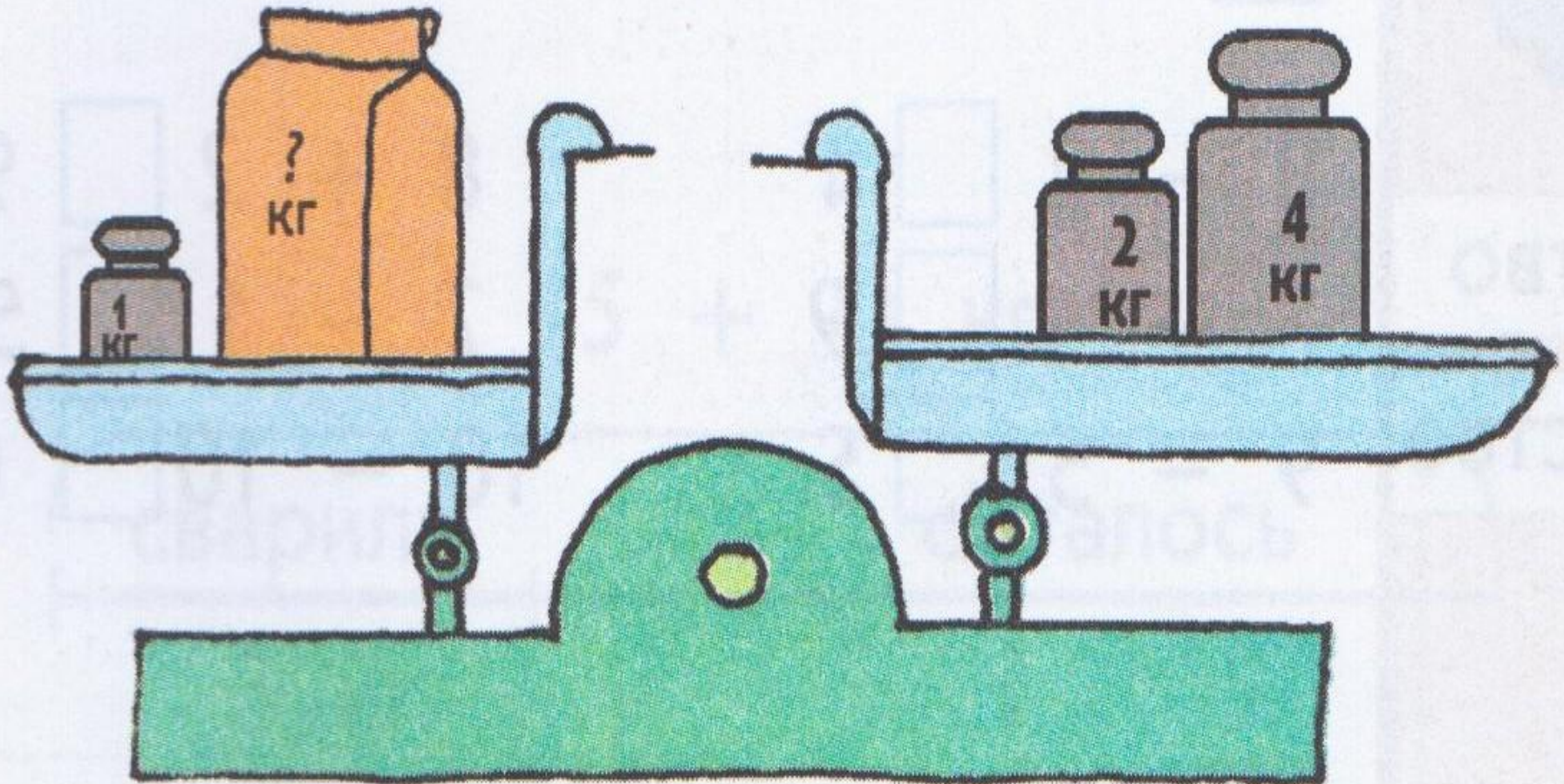
- **1) $6 - 2 = 4$ (кг) – панды.**
- **2) $6 + 4 = 10$ (кг) – всего.**
- **Ответ: 10 кг орехов.**







Чему равна масса пакета?



№5, с. 9

$$4 \text{ кг} + 1 \text{ кг} = 7 \text{ кг} - \square \text{ кг}$$

$$8 \text{ л} - 4 \text{ л} = \square \text{ л} + 2 \text{ л}$$

$$\square \text{ см} + 6 \text{ см} = 9 \text{ см} + 0 \text{ см}$$

$$4 \text{ кг} + 1 \text{ кг} = 7 \text{ кг} - 2 \text{ кг}$$

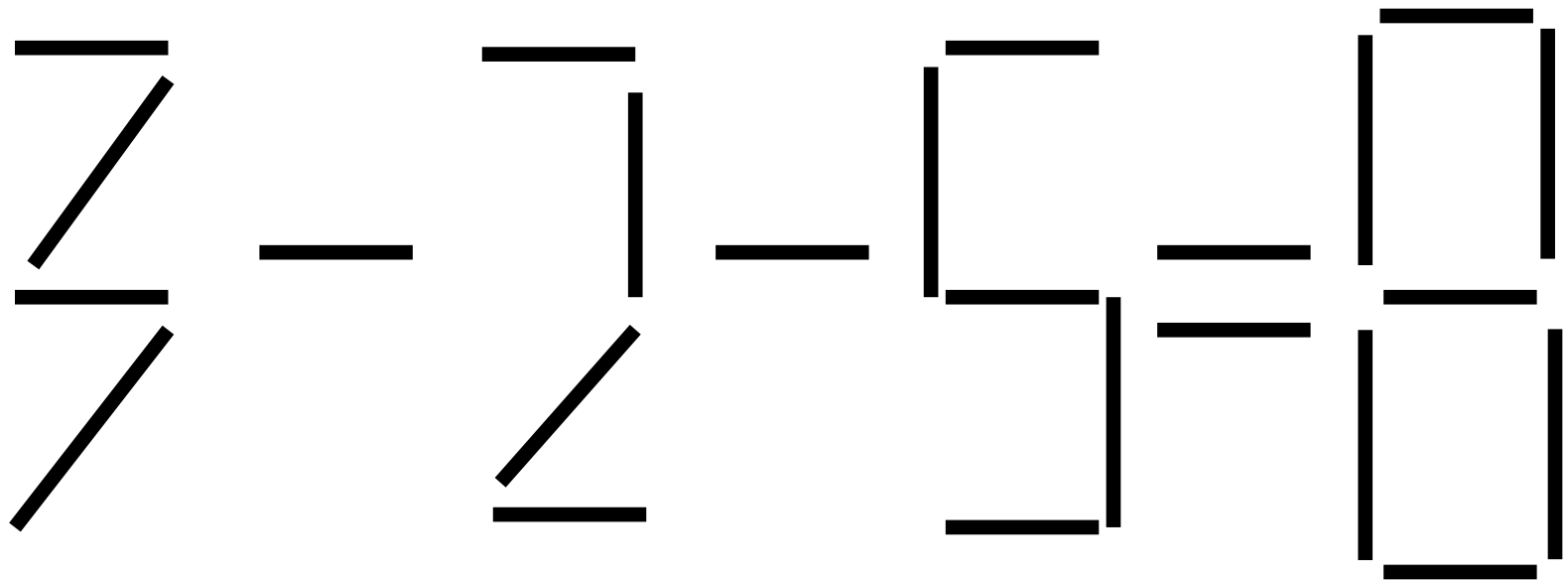
$$8 \text{ л} - 4 \text{ л} = 2 \text{ л} + 2 \text{ л}$$

$$3 \text{ см} + 6 \text{ см} = 9 \text{ см} + 0 \text{ см}$$





Переложите одну палочку так,
чтобы равенство стало верным



$$\begin{array}{|c|} \hline \hline \hline \hline \hline \\ \hline \end{array} + \begin{array}{|c|} \hline \hline \hline \hline \hline \\ \hline \end{array} = \begin{array}{|c|} \hline \hline \hline \hline \hline \\ \hline \end{array}$$

$$\begin{array}{|c|} \hline \hline \hline \hline \hline \\ \hline \end{array} - \begin{array}{|c|} \hline \hline \hline \hline \hline \\ \hline \end{array} = \begin{array}{|c|} \hline \hline \hline \hline \hline \\ \hline \end{array}$$



