

# Математические диктанты



***Понапрасну не  
болтай,  
Рассуждай и убеждай.  
Здесь не нужен шум и  
гам,  
Ты решай задания  
сам.***






# Вопросы от мышонка Мити



**Делимое 48, делитель 6.  
Найди частное.**




# Вопросы от мышонка Мити



Найди произведение  
чисел 9 и 5.



# Вопросы от мышонка Мити




Увеличь 4 в






# Вопросы от мышонка Мити



Во сколько раз то  
больше 5?




# Вопросы от мышонка Мити



На сколько 40 больше 3?



# Вопросы от мышонка Мити




Уменьши 36 в 9 раз.





# Вопросы от мышонка Мити



Какое число надо умножить  
на 3, чтобы получить 24?



# Вопросы от мышонка Мити



**Запиши все  
на которые  
делится без остатка.**



# Задания от мышонка Моти



**Уменьшаемое 40, вычитаемое  
26.**

**Найди разность.**



# Задания от мышонка Моти



**Первый множитель 8, второй 4.  
Найди произведение.**



# Задания от мышонка Моти



**Во сколько раз  
18?**





# Задания от мышонка Моти



**Во сколько раз  
больше 4?**



# Задания от мышонка Моти



Уменьши 16 в 1 раз



# Задания от мышонка Моти



Увеличь 7 на 0.




# Задания от мышонка Моти



**Увеличь 7  
раз.**



**У вас  
получилось!  
Здорово!**







# Математический диктант

от кота Леопольда

**20 уменьшить в 4**

**раза**

**и увеличить в 3 раза.**





# Математический диктант

от кота Леопольда

**9 увеличить в 2 раза  
и уменьшить на 9.**





# Математический диктант

от кота Леопольда

**Запишите самое  
большое  
двузначное число.**





# Математический диктант

от кота Леопольда

**60 увеличить  
на 2 десятка.**





# Математический диктант

от кота Леопольда

**Запиши число, больше  
54  
на 24.**







# Математический диктант

от кота Леопольда

**Запиши число,  
в котором 4 единицы  
и 7 десятков.**





# Математический диктант

от кота Леопольда

**Запиши число,  
меньшее 28 на 9.**





# Математический диктант

от кота Леопольда

Из 13 м материи швея сшила платье и 4 одинаковых рубашки. На одно платье пошло 5 м материи. Сколько метров материи пошло на одну рубашку?





# Математический диктант

от кота Леопольда

**В одном классе 30 учеников,  
а в другом на 4 ученика меньше.  
Сколько учеников в обоих  
классах?**

