


**МБОУ «СОШ имени А.Джанибекова с.Растопуловка»
Приволжского района Астраханской области
Учитель начальных классов Агамбетова В.Э.
УМК «Школа России»**

«Нумерация чисел второго десятка»

1 класс

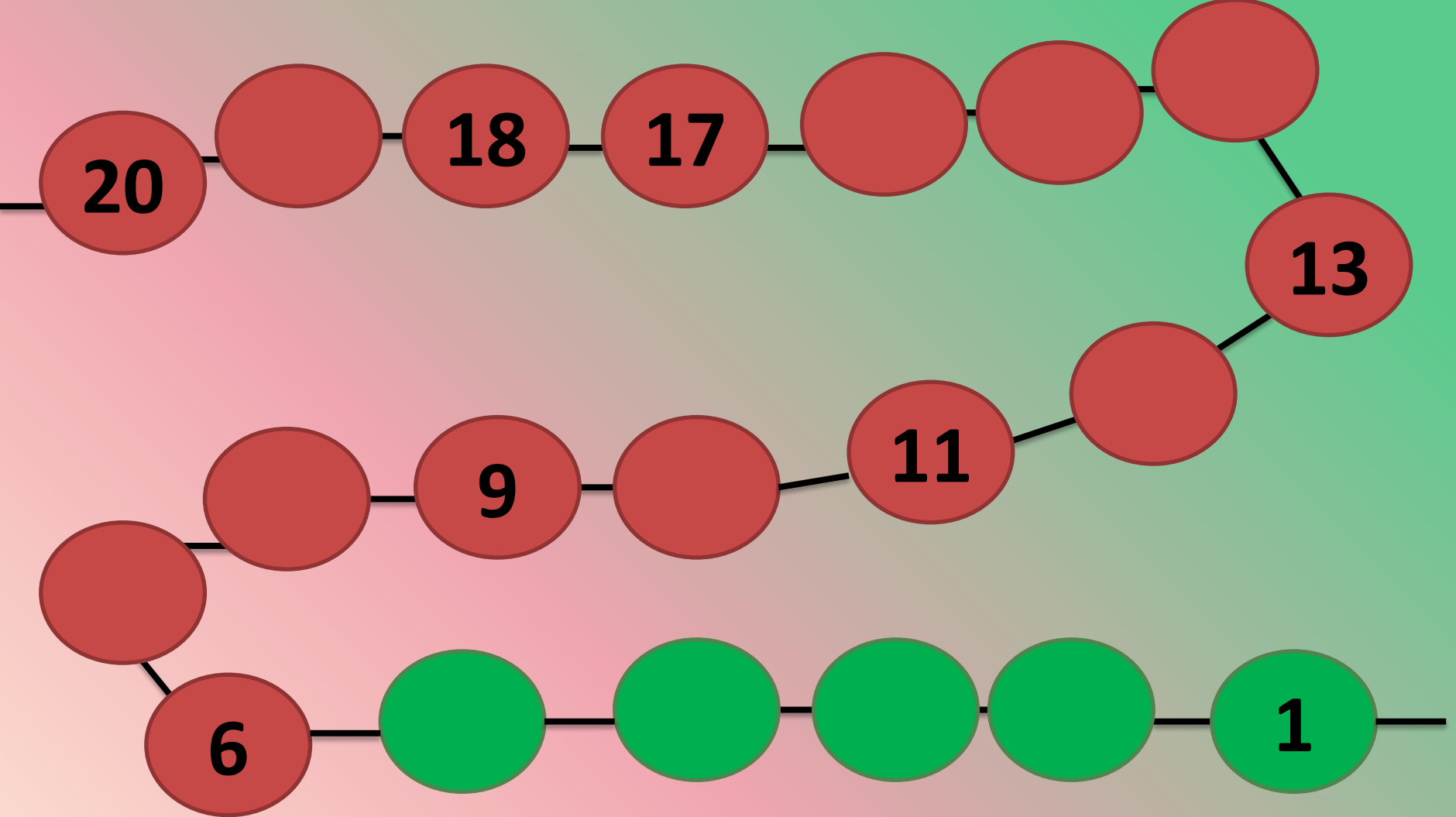


КОЛОБОК










19 2 7 14 5 8 3 15 12 4 10 16







1. Масса половинки гуся 3 кг, Сколько весит гусь?
2. На одной ноге гусь весит 6 кг. А сколько он будет весить на двух ногах?
3. Отец с двумя сыновьями катались на велосипедах, трёхколёсных и двухколёсных, а всего у них было 7 колёс. Сколько было трёхколёсных велосипедов?



Раздели на две группы

$$10 + \quad = 12$$

$$10 - 2 =$$

$$12 - \quad = 10$$

$$8 + 2 =$$

$$12 - 10 =$$

$$10 - 8 =$$

Раздели на две группы

$$8 + 2 = 10$$

$$10 - 2 = 8$$

$$10 - 8 = 2$$

$$10 + 2 = 12$$

$$12 - 2 = 10$$

$$12 - 10 = 2$$

ФИЗМИНУТКА

Для разминки из-за парт
Поднимаемся. На старт!
Бег на месте. Веселей
И быстрее, быстрее, быстрее!
Делаем вперед наклоны –
Раз – два – три – четыре – пять.
Мельницу руками крутим,
Чтобы плечики размять.
Начинаем приседать -
Раз – два – три – четыре – пять.
А потом прыжки на месте,
Выше прыгаем все вместе.
Руки к солнышку потянем.
Руки в стороны растянем.
А теперь пора учиться.
Да прилежно, не лениться





Молодцы!

