




15, 19, 11, 13, 9, 17.





1 см

9 см

2 дм

4 см

8 см




ДЕЦИМЕТР (ДМ)







$$10 \text{ CM} = 1 \text{ ДМ}$$

$$1 \text{ ДМ} = 10 \text{ CM}$$


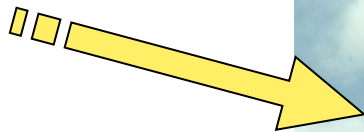




12 cm



ХВОСТ



Хобот

У слоненка длина хвоста 3 дм, а хобота на 7 дм больше. Чему равна длина хобота?

ЗАДАЧА

Хвост - 3 дм

Хобот - ? на 7 дм больше



$$17 \text{ см} = 1 \text{ дм } 7 \text{ см}$$

$$19 \text{ см} = 1 \text{ дм } 9 \text{ см}$$


$$11 \text{ см} = 1 \text{ дм } 1 \text{ см}$$



$$2 \text{ дм} + 3 \text{ дм} = 5 \text{ дм}$$

$$4 \text{ дм} + 3 \text{ дм} = 7 \text{ дм}$$

$$8 \text{ дм} - ? \text{ дм} = 7 \text{ дм}$$



3 дм < 9 дм



1 дм = 10 см

6 дм > 4 дм





Я

- з н а ю

- за пом н и л

- с м о г





К О Н Е Ц ! ! ! ! !

