

Доброе утро, ребята!
Сегодня 22 января, понедельник!
На улице очень холодно, поэтому заниматься
Вы будете дома!
На уроке математики Вы повторите состав
чисел и порешаете задачи!
Если на слайде написано: **УСТНО**, то
выполняй задания устно!
А там где нужно писать, увидишь слово
ПИШИ!



УСТНЫЙ СЧЁТ



Распредели неравенства на 2 группы.



1

$8 >$

3

$9 >$

2

$4 <$

4

$2 <$




1

$< 2,$

2

$> 1,$

Распредели фигуры на 2 группы.



1

2

1, 3,

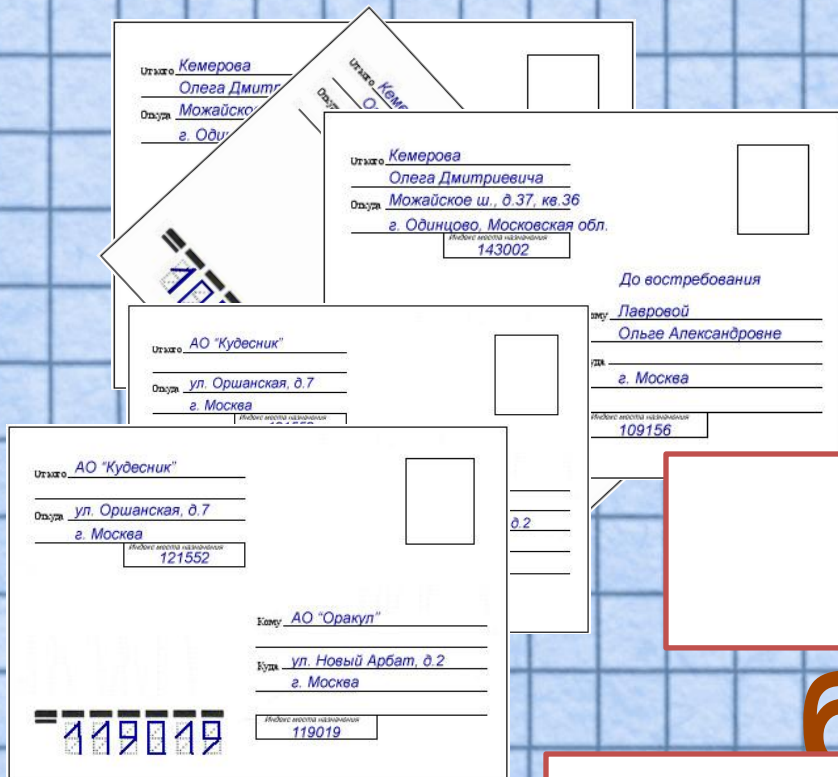
2,

5

4



Почтальон Печкин разнёс 5 писем и 3 посылки. На сколько писем он разнёс больше, чем посылок?



на 2

больше

$$5 - 3 =$$



Кот Матроскин купил 5 тарелок, 2 ведра для молока, 3 кружки. Сколько всего посуды купил Матроскин?



$$5 + 2 + 3 =$$

10 



1



РАБОТА ПО УЧЕБНИКУ



Стр. 19 УСТНО!

1.



Девочка кормила голубей. Сначала было 3 голубя, а потом прилетели ещё 2, но 1 голубь улетел. Сколько стало голубей, когда прилетели ещё 2 голубя? Сколько осталось голубей, когда 1 улетел?

2. 1) У Сони были монеты:







Сколько всего рублей было у Сони?

2) У Сони было \square р. Она купила ручку за 3 р. Сколько рублей осталось у Сони?

3. $9 \bigcirc \square = 7$
 $9 \bigcirc \square = 6$

$4 \bigcirc \square = 10$
 $2 \bigcirc \square = 10$



5. Выложи из 9 палочек такую фигуру. Догадайся, как переложить 2 палочки, чтобы стало 4 треугольника. Сколько получилось четырёхугольников?

$2 + 7$

$1 + 6$

$10 - 3$

$4 + 5 - 3$



$2 + 6$

$1 + 7$

$10 - 4 - 2$


$4 + 6 - 2$

РАБОТА В ТЕТРАДИ



Стр.14 ПИШИ!

1

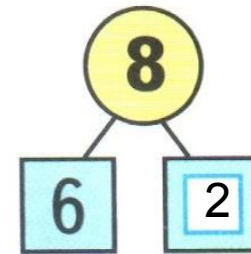
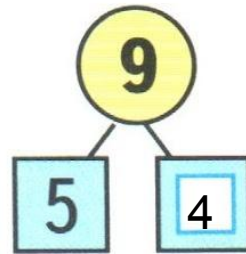
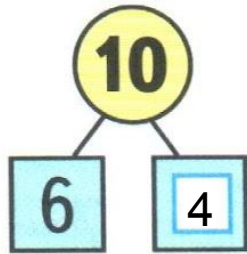


Сколько всего ... ?

$$7 + 2 = 9 \text{ (ап.)}$$

Ответ: 9 ап.

2



$$10 = 6 + 4$$

$$9 = 5 + 4$$

$$8 = 6 + 2$$

$$10 - 6 = 4$$


$$9 - 5 = 4$$

$$8 - 6 = 2$$

$$10 - 4 = 6$$

$$9 - 4 = 5$$

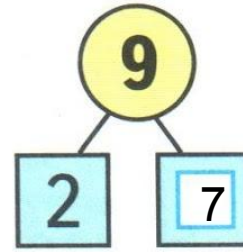
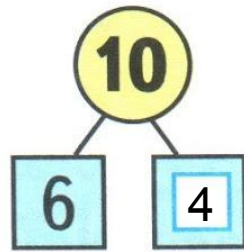
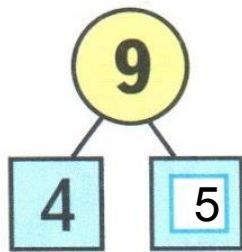
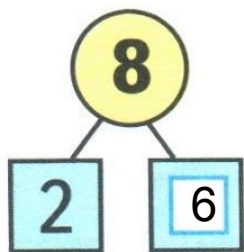
$$8 - 2 = 6$$

- 1 В вазе было ,
а слив на 4 меньше.
Сколько было слив в вазе?

$8 - 4 = 4 \text{ (с.)}$

Ответ: 4 с.

2



3

$8 - 6 = 2$

$9 - 5 = 4$

$10 - 6 = 4$

$8 - 7 = 1$

$9 - 6 = 3$

$10 - 7 = 3$

коне

ц

