

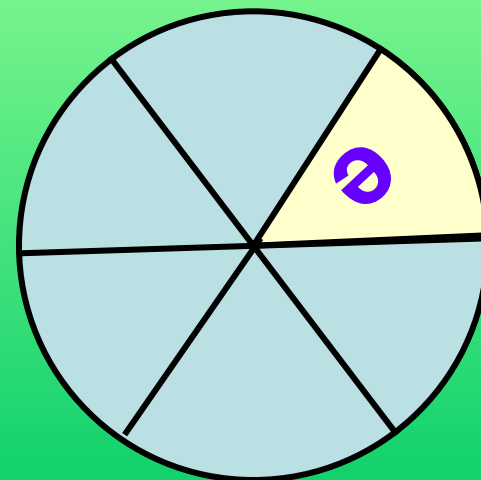
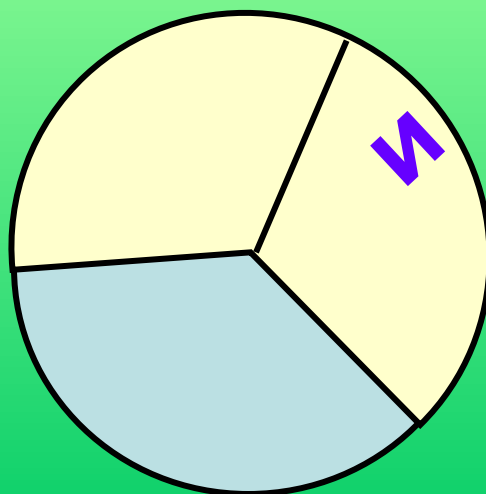
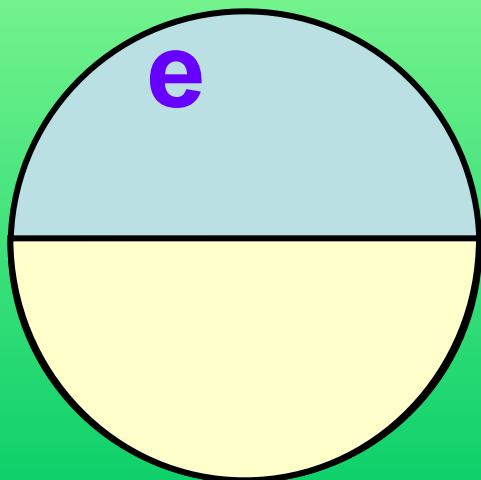
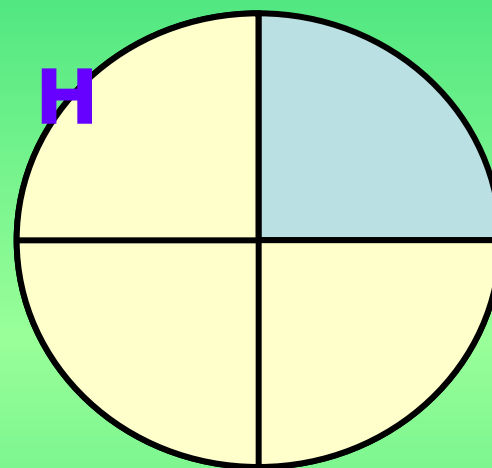
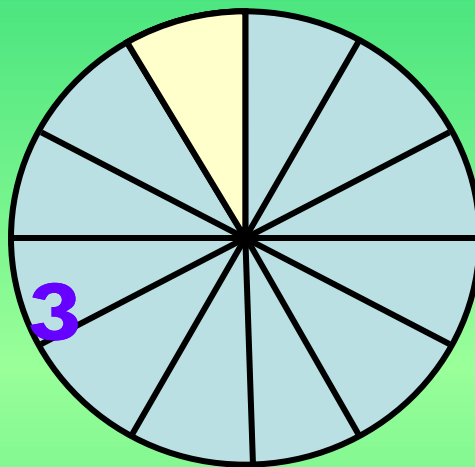
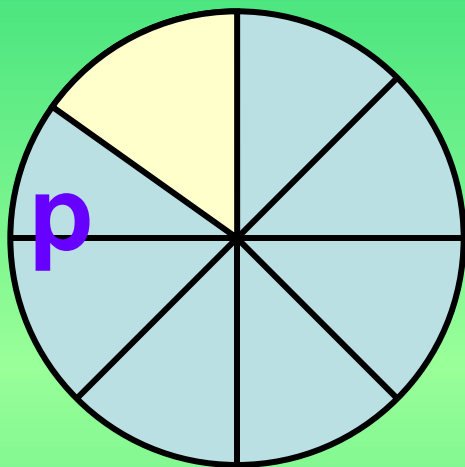
Урок математики


СОХРАНИТЬ



СОХРАНИТЬ

З Р Е Н И Е






Больше всего сведений
об окружающем мире
человек получает
с помощью зрения.



У кого самое острое зрение?



70

20x3



60



90



100



80

Кто лучше всех видит ночью?



7

0

40x2



6

0



9

0



1

0

0



8

0

Кто из животных видит только движущие объекты?



7

0

20x5



6

0



9

0



1

0


0



8

0

У какого животного глаза расположены на специальных антеннах – стебельках, и еще у него есть особый глаз на хвосте?



7
0

30x3



6
0



9
0



1
0
0



8
0

На каждом веке
у человека
насчитывается
по **80** ресниц.



Сколько дней «живет» одна ресничка?
Значение данного выражения
будет ответом на этот вопрос.

$$20 \times 3 + 20 = 100$$

Зрение нужно беречь!

Почему верны равенства:



$$8 \times 3 + 7 \times 3 = (8 + 7) \times 3$$

$$6 \times 8 + 4 \times 8 = 10 \times 8$$

$$17 \times 5 + 3 \times 5 = (17 + 3) \times 5$$

**Замени суммой разрядных
слагаемых**

$$35 = 30 + 5$$

$$29 = 20 + 9$$

$$97 = 90 + 7$$


$$16 = 10 + 6$$

**Умножение
двузначного
числа на
однозначное
23x4**

$$23 \times 4 = (20 + 3) \times 4 =$$

$$80 + 12 = 92$$

$$23 \times 4 = 92$$


$$20 + 3$$

C. 8 № 1

1. Заменю суммой разрядных слагаемых
2. Умножу каждое слагаемое.
3. Сложу результаты.

Самостоятельная работа.

$$23 \times 4 = 92 \text{ з}$$

$$2 \times 45 = 90 \text{ а}$$

$$40 \times 2 = 80 \text{ р}$$

$$7 \times 11 = 77 \text{ я}$$

$$32 \times 2 = 64 \text{ д}$$

$$12 \times 5 = 60 \text{ к}$$

$$15 \times 3 = 45 \text{ а}$$

Зарядка для глаз

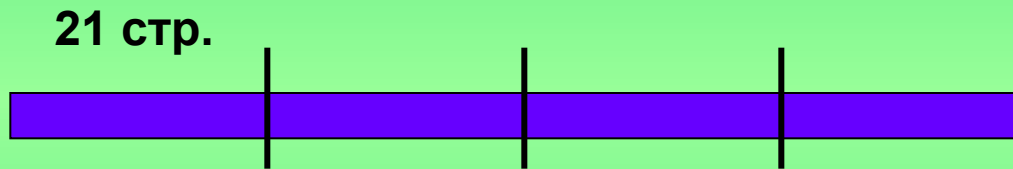


Решение задачи.

Коля прочитал 21 страницу книги,
что составляет четвертую часть
всего её объема.

Сколько страниц в книге?

Сколько страниц осталось прочитать Коле?



$$21 \times 4 = 84 \text{ (стр.)}$$

$$84 - 21 = 63 \text{ (стр.)}$$

Ответ: Коле осталось прочитать 63 страницы.

Нельзя смотреть передачи по телевидению
более

полутора часов.

За компьютером детям вашего возраста
можно заниматься без отрыва

15 минут.

Садиться от экрана телевизора нужно
на расстоянии 2-3 метра.




63

A



0


B



Недостаточное количество
этого витамина
укрепляет кровеносные
сосуды глаза
зрение в старости?


C

16



1

E




Этот овощ богатейший источник каротина

Прекрасно питает и укрепляет глаза,
помогает предотвратить близорукость.

Морковь – 0

Репка – 1



Свекла - 62

Капуста – 26

Установлено,

что эта ягода исключительно полезна для глаз:
она обеспечивает хорошее кровоснабжение глаз,
снижает утомляемость.

Черника – 0

Малина – 1

Земляника - 62


Смородина – 26



Определите «на глаз»!




3 см.



8 см.

4 см.



6 см.

Сегодня на уроке

Я научился.....

Было интересно...

Было трудно...

Я понял, что...

*Я бы хотел рассказать другу,
которого не было на нашем уроке о...*