

# Ознайомлення з дробами



$$\frac{2}{100}$$

$$\frac{4}{4}$$

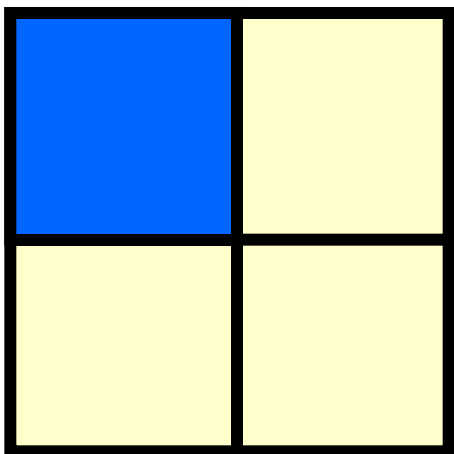
$$\frac{3}{1}$$

$$\frac{7}{2}$$

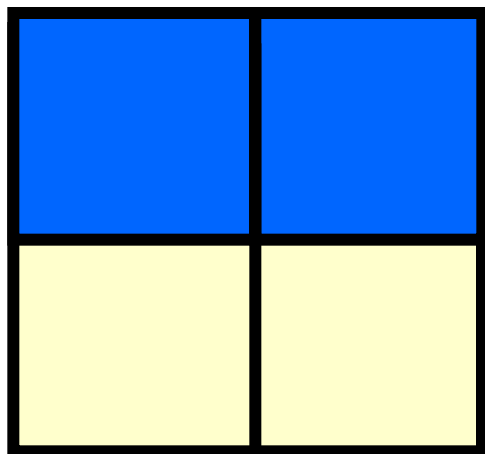


## Порівняти частини

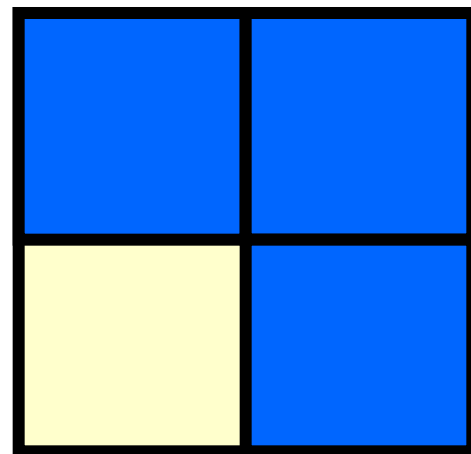
$$\frac{1}{8} \text{ і } \frac{1}{6}, \quad \frac{1}{2} \text{ і } \frac{1}{5}, \quad \frac{1}{10} \text{ і } \frac{1}{20} .$$



$$\frac{1}{4}$$

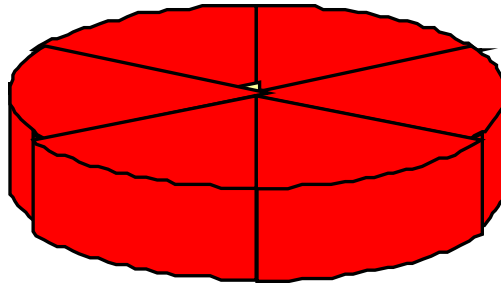


$$\frac{2}{4}$$



$$\frac{3}{4}$$

Мишенята прикотили головку сиру  
и стали його ділити.



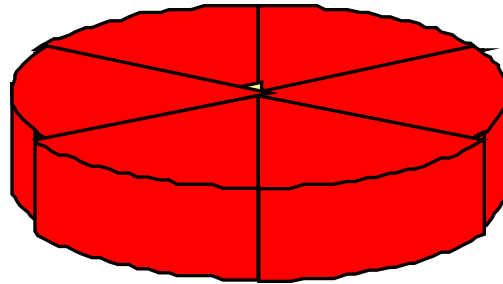
На скільки частин розділили сир?



6





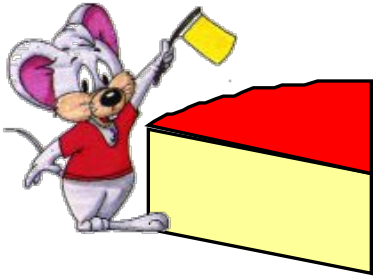
Кожна мишка взяла 1 шматочок сиру.



$$\frac{1}{6}$$


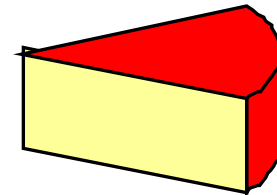
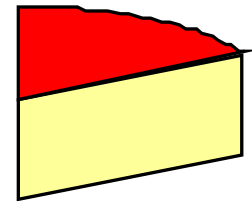


Раптом прибіг кіт  
і вкрав 2 шматки сиру

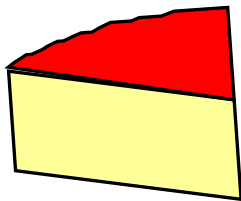


$$\frac{2}{6}$$

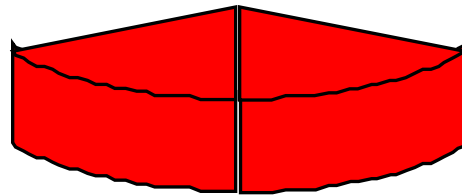
(дві шості)



Яку частину отримало кожне  
мишеня і кіт



$$\frac{1}{6}$$






$$\frac{2}{6}$$



У мишенят залишилось

4 шматки з шести



$$\frac{4}{6}$$

(чотири шості)



Розділіть шоколадку на 5 рівних частин



# Числа виду

$$\frac{1}{5} \quad \frac{3}{5} \quad \frac{5}{6} \quad \frac{2}{8}$$

- це дробові числа

## Чисельник дробу

Показує скільки взято рівних частин

$$\frac{3}{5}$$

## Чисельник дробу

Показує скільки взято  
рівних частин

## Знаменник дробу


Показує на скільки  
рівних частин  
поділено ціле

- Щоб запам'ятати, де чисельник, а де знаменник, є така асоціація: знаменник значить "знизу", тому легко запам'ятати, що **знаменник** завжди пишеться **знизу**, а **чисельник** – **вгорі**.



# ЗАДАЧА

У магазин привезли 420 кг картоплі.  
Шосту частину картоплі продали.



Запишіть дроби в порядку зростання і  
дізнайтесь, яка тварина найшвидша

$$\frac{1}{10}$$

Е

$$\frac{1}{2}$$

Д

$$\frac{1}{5}$$

А

$$\frac{1}{3}$$

Р

$$\frac{1}{8}$$

П

$$\frac{1}{12}$$

Г