

«Своя игра»

для учеников 7
класса

Подготовила учитель математики
АСОШ №1 Ханчич С.В.

1. Часть прямой, ограниченная двумя точками.
2. Самое маленькое простое число.
3. Лестница состоит из семи ступеней. На какую нужно встать, чтобы быть посередине?
4. Как называется сотая часть числа?
5. Соединяет вершину треугольника с серединой противоположной стороны
6. Дайте другое название целым положительным числам.
7. Мотоциклист ехал в поселок. По дороге он встретил три легковые машины и грузовик. Сколько всего машин шло в этот поселок?
8. У меня было 3 целых яблока, 4 половинки и 8 четвертинок. Сколько было яблок?

- 1. Три числа перед тобою 1234 , 567 , 890 поражают красотой. Ты быстрее подбери то, что делится на три.**
- 2. Какое наименьшее натуральное число оканчивается мягким знаком?**
- 3. Папа был в командировке с 3 по 9 августа. Сколько дней был в командировке папа?**
- 4. Как называются стороны равнобедренного треугольника?**
- 5. Часы с боем отбивают один удар за 1 с. Сколько времени потребуется часам, чтобы они отбили 12 ч?**
- 6. Четыре яблока, не разрезая их, нужно разделить между тремя друзьями так, чтобы никто из них не получил больше, чем остальные. Как это сделать?**
- 7. Сколько тупых углов в прямоугольнике?**
- 8. В одной семье два отца и два сына. Сколько это человек?**

**Простые
вопросы**

**Линии и
фигуры**

Вычисли

Ребусы

**Весёлые
вопросы**

100

100

100

100

100

200

200

200

200

200

300

300

300

300

300

400

400

400

400

400

500

500

500

500

500

2^2 будет 4, 3^2 будет 9.

А чему равен угол в квадрате?

90 градусов



**Мальчик упал с 4 ступенек
и сломал ногу.**

**Сколько ног сломает мальчик,
если упадет с 40 ступенек?**

2 ногу



Почему провода линий электропередач туго не натягивают ?

При понижении температуры
расстояние между молекулами
уменьшается, а значит уменьшается и длина проводов.
Если они будут туго натянуты,
то при сильном морозе провода порвутся.



**«Школьный гений» отыскал правильную дробь, которая больше 1, но держит свое «открытие в секрете».
Почему?**

Такой дроби нет



Когда младенца Кузю поцарапала кошка, он орал 5 минут, когда его укусила оса, он орал на 3 минуты больше, но когда собственная мать набросилась на него и начала мыть с мылом, Кузя орал в два раза дольше, чем после укуса осы. Мама мыла Кузю 11 минут. Сколько орал уже вымытый Кузя?

5 минут




Вопрос

Категория2 за
100


Ответ



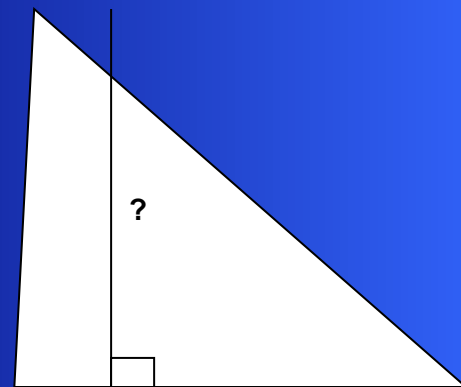
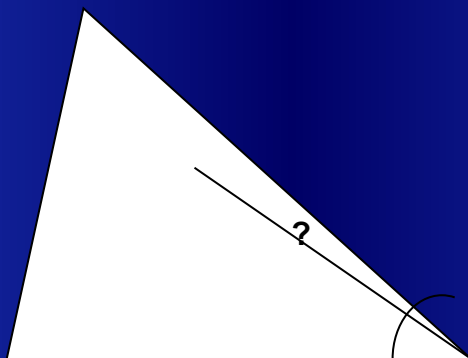

Сколько треугольников
на чертеже?



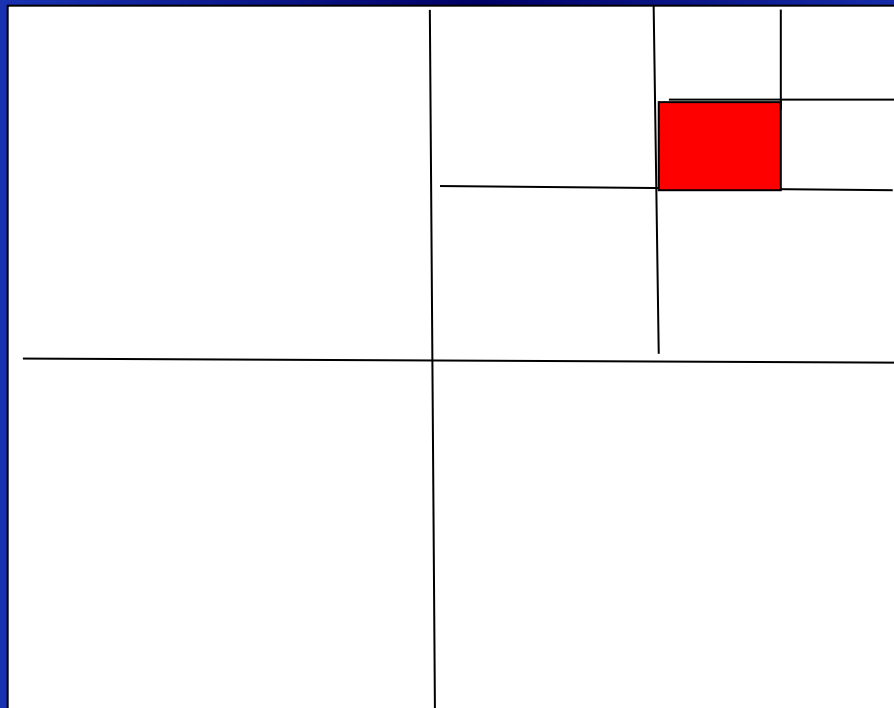
12




**Сформулируйте определение элемента,
около которого поставлен вопрос.**



Какая часть квадрата закрашена?



1
64



Нарисуйте по координатам ?

(4; -0,5)	(-9; 11)	(-3; 2)
(6,5; -2)	(-13; 10)	(1; 4,5)
(-2; -3)	(-17; 11)	(7,5; 3)
(-10,5; 4)	(-12,5; 7,5)	(6,5; -2)
(-12,5; 7,5)	(-10,5 ;4)	глаз: (4; 2)

Кит




Выполни умножение:

$$\frac{27 \cdot 9^2}{3^4 \cdot 3^2}$$

3

Выполни умножение:

$$\frac{1}{3}x^2y(-12xy^3)$$



Выполни вычитание:

$$(3x+1) - (-3x^2-3x+1)$$



Вопрос

Категория 3 за
400

Ответ



Вопрос


Категория 3 за
500

Ответ





Задача



ИграZa.ru ИграZa.ru ИграZa.ru

МИ

ИграZa.ru ИграZa.ru ИграZa.ru




О=У

Минус






Конус





Вектор



Вопрос

Категория 4 за
500

Ответ



Число и нота рядом с ним,
Да букву припиши согласную.
А в целом мастер - есть один,
Он мебель делает прекрасную.

Столяр




Два брюшка, четыре ушка.

Подушка



Пять чуланов, а ход один.

Перчатка



Он грызун, но очень мелкий
И только чуть побольше белки.

А заменишь «у» на «о»,
Будет круглое число.

Сурок - сорок



Вопрос

Категория 5 за
500

Ответ

