


# ВЕСЕЛАЯ МАТЕМАТИКА



вперед

# СОДЕРЖАНИЕ

Загадки 1 2 3 4 5 6 7

Задачи 1 2 3 4 5 6 7 8 9 10 11  
12 13 14 15

Ребусы 1 2 3

Шёл Кондрат в Ленинград, а  
навстречу ему пять ребят.  
Сколько ребят шли в Ленинград?

**НИСКОЛЬКО**



назад

ответ

вперед

У Змея Тугарина – одна голова, а у  
Змея Горыныча целых 3. На сколько  
голов Змей Горыныч умнее Змея  
Тугарина?

**НА 2 ГОЛОВЫ**



назад

ответ

вперед

**Сестре 4 года, а брату 6 лет.  
Сколько лет будет брату, когда сестре  
исполнится 6 лет?**



**Ответ: 8 лет**

назад

ответ

вперед

В комнате 4 угла. В каждом углу сидит кошка.  
Против каждой кошки сидят по 3 кошки.  
Сколько всего кошек в комнате?

**всего 4 кошки**



назад

ответ

вперед

**В комнате горело 50 свечей, 20  
свечей задули. Сколько осталось  
свечей?**



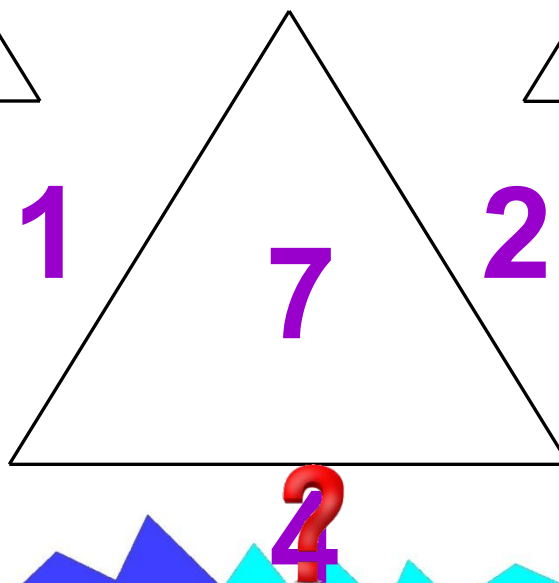
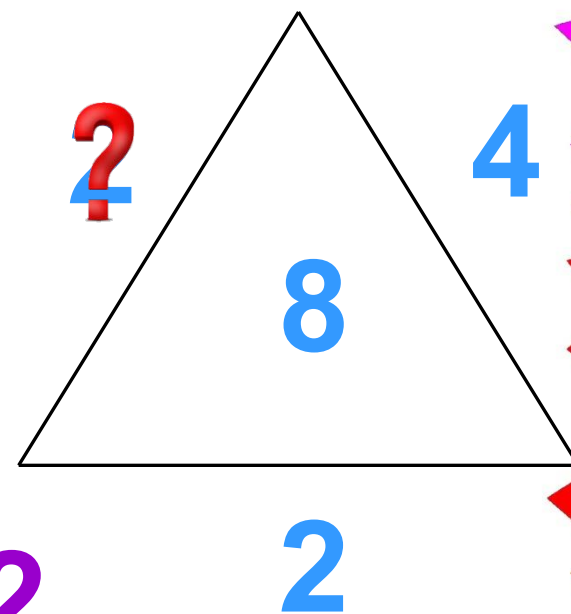

**20 свечей  
остальные сгорели**

назад

ответ

вперед

Дополни каждый треугольник,  
зная, что внутреннее число  
является суммой трёх чисел.



назад

вперед



Посмотрите внимательно на первое  
и второе поле и узнайте, какое слово  
зашифровано?

4		9
	3	
1	10	7

Г		К
	О	
Л	А	И

**ЛОГИКА**

назад

ответ

вперед

Посчитай, сколько раз  
этот фрагмент повторяется в таблице.  
Ищи его по всем направлениям.

?

?

?

?

?










назад

вперед

Из нарисованных фигур выбери ту,  
которую нужно поставить на  
свободное место.

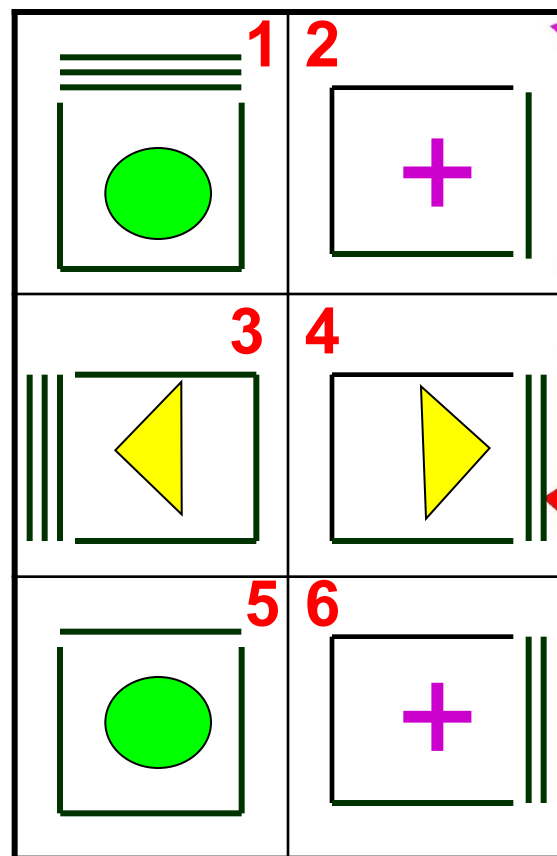
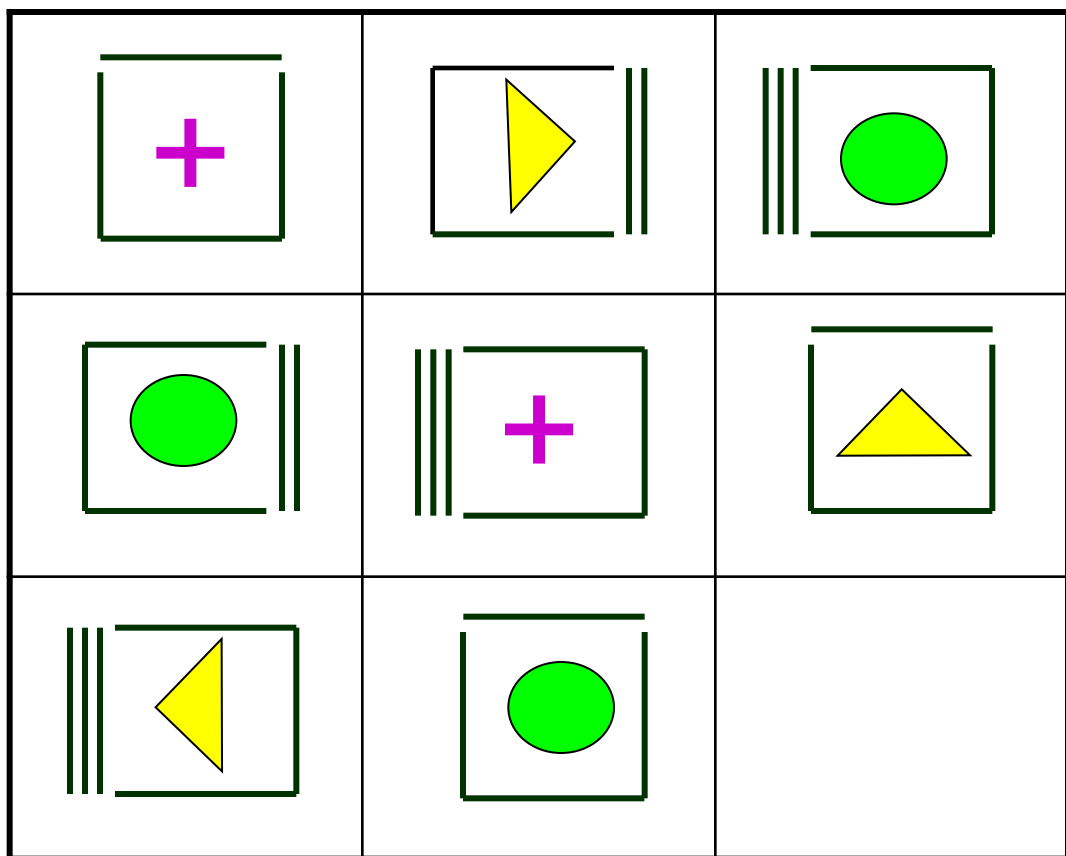



назад

ответ

вперед

Из 6 нарисованных фигур справа  
 выбери ту, которую нужно поставить  
 на свободное место.



назад

ответ

вперед

Среди этих чисел не хватает одного.  
Назовите его?



назад

ответ

вперед

Домик Кролика нарисован 4 раза, а домик Пятачка только один раз. Где домик Пятачка?



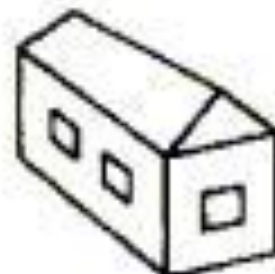
(A)



(B)



(C)



(D)



(E)

назад

ответ

вперед

# Что тяжелее: килограмм ваты или килограмм железа?

1. Железо тяжелее;
2. Вата тяжелее;
3. Железо и вата весят одинаково



назад

ответ

вперед

МИ



О=У

МИ<sup>?</sup>НУС

Редусы

Б=Р



РОМ<sup>?</sup>Б

назад

вперед





и = а

КОЧКА



МОРОЗ

назад

вперед



ЦВЕТОК



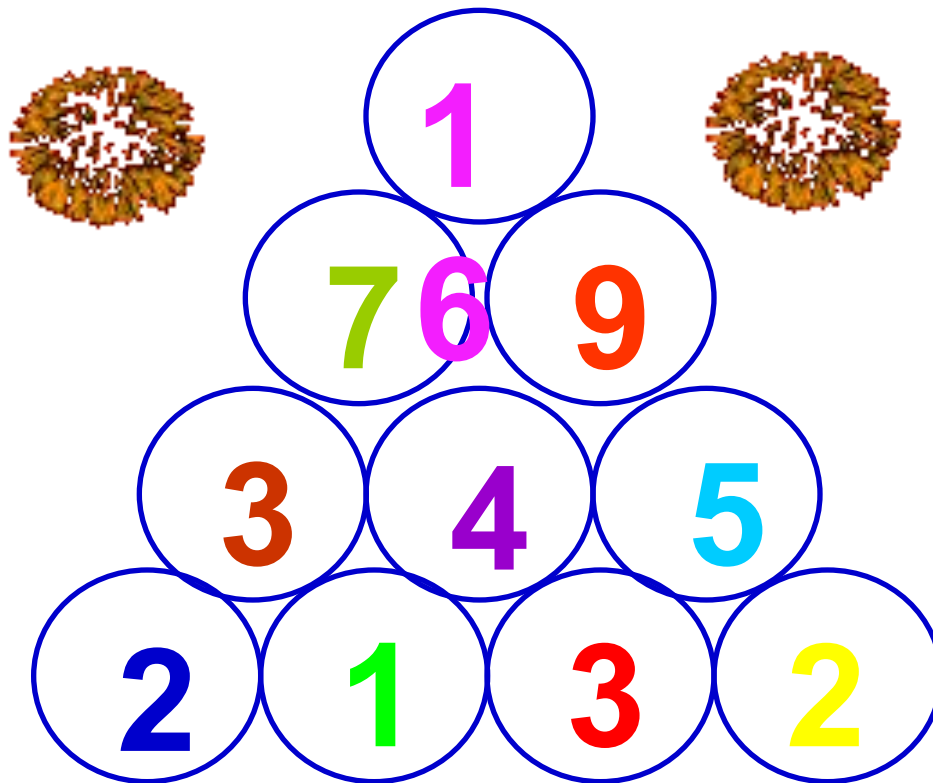
СОЛНЦЕ

назад

вперед

# Математическая пирамида

Задача: сложить два рядом стоящих числа и сумму записать в верхнем кружочке.



назад

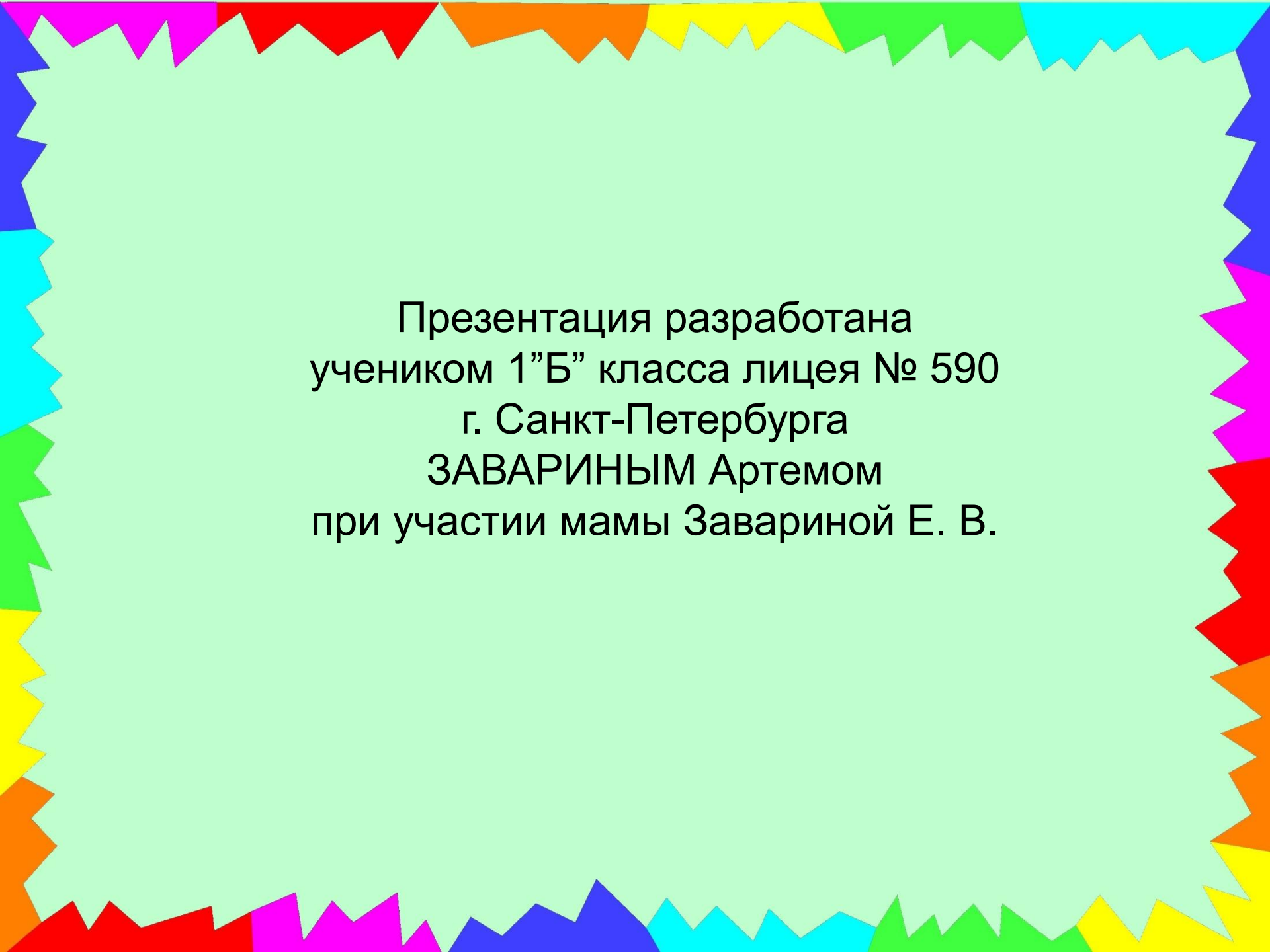
вперед

В пустые клетки впиши цифры,  
чтобы ответы были правильными

9	-	?	-	4	=	2
-		+		-		+
?	-	1	+	?	=	?
=		=		=		=
5	+	4	-	?	=	7

назад

вперед



Презентация разработана  
учеником 1"Б" класса лицея № 590  
г. Санкт-Петербурга  
ЗАВАРИНЫМ Артемом  
при участии мамы Завариной Е. В.