


**Области.**


Это занятие посвящено понятию-  
ОБЛАСТИ.

*Областью называется множество  
точек плоскости, обладающее  
одинаковыми свойствами.*


В этой картинке две области — одна раскрашена синим, а другая — красным (чёрный цвет контура не считается).




В этой картинке три области — они раскрашены синим, красным и жёлтым.



В этой картинке пять областей — они раскрашены синим, красным, жёлтым и зелёным.



В этой картинке одна область — она раскрашена синим.




# Скопируй изображения различных предметов и выполни задания.

Раскрась одну область картинки красным.

Раскрась ещё две области картинки синим.

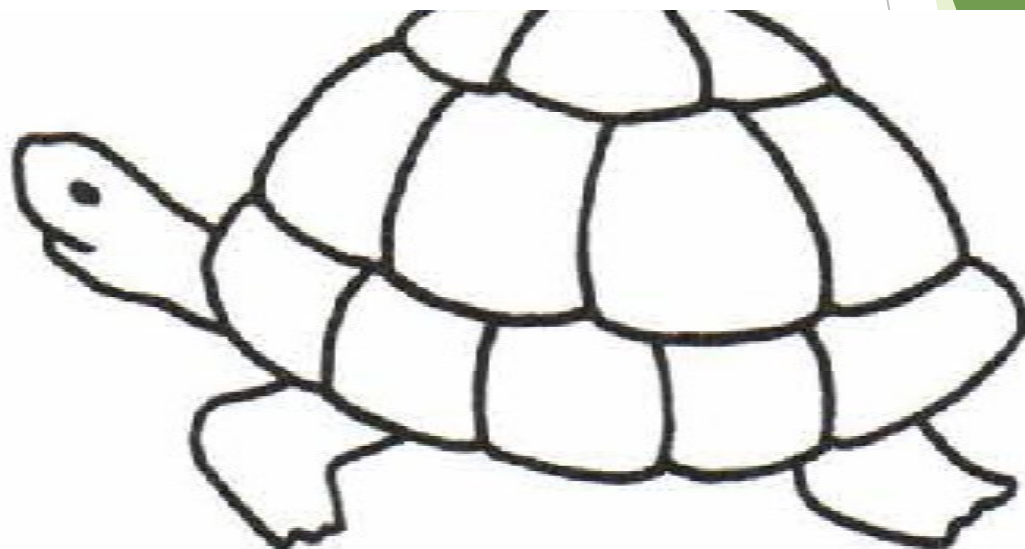
Раскрась ещё две области картинки зелёным.



Раскрась три области картинки красным.

Раскрась ещё четыре области картинки синим.

Раскрась ещё пять областей картинки жёлтым.



Раскрась буквы какими хочешь цветами.

СОЛНЦЕ

Посчитай сколько областей у тебя  
получилось. Отметь цифрой на рисунке.

Если ты выполнил все задания, то  
переходи к тесту: [дневник.ру](http://дневник.ру)->  
приложения-> тестирование. Ждем твои  
рисунки для организации выставки.

**ЖЕЛАЕМ УСПЕХОВ!**