

С Новым Годом!

Путешествие с Колобком к новогодней ёлке



Молчанка



$4-3$

$9-3$

$6+3$

$5-3$

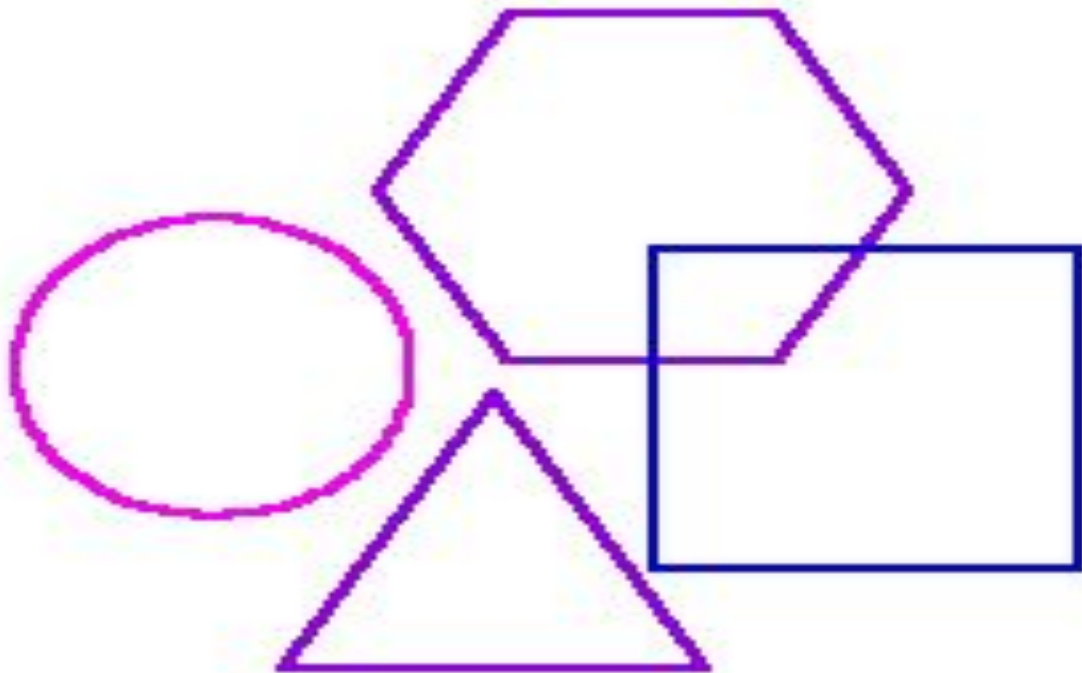
$10-3$


$7+3$

$7-3$

$5+3$

Найди лишнюю






Какая фигура пропущена?





Ёж из сада 8 яблок притащил
Три самых румяных белке подарил.
Белка с радостью подарочек взяла.
Сколько яблок осталось у ежа?



$$8-3=5$$





Пять белочек нарисовала
Рита.

Три белки – брат её Никита.



А вопрос звучит легко:

Сколько белок нарисовано
всего? $5 + 3 = 8$ (б).

Ответ: 8 белок





$$6 + 3 = 9$$

$$6 + 1 + 1 + 1 = 9$$





$$6 + 1 + 2 = 9$$





$$6 + 2 + 1 = 9$$





$$1 + 3 =$$

8

1

$$5 + 3 =$$

4

$$6 + 3 =$$

3

9

4

$$6 - 3 =$$

$$7 - 3 =$$

$$4 - 3 =$$



задача

условие

вопрос

решение

ответ





6

$$\underline{6 - 3}$$

$$6 - 2 - 1 = 3$$

$$\underline{6 - 3}$$


$$6 - 1 - 2 = 3$$



Вычисли:

Уменьши на 3 каждое из этих чисел

7	8	10
4	5	7






Вычисли:

Увеличь на 3 каждое из этих чисел

5	7	6
8	10	9





Ой, ребята!



Спасибо!

