


***Презентація до уроків з теми
«Короткий запис задач»
навчальний зошит 1 клас***



Короткий запис задач, які містять
три ключових слова



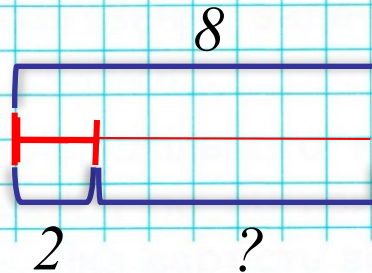
1. Про кого йдеться в задачі? Що відбувалося з птахами? Назви ключові слова. Розглянь короткий запис. Усно розв'яжи задачу.

1) На дереві **було 8** горобців. Від них **полетіли 2** горобці.
Скільки горобців **залишилось** на дереві?

Було - 8 г.

Полетіли - 2 г.


Залишилось - ? г.



$$\begin{array}{r} 8 \quad 2 \quad ? \\ 8 - 2 = 6 \\ \text{Відповідь} \\ 6 \end{array}$$

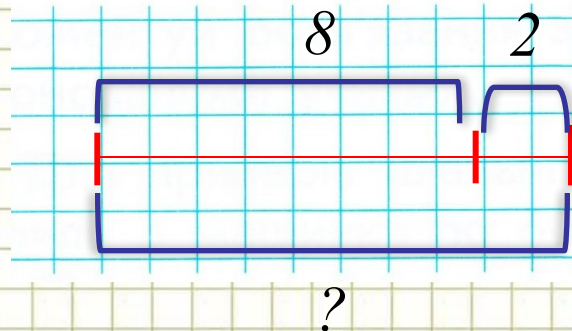
Розв'язання

Відповідь




2) На дереві було 8 горобців. До них прилетіли ще 2 горобці.
Скільки горобців стало на дереві?

Було - 8 г.
Прилетіли - 2 г.
Стало - ? г.



$$\begin{array}{r} 8 \quad 2 \quad ? \\ 8 + 2 = 10 \\ \text{Відповідь} \\ 10 \end{array}$$





Слова, які розкривають, що відбувалося в задачі, —
це **ключові слова**.

Було - 8

Полетіли - 2


Залишилось - ?

Було - 8



Прилетіли - 2

Стало - ?

Короткий запис задачі




2. З'єднай лінією малюнок і відповідний короткий запис.
Заповни порожні клітинки.



Було — тв.
Пішли — тв.
Залишилося — тв.

Було — тв.
Прийшли — тв.
Стало — тв.





Було —
Дав —
Стало — ?

Було —
Взяв —
Залишилось — ?



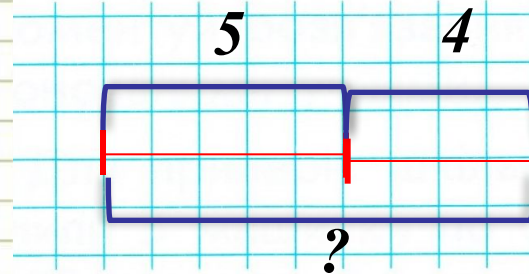
5. Закінчи виконання короткого запису.

1) У Дениса **було 5** кактусів. Дідусь **подарував** йому ще **4** кактуси.
Скільки кактусів стало в хлопчика?


Було - 5 к.

Подарував - 4 к.

Стало - ? к.



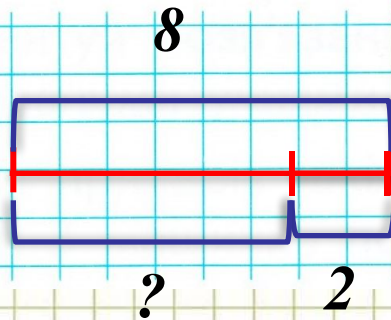
5 4 ?
Розв'язання
 $5 + 4 = 9$
Відповідь
9



2) В Юлі було 8 фіалок. Вона віддала подрузі 2 фіалки.
Скільки фіалок залишилось у Юлі?




Було - 8 ф.
Віддала - 2 ф.
Залишилось - ?



$$\begin{array}{r} 8 \quad 2 \quad ? \\ 8 - 2 = 6 \\ \text{Відповідь} \\ 6 \end{array}$$

Розв'язання

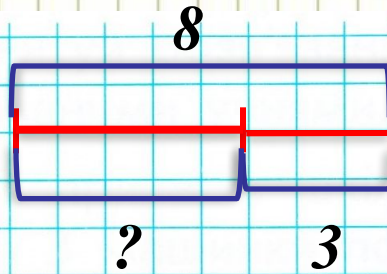


Знаходження невідомих зменшуваного і від'ємника

5. Закінчи виконання короткого запису.


1) У Наталки було **8** цибулин тюльпанів. Вона посадила **3** цибулини.
Скільки цибулин залишилося посадити?

Було – 8 ц.
Посадила – 3 ц.
Залишилося – ?



$$\begin{array}{r} 8 \quad 3 \quad ? \\ 8 - 3 = 5 \\ \text{Відповідь} \\ 5 \end{array}$$

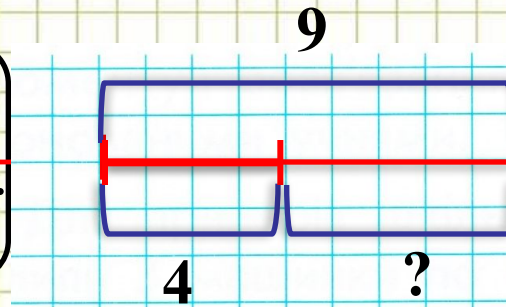
Розв'язання




5. Закінчи виконання короткого запису.

1) На клумбі розцвіло 9 квітів. Із них 4 тюльпани, решта - нарцисів. Скільки нарцисів розцвіло на клумбі?

Тюльпани — 4 кв.
Нарциси — ?



$$\begin{array}{r} 9 \quad 4 \quad ? \\ \text{Розв'язання} \\ 9 - 4 = 5 \\ \text{Відповідь} \\ 9 \end{array}$$



Віднімання чисел 6, 7, 8, 9

6. Постав можливі запитання до умови задачі. До кожної задачі добери короткий запис. Усно розв'яжи задачі.

Тато забив 8 цвяхів, а син – 2 цвяхи.

Тато – 8 цв.

Син – 2 цв.

?


Тато – 8 цв.

Син – 2 цв.

на ?

Тато – 8 цв.

Син – ?, на 2 цв. менше

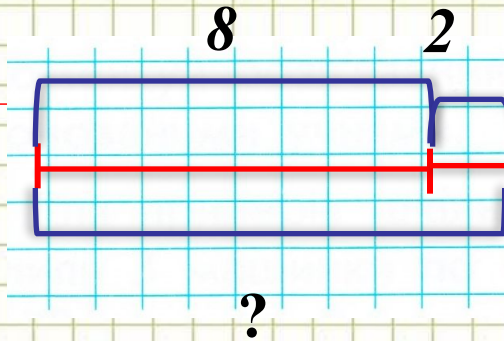


Тато забив 8 цвяхів, а син – 2 цвяхи. Скільки тато і син забили цвяхів разом?


Тато – 8 цв.

Син – 2 цв.

?



$$\begin{array}{r} 8 \quad 2 \quad ? \\ \text{Розв'язання} \\ 8 + 2 = 10 \\ \text{Відповідь} \\ 10 \end{array}$$

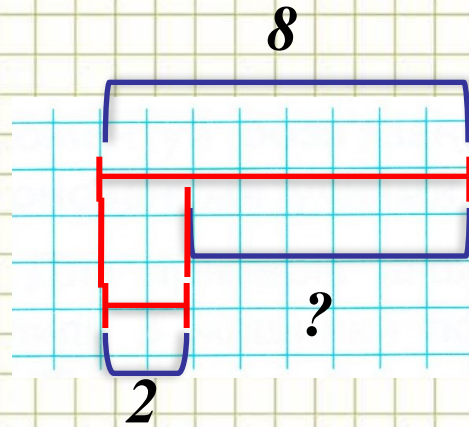


Тато забив 8 цвяхів, а син – 2 цвяхи. **На скільки більше цвяхів забив тато ніж син?**


Тато – 8 цв.

Син – 2 цв.

на ?



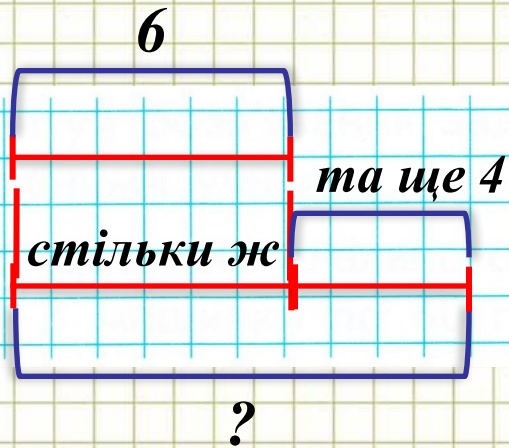
$$\begin{array}{r} 8 \quad 2 \quad ? \\ \text{Розв'язання} \\ 8 - 2 = 6 \\ \text{Відповідь} \\ 6 \end{array}$$




7. Закінчи виконання короткого запису. Розв'яжи задачу.

1) Гончар виліпив із глини **6** глечиків, а мисок на **4** більше.
Скільки мисок виліпив гончар?

Глечики – 6
Миски – ?, на 4 більше

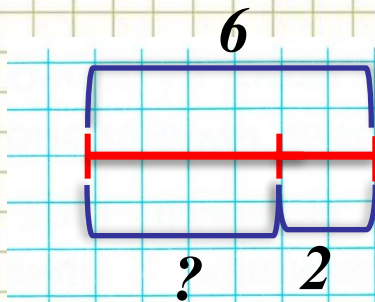


$$\begin{array}{r} 6 \quad 4 \quad ? \\ \text{Розв'язання} \\ 6 + 4 = 10 \\ \text{Відповідь} \\ 10 \end{array}$$




2) У швачки було 6 котушок ниток. 2 котушки вона використала.
Скільки котушок ниток залишилося?

Було — 6 к.
Використала — 2 к.
Залишилося — ?



$$\begin{array}{r} 6 \quad 2 \quad ? \\ \text{Розв'язання} \\ 6 - 2 = 4 \\ \text{Відповідь} \\ 4 \end{array}$$

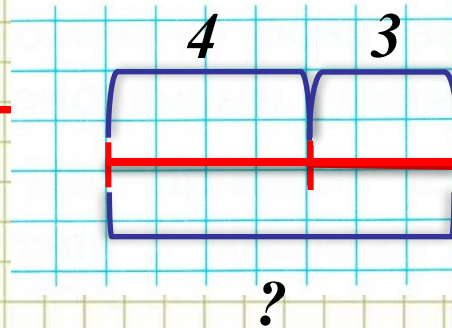


5. Закінчи виконання короткого запису. Розв'яжи задачу.

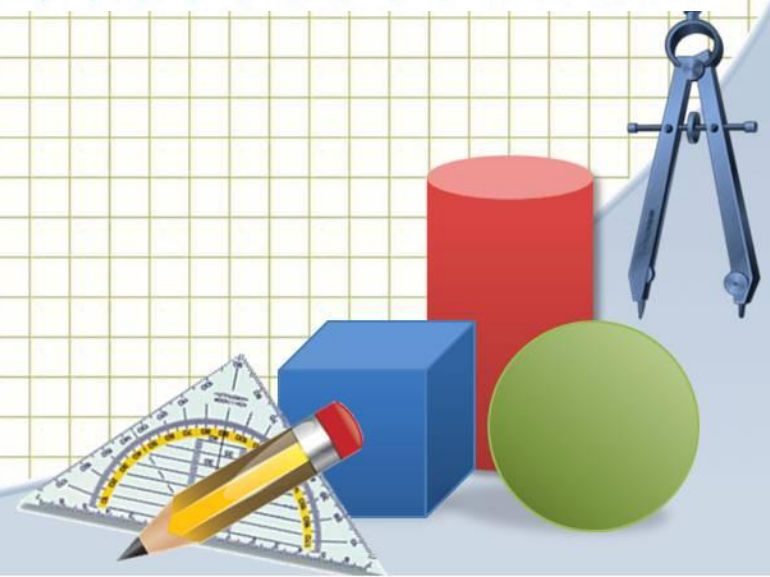


1) У Пяточка **4** повітряні кульки, а у Вінні Пуха – **3**.
Скільки кульок у Пяточка і у Вінні Пуха разом?

П. – 4 к.]
В. – 3 к.] ?



4 3 ?
Розв'язання
 $4 + 3 = 7$
Відповідь
7

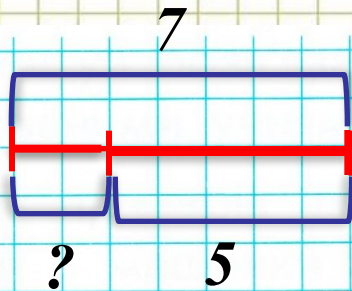


2) У Пятачка і Вінні Пуха було 7 повітряних кульок.
5 кульок вони подарували ослику Іа. Скільки кульок у них залишилося ?


Було - 7 к.

Подарували - 5 к.

Залишилося - ? к.



$$\begin{array}{r} 7 \quad 5 \quad ? \\ \text{Розв'язання} \\ 7 - 5 = 2 \\ \text{Відповідь} \\ 2 \end{array}$$

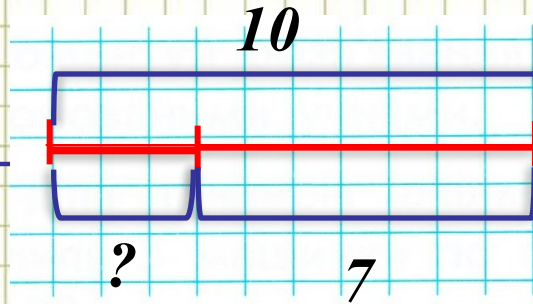


7. Закінчи виконання короткого запису. Розв'яжи задачу.

1) Вадим склав у шафу 10 машинок. 7 машинок він поклав на першу полицю, а решту – на другу. Скільки машинок поставив на другу полицю ?

I п. – 7 м.
II п. – ?

10 м.




$$\begin{array}{r} 10 \quad 7 \quad ? \\ 10 - 7 = 3 \end{array}$$

Розв'язання

Відповідь

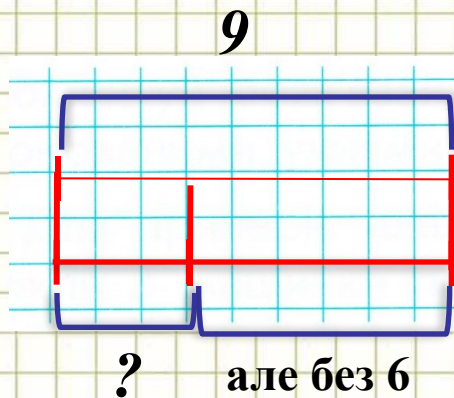
3




2) Ганнуся склала в першу коробочку 9 ляльок, а в другу – на 6 ляльок менше. Скільки ляльок поклала в другу коробку?

I к. – 9 л.

II к. – ?, на 6 л. менше



$$\begin{array}{r} 9 \quad 6 \quad ? \\ \text{Розв'язання} \\ 9 - 6 = 3 \\ \text{Відповідь} \\ 3 \end{array}$$



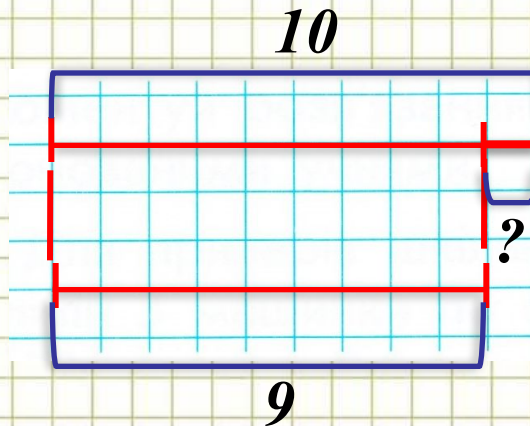
6. Закінчи виконання короткого запису. Розв'яжи задачу.

Іринка вимила 10 чашок і 9 блюдець. На скільки більше чашок, ніж блюдець, вимила дівчинка?

Ч. – 10 шт.

Б. – 9 шт.

на ?




10 9 ?

Розв'язання

$10 - 9 = 1$

Відповідь

1

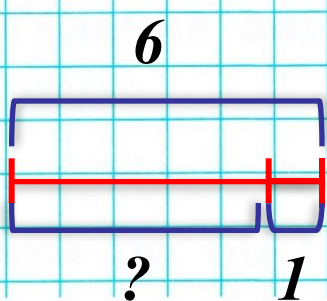


7. Склади задачу за малюнком. Закінчи виконання короткого запису. Розв'яжи задачу.


Було – $\boxed{6}$
Зірвала – $\boxed{1}$
Залишилось – ?



На дереві **було** 6 ягід, сорока **зірвала** 1 ягоду. Скільки ягід залишилося на дереві?



$$\begin{array}{r} 6 \quad 1 \quad ? \\ \text{Розв'язання} \\ 6 - 1 = 5 \\ \text{Відповідь} \\ 5 \end{array}$$

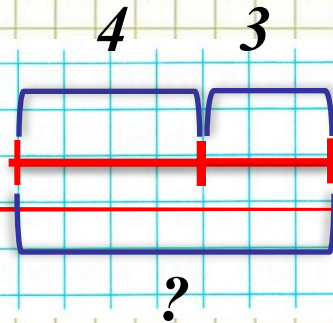


8. Закінчи виконання короткого запису. Розв'яжи задачу.


У кошику лежать **4** пиріжки з вишнями і **3** – з яблуками.
Скільки **всього** пиріжків у кошику?

В. – 4 п.
Я. – 3 п.

?



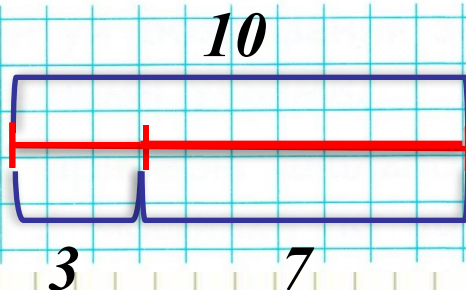
$$\begin{array}{r} 4 \quad 3 \quad ? \\ \text{Розв'язання} \\ 4 + 3 = 7 \\ \text{Відповідь} \\ 7 \end{array}$$




8. Закінчи виконання короткого запису. Розв'яжи задачу.

1) У кухаря Івана було 10 л олії. За день він витратив 3 л.
Скільки літрів олії залишилося у кухаря?

Було – 10 л
Витратив – 3 л
Залишилось – ?



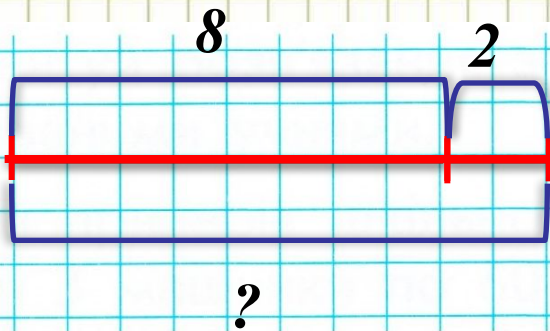
$$\begin{array}{r} 10 \quad 3 \quad ? \\ 10 - 3 = 7 \\ \text{Відповідь} \\ 7 \end{array}$$



2) Тітонька Марія заготувала 8 л томатного соку і 2 л яблучного.
Скільки всього літрів соку заготувала господиня?


Т. – 8 л
Я. – 2 л

?



$$\begin{array}{r} 8 \quad 2 \quad ? \\ \text{Розв'язання} \\ 8 + 2 = 10 \\ \text{Відповідь} \\ 10 \end{array}$$

ВСЬОГО





Короткий запис задачі

1.

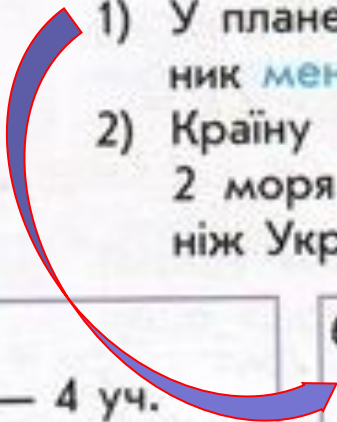
Послухай задачу. Обери до неї короткий запис. Покажи на вкладці опорну схему, яка відповідає задачі.

- 1) У планети Марс 2 супутники, а в Землі **на 1** супутник **менше**. Скільки супутників у планети Земля?
- 2) Країну Італію омивають 5 морів, а Україну — 2 моря. **На скільки більше** морів омивають Італію, ніж Україну?

а)
Було — 4 уч.
Прийшли — 2 уч.
Стало — ?

б)
Марс — 2 с.
Земля — ?, на 1 с. м.

в)
Італія — 5 м.) на ?
Україна — 2 м.



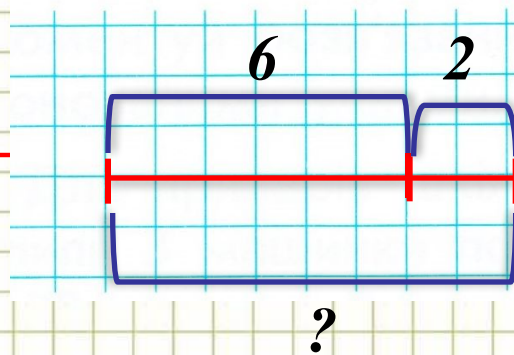
3. Виконай короткий запис задачі. Розв'яжи задачу.

1) Кіт **Кузя** запросив гратися **6** мишей. А кіт **Мурчун** – ще **2**.
всього
Скільки мишей прийшло гратися до котів?


К. – 6 м.

М. – 2 м.

?



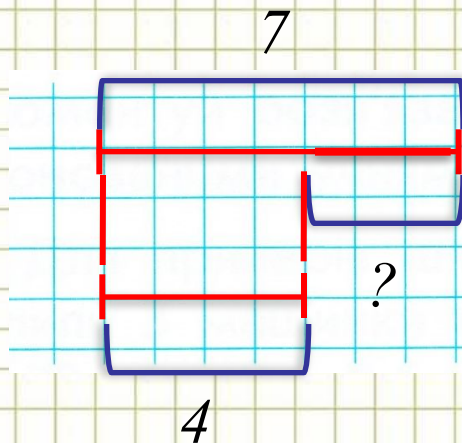
6 2 ?
Розв'язання
 $6 + 2 = 8$
Відповідь
8



2) Пес Рекс приховав 4 кісточки, а пес Матрос – 7. На скільки більше кісточок приховав Матрос?

Р. – 4 к.
М. – 7 к.

на ?



7 4 ?

Розв'язання

$$7 - 4 = 3$$

Відповідь

3

