

**Тема урока:**

**«Перпендикулярные прямые  
в пространстве»**

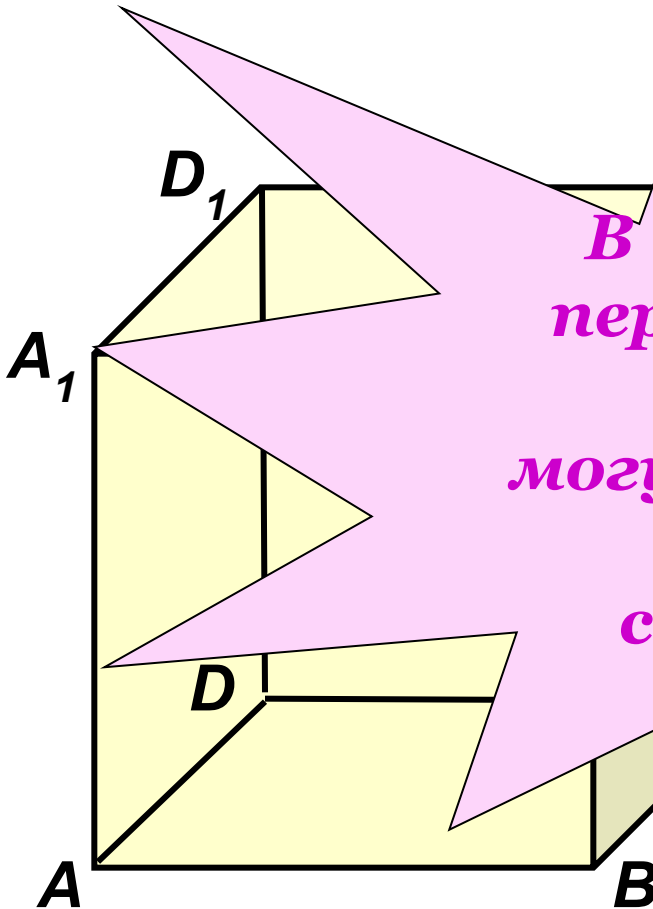
**«Перпендикулярность  
прямой и плоскости»**

# Модель куба.

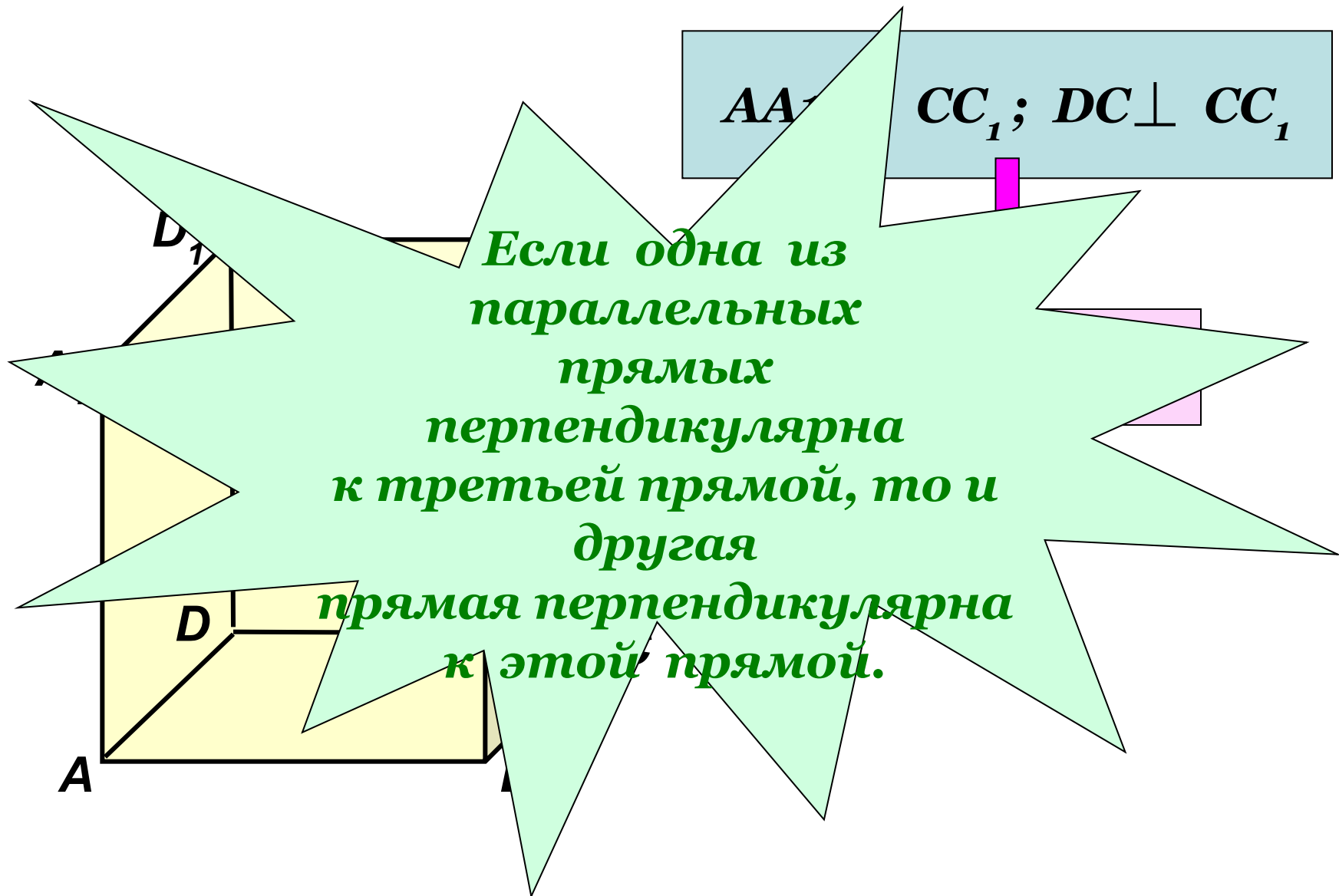
1. Как называются  
прямые  $AB$  и  $BC$ ?

Но какой угол между  
и  $DC$ ;

*В пространстве  
перпендикулярные  
прямые  
могут пересекаться  
и могут  
скрещиваться.*



*Рассмотрим прямые  $AA_1$ ,  $CC_1$  и  $DC$ .*



# Лемма

*Если одна из двух параллельных прямых перпендикулярна к этой прямой, то и другая прямая перпендикулярна к этой прямой*

Дано:  $a \parallel b$  и  $a \perp c$ .

Доказать:  $b \perp c$ .

Доказательство:

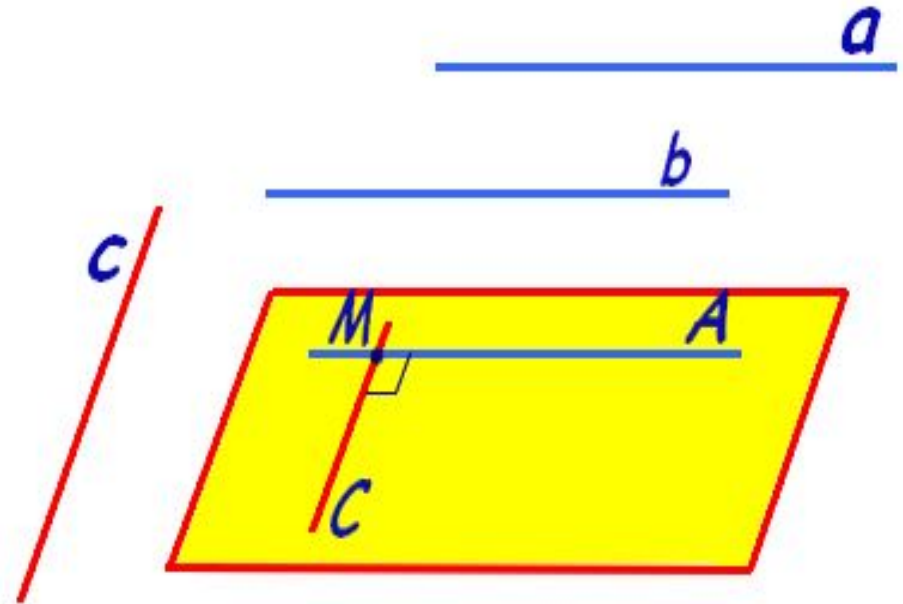
Через произвольную точку  $M$  пространства, не лежащую на данных прямых, проведём прямые  $a$  и  $c$ . Т.к.  $a \perp c$ , то  $\angle AMC = 90^\circ$

Т.к.  $a \parallel b$ ,  $a \parallel MA$ , то  $b \parallel MA$ .

Итак,  $b \parallel MA$ ,  $c \parallel MC$ ,

$\angle AMC = 90^\circ$ , т. е.  $b \perp c$ .

Лемма доказана.



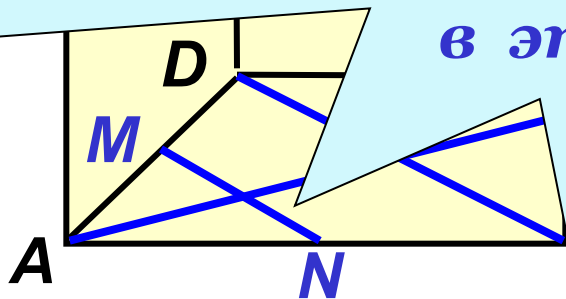
Найдите угол между прямой  $AA_1$  и  
прямыми плоскости  $(ABC)$ :

$AB, AD, AC, BD, N.$

Прямая называется  
перпендикулярной к  
плоскости,  
если она  
перпендикулярна к  
любой прямой, лежащей  
в этой плоскости.

90°

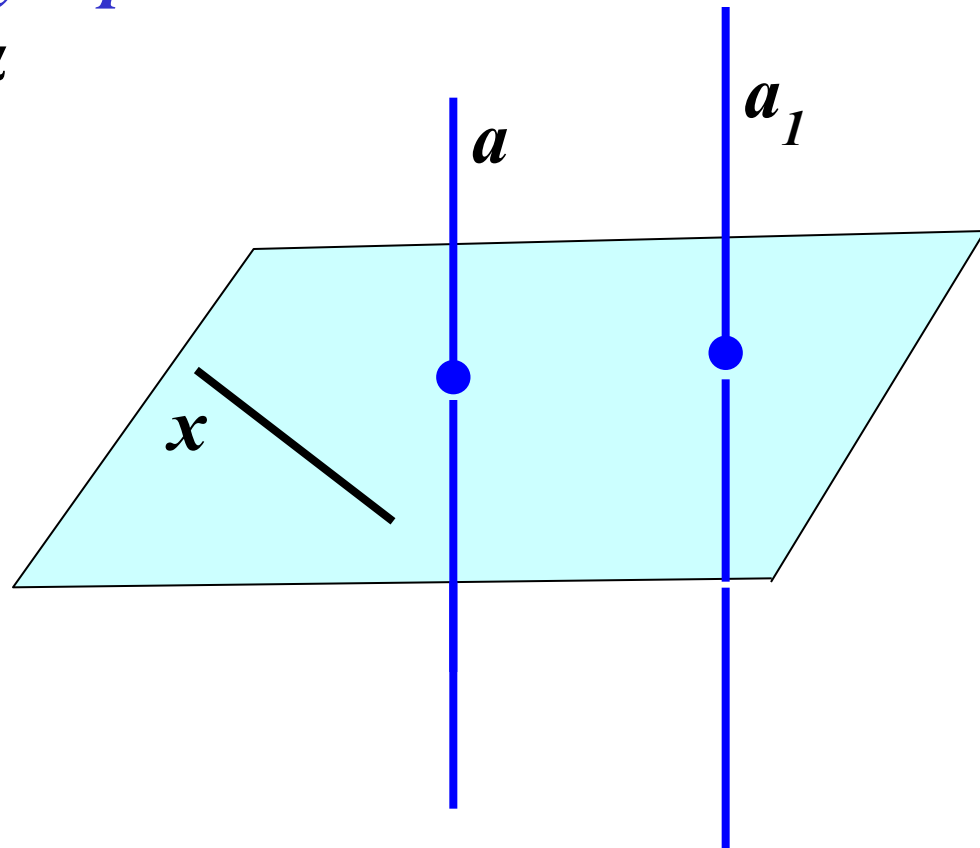
90°



**Теорема:** Если одна из двух параллельных прямых перпендикулярна плоскости, то и другая прямая перпендикулярна к этой плоскости.

**Дано:** прямая  $a$  параллельна прямой  $a_1$  и перпендикулярна плоскости  $\alpha$ .

**Доказать:**  $a_1 \perp \alpha$



**Теорема:** Если одна из двух параллельных прямых перпендикулярна к плоскости, то и другая прямая перпендикулярна к этой плоскости.

*Дано:*  $a \parallel a_1, a \perp \alpha$ .

*Доказать:*  $a_1 \perp \alpha$

*Доказательство:*

Проведем какую-нибудь прямую  $x$  в плоскости  $\alpha$ . Так как  $a$  перпендикулярна  $\alpha$ , то  $a$  перпендикулярна  $x$ . По лемме о перпендикулярности двух параллельных прямых к третьей  $a_1$  перпендикулярна  $x$ . Таким образом, прямая  $a_1$  перпендикулярна к любой прямой, лежащей в плоскости  $\alpha$ , т. е.  $a_1$  перпендикулярна  $\alpha$ . Теорема доказана.

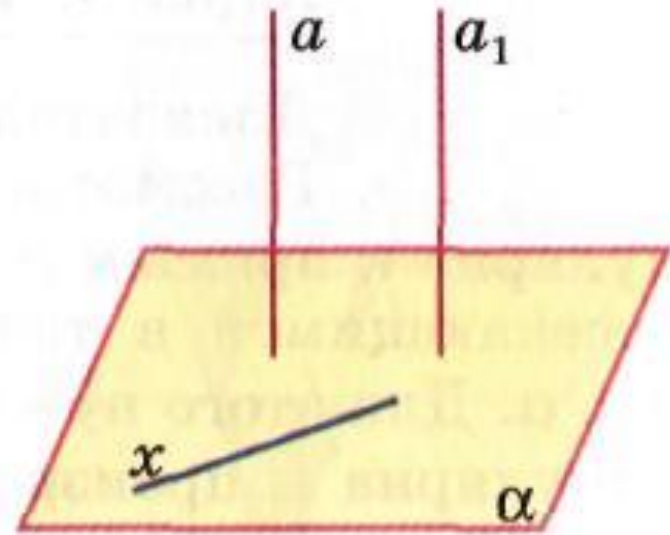
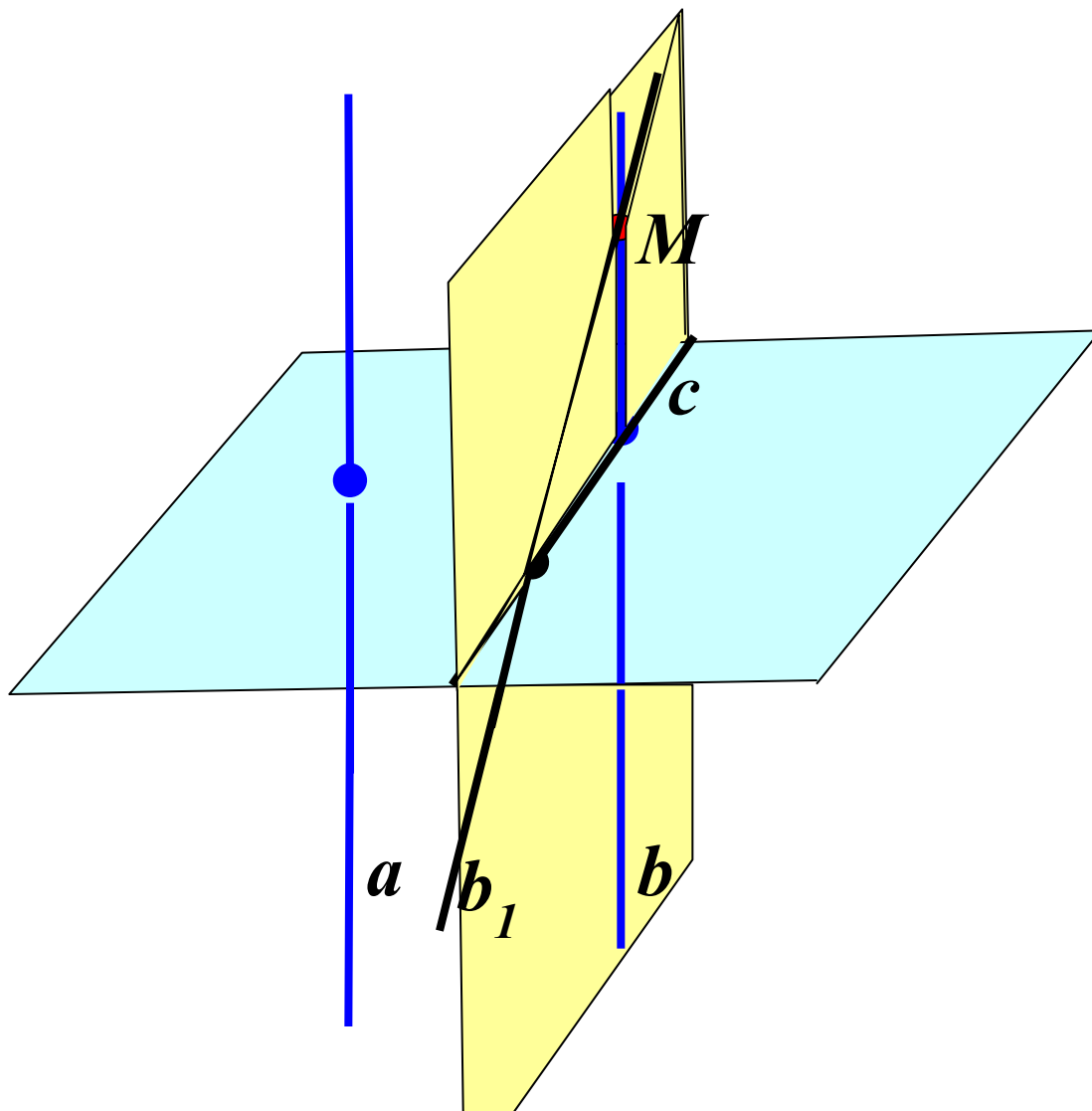


Рис. 46

## **Обратная теорема:**

*Если две прямые перпендикулярны к плоскости, то они параллельны.*





# Теорема: Если две прямые перпендикулярны к плоскости, то они параллельны.

Дано:  $a \perp \alpha, b \perp \alpha$  (а)

Доказать:  $a \parallel b$ .

Доказательство:

Через какую-нибудь точку  $M$  прямой  $b$  проведем прямую  $b_1$ , параллельную прямой  $a$ . По предыдущей теореме  $b_1 \perp \alpha$ . Докажем, что прямая  $b_1$  совпадает с прямой  $b$ . Тем самым будет доказано, что  $a \parallel b$ . Допустим, что прямые  $b$  и  $b_1$  не совпадают. Тогда в плоскости  $\beta$ , содержащей прямые  $b$  и  $b_1$ , через точку  $M$  проходят две прямые, перпендикулярные к прямой  $c$ , по которой пересекаются плоскости  $\alpha$  и  $\beta$  (б). Но это невозможно, следовательно,  $a \parallel b$ . Теорема доказана.

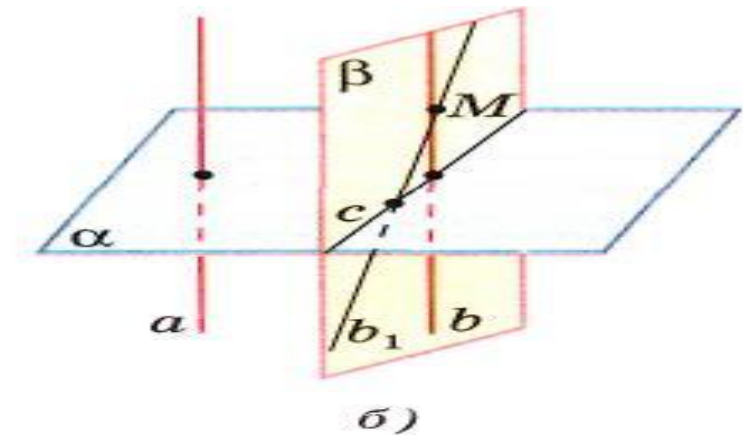
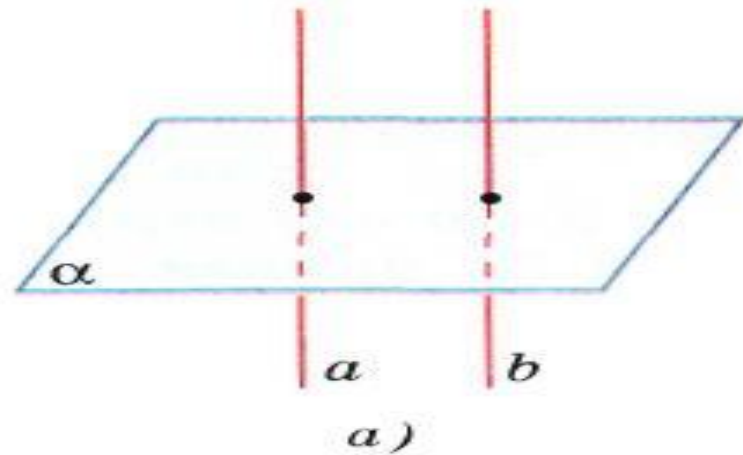


Рис. 47

# Признак перпендикулярности прямой и плоскости.

- Если прямая перпендикулярна к двум пересекающимся прямым, лежащим в плоскости, то она перпендикулярна к этой плоскости.

