

CURSUL 1

CURS INTRODUCATIV

Componente și circuite electronice pasive - CCP

Cuprins

1.1 Concepte de structurare a produselor electronice

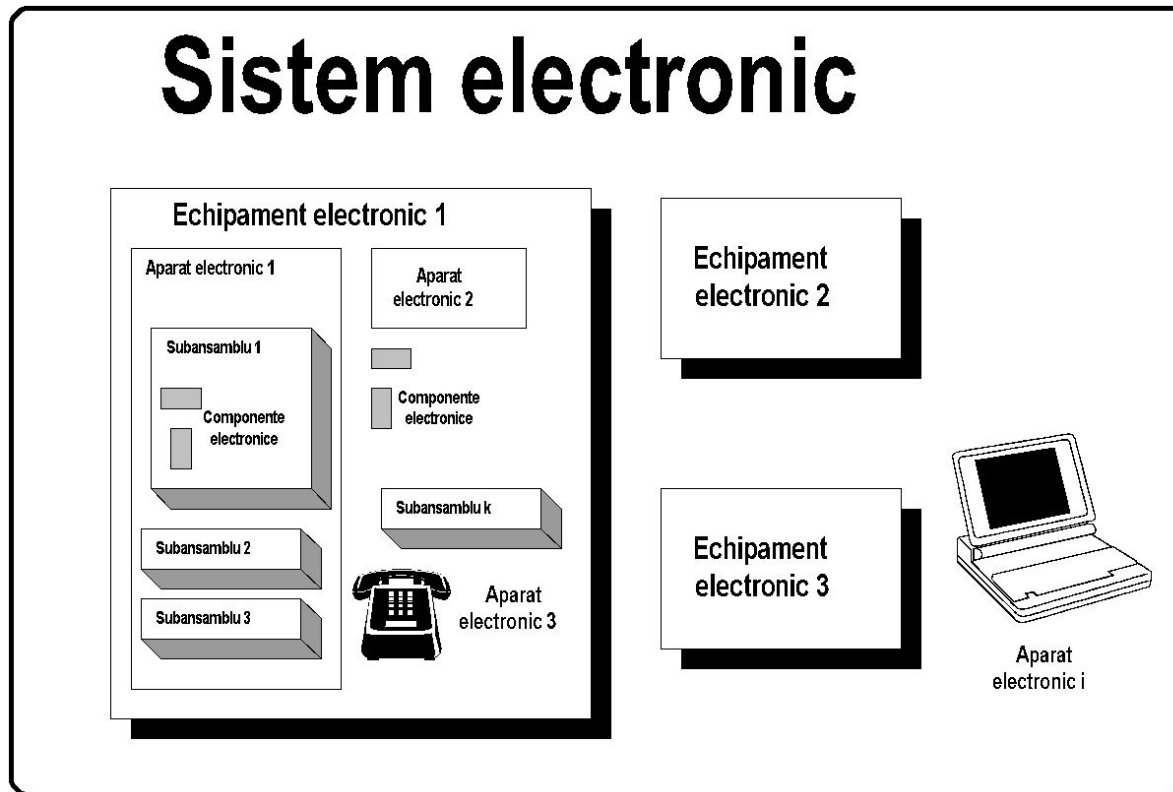
1.2 Relația dintre componenta electronică și elementul de circuit

1.3 Mărimi electrice

1.4 Topologia circuitelor electrice

1.5 Legea lui Ohm

Structurarea produselor

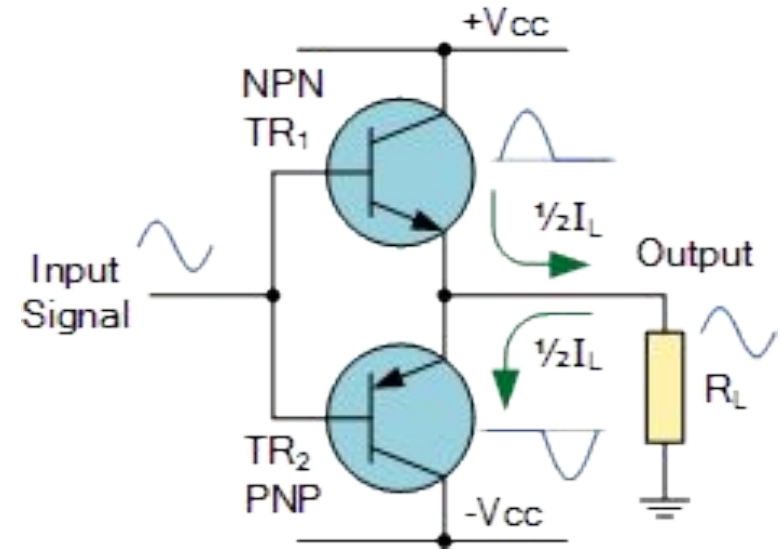
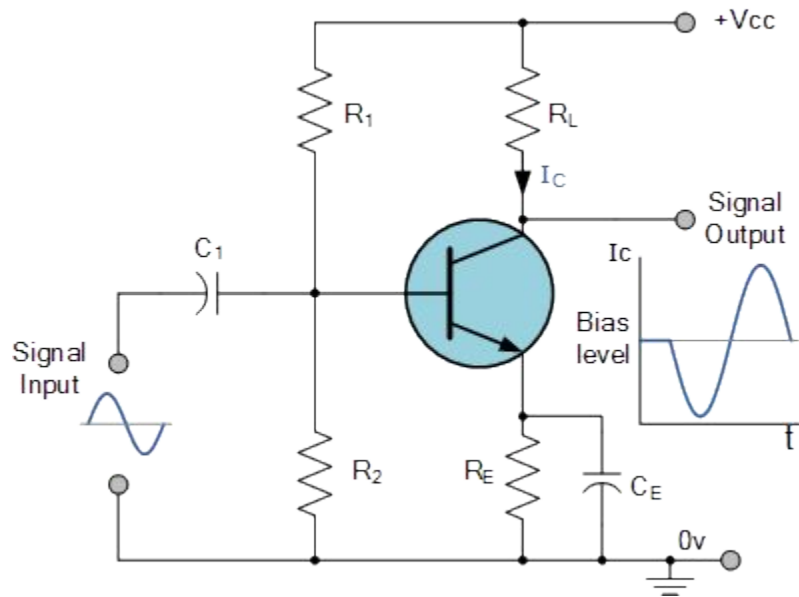


Componente pasive și active

Componentele pasive nu permit, numai prin funcționalitatea lor, transformarea energiei de curent continuu în energie de curent alternativ. Ca o consecință cu ele nu se poate realiza amplificarea în putere a semnalelor variabile. *Exemple de componente pasive: rezistorul, condensatorul, bobina, dioda, etc.*

Componentele active permit transformarea energiei de curent continuu în energie de curent alternativ. Această proprietate permite să se obțină amplificarea semnalelor variabile în putere. *Exemple: tranzistoare, tiristoare, etc.*

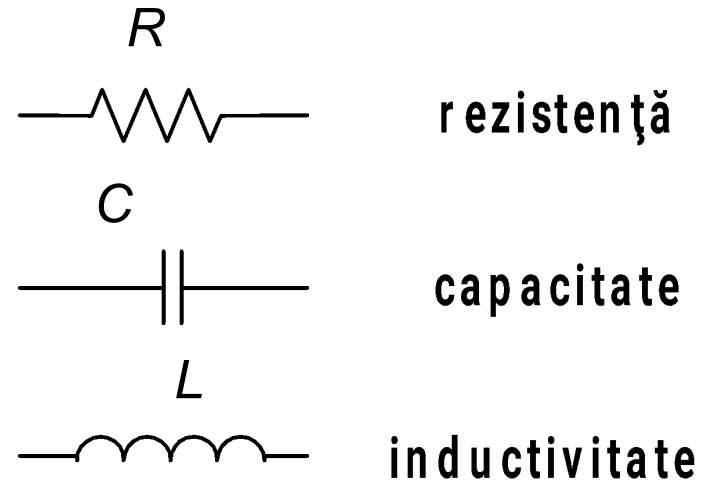
Componente pasive și active



Componenta electronică și elementul de circuit


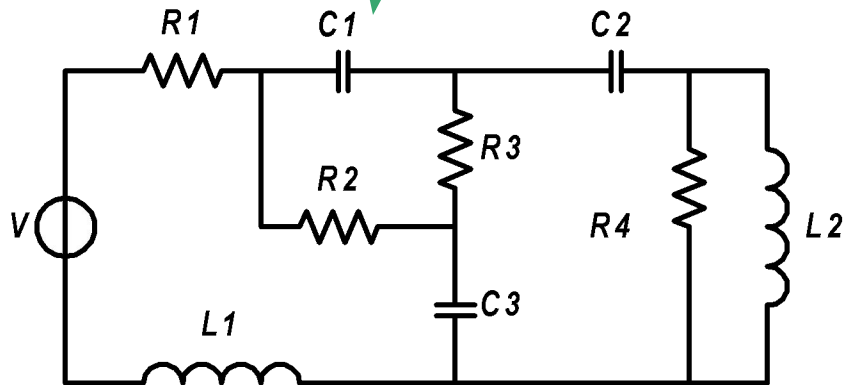
Elementul de circuit este o abstractizare care oglindește o singură proprietate electrică. *Exemple: rezistență, capacitate, inductivitate, etc.*

Această proprietate poate fi sugerată prin simboluri electrice standardizate, însoțite de numele variabilei care caracterizează proprietatea respectivă (R, C, L).



Relația dintre componenta electronică și elementul de circuit

Elemente de circuit



Componente electronice

Mărimi electrice

Tensiunea electrică reprezintă diferența de potențial electric dintre două puncte. Se măsoară în volți [V]. Notății: u sau v . Tensiunea apare între bornele componentelor.

Curentul electric reprezintă o deplasare ordonată a sarcinilor electrice. Se măsoară în amperi [A]. Un curent de 1 A reprezintă transferul unei sarcini de un coulomb prin secțiunea conductorului pe durata unei secunde. Se notează cu i . Curentul curge, trece, prin bornele componentelor.

Curentul electric apare numai prin materialele care au proprietăți conductoare.

Într-un circuit apare curent numai dacă există o cale conductoare închisă (buclă).

Mărimi electrice

Produsul dintre tensiune și curent reprezintă putere (electrică). Se măsoară în wați [W].

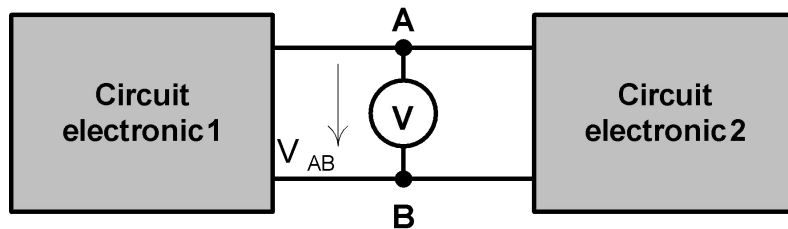
Puterea furnizată sau consumată de un circuit în unitatea de timp reprezintă energie electrică. Se măsoară în jouli [J]. În măsurarea energiei furnizate de rețeaua electrică se folosește unitatea [kW · h].

Pentru informații suplimentare consultați:

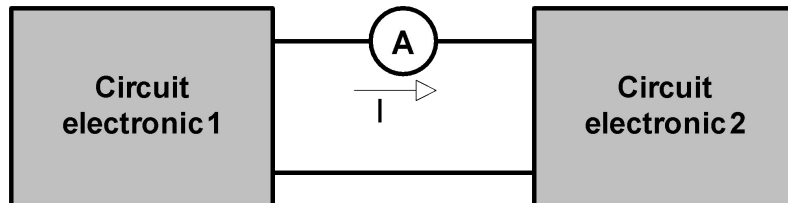
<http://scienceworld.wolfram.com/>

<http://www.megaconverter.com/Mega2/>

Măsurarea mărimilor electrice



Folosirea unui voltmetru pentru măsurarea tensiunii între punctele AB



Folosirea unui ampermetru pentru măsurarea curentului ce parcurge traseul dintre cele doua circuite

Sensurile convenționale pentru tensiune și curent

Sensul convențional al tensiunii electrice dintre două puncte este sensul orientat de la punctul de potențial mai ridicat spre punctul de potențial mai scăzut.

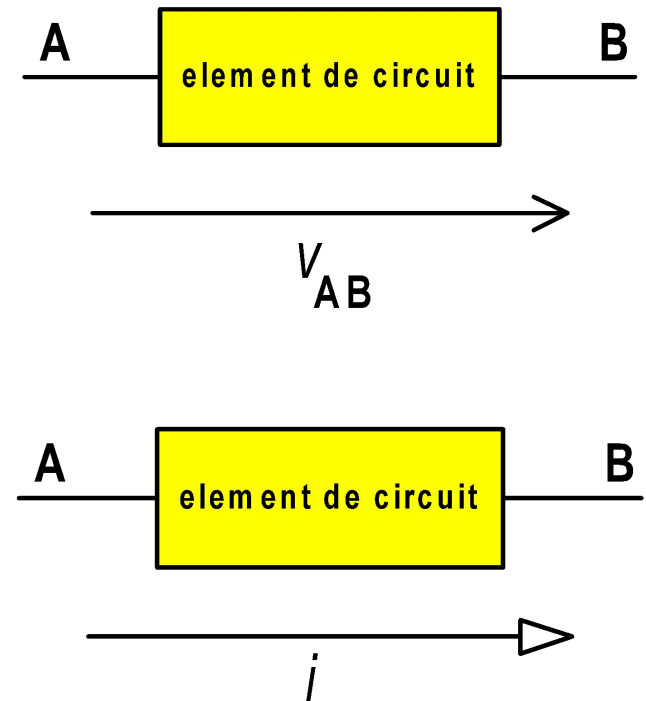
Sensul convențional al curentului electric este sensul mișcării ordonate a unor purtători mobili de sarcină electrică pozitivă care ar produce același efect ca mișcarea purtătorilor mobili care formează de fapt curentul electric considerat.

Sensuri pozitive arbitrare pentru tensiune și curent

Înainte de analiza unui circuit nu cunoaștem sensurile convenționale ale tensiunilor și curenților.

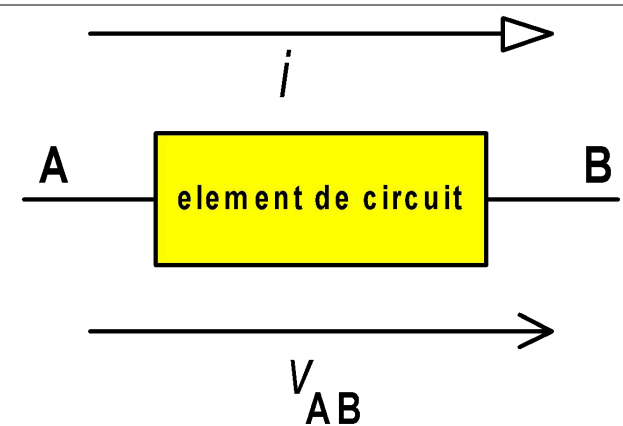

De aceea, înaintea scrierii relațiilor ce descriu funcționarea lui, se fixează pentru fiecare element de circuit un **sens pozitiv arbitrar ales** pentru curent și un **sens pozitiv arbitrar ales** pentru tensiunile dintre două puncte.

Aceste sensuri se figurează prin săgeți distincte ca în figura alăturată.

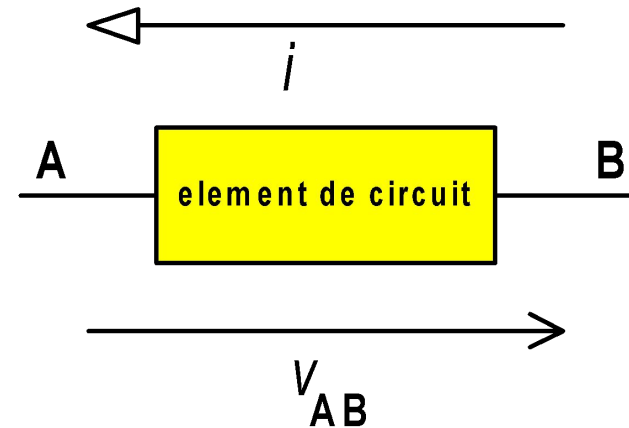



Asocierea sensurilor pozitive arbitrare

Convenția circuitelor receptoare sau consumatoare



Convenția circuitelor generatoare



Circuit generator și circuit receptor

Dacă asocierea care se face corespunde funcționării reale a elementului de circuit atunci puterea calculată la bornele elementului este pozitivă ceea ce înseamnă că circuitul generator cedează sau debitează putere electrică, iar circuitul receptor absoarbe sau consumă putere. (*De exemplu, este evident că în cazul unei rezistențe această putere poate fi numai consumată*).

$$p(t) = v(t) \cdot i(t)$$

Puterea instantanee

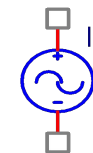
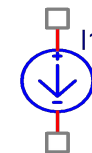
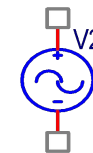
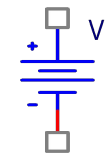
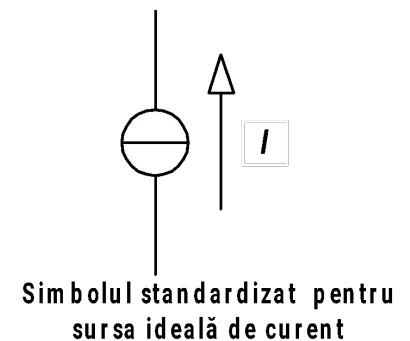
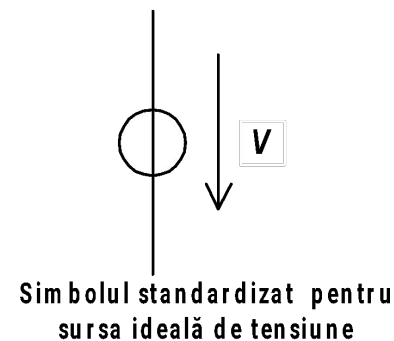
$$P_{med} = \frac{1}{T} \int_T v(t) \cdot i(t) dt$$

Puterea medie

Surse ideale

Aplicarea mărimilor electrice în circuite poate fi simbolizată prin introducerea unor elemente de circuit numite *surse de tensiune* sau *surse de curent*.

- *Sursa ideală de tensiune* este un element de circuit care are tensiunea de la borne independentă de curentul prin borne.
- *Sursa ideală de curent* este un element de circuit care este străbătut de un curent independent de tensiunea pe care o are la borne.



Alte simboluri standardizate

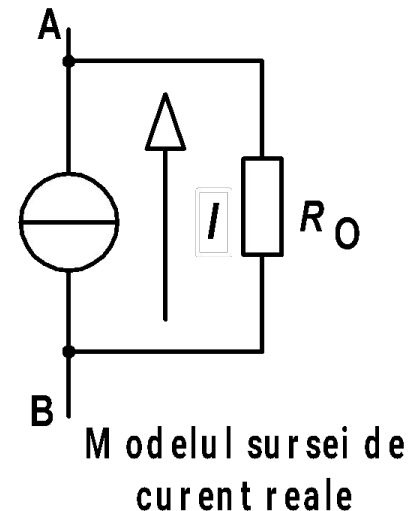
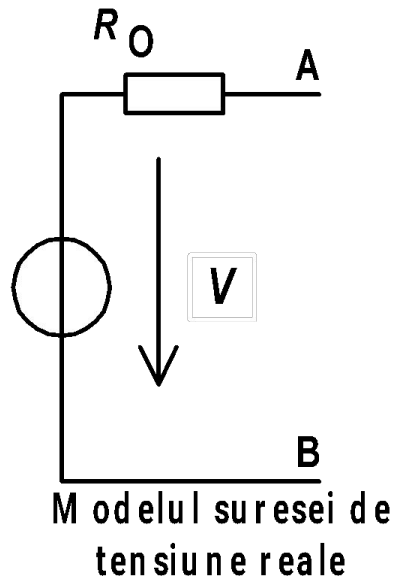
Observație importantă!

Următoarele **interconectări** sunt **interzise** în schemele electrice:

- Surse ideale de tensiune în paralel
- Surse ideale de curent în serie
- Surse ideale de tensiune cu bornele în scurtcircuit
- Surse ideale de curent cu bornele în gol

Modelul surselor reale

Surse ideale de tensiune sau curent nu există în practică. Ele sunt utilizate pentru a descrie comportarea surselor reale ca în figurile alăturate. Bornele AB reprezintă bornele de ieșire din cele două tipuri de surse reale, iar R_0 modelează rezistența internă sau de ieșire a surselor.



Cine produce tensiune electrică?

O baterie

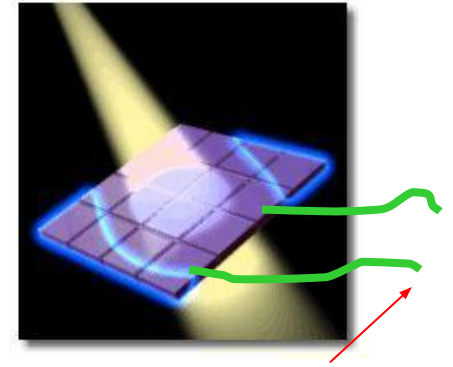


1.5 V

Sursele de laborator




Celulele solare



Câțiva volți

O centrală electrică



13,500 V

Celulele
nervoase



Câțiva millivolți
când este
activată sinapsa


Sursa de tensiune tipică din laborator

Poate furniza tensiuni până la 10 V

Tensiunea este reglabilă din acest buton

Borna roșie (+) și borna neagră (-) sunt echivalente cu bornele unei baterii.

Terminalul alb este conectat la pământare având rol de protecție




Important: O tensiune se măsoară între două puncte

Măsurarea tensiunilor

■ Tensiunile se pot măsura cu un multimetru


- ❑ Se setează multimetru pentru măsurarea **tensiunilor**
- ❑ Se conectează borna V la borna **roșie** a sursei
- ❑ Se conectează borna COM (comună) la borna **neagră** a sursei
- ❑ Se citește tensiunea



Exercițiu

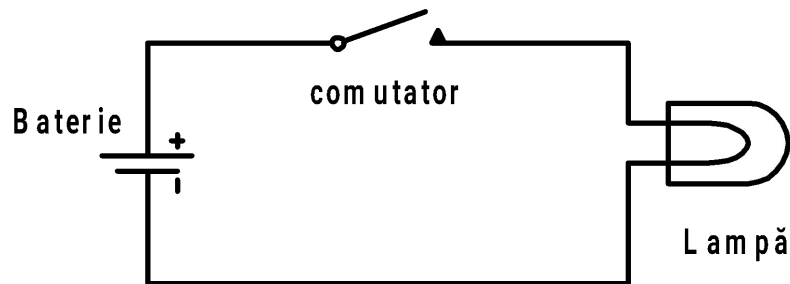
Modificăm sursa să
furnizeze 3.2 V.
Ce va arăta multimetrul
în următoarea situație?

Răspuns: -3.2 V




Topologia circuitelor electrice

- Interconectarea unui set de componente electrice/electronice se numește **rețea sau schemă electrică/electronică**.
- Prin înlocuirea componentelor din schema electronică cu elemente de circuit (ce descriu proprietățile electrice ale componentelor) se obține **circuitul electric/electronic echivalent**.
- Fiecare tip de element de circuit se individualizează prin funcția pe care o realizează între tensiunea la bornele sale și curentul prin borne.



Schemă electrică



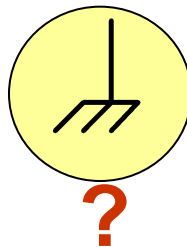
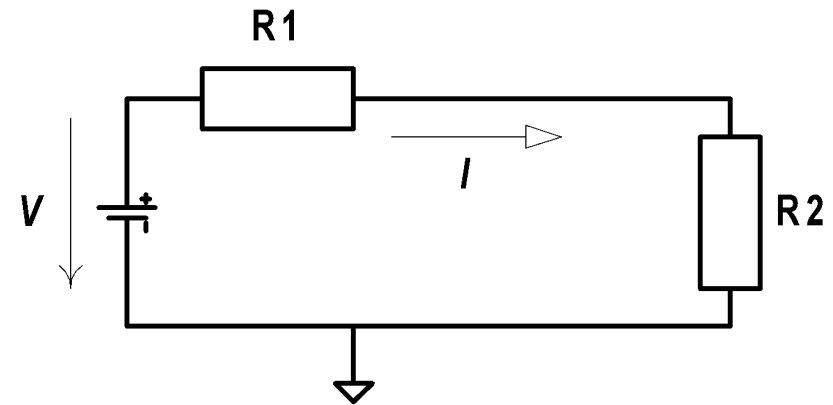
Circuit electric echivalent

Ce este masa unui circuit?

Masa unui circuit reprezintă un nod de referință comun, față de care se măsoară tensiunile din diferitele noduri ale schemei.

Teoretic alegerea punctului de masă este o problemă relativă care nu influențează în nici un fel funcționarea circuitului.

- Practic nu este indiferent unde se alege masa circuitului. De obicei, masa se alege în nodul cu cele mai multe laturi convergente.

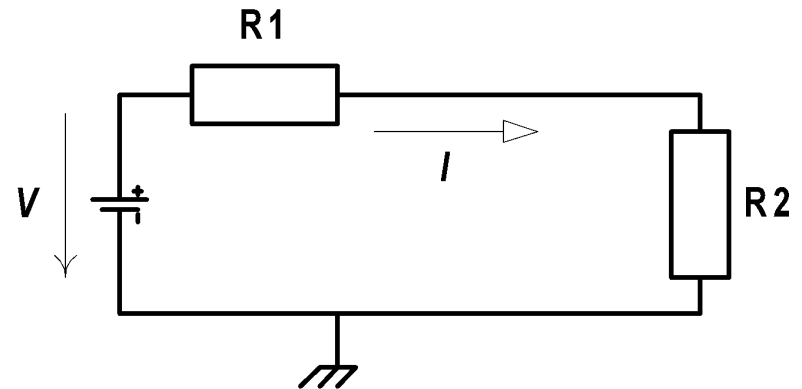


Ce este pământarea unui echipament?

Conectarea aparatelor sau a echipamentelor la pământ servește pentru protecția persoanelor, animalelor și a bunurilor materiale care vin în contact cu acestea.

În principiu conductorul de pământare este parcurs de curent numai în caz de defect.

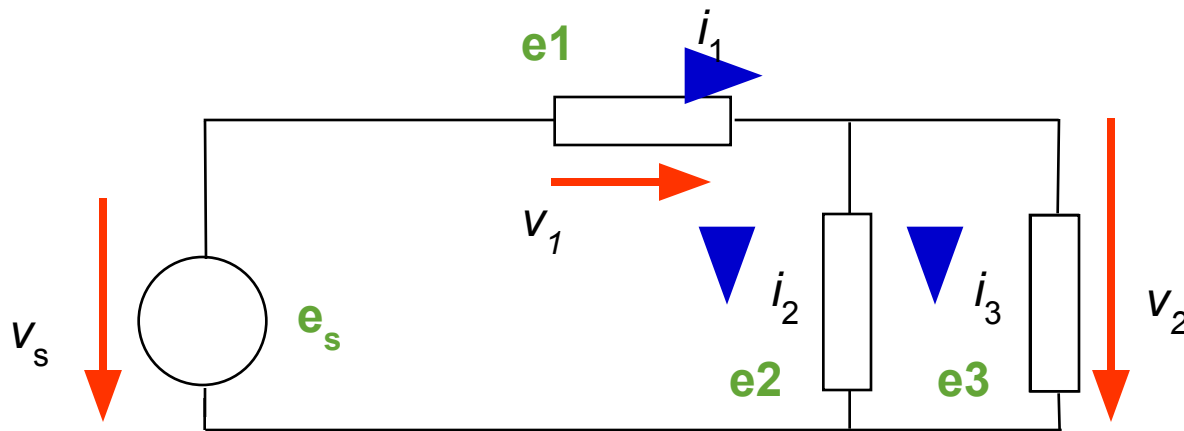
În principiu legătura de pământare nu afectează funcționarea circuitului.

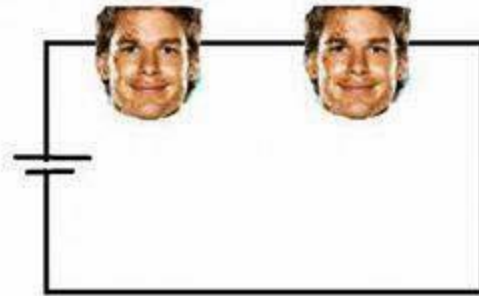


Conexiuni serie și paralel


Două sau mai multe elemente de circuit (sau componente) sunt **conectate în serie** dacă sunt parcurse de același curent.

Două sau mai multe elemente de circuit (sau componente) sunt **conectate în paralel** dacă au aceeași tensiune la borne.





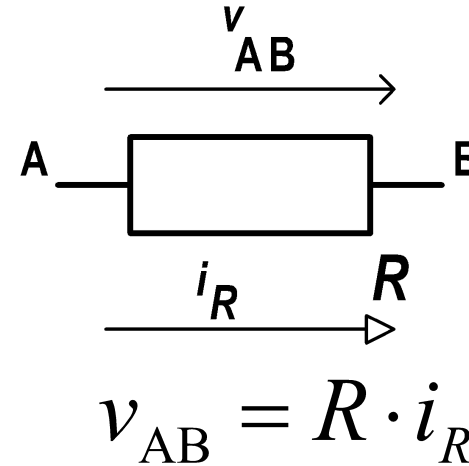
**SERIAL
KILLER**



**PARALLEL
KILLER**

Legea lui Ohm

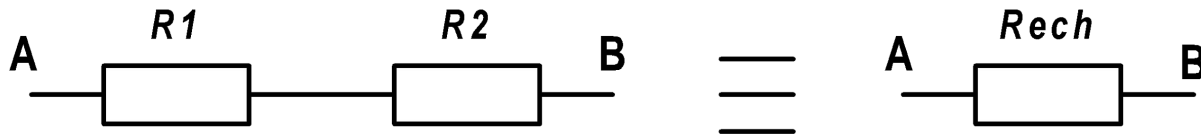
Tensiunea electrică la bornele unei rezistențe este egală cu produsul dintre valoarea rezistenței și valoarea curentului ce o străbate.



$$v_{AB} = R \cdot i_R \Leftrightarrow i_R = \frac{v_{AB}}{R} \Leftrightarrow R = \frac{v_{AB}}{i_R}$$

Conectarea serie a rezistențelor

Prin conectarea în serie a două rezistențe se obține o rezistență echivalentă egală cu suma celor două rezistențe:

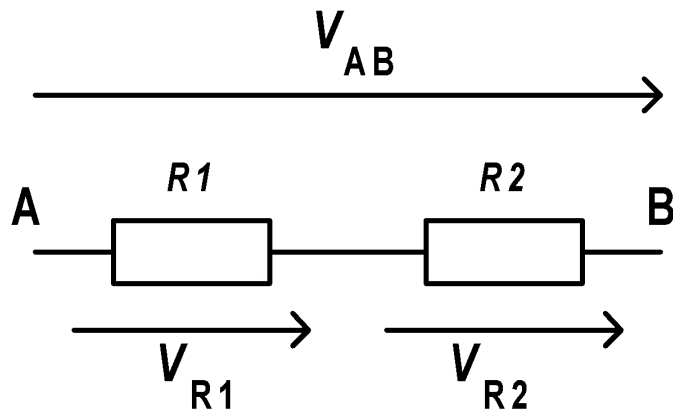


$$R_{ech} = R1 + R2$$

$$R_{ech} > R1; R_{ech} > R2$$

Divizorul de tensiune

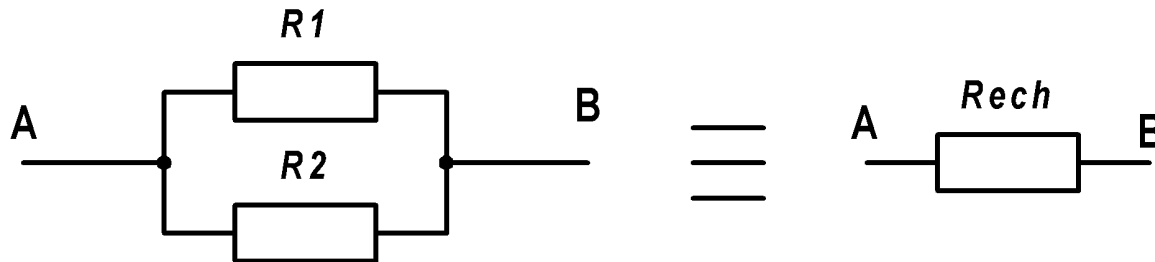
Prin conectarea în serie a două rezistențe între bornele AB se obține pe fiecare rezistență o divizare a tensiunii de la bornele AB:



$$V_{R1} = \frac{R1}{R1 + R2} \cdot V_{AB}; \quad V_{R2} = \frac{R2}{R1 + R2} \cdot V_{AB};$$

Conectarea paralelă a rezistențelor

Prin conectarea în paralel a două conductanțe se obține o conductanță echivalentă egală cu suma celor două conductanțe. Sau pentru rezistențe:

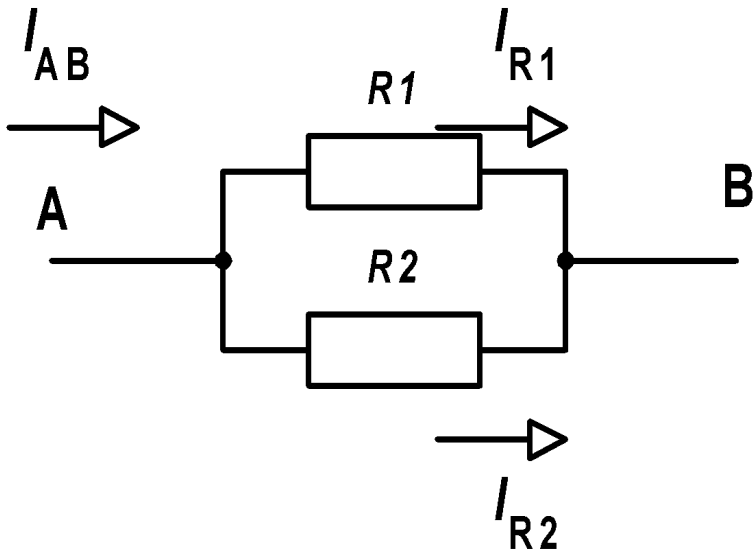


$$R_{ech} = R1 \parallel R2 = \frac{R1 \cdot R2}{R1 + R2}$$

$$R_{ech} < R1; R_{ech} < R2$$

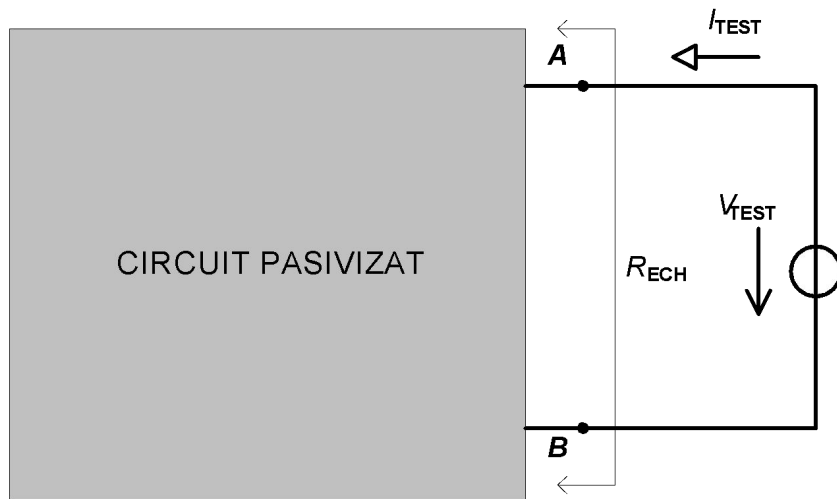
Divizorul de curent

Prin conectarea în paralele a două rezistențe între bornele AB se obține prin fiecare rezistență o divizare a curentului ce circulă între bornele AB:



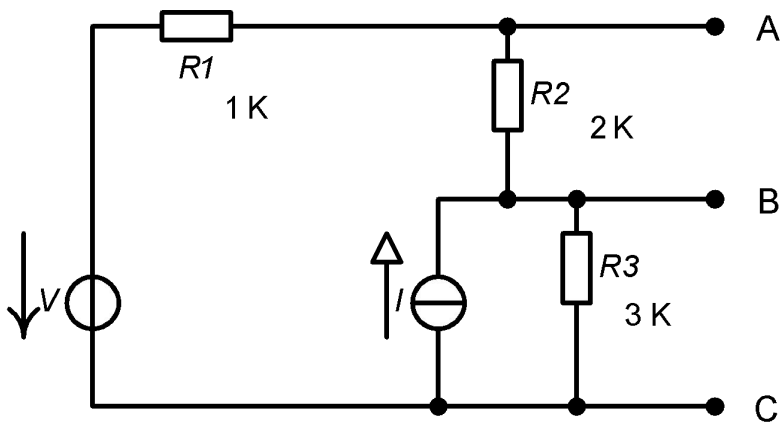
$$I_{R1} = \frac{R2}{R1 + R2} \cdot I_{AB}; I_{R2} = \frac{R1}{R1 + R2} \cdot I_{AB};$$

Rezistența echivalentă văzută la o poartă a circuitului analizat



$$R_{ECH} = \frac{V_{TEST}}{I_{TEST}}$$

Exemplu



$$R_{ECHAB} = (R1 + R3) \parallel R2 = (1K + 3K) \parallel 2K = \frac{4K \cdot 2K}{6K} \cong 1,33K$$

$$R_{ECHBC} = (R1 + R2) \parallel R3 = (1K + 2K) \parallel 3K = \frac{3K \cdot 3K}{6K} = 1,5K$$

$$R_{ECHAC} = (R2 + R3) \parallel R1 = (2K + 3K) \parallel 1K = \frac{5K \cdot 1K}{6K} \cong 0,83K$$

Sarcini individuale

Identificați pentru circuitele alăturate elementele sau componentele conectate în serie și cele conectate în paralel

Parcurgeți subcapitolele 1.6 – 1.8.

Rezolvați exercițiile de la sfârșitul capitolului

