

Проект математика

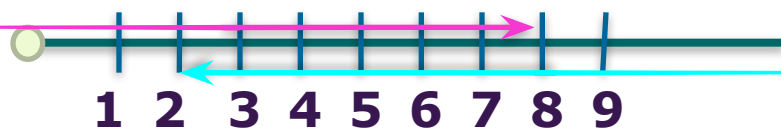
на тему: «Число і цифра 9»

“Математика. Навчальний зошит 1 клас” авт.
Скворцова С.О., Онопрієнко О.В.
(ст. 62- 69)

Виконала студентка 5 курсу
факультету початкової освіти
заочної форми навчання
Комарова Юлія

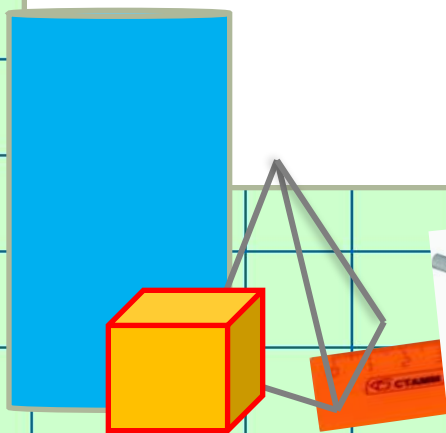


Виконай арифметичні дії за променем



$$3 + 5 = 8$$

$$8 - 6 = 2$$



Розглянь кожен вираз і подумай, яке число отримаємо:
наступне або попереднє. Запиши його в "віконце".
Доповни рівність.

3 **4** $3 + 1 = 4$

5 6 $6 - 1 = 5$

7 **8** $7 + 1 = 8$

2 3 $3 - 1 = 2$

6 **7** $6 + 1 = 7$

7 8 $8 - 1 = 7$

4 **6** $5 + 1 = 6$

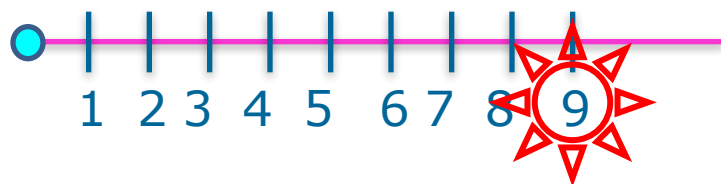
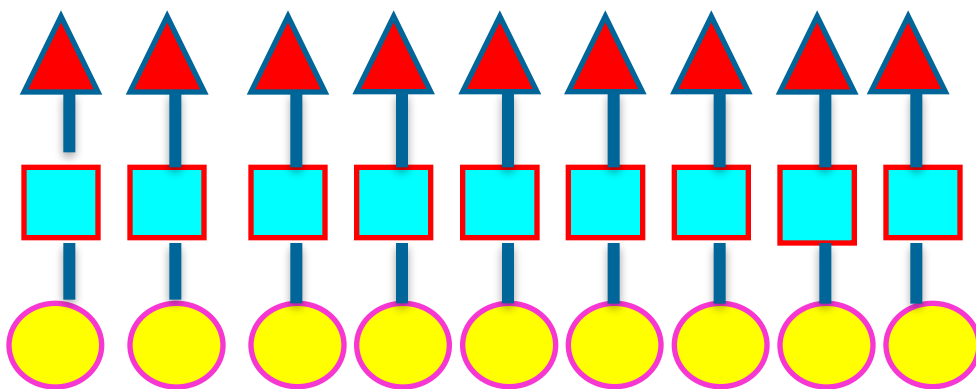
6 7 $7 - 1 = 6$

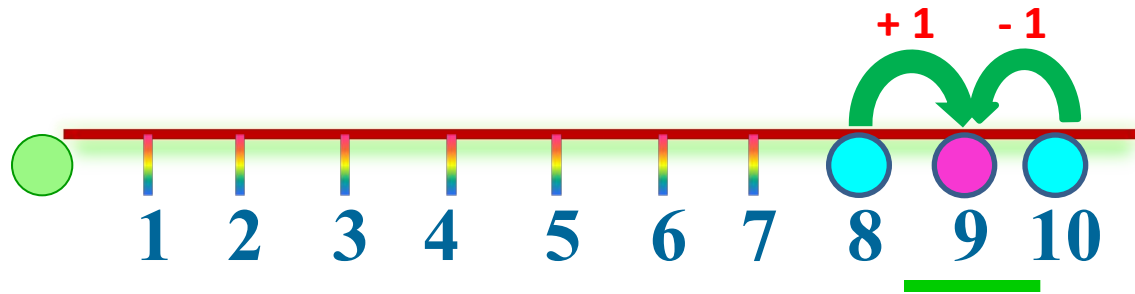
4 **5** $4 + 1 = 5$

3 4 $4 - 1 = 3$



Що можна сказати про кількість трикутників, чотирикутників і кругів на малюнку?



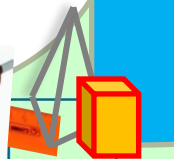


9 - це 8 і ще 1

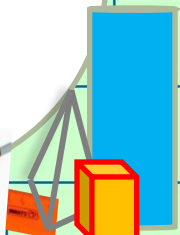



$$9 = 8 + 1$$

9 - це 10 без 1





$$9 = 10 - 1$$





Навчись писати цифру 9.



Допоможи папузі «зібрати» фрукти
в кошики.

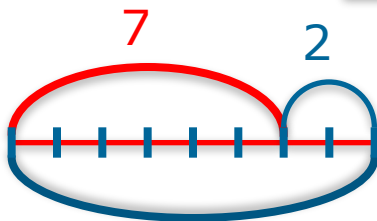


Добери схему та вираз до кожного малюнка





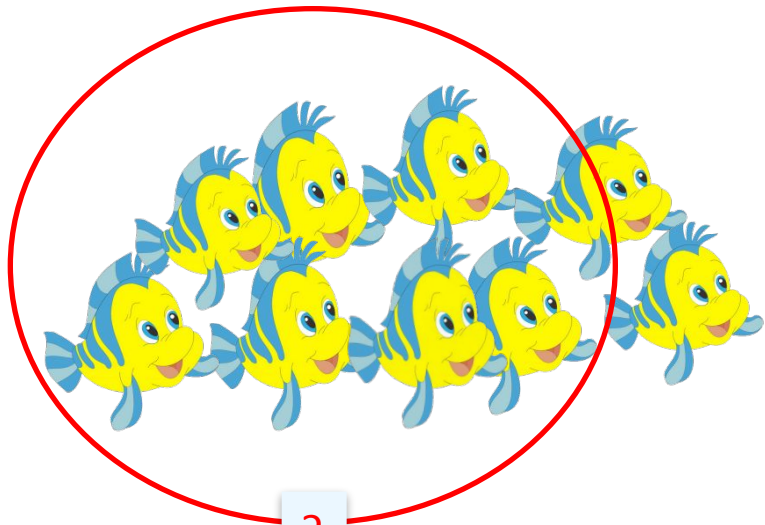
?

$$7 + 2 = 9$$



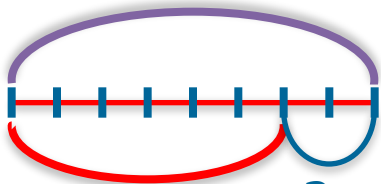
?





?

9



$$9 - 2 = 7$$

