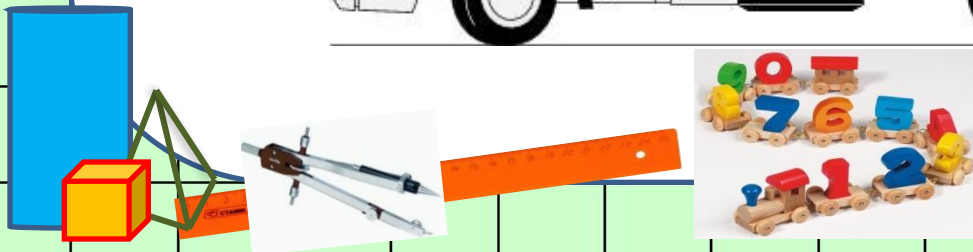

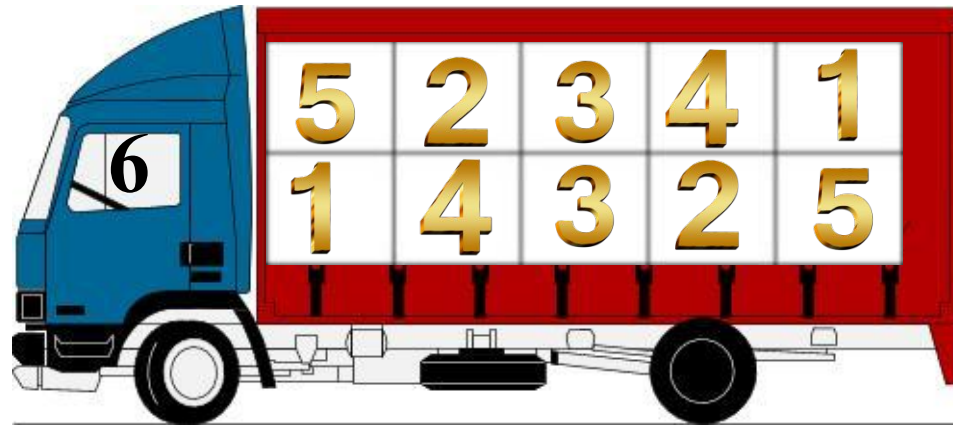




Склад числа 9




Пригадай склад чисел. Заповни таблицю



Домалюй груш стільки, щоб їх стало по 9




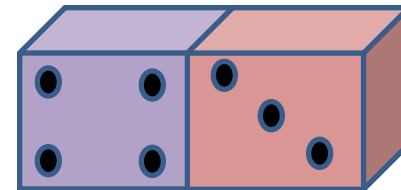
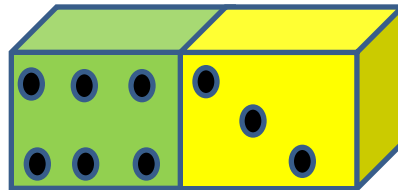
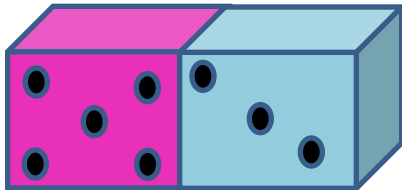
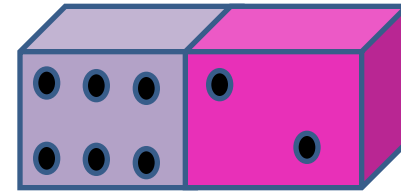
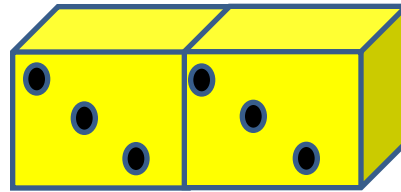
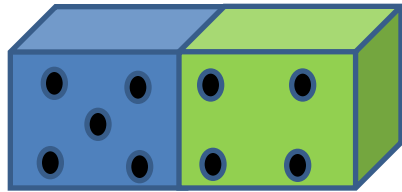
Зафарбуй кружки так, щоб показати склад числа 9.



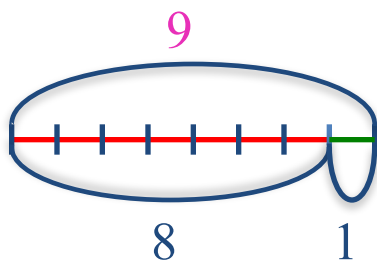
9

8	1
7	2
6	3
5	4
4	5
3	6
2	7
1	8

Обведи лінією кісточки доміно, які показують склад числа 9



За кожною схемою склади дві рівності на додавання и дві – на віднімання

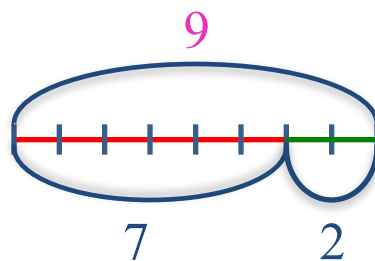


$$8 + 1 = 9$$

$$1 + 8 = 9$$

$$9 - 1 = 8$$

$$9 - 8 = 1$$

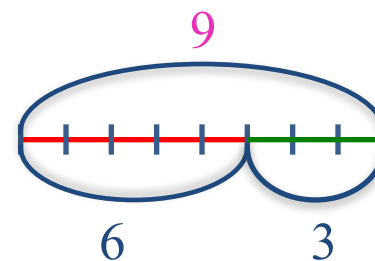


$$7 + 2 = 9$$

$$2 + 7 = 9$$

$$9 - 2 = 7$$

$$9 - 7 = 2$$



$$6 + 3 = 9$$

$$3 + 6 = 9$$

$$9 - 3 = 6$$

$$9 - 6 = 3$$



Порівняй числа.

$9 \geq 4$

$9 \geq 3$

$1 \leq 10$


$1 \leq 4$

$8 \geq 2$

$7 \leq 10$

$6 \leq 7$

$6 \leq 8$



Порівняй числа за їх складом,
користуючись схемою.

$$8 \text{ } \textcircled{>} \text{ } 4$$

4 і 4 більше 4

$$7 \text{ } \textcircled{>} \text{ } 5$$

5 і 2 більше 5

$$9 \text{ } \textcircled{>} \text{ } 6$$

6 і 3 більше 6

$$5 \text{ } \textcircled{<} \text{ } 6$$

6 без 1 менше 6

$$7 \text{ } \textcircled{<} \text{ } 9$$

9 без 2 менше 9

$$8 \text{ } \textcircled{<} \text{ } 9$$

9 без 1 менше 9



