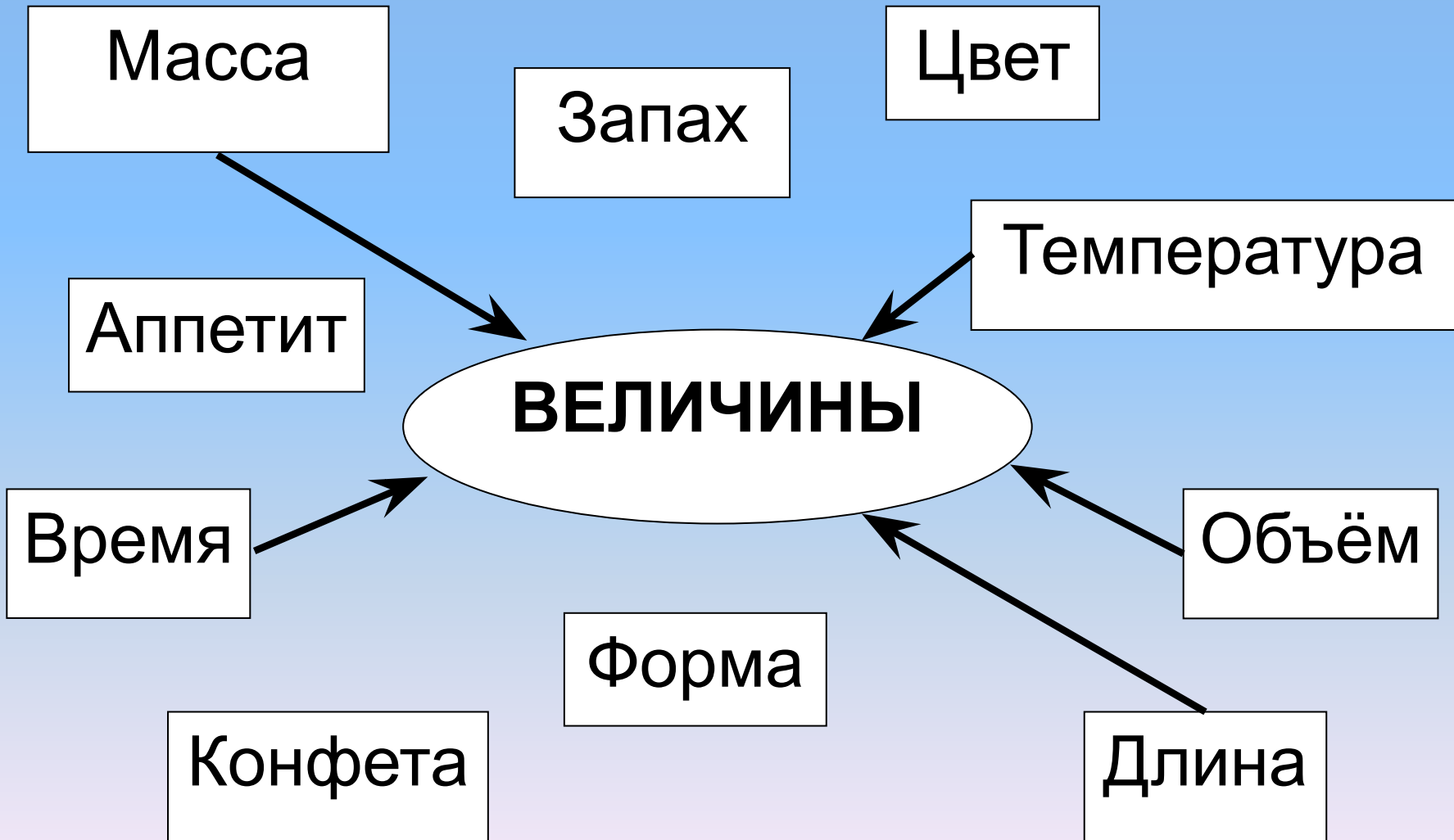


**Тема: «Величины.
Закрепление»**


Рассмотри схему, выбери

ВЕЛИЧИНЫ



Задание 1

Вставь числа, соответствующие массе

ЖИВОТНОЕ	КОТ	СОБАКА	КОТЁНОК
			
	5 кг	8 кг	2 кг


Поставь знаки $>$ $=$ $<$

8 кг	$>$	5 кг
2 кг	$<$	5 кг

Задание 2.

Сравни массу мешочков с кормом для животных (К – кот, С - собака) К С

С К



Задание 3

1) Измерь на рисунке длину лыж и палок, используя разные мерки -полоски: Б – большая, М – маленькая).

2) Запиши количество мерок

3) Сравни длину лыж и палок. Восстанови запись:

Л П

П Л



Задание 4

1) Выполни практическую работу.

Измерь объём **кружки, стакана, банки**, используя мерку – кружку.

2) Восстанови запись:

К С

С Б

К Б

Лесенка успеха



Спасибо за внимание!