


**Лічба в межах 20. Складання і
розв'язування задач на
знаходження суми й остачі.
Побудова відрізків заданої
довжини.**

Підготувала
Вчитель початкових класів
КЗ "Василівська ЗОШ
I-III ступенів №3"
Бірюк Тетяна Юріївна



МАРШРУТНИЙ ЛИСТ

"Цікавинки"



"Відпочивальна"



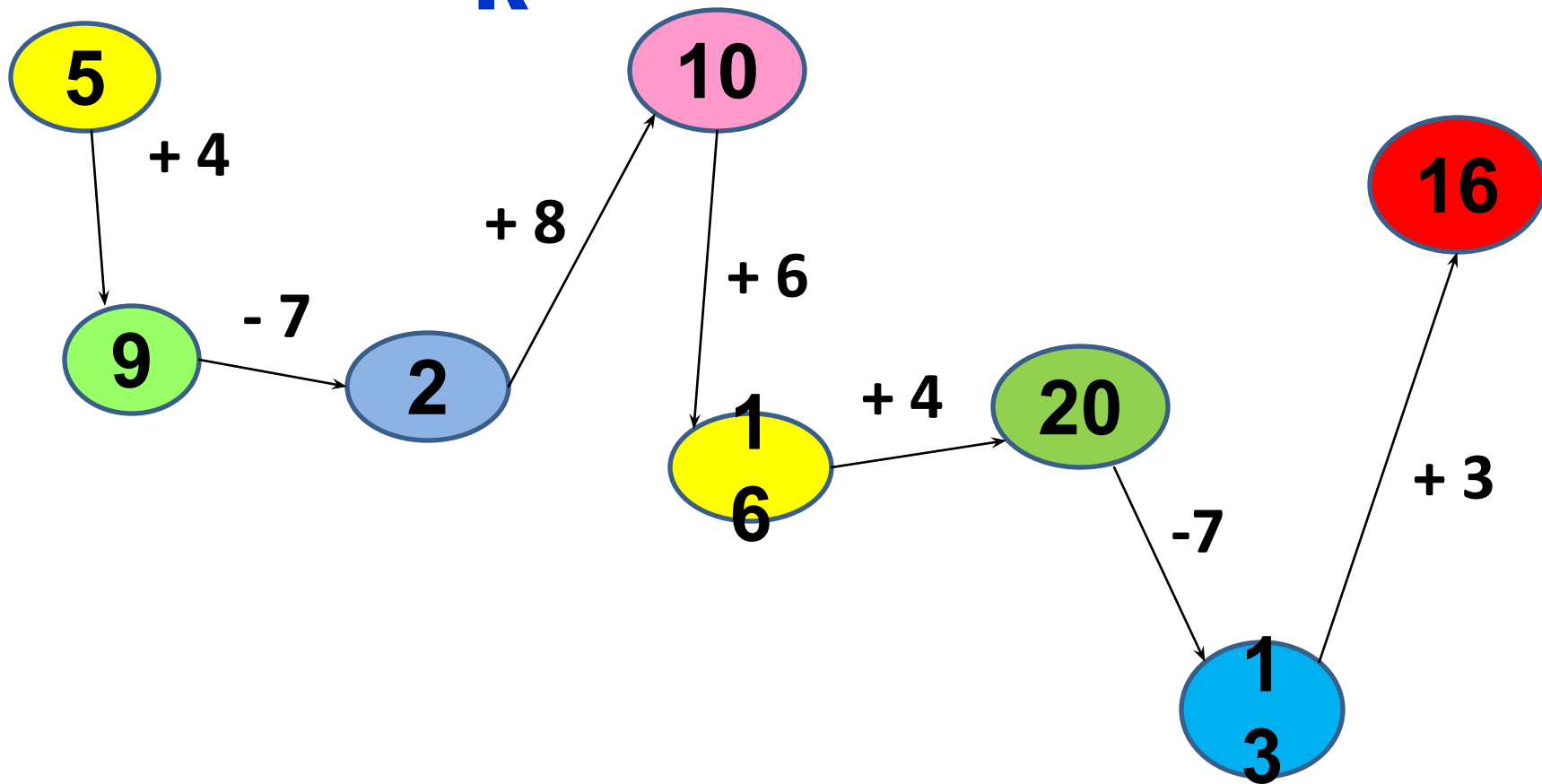
"САМОСТІЙНА"

"Цікавинки"

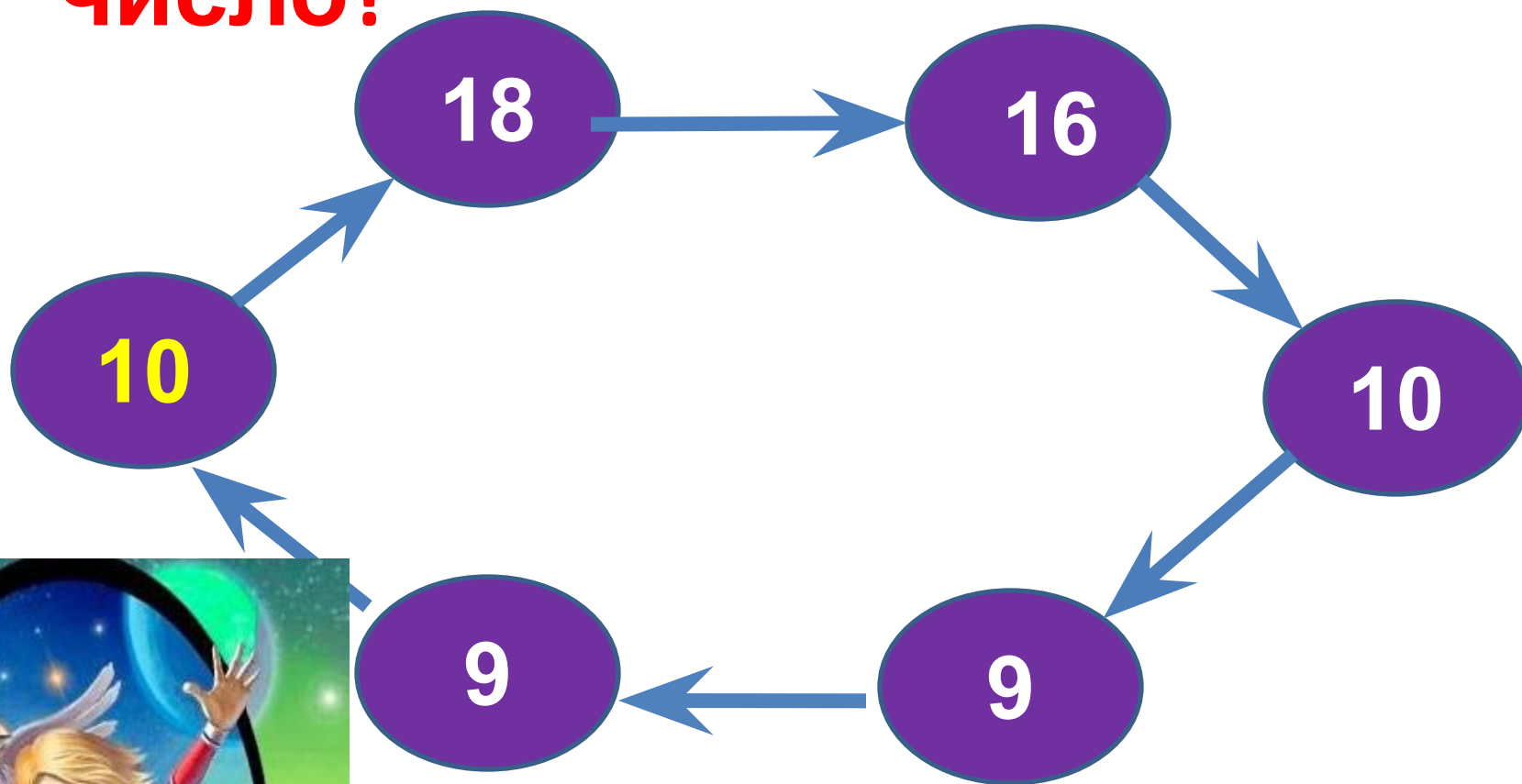


Ланцюжо

к



Як отримали наступне число?



Барбос гавкає голосніше, чим Шарик, а Шарик – голосніше чим Бобік.

Хто гавкає тихіше за всіх?



**Барбо
с**



**Боби
к**



**Шари
к**

"САМОСТІЙНА"

"Відпочивальна"



У ракеті 9 чоловіків і 3 жінки. На скільки жінок менше, чим чоловіків?



$$9 - 3 = 6 \text{ (Ж.)}$$

Відповідь: на 6 жінок

**Перекладіть одну спічку так,
Щоб корова дивилася назад.**

