



I шаг

Чего я не знаю?




II шаг

сам найду способ



Геометри

я



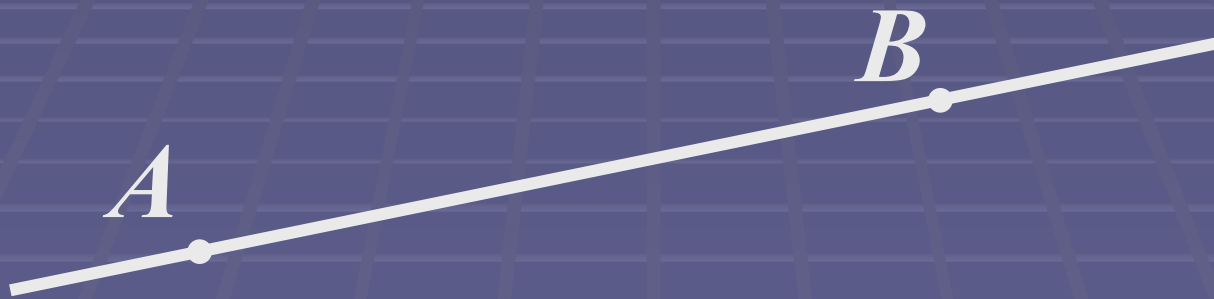
Геометри

я

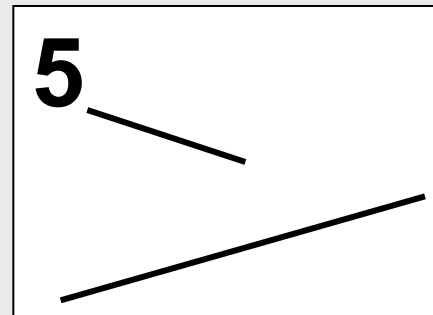
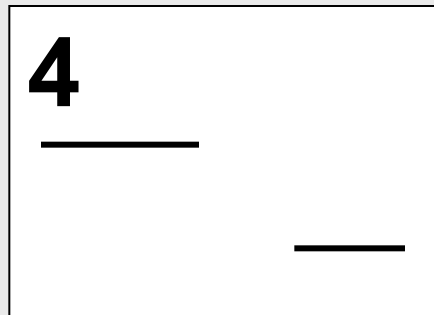
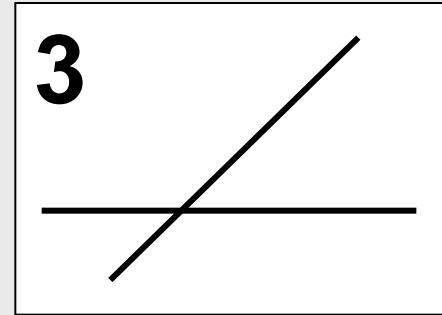
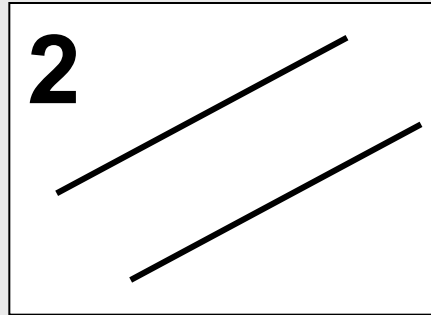
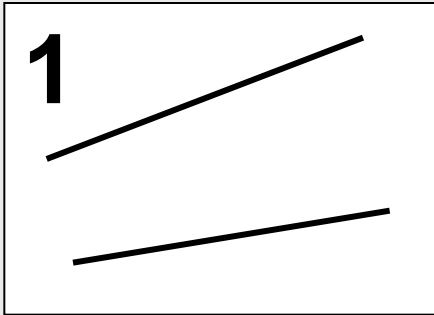


Геометри

я



Пересекающиеся и непересекающиеся прямые

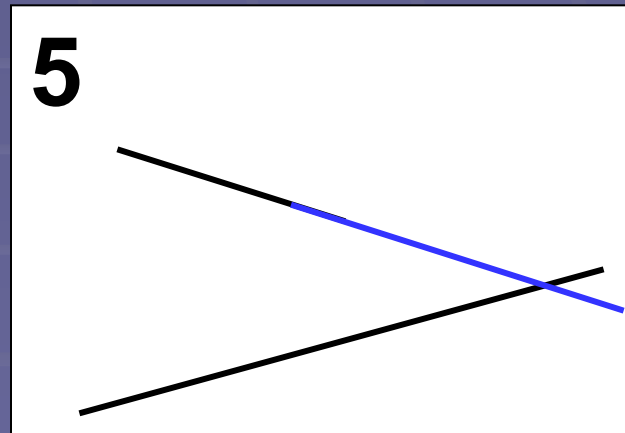


пересекающиеся | **непересекающиеся**

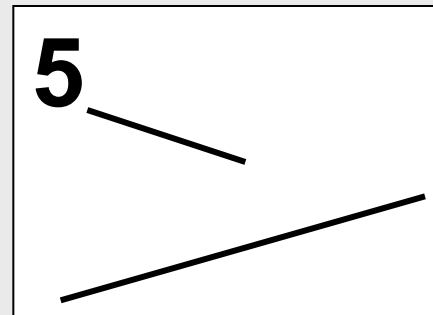
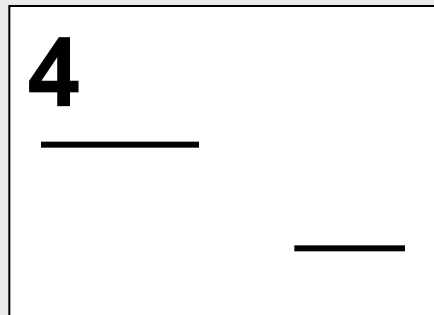
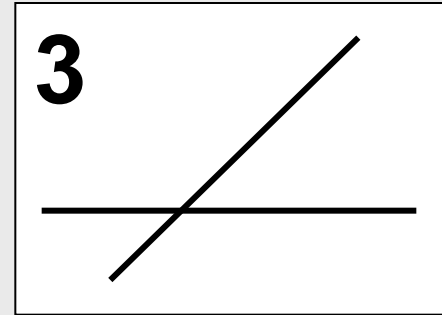
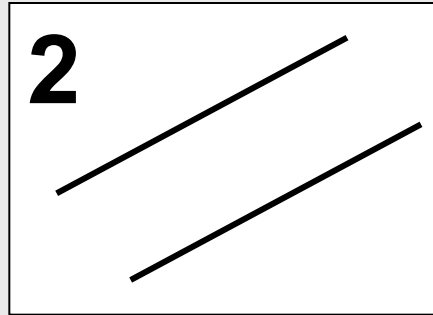
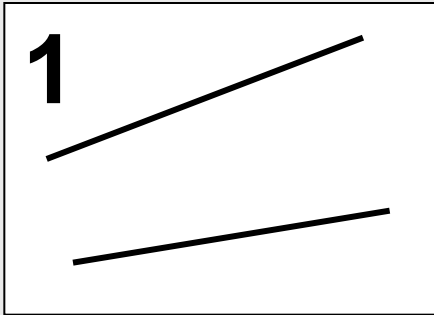


Пересекающиеся и непересекающиеся прямые

- План:*
- 1. Что мы знаем о прямой?*
 - 2. Продолжить прямые*
 - 3. В какую сторону продол-
жать?*
 - 4. Проверить предположение*
 - 5. Способ*



Пересекающиеся и непересекающиеся прямые



пересекающиеся

непересекающиеся

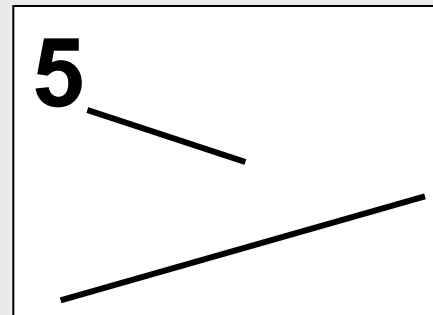
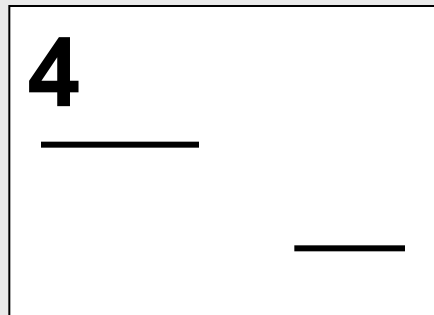
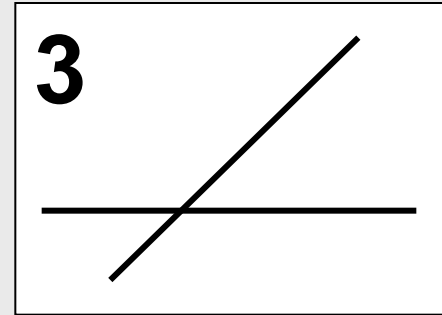
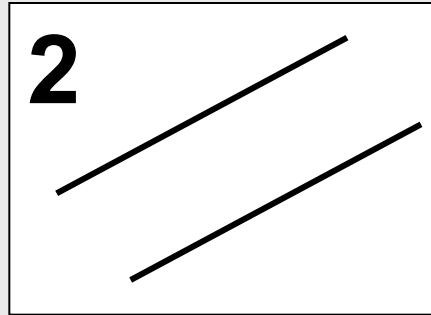
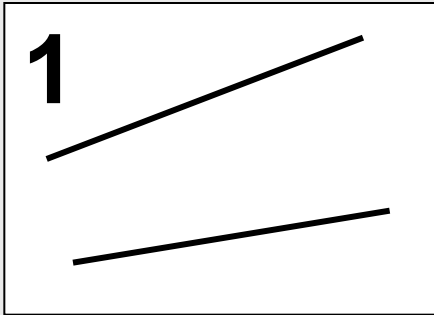
5



Пересекающиеся и непересекающиеся прямые

- План:*
- 1. Что мы знаем о прямой?*
 - 2. Продолжить прямые*
 - 3. В какую сторону продол-
жить?*
 - 4. Проверить предположение*
 - 5. Способ*

Пересекающиеся и непересекающиеся прямые



пересекающиеся

непересекающиеся



5
3
1

4
2

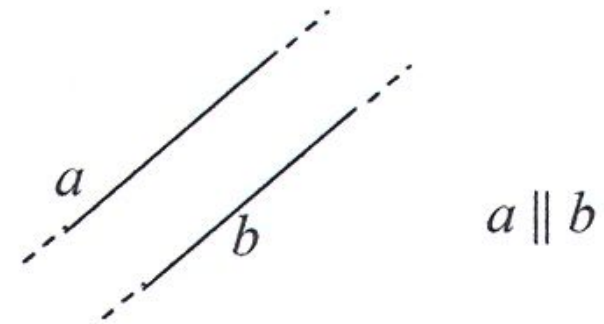
Пересекающиеся и непересекающиеся прямые

Пересекающиеся прямые



Прямые являются
пересекающимися, если
у них есть одна общая точка


Непересекающиеся прямые (параллельные)



Прямые параллельны,
если они не пересекаются,
сколько их не продолжай

Пересекающиеся и непересекающиеся прямые

б) Найди точку пересечения прямых a и b на рисунке и обозначь её T .

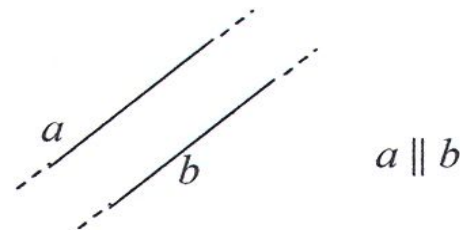


**Пересекающиеся
прямые**



Прямые являются
пересекающимися, если
у них есть одна общая точка

**Непересекающиеся
прямые
(параллельные)**



Прямые **параллельны**,
если они не пересекаются,
сколько их не продолжай

Геометри

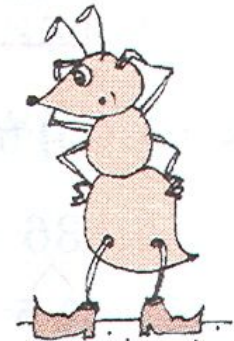
6 Вырази в новых единицах измерения:

$$50 \text{ см} = \boxed{} \text{ дм}$$

$$3 \text{ дм } 6 \text{ см} = \boxed{} \text{ см}$$

$$78 \text{ см} = \boxed{} \text{ дм } \boxed{} \text{ см}$$

$$9 \text{ дм} = \boxed{} \text{ см}$$



8 а) В бочке было 75 л воды. После поливки огорода в ней осталось 32 л. Сколько литров воды использовали для поливки огорода?

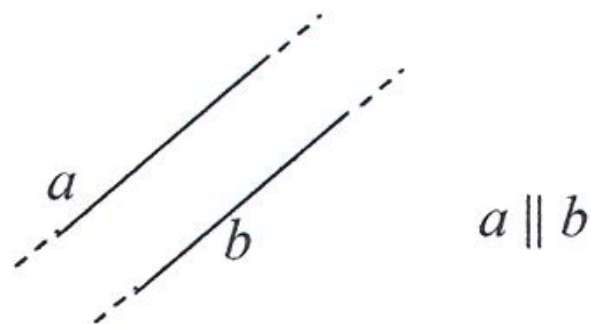
б) С первой яблони собрали 21 кг яблок, что на 14 кг меньше, чем со второй. Сколько килограммов яблок собрали с двух яблонь?

Пересекающиеся прямые



Прямые являются
пересекающимися, если
у них есть одна общая точка

Непересекающиеся прямые (параллельные)



Прямые параллельны,
если они не пересекаются,
сколько их не продолжай

