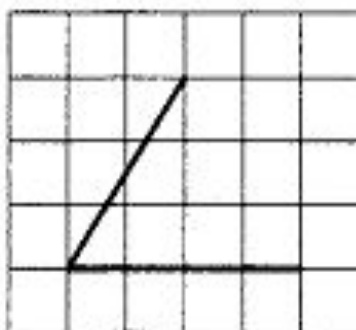
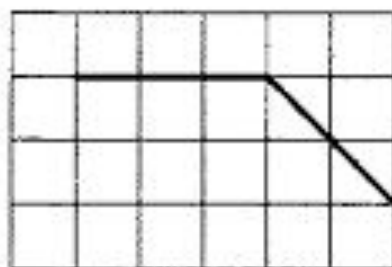


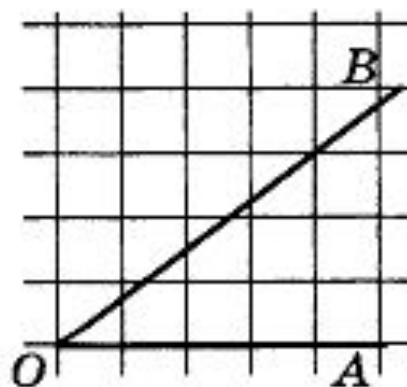
На клетчатой бумаге изображён угол. Найдите его тангенс.



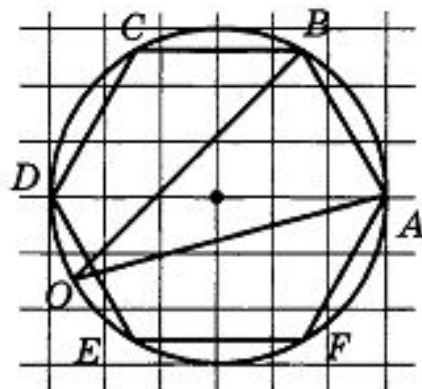
На клетчатой бумаге изображён угол. Найдите его тангенс.



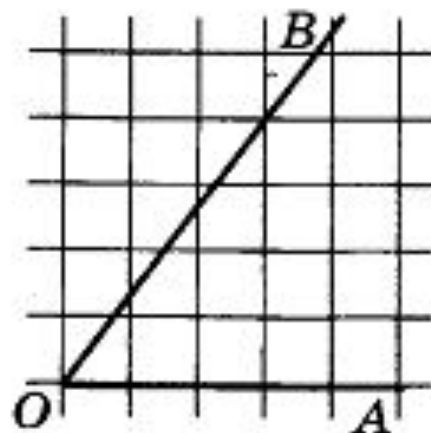
Найдите синус угла AOB , изображённого на рисунке.



Найдите синус угла AOB , изображённого на рисунке. $ABCDEF$ — правильный шестиугольник.



Найдите косинус угла AOB , изображённого на рисунке.



Найдите тангенс угла AOB , изображённого на рисунке.

