

ПРИЗНАКИ РАВЕНСТВА ПРЯМОУГОЛЬНЫХ ТРЕУГОЛЬНИКОВ



1. Выберите верное продолжение утверждения



Прямоугольные треугольники равны

1. По гипотенузе и катету
2. По гипотенузе и острому углу
3. По двум катетам
4. По двум гипотенузам

2. Укажите НЕВЕРНОЕ продолжение утверждения



Прямоугольные треугольники равны


1. По катету и противолежащему острому углу
2. По катету и прямому углу
3. По катету и гипотенузе
4. По трем катетам

3. Треугольники ABC и DEF – прямоугольные (углы A и D – прямые). Укажите верную запись признака равенства прямоугольных треугольников




1. AB=DE, углы A, углы B и углы C и углы F – равны
2. AC=DF, углы A и углы D – равны


4. Треугольники ABC и DEF – прямоугольные (углы A и D – прямые). Укажите верную запись 5 признака равенства прямоугольных треугольников




1. ACAC=AC=DFAC=DF, AC=DF,
AB=DE
2. BCBC=BC=EFBC=EF, BC=EF,
AC=DF
3. BC=EFBC=EF, углы BC=EF, углы CBC=EF, углы C и BC=EF, углы C и FBC=EF. углы C и F-равны




МОЛОДЕЦ !




МОЛОДЕЦ !



МОЛОДЕЦ !




ВЫ ПРАВЫ



ВЫ ПРАВЫ



ВЫ ПРАВЫ



ВЫ ПРАВЫ

**ВСПОМНИ ПРИЗНАКИ РАВЕНСТВА
ПРЯМОУГОЛЬНЫХ ТРЕУГОЛЬНИКОВ**

И

не верно

**ВСПОМНИ ПРИЗНАКИ РАВЕНСТВА
ПРЯМОУГОЛЬНЫХ ТРЕУГОЛЬНИКОВ**

И

не верно

**ВСПОМНИ ПРИЗНАКИ РАВЕНСТВА
ПРЯМОУГОЛЬНЫХ ТРЕУГОЛЬНИКОВ**

И

не верно

**ВСПОМНИ ПРИЗНАКИ РАВЕНСТВА
ПРЯМОУГОЛЬНЫХ ТРЕУГОЛЬНИКОВ**

И

не верно

**ВСПОМНИ ПРИЗНАКИ РАВЕНСТВА
ПРЯМОУГОЛЬНЫХ ТРЕУГОЛЬНИКОВ
И**

не верно

**ВСПОМНИ ПРИЗНАКИ РАВЕНСТВА
ПРЯМОУГОЛЬНЫХ ТРЕУГОЛЬНИКОВ**

И

не верно

**ВСПОМНИ ПРИЗНАКИ РАВЕНСТВА
ПРЯМОУГОЛЬНЫХ ТРЕУГОЛЬНИКОВ**

И

не верно

**ВСПОМНИ ПРИЗНАКИ РАВЕНСТВА
ПРЯМОУГОЛЬНЫХ ТРЕУГОЛЬНИКОВ**

И

не верно

**ВСПОМНИ ПРИЗНАКИ РАВЕНСТВА
ПРЯМОУГОЛЬНЫХ ТРЕУГОЛЬНИКОВ**

И

не верно