
WATERMARK

МАТЕМАТИКА



Саннар



ММәсьәләләр



Зурлыклар



Геометрия



Телдән исәпләү



Конкурслар

ЧЕРНЫЙ ЯЩИК




10

Циркуль

20

Первое

дельное



Абак



30

Инст

ерения



Штангенциркуль





Астролябия

Геометрия



Ике ягы тигез булган
өчпочмак нинди
өчпочмак дип атала?

ТИГЕЗЪЯНЛЫ



20

**Квадратның ягы 2 см
булса, квадратның
периметры күпмегә тигез
8 см**



**Нәрсә ул почмакның
биссектрисасы?**

**Почмакны урталай
бүлүче нур**



**Нинди фигура
өчпочмак дип атала?**

**Бер турыда ятмаган 3
нөктаны тоташтыручы
кисемтэләрдән төзелгән
фигура өчпочмак дип атала**

Нәрсә ул медиана?

Өчпочмакның түбәсеннән
каршы яткан якның уртасын
тоташтыручы кисемтә
медиана дип атала



60

**Геометрия китабыгызның
авторы кем?**

Атанасян



70

**Дөрөслеген исбатларга кирәк
булган раслама**

Теорема



Ребусы



10



,



””

Луч



Конус

20




~~б~~

,



,







Л=Р



Е=И



Пирамида



Параллелепипед

40



$(LE)^2$



, ,

ШЮТ=Л

Т=Д

Конкурс



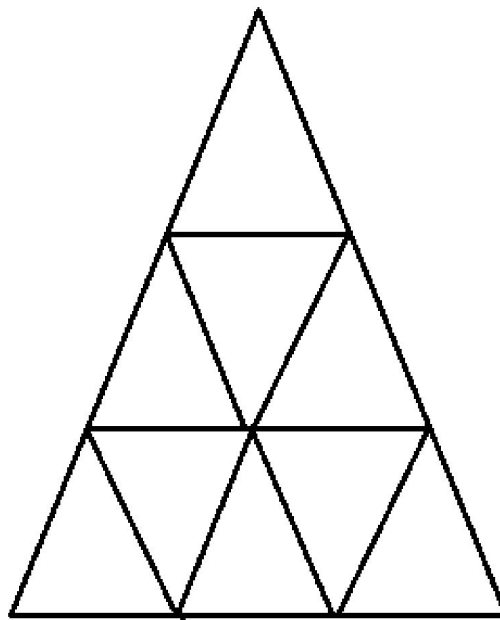
50

МЕТР

*15 шырпыдан метр
ясарга*



50



Монда ничэ өчпочмак?

15



Зурлыклар



10

1 м да ничэ мм?

1000



20

1 га да ничэ а?

100



30

1 ПОТ НИЧЭ КГ?

16кг



Мәсьәләләр



Малай велосипедта шәһәргә бара. Аның каршына машина очрый. Машинада 6 колхозчы утырган һәм аларның һәрберсе 1 тавык тоткан. Барлығы күпме жан иясе шәһәргә бара?

1 малай

Ике эти һәм ике улы 3 апельсинны
һәрберсенә берәр тиярлек итеп үзара
бүлештеләр. Моны ничек
аңлатырсыз?

Бабай , эти һәм онык

Караңгы бүлмә эчендә
керосин лампасы һәм шәм
бар. Килеп кәргәч иң
беренче нәрсәне
кабызасыз?

шырпы

40

Кәрзиндә 3 алма. Аларны, кәрзиндә
1 алма калырлык итеп, ничек 3
малайга бүләргә?

Берсенә кәрзине белән
бирергә



50

**Груша алмадан авыррак,
ө алма персиктан
авыррак. Кайсы авыррак:
грушамы, персикмы?**

груша

Саннар



10

Әгәр ул цифрны астын
өскә әйләндерсәң, 3 кә
кимрәк сан барлыкка
килә? Бу ниниди цифр?

9



20

**Бу саннар
предметларны
санарга кирәк булган
өчен барлыкка
килгәннәр.**

натураль

30

1 дән 100 гә кадәр саннар
язганда 7 цифры ничә
тапкыр очрый?

20



40

**Бер кеше йортларга
номер сугып йөри.1
дән 20 гә кадәр
йортка номер
сукканда ул ничә
цифр куллана?**

10

Телдөн исәпләү





10

$-24+18$


-6





20

6-25




-19



30

6,3-12,1



-5,8

40

$$-4 \cdot \frac{1}{2} + 6$$

4



50

$$-4 \cdot \frac{1}{2} + 6$$

-2,2



**Жиңүчеләрне
котлыбыз**