

Движение через железнодорожные пути. Движение по автомагистралям.

Приоритет МТС.

Буксировка.

Перевозка грузов и пассажиров.

Световые приборы и звуковые сигналы.

Спецсигналы и знак аварийной остановки.

Пешеходные переходы.



Движение через железнодорожные пути

Движение по автомагистралям

Приоритет маршрутных транспортных средств

Буксировка

Перевозка грузов и пассажиров

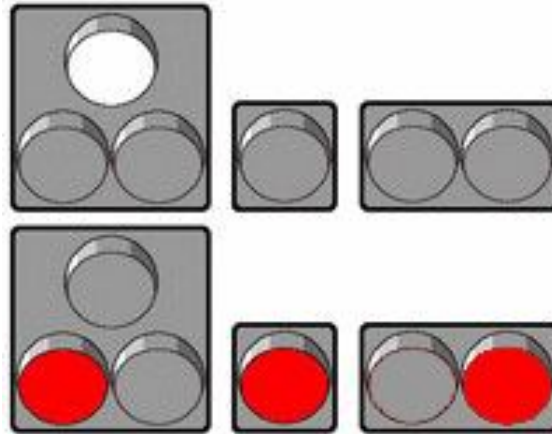
Световые приборы и звуковые сигналы

Спецсигналы и знак аварийной остановки

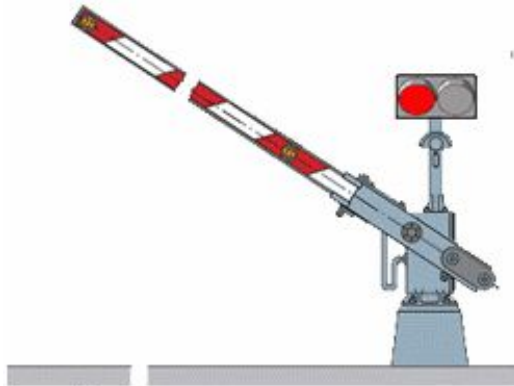
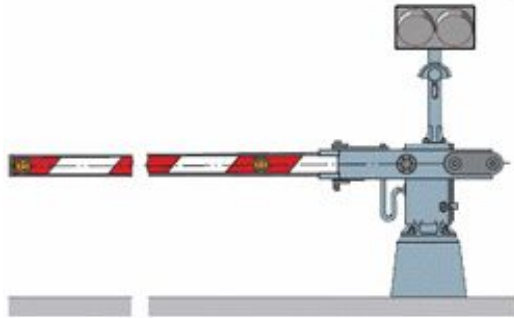
Пешеходные переходы

Движение через железнодорожные пути






Мигающий "красный" на переезде запрещает движение





В любом случае необходимо убедиться, что на путях нет приближающегося поезда.



Останавливаться следует:

- При отсутствии шлагбаума возле знака "STOP"
- При наличии шлагбаума - не ближе 5 метров от него
- При отсутствии шлагбаума и знака "STOP" - не ближе 10 метров от ближайшего рельса



Ж/д переезд

На железнодорожном
переезде



Остановка
Обгон
Разворот
Задний ход

100 м перед переездом

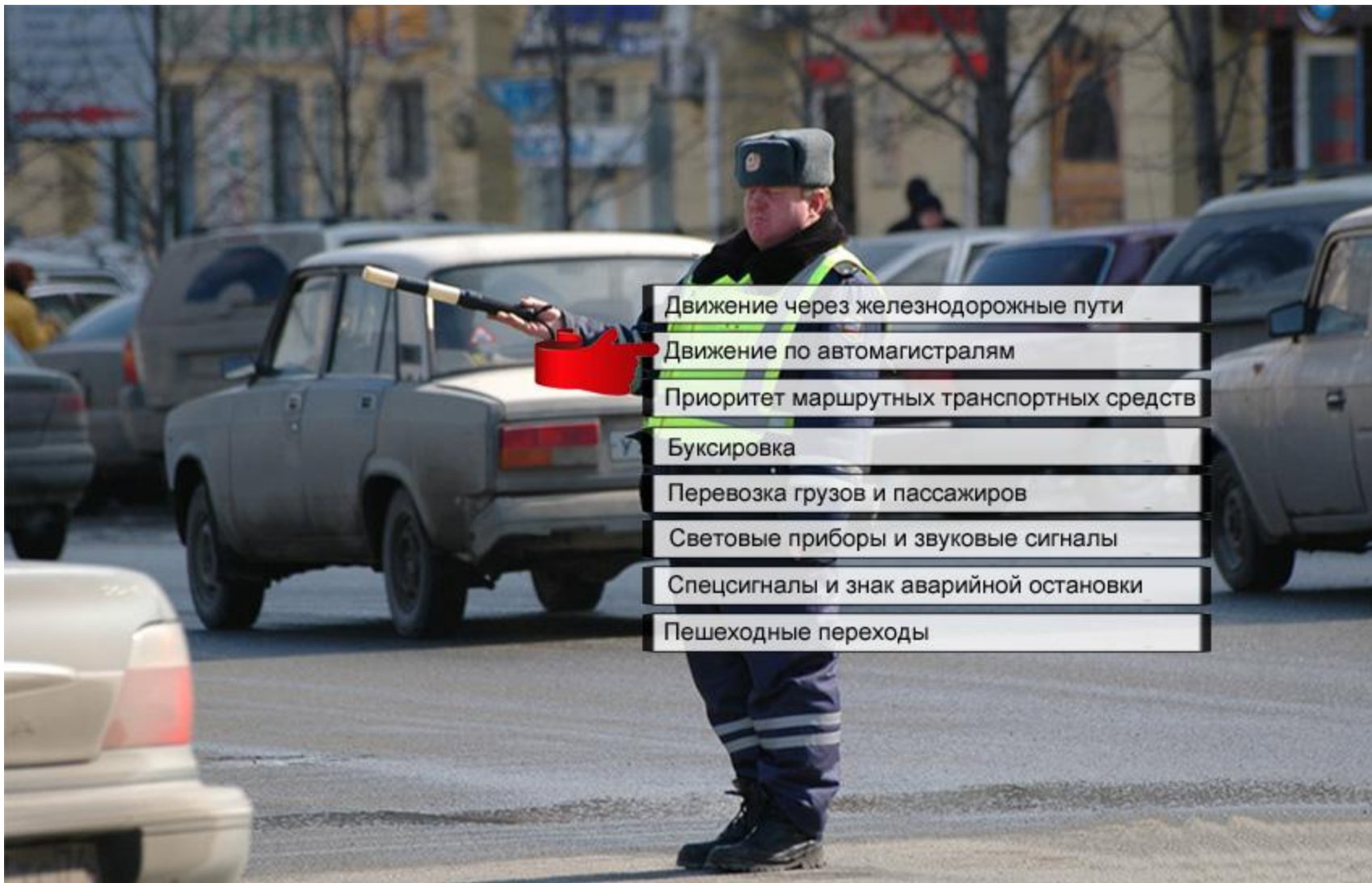


Обгон

50 м перед и после переезда



Стоянка



Движение через железнодорожные пути

Движение по автомагистралям

Приоритет маршрутных транспортных средств

Буксировка

Перевозка грузов и пассажиров

Световые приборы и звуковые сигналы

Спецсигналы и знак аварийной остановки

Пешеходные переходы

Движение по автомагистралям




"Автомагистраль" - дорога, обозначенная знаком 5.1 и имеющая для каждого направления движения проезжие части, отделенные друг от друга разделительной полосой (а при ее отсутствии - дорожным ограждением), без пересечений в одном уровне с другими дорогами, железнодорожными или трамвайными путями, пешеходными или велосипедными дорожками.

Автомагистраль отличается от обычной дороги тем, что у неё:

- имеется разделительная полоса
- нет пересечений с другими дорогами в одном уровне (то есть нет перекрестков, вместо них - развязки)
- разрешенная скорость - 110 км/ч

Кроме того, начиная с 6 августа 2013 года на некоторых автомагистралях, расположенных вне населенных пунктах, максимальная скорость движения может быть увеличена до 130 км/ч. Для этого на дороге должны быть установлены знаки 3.24 ограничение максимальной скорости:





У знака "автомагистраль" есть знак-близнец, "дорога для автомобилей".
Разница между ними заключается лишь в том, что автомагистраль - всегда главная дорога, и скорость на ней по умолчанию - 110 км/ч, а "дорога для автомобилей" не является по умолчанию главной, и скорость на ней - обычная, такая же, как в населенном пункте или вне его.



На магистрали запрещено:

- разворот, в том числе через технологические разрывы разделительной полосы
- движение задним ходом
- остановка для стоянки разрешается только на специальных площадках, обозначенных знаками "Место стоянки" или "Место отдыха":
- учебная езда
- грузовые автомобили с разрешенной максимальной массой более 3,5 тонн не должны двигаться далее второй полосы
- автомобиль следует вести по возможности ближе к правому краю проезжей части
- запрещается движение пешеходов, домашних животных, велосипедов, и т.д, если ТС не может развивать скорость более 40 км/ч
- автомагистраль всегда является главной дорогой по отношению к любой примыкающей к ней



МКАД обозначен знаками "дорога для автомобилей". Разрешенная скорость на нем 100 км/ч благодаря установленным знакам. А если бы знаков не было, то разрешенная скорость была бы ...60 км/ч.



Движение через железнодорожные пути

Движение по автомагистралям

Приоритет маршрутных транспортных средств

Буксировка

Перевозка грузов и пассажиров

Световые приборы и звуковые сигналы

Спецсигналы и знак аварийной остановки

Пешеходные переходы

Приоритет маршрутных транспортных средств



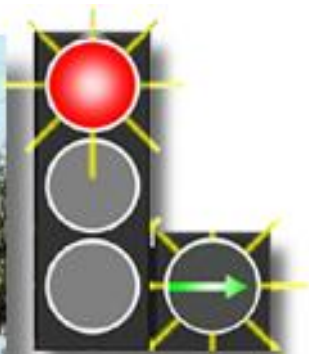


Надо обязательно запомнить, что на маршрутные ТС не распространяется действие этих знаков



Маршрутное ТС, начинающий движение от остановки, имеет преимущество в населенном пункте - вы должны уступить дорогу отъезжающему от остановки автобусу.

Но не имеет преимущества вне населенного пункта, за городом. Ему вы уступать дорогу не должны





Движение через железнодорожные пути

Движение по автомагистралям

Приоритет маршрутных транспортных средств

Буксировка

Перевозка грузов и пассажиров



Световые приборы и звуковые сигналы

Спецсигналы и знак аварийной остановки

Пешеходные переходы

Буксировка механических ТС

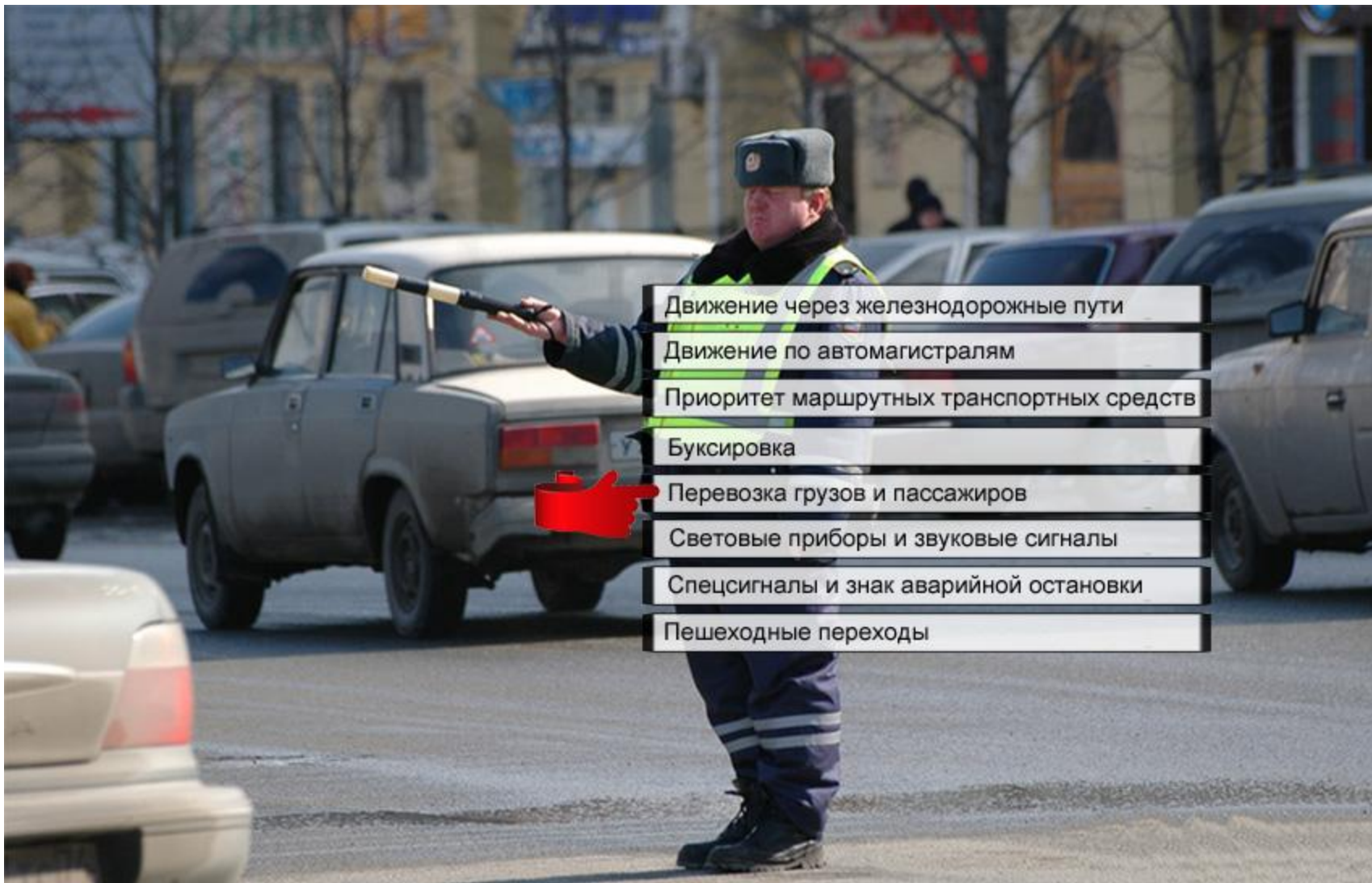




- Длина буксирного троса - 4-6 метров
- Длина жесткой сцепки - не более 4 м



Скорость при буксировании любым способом, не более 50 км/ч – по любой дороге: в городе, на загородном шоссе, на автомагистрали.
Разумеется, в жилой зоне, во дворах и т.д. – скорость 20 км/ч.



Движение через железнодорожные пути

Движение по автомагистралям

Приоритет маршрутных транспортных средств

Буксировка

Перевозка грузов и пассажиров

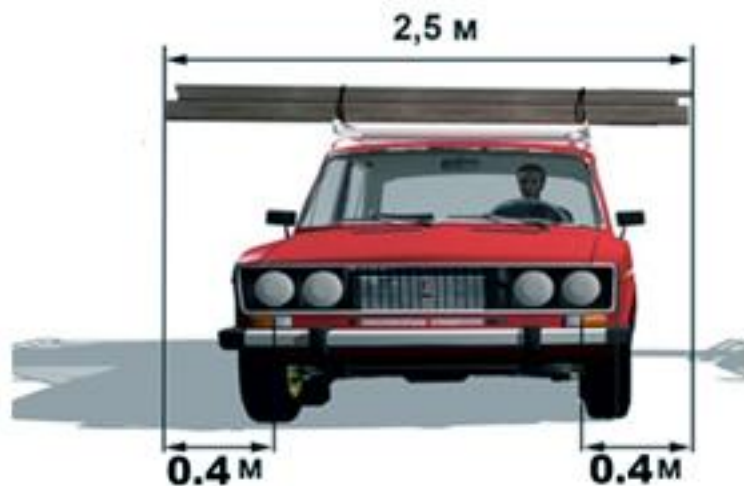
Световые приборы и звуковые сигналы

Спецсигналы и знак аварийной остановки

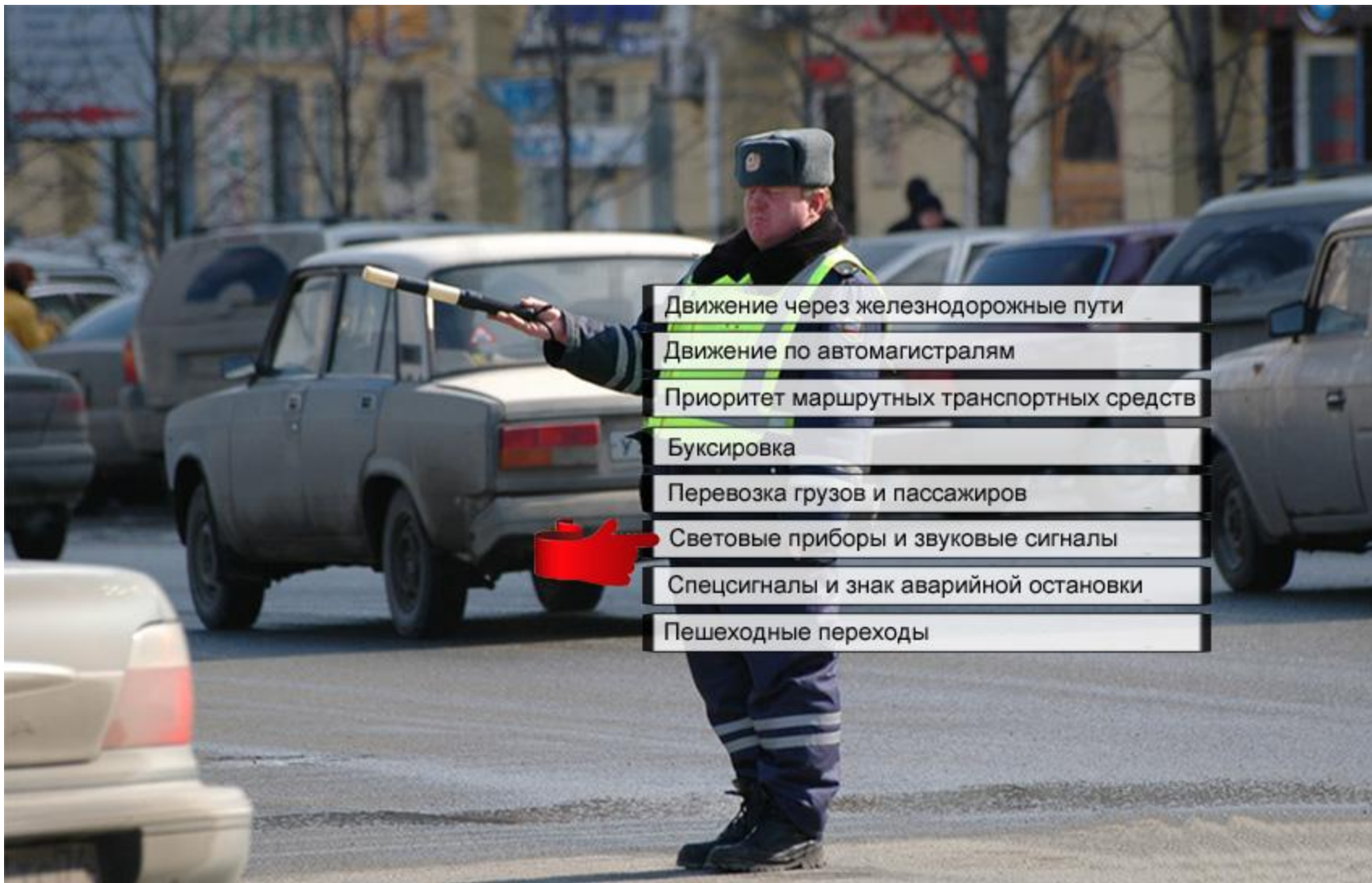
Пешеходные переходы

Перевозка грузов и пассажиров





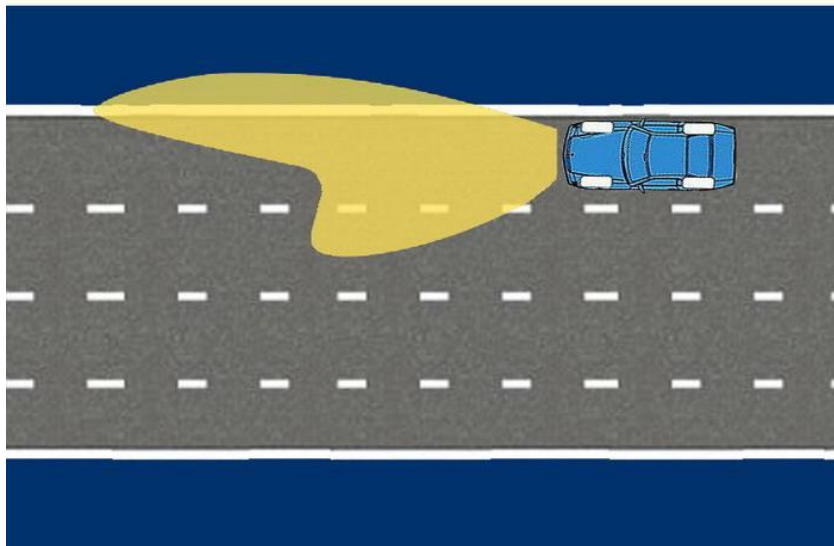
- Груз не должен закрывать световые приборы, номера и опознавательные знаки.
- Груз должен быть обозначен, если он выступает за габариты автомобиля.
- Груз не должен выступать за габариты сзади и спереди – на 1 метр и 0.4 метра – по бокам (от габаритного огня)



- Движение через железнодорожные пути
- Движение по автомагистралям
- Приоритет маршрутных транспортных средств
- Буксировка
- Перевозка грузов и пассажиров
- Световые приборы и звуковые сигналы
- Спецсигналы и знак аварийной остановки
- Пешеходные переходы

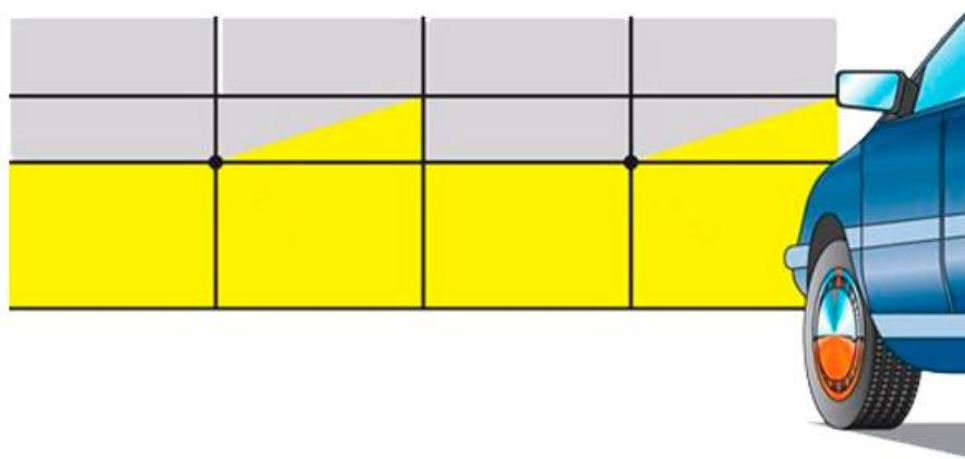
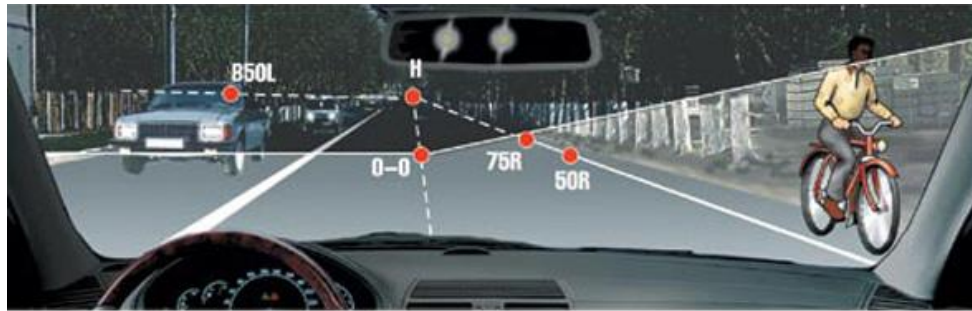
Световые приборы и звуковые сигналы



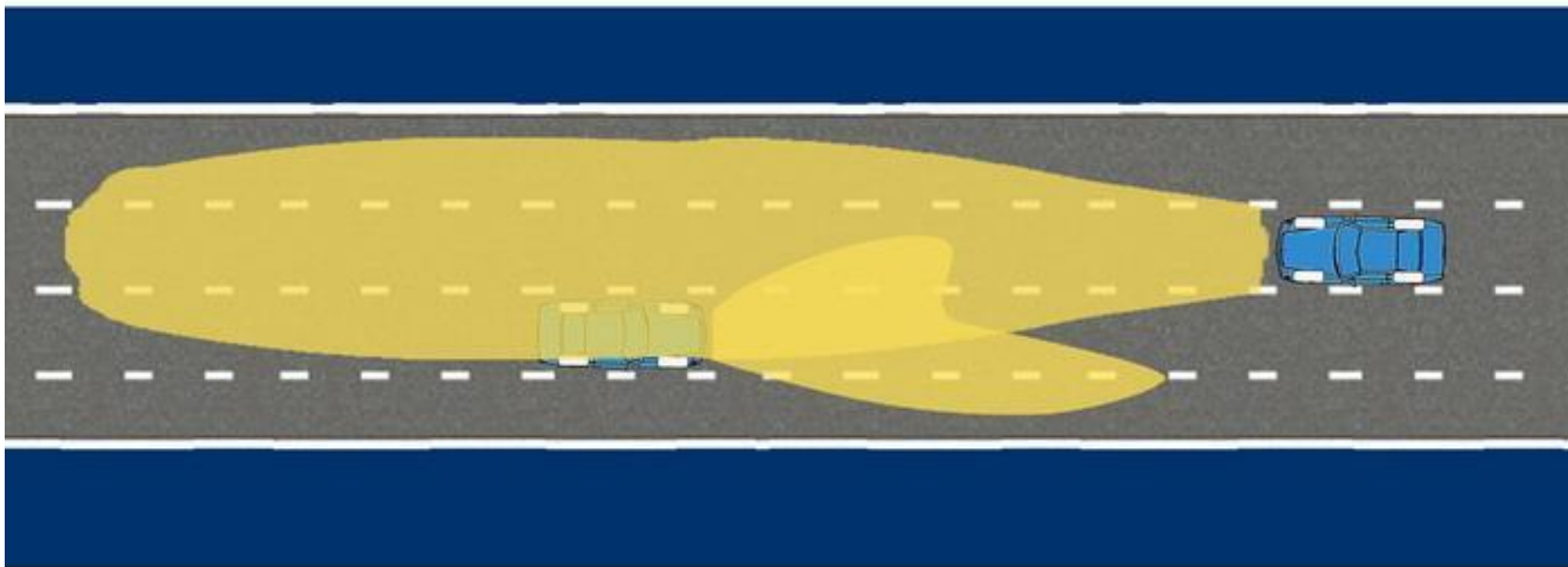


Фары предназначены для того, чтобы освещать дорогу в темное время суток и в условиях недостаточной видимости. Свет фар подразделяется на "ближний", освещающий дорогу на расстояние 50 метров и "дальний", освещающий примерно на 200-300 метров.

При ближнем свете фар в темное время суток дорогу видно всего на 30-40 м, а остановочный путь автомобиля при торможении со скорости 90 км/ч - 50-100 м. Это значит, что **движение в таких условиях не безопасно**, ведь **остановочный путь** намного больше расстояния видимости. Безопасной будет скорость 60 км/ч, при которой остановочный путь примерно 35-45 м (в зависимости от состояния дорожного покрытия).
На освещенных дорогах в населенных пунктах допускается использование **только ближнего света фар**.



Ближний свет на современных автомобилях - асимметричный. Это значит, что правая часть пучка света светит дальше - так лучше видно обочину и тротуары, и не мешает встречным.



«Ближний» свет фар освещает дорогу на расстояние 50 метров, а «дальний» - примерно на 200-300 метров.

Дальний свет обязательно ослепит водителя встречного автомобиля. Поэтому при встречном разезде обязательно надо переключаться с дальнего на ближний. Примерно за 150 м, а если водитель встречного авто «попросит» морганием переключиться раньше – то необходимо переключиться раньше.



Почти все автомобили оборудованы корректором фар. С его помощью можно регулировать направление пучков света фар - отклонять их вверх или вниз.

Как правило, градуировка такая:

- один водитель или водитель и пассажир на переднем сиденье при пустом багажнике;
- водитель и два или три пассажира при пустом багажнике;
- водитель, три пассажира и загруженный багажник;
- водитель и полностью загруженный багажник.

Кроме основных фар автомобиль нередко комплектуется **противотуманными фарами** и **дневными ходовым огнями**.



Противотуманные фары бывают самых разных конструкций, а объединяет их местоположение и вид рассеяния пучка. Противотуманные фары всегда должны находиться низко над землей, а пучок у них узкий и широкий. Противотуманные фары **всегда следует включать вместе с ближним светом** - во многих автомобилях они по-другому просто не включаются.



Дневные ходовые огни бывают самых замысловатых форм, источник света либо светодиоды, либо лампочка мощностью 21 Вт (как на Лада Гранта на фото).

О дневных ходовых огнях надо знать следующее:

- Дневные ходовые огни **не предназначены для освещения дороги**, их назначение единственное - **сделать автомобиль на дороге более заметным**
- При включенных дневных ходовых огнях **задние габаритные фонари не горят**
- **Вместо дневных ходовых огней можно использовать ближний свет фар или противотуманные фары** - они тоже делают автомобиль на дороге заметнее
- Разумеется, **ночью использовать дневные ходовые огни вместо фар категорически запрещено** - ведь они совсем не предназначены для освещения дороги.



При въезде в тоннель обязательно следует включить фары - ближний или дальний свет. Независимо от того, есть ли в туннеле освещение, и независимо от того, горят ли дневные ходовые огни. Дело в том, что свет в туннеле может неожиданно погаснуть. А дневные огни не позволят хорошо разглядеть обстановку.

В Европе даже применяется особые знаки при въезде в тоннель и выезде из него - "включи ближний свет" и "не забыл ли ты выключить ближний свет?"



Если противотуманными фарами оборудована только часть автомобилей, то **противотуманные фонари** есть на каждом, если он выпущен позднее 1980 года.

Противотуманный фонарь установлен сзади и предназначен для того, чтобы автомобиль можно было увидеть в условиях **недостаточной видимости**.

Яркость противотуманного фонаря такая же, как у стоп-сигналов - в пять раз больше, чем у габаритных огней.


Поскольку фонарь очень яркий и может мешать водителям сзади (а он на самом деле очень мешает - слепит), то включать его следует **только в условиях недостаточной видимости**.

Фонарь может быть один или два.



На приборной панели отображаются:

- 1 - Включен ближний свет (Контрольная лампа есть не на всех автомобилях)
- 2 - Включен дальний свет - есть на всех автомобилях.
- 3 - Включены противотуманные фары (не на всех).
- 4 - Включен противотуманный фонарь (на всех).



Приближаясь в темное время суток **к вершине подъема**, всегда следует переключать дальний свет фар на ближний, чтобы не ослепить встречного водителя. Вы можете вполне не увидеть его до самого последнего момента, поэтому фары переключать перед вершиной надо всегда. В противном случае ослепление неизбежно.



Ночью в метель дальний свет фар отражается от снежинок и сильно ухудшает видимость, получается яркое слепящее пятно перед глазами. Поэтому имеет смысл использовать противотуманные фары совместно с ближним светом (рис.1).

В туман лучше всего светят низкорасположенные противотуманные фары, так как их лучи светят ниже нижней границы тумана (рис.2)



Звуковой сигнал (он же клаксон) запрещен к использованию в населенных пунктах по всей территории РФ. Его можно применять только для предотвращения ДТП.

Кроме того, в зоне действия знака 5.25 (название города на синем фоне) допускается использовать клаксон для предупреждения о начале обгона.



Движение через железнодорожные пути

Движение по автомагистралям

Приоритет маршрутных транспортных средств

Буксировка

Перевозка грузов и пассажиров

Световые приборы и звуковые сигналы

Спецсигналы и знак аварийной остановки

Пешеходные переходы

A close-up photograph of a man wearing a specialized brain scanning cap. The cap is covered in numerous small, gold-colored sensors or electrodes. Two bright, circular lights are positioned above the cap, illuminating the scene. The man has a serious expression and is looking slightly to the right. The background is dark and out of focus, with a few blurred light sources.

Спецсигналы





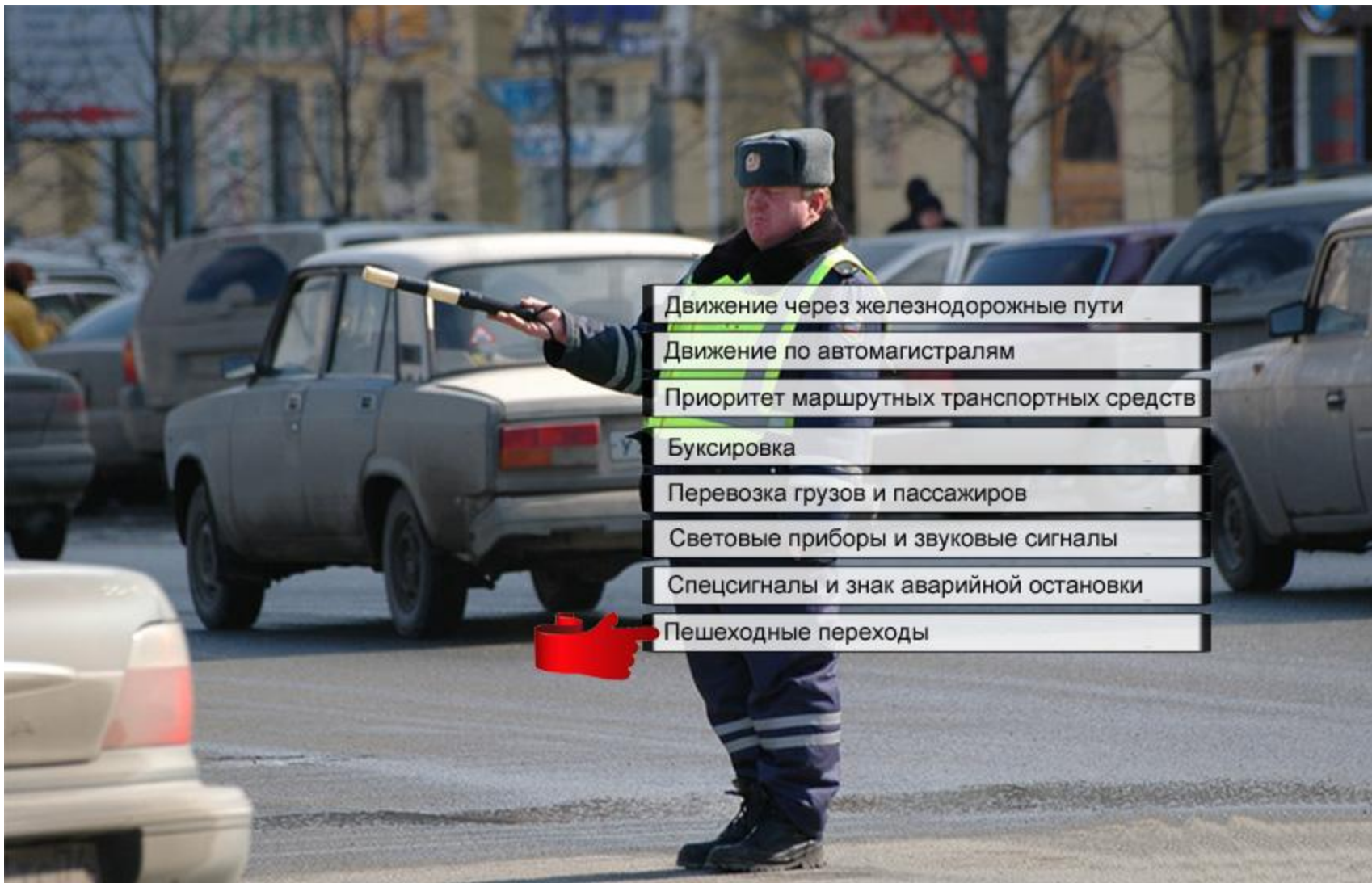
ОПАСНОСТЬ

DANGER





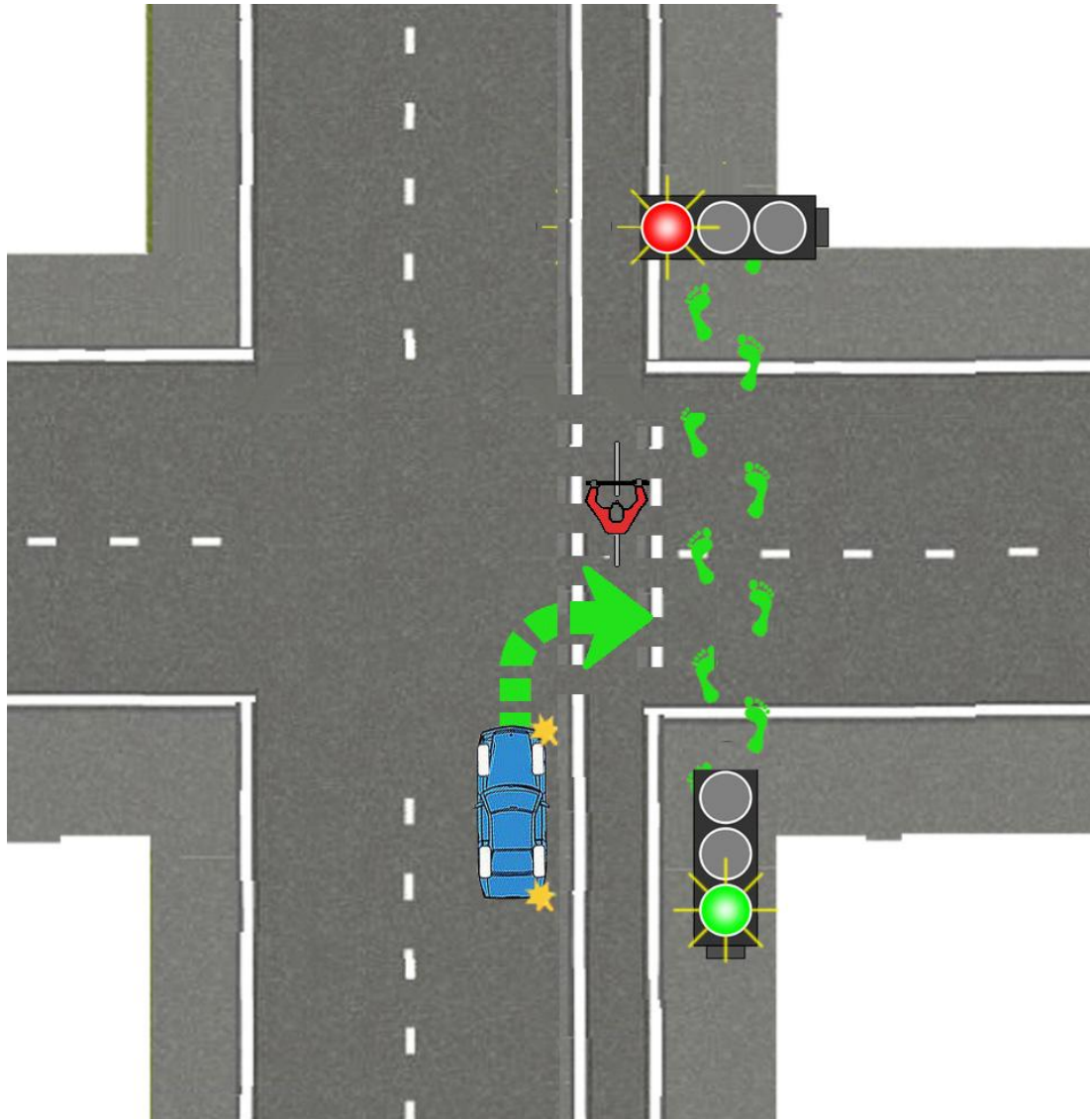


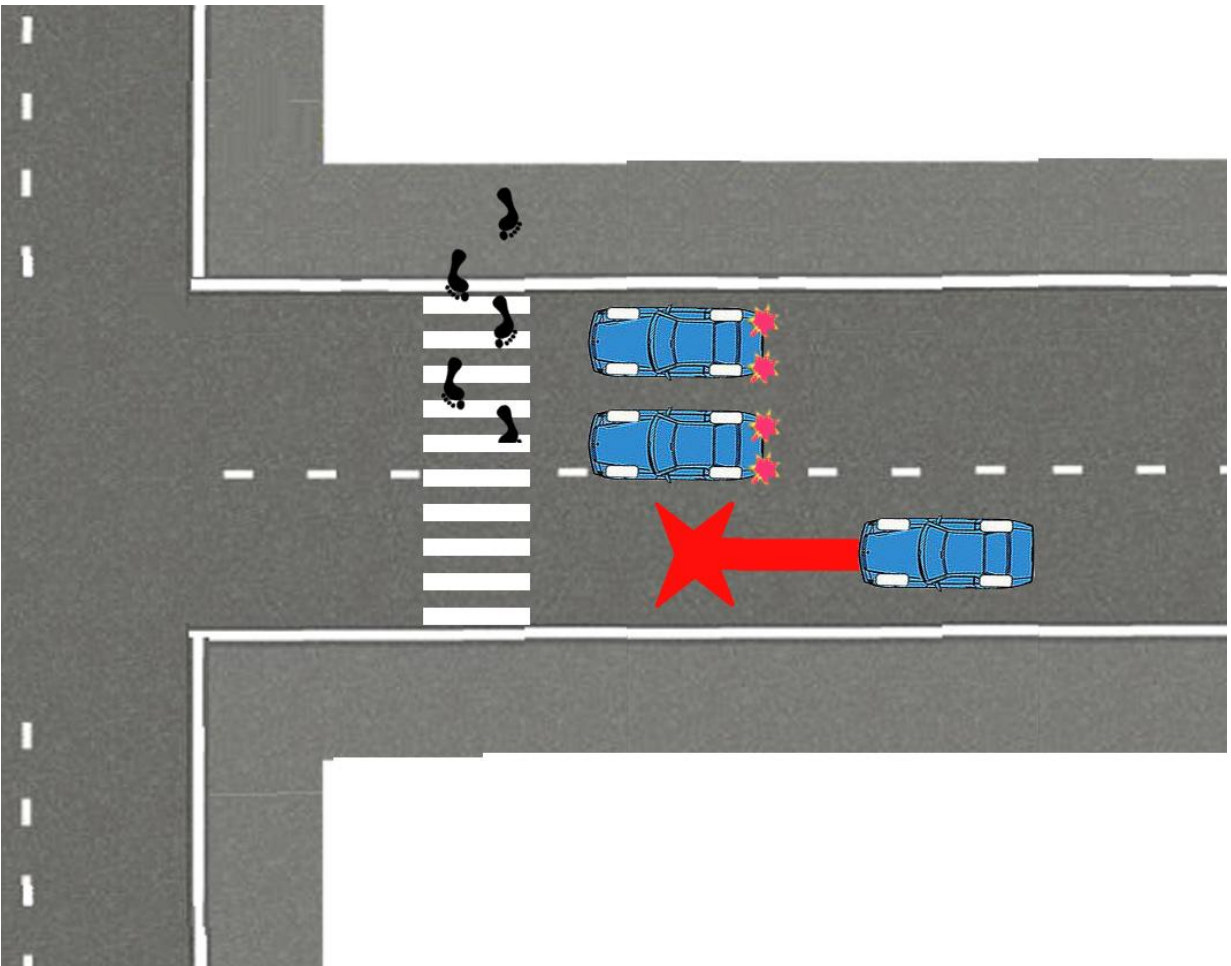



- Движение через железнодорожные пути
- Движение по автомагистралям
- Приоритет маршрутных транспортных средств
- Буксировка
- Перевозка грузов и пассажиров
- Световые приборы и звуковые сигналы
- Спецсигналы и знак аварийной остановки
- Пешеходные переходы



Пешеходные переходы









Пользователь Аркадий

Задача Б.8.17 Т.19.1

Категория А и В

Какие внешние световые приборы Вы должны использовать при движении в темное время суток на освещенных участках дорог населенного пункта?

- 1. Только габаритные огни.**
- 2. Фары ближнего света или габаритные огни.**
- 3. Только фары ближнего света.**

?






1

2

3


4

5

Пропустить
задачу Подсказка Предыдущий Следующий Выбрать Теория Закреть

Укажите правильный номер ответа (клавиши 1-5). Пробел - пропуск задачи

Вопрос 1 из 24



**Разрешено ли Вам на легковом автомобиле
продолжить движение по правой полосе?**

- 1. Разрешено, если скорость грузового автомобиля менее 30 км/ч.**
- 2. Разрешено, если при этом не будет создано помех движению маршрутных транспортных средств.**
- 3. Запрещено.**

?

1

2

3

4

5

Пропустить
задачу

Подсказка

← Предыдущий

→ Следующий

Выбрать

Теория

Закреть



В каких направлениях может продолжить движение водитель автомобиля с включенным проблесковым маячком?

- 1. Только направо.**
- 2. Только прямо или направо.**
- 3. В любой.**

?

1

2

3

4

5

Пропустить задачу

Подсказка

<- Предыдущий

-> Следующий

Выбрать

Теория

Закреть

Как Вы должны обозначить свое транспортное средство при дорожно-транспортном происшествии?

- 1. Только с помощью аварийной сигнализации.**
- 2. Только с помощью знака аварийной остановки.**
- 3. Обоиими перечисленными способами.**

?






1

2

3

4

5

Пропустить
задачу Подсказка Предыдущий Следующий Выбрать Теория Закреть

Укажите правильный номер ответа (клавиши 1-5). Пробел - пропуск задачи

Вопрос 1 из 9



Разрешена ли Вам остановка в указанном месте?

- 1. Запрещена.**
- 2. Разрешена только для посадки или высадки пассажиров.**
- 3. Разрешена, если не будут созданы помехи движению маршрутных транспортных средств.**

?

1

2

3

4

5

Пропустить
задачу

Подсказка

← Предыдущий

→ Следующий

Выбрать

Теория

Закреть

При приближении к остановившемуся транспортному средству с включенной аварийной сигнализацией, которое имеет опознавательные знаки "Перевозка детей", водитель должен:

- 1. Снизить скорость.**
- 2. При необходимости остановиться и пропустить детей.**
- 3. Осуществить все перечисленные действия.**

?



1

2

3

4

5

Пропустить
задачу Подсказка Предыдущий Следующий Выбрать Теория Закреть

Укажите правильный номер ответа (клавиши 1-5). Пробел - пропуск задачи

Вопрос 1 из 4

Какие внешние световые приборы Вы можете использовать при движении в темное время суток на неосвещенных участках дорог?

- 1. Только фары ближнего света.**
- 2. Только фары дальнего света.**
- 3. Фары ближнего или дальнего света.**

?





1

2

3

4

5

Пропустить
задачу Подсказка Предыдущий Следующий Выбрать Теория Закреть

Двигаясь в темное время суток вне населенного пункта с дальним светом фар, Вы догнали движущееся впереди Вас транспортное средство. Ваши действия?

- 1. Оставьте включенными габаритные огни, выключив дальний свет фар.**
- 2. Переключите дальний свет фар на ближний.**
- 3. Допускаются оба варианта действий.**

?







1

2

3

4

5

Пропустить
задачу Подсказка Предыдущий Следующий Выбрать Теория Закреть



Нарушил ли водитель Правила при вынужденной остановке на автомагистрали?

1. Да.
2. Да, если не выставил знак аварийной остановки.
3. Нет.

?

1

2

3

4

5

Пропустить
задачу

Подсказка

Предыдущий

Следующий

Выбрать

Теория

Закрыть

В каком случае Вам запрещается выполнять обгон транспортного средства, имеющего нанесенные на наружные поверхности специальные цветографические схемы?

- 1. При включении на нем проблесковых маячков синего (синего и красного) цвета и специального звукового сигнала.**
- 2. Только при включении на нем проблесковых маячков синего (синего и красного) цвета.**
- 3. В обоих перечисленных случаях.**

?





1

2

3

4

5

Пропустить
задачу Подсказка Предыдущий Следующий Выбрать Теория Закреть

Укажите правильный номер ответа (клавиши 1-5). Пробел - пропуск задачи

Вопрос 2 из 7



Кто из водителей правильно остановился для высадки пассажиров?

- 1. Только А.**
- 2. Только В.**
- 3. А и Б.**
- 4. Б и В.**

?






1

2

3

4

5

Пропустить
задачу Подсказка Предыдущий Следующий Выбрать Теория Закрыть

Укажите правильный номер ответа (клавиши 1-5). Пробел - пропуск задачи

Вопрос 3 из 7

Какие внешние световые приборы должны быть включены в тоннеле с искусственным освещением?

- 1. Фары ближнего света или габаритные огни.**
- 2. Фары ближнего света или дневные ходовые огни.**
- 3. Фары ближнего или дальнего света.**

?






1

2

3

4

5

Пропустить
задачу Подсказка ← Предыдущий → Следующий Выбрать Теория Закреть

Разрешается ли движение задним ходом по автомагистрали?

- 1. Разрешается.**
- 2. Разрешается, если Ваше транспортное средство находится правее сплошной линии разметки, обозначающей край проезжей части автомагистрали.**
- 3. Запрещается.**

?




1


2

3

4

5

Пропустить
задачу Подсказка Предыдущий Следующий Выбрать Теория Закреть



Как Вы должны действовать в данной ситуации?

- 1. Проехать железнодорожный переезд без остановки перед знаком.**
- 2. Остановиться перед знаком и продолжить движение сразу же после проезда поезда.**
- 3. Остановиться перед знаком и продолжить движение, только убедившись в отсутствии приближающегося поезда.**

?

1

2

3

4

5

Пропустить
задачу

Подсказка

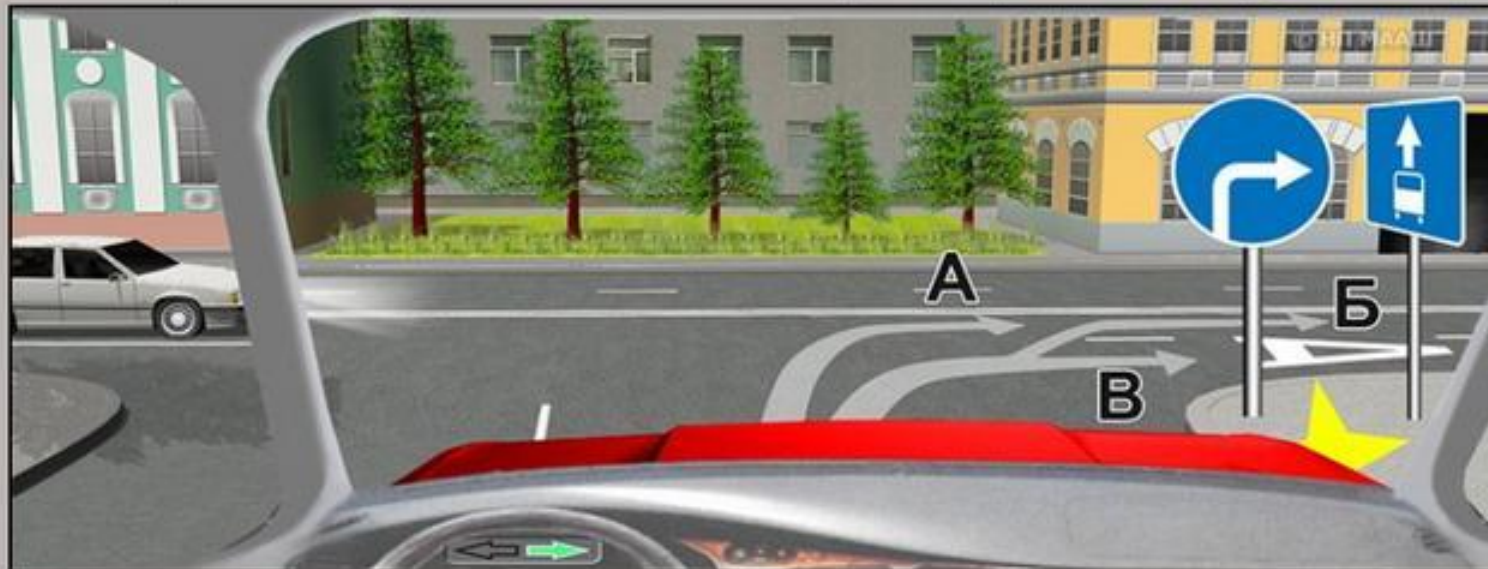
Предыдущий

Следующий

Выбрать

Теория

Закрыть



По какой траектории можно продолжить движение направо на легковом автомобиле?

- 1. Только по А.**
- 2. Только по Б.**
- 3. По А и Б.**
- 4. По Б и В.**
- 5. По любой.**

?

1

2

3

4

5

Пропустить задачу

Подсказка

← Предыдущий

→ Следующий

Выбрать

Теория

Закреть

Укажите правильный номер ответа (клавиши 1-5). Пробел - пропуск задачи

Вопрос 5 из 7

В каких случаях на буксируемом механическом транспортном средстве должна быть включена аварийная сигнализация?

- 1. Только в условиях недостаточной видимости.**
- 2. Только в темное время суток.**
- 3. Во всех случаях, когда осуществляется буксировка.**

?







1

2

3

4

5

Пропустить
задачу Подсказка Предыдущий Следующий Выбрать Теория Закреть

Укажите правильный номер ответа (клавиши 1-5). Пробел - пропуск задачи

Вопрос 2 из 9

На каком расстоянии до встречного транспортного средства Вы должны переключить дальний свет фар на ближний?

- 1. Не менее чем за 150 м.**
- 2. Не менее чем за 300 м.**
- 3. По усмотрению водителя.**

?






1

2

3

4

5

Пропустить
задачу Подсказка Предыдущий Следующий Выбрать Теория Закреть



В данной ситуации Вы:

- 1. Должны уступить дорогу автобусу, начинающему движение от обозначенного места остановки.**
- 2. Имеете преимущество, так как водитель автобуса начинает движение с выездом на вторую полосу.**

?





1

2

3

4

5

Пропустить
задачу Подсказка Предыдущий Следующий Выбрать Теория Закрыть

Обязаны ли Вы переключить дальний свет на ближний, если водитель встречного транспортного средства периодическим переключением света фар покажет необходимость этого?

- 1. Обязаны, только если расстояние до встречного транспортного средства менее 150 м.**
- 2. Обязаны, даже если расстояние до встречного транспортного средства более 150 м.**
- 3. Не обязаны.**

?





1

2

3

4

5

Пропустить
задачу Подсказка Предыдущий Следующий Выбрать Теория Закреть

Как Вы должны поступить при ослеплении Вас дальним светом фар встречных или попутно движущихся транспортных средств?

- 1. Принять вправо (в сторону обочины) и остановиться.**
- 2. Включить аварийную сигнализацию и, не меняя полосы движения, снизить скорость и остановиться.**
- 3. Подавая звуковой сигнал, остановиться.**

?



1


2

3

4

5

Пропустить
задачу Подсказка ← Предыдущий → Следующий Выбрать Теория Закреть



Кто из водителей нарушает правила разворота на автомагистрали?

- 1. Только водитель легкового автомобиля.**
- 2. Только водитель грузового автомобиля, выполняющего ремонтные или уборочные работы.**
- 3. Оба нарушают.**
- 4. Оба не нарушают.**

?

1

2

3

4

5

Пропустить
задачу

Подсказка

← Предыдущий

→ Следующий

Выбрать

Теория

Закреть

**При движении в условиях недостаточной видимости
Вы можете использовать противотуманные фары:**

- 1. Как отдельно, так и совместно с ближним или дальним светом фар.**
- 2. Только отдельно от ближнего или дальнего света фар.**
- 3. Только совместно с ближним или дальним светом фар.**

?





1

2

3

4

5

Пропустить
задачу Подсказка Предыдущий Следующий Выбрать Теория Закреть

Какие внешние световые приборы должны быть включены при посадке детей в транспортное средство, имеющее опознавательные знаки «Перевозка детей», и высадке из него?

- 1. Габаритные огни.**
- 2. Ближний свет фар или противотуманные фары.**
- 3. Аварийная сигнализация.**

?





1

2

3

4

5

Пропустить
задачу Подсказка Предыдущий Следующий Выбрать Теория Закреть

Укажите правильный номер ответа (клавиши 1-5). Пробел - пропуск задачи

Вопрос 3 из 9

Пользователь Аркадий

Задача Б.18.16 Т.18.7

Категория А и В



Обязаны ли Вы уступить дорогу маршрутному транспортному средству, отъезжающему от тротуара, где нет обозначенного места остановки?

- 1. Да.**
- 2. Нет.**

?

1

2

3

4

5

Пропустить
задачу

Подсказка

← Предыдущий

→ Следующий

Выбрать

Теория

Закреть

Укажите правильный номер ответа (клавиши 1-5). Пробел - пропуск задачи

Вопрос 7 из 7

Разрешается ли движение по автомагистрали, если Ваше транспортное средство по техническому состоянию развивает скорость менее 40 км/ч?

- 1. Разрешается.**
- 2. Разрешается только по крайней правой полосе.**
- 3. Запрещается.**

?





1

2

3

4

5

Пропустить
задачу Подсказка ← Предыдущий → Следующий Выбрать Теория Закреть

Вы можете использовать противотуманные фары совместно с ближним или дальним светом фар:

- 1. Только в условиях недостаточной видимости.**
- 2. Только в темное время суток на неосвещенных участках дорог.**
- 3. В обоих перечисленных случаях.**

?






1

2

3

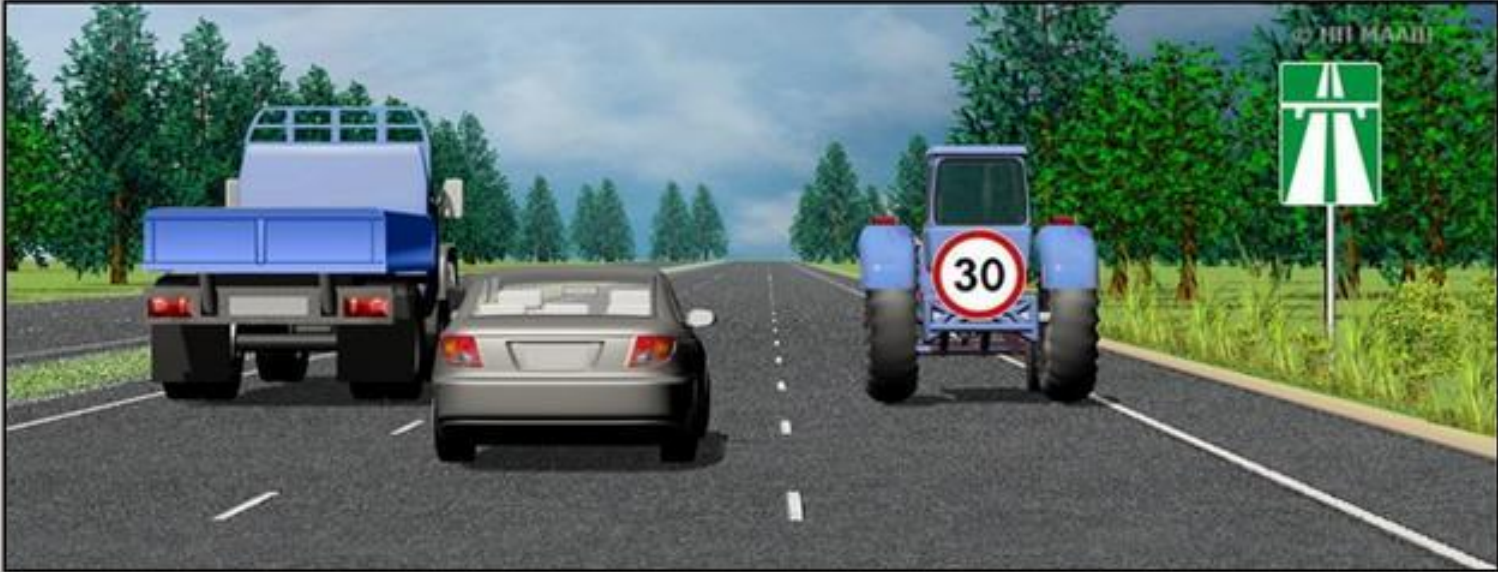
4

5

Пропустить
задачу Подсказка Предыдущий Следующий Выбрать Теория Закреть

Тематические задачи - Движение по автомагистралям

Пользователь Аркадий Задача Б.33.16 Т.16.2 Категория А и В



Кто из водителей нарушает Правила?

- 1. Все водители.**
- 2. Никто из водителей.**
- 3. Только водитель трактора.**
- 4. Только водитель легкового автомобиля.**
- 5. Водители грузового автомобиля и трактора.**

? 1 2 3 4 5 Пропустить задачу

Подсказка ← Предыдущий → Следующий Выбрать Теория Закрывать

Укажите правильный номер ответа (клавиши 1-5). Пробел - пропуск задачи

Вопрос 2 из 13

Вы можете использовать задние противотуманные фонари:

- 1. Только в условиях недостаточной видимости.**
- 2. Только при движении в темное время суток.**
- 3. В обоих перечисленных случаях.**

?





1

2

3

4

5

Пропустить
задачу Подсказка Предыдущий Следующий Выбрать Теория Закреть

Дневные ходовые огни предназначены для:

- 1. Улучшения видимости движущегося транспортного средства в светлое время суток как спереди, так и сзади.**
- 2. Улучшения видимости движущегося транспортного средства в светлое время суток только спереди.**
- 3. Улучшения видимости движущегося транспортного средства в светлое время суток только сзади.**

?





1

2

3

4

5

Пропустить
задачу Подсказка Предыдущий Следующий Выбрать Теория Закреть



Следует ли при движении прямо уступить дорогу трамваю?

- 1. Да.**
- 2. Нет.**

?







1

2

3

4

5

Пропустить
задачу Подсказка Предыдущий Следующий Выбрать Теория Закрыть



Должен ли в этой ситуации водитель, остановившийся из-за неисправности, выставить знак аварийной остановки?

- 1. Должен, если неисправна аварийная сигнализация.**
- 2. Должен во всех случаях.**
- 3. Не должен.**

?

1

2

3

4

5

Пропустить
задачу

Подсказка

Предыдущий

Следующий

Выбрать

Теория

Закрыть

Укажите правильный номер ответа (клавиши 1-5). Пробел - пропуск задачи

Вопрос 4 из 9



Разрешен ли Вам въезд на железнодорожный переезд?

- 1. Да.**
- 2. Да, если отсутствует приближающийся поезд.**
- 3. Нет.**

?

1

2

3

4

5

Пропустить
задачу

Подсказка

← Предыдущий

→ Следующий

Выбрать

Теория

Закреть

Разрешена ли Вам перевозка людей в салоне легкового автомобиля, буксирующего неисправное транспортное средство?

- 1. Разрешена.**
- 2. Разрешена только при буксировке на жесткой сцепке.**
- 3. Запрещена.**

?






1

2

3

4

5

Пропустить
задачу Подсказка ← Предыдущий → Следующий Выбрать Теория Закреть

Пользователь Аркадий

Задача Б.30.16 Т.14.2

Категория А и В

В каком случае водитель транспортного средства, приближающегося к нерегулируемому пешеходному переходу, обязан уступить дорогу пешеходу?

- 1. Если пешеход переходит проезжую часть.**
- 2. Если пешеход вступил на проезжую часть.**
- 3. В обоих перечисленных случаях.**

?







1

2

3

4

5

Пропустить
задачу Подсказка Предыдущий Следующий Выбрать Теория Закреть

Укажите правильный номер ответа (клавиши 1-5). Пробел - пропуск задачи

Вопрос 2 из 4



Разрешен ли Вам въезд на железнодорожный переезд в данной ситуации?

1. Да.
2. Да, если отсутствует приближающийся поезд.
3. Нет.

?

1

2

3

4

5

Пропустить
задачу

Подсказка

← Предыдущий

→ Следующий

Выбрать

Теория

Закреть



**Вы намерены проехать перекресток в прямом направлении.
Ваши действия?**

- 1. Проедете перекресток первым.**
- 2. Уступите дорогу трамваю.**

?







1

2

3

4

5

Пропустить
задачу Подсказка Предыдущий Следующий Выбрать Теория Закрыть

В каком случае водитель автомобиля имеет преимущество перед другими участниками движения?

- 1. Только при включенном проблесковом маячке синего или бело-лунного цвета.**
- 2. Только при включенном проблесковом маячке оранжевого или желтого цвета.**
- 3. Только при включенных проблесковом маячке синего (синего и красного) цвета и специальном звуковом сигнале.**
- 4. Во всех перечисленных случаях.**

?

1






2

3

4

5

Пропустить задачу

 Подсказка Предыдущий Следующий Выбрать Теория Закреть

Укажите правильный номер ответа (клавиши 1-5). Пробел - пропуск задачи

Вопрос 3 из 7



**Вы намерены проехать перекресток в прямом направлении.
Ваши действия?**

- 1. Проедете перекресток первым.**
- 2. Уступите дорогу трамваю.**

?







1

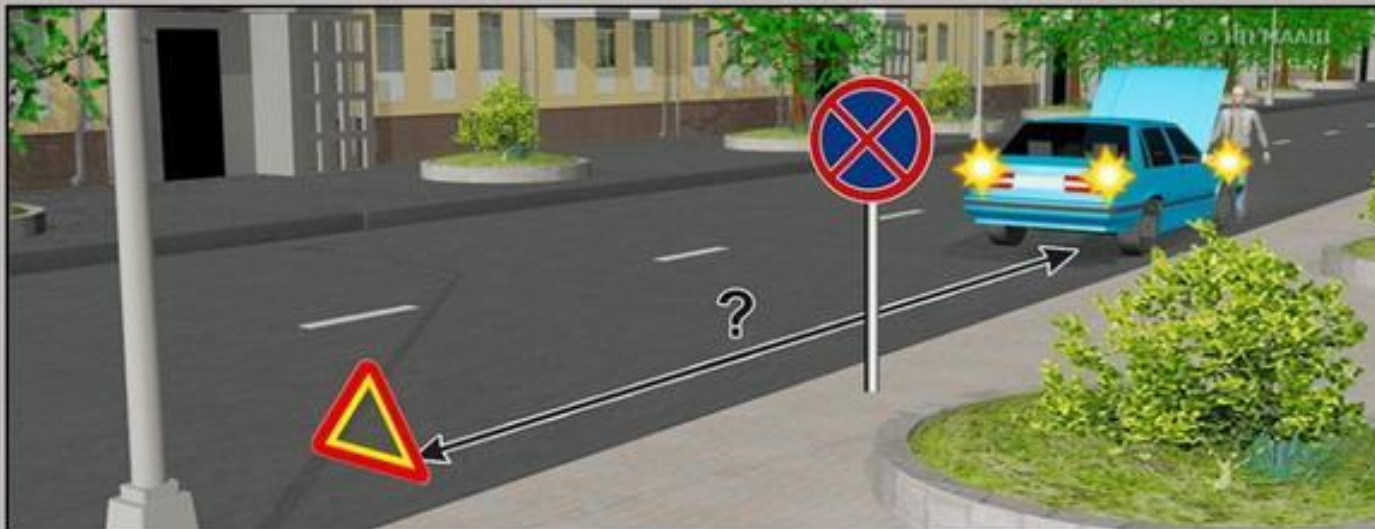
2

3

4

5

Пропустить
задачу Подсказка Предыдущий Следующий Выбрать Теория Закрыть



На каком расстоянии от транспортного средства должен быть выставлен знак аварийной остановки в данной ситуации?

- 1. Не менее 10 м.**
- 2. Не менее 15 м.**
- 3. Не менее 20 м.**
- 4. Не менее 30 м.**

?

1

2

3

4

5

Пропустить задачу

Подсказка

← Предыдущий

→ Следующий

Выбрать

Теория

Закреть

Укажите правильный номер ответа (клавиши 1-5). Пробел - пропуск задачи

Вопрос 5 из 9



**Вы намерены продолжить движение прямо.
Каковы Ваши действия при желтом мигающем сигнале светофора?**

- 1. Уступите дорогу только трамваю.**
- 2. Уступите дорогу только автомобилю.**
- 3. Дождетесь включения зеленого сигнала светофора и продолжите движение.**

?

1

2

3

4

5

Пропустить
задачу

Подсказка

← Предыдущий

→ Следующий

Выбрать

Теория

Закреть



На каких рисунках показана главная дорога?

- 1. Только на левом верхнем.**
- 2. Только на правом верхнем.**
- 3. Только на верхних.**
- 4. На всех.**

?

1

2

3

4

5

Пропустить
задачу

Подсказка

← Предыдущий

→ Следующий

Выбрать

Теория

Закреть

Как Вы должны поступить, если сразу за пешеходным переходом образовался затор?

- 1. Остановиться на пешеходном переходе, если нет пешеходов.**
- 2. Остановиться непосредственно перед пешеходным переходом.**
- 3. Остановиться не ближе 5 м до пешеходного перехода.**

?



1

2


3

4

5

Пропустить
задачу Подсказка Предыдущий

→ Следующий

 Выбрать Теория Закреть

Укажите правильный номер ответа (клавиши 1-5). Пробел - пропуск задачи

Вопрос 3 из 4

Какие из перечисленных требований являются обязательными при перевозке детей?

- 1. Запрещается перевозка детей до 12-летнего возраста на переднем сиденье легкового автомобиля без использования детских удерживающих устройств.**
- 2. Запрещается перевозка детей до 12-летнего возраста на заднем сиденье мотоцикла.**
- 3. Оба требования являются обязательными.**

?

1


2

3


4


5


Пропустить задачу

 Подсказка

 Предыдущий

 Следующий

 Выбрать

 Теория

 Закреть

Разрешается ли Вам буксировать автомобиль с недействующей тормозной системой, если фактическая масса этого автомобиля превышает половину фактической массы Вашего автомобиля?

- 1. Разрешается.**
- 2. Разрешается только при скорости буксировки не более 30 км/ч.**
- 3. Не разрешается.**

?






1

2

3

4

5

Пропустить
задачу Подсказка ← Предыдущий → Следующий Выбрать Теория Закреть



Кто должен уступить дорогу?

- 1. Водитель автомобиля, приближающийся слева.**
- 2. Водитель трамвая.**

?

1

2

3

4

5

Пропустить
задачу

Подсказка

← Предыдущий

→ Следующий

Выбрать

Теория

Закреть

Пользователь Аркадий

Задача Б.14.17 Т.20.8

Категория А и В

Разрешается ли буксировка мотоцикла с боковым прицепом?

- 1. Да.**
- 2. Нет.**

?






1

2

3

4

5

Пропустить
задачу Подсказка Предыдущий Следующий Выбрать Теория Закреть

Укажите правильный номер ответа (клавиши 1-5). Пробел - пропуск задачи

Вопрос 8 из 8



Как Вы должны поступить в данной ситуации?

- 1. Объехать шлагбаум, так как светофор не запрещает движение.**
- 2. Остановиться и продолжить движение только при открытом шлагбауме.**

?

1

2

3

4

5

Пропустить
задачу

Подсказка

← Предыдущий

→ Следующий

Выбрать

Теория

Закреть

Какие внешние световые приборы должны быть включены на транспортном средстве при движении в светлое время суток?

- 1. Только дневные ходовые огни.**
- 2. Только фары ближнего света.**
- 3. Только противотуманные фары.**
- 4. Любые из перечисленных.**



1

2

3

4

5

Пропустить задачу

Подсказка

Предыдущий

Следующий

Выбрать

Теория

Закрыть

Пользователь Аркадий

Задача Б.35.16 Т.15.9

Категория А и В

Как Вы должны поступить с пассажирами при вынужденной остановке на железнодорожном переезде?

- 1. Высадить людей, если принятые меры не позволяют убрать автомобиль с переезда.**
- 2. При появлении поезда высадить людей.**
- 3. Немедленно высадить людей.**

?

1






2

3

4

5

Пропустить задачу

 Подсказка Предыдущий Следующий Выбрать Теория Закреть

Укажите правильный номер ответа (клавиши 1-5). Пробел - пропуск задачи

Вопрос 9 из 10



Обязаны ли Вы уступить дорогу автомобилю «Скорой медицинской помощи» с выключенным проблесковым маячком?

- 1. Да.**
- 2. Нет.**

?

1

2

3

4

5

Пропустить задачу

Подсказка

← Предыдущий

→ Следующий

Выбрать

Теория

Закреть

Укажите правильный номер ответа (клавиши 1-5). Пробел - пропуск задачи

Вопрос 4 из 7

Пользователь Аркадий

Задача Б.22.17 Т.19.19

Категория А и В

Какие внешние световые приборы должны быть включены в светлое время суток на мотоциклах?

- 1. Только габаритные огни.**
- 2. Фара ближнего света или противотуманная фара.**
- 3. Включение внешних световых приборов днем на мотоциклах не предусмотрено.**

?

1




2

3

4


5

Пропустить задачу

 Подсказка Предыдущий Следующий Выбрать Теория Закреть

Укажите правильный номер ответа (клавиши 1-5). Пробел - пропуск задачи

Вопрос 19 из 24



В каком месте Вы должны остановиться в данной ситуации?

- 1. У знака «Движение без остановки запрещено».**
- 2. У знака «Однопутная железная дорога».**
- 3. За 5 м до первого рельса.**
- 4. В любом месте по своему усмотрению.**

?

1

2

3

4

5

Пропустить
задачу

Подсказка

← Предыдущий

→ Следующий

Выбрать

Теория

Закреть

Разрешена ли перевозка детей до 12-летнего возраста на переднем сиденье легкового автомобиля?

- 1. Запрещена.**
- 2. Разрешена только с использованием детских удерживающих устройств.**
- 3. Разрешена только на руках у взрослых.**

?







1

2

3

4

5

Пропустить
задачу Подсказка ← Предыдущий → Следующий Выбрать Теория Закреть



Разрешен ли такой маневр?

- 1. Да, если нет встречных транспортных средств.**
- 2. Да, если между шлагбаумом и остановившимся грузовым автомобилем расстояние 6 м.**
- 3. Нет.**

?

1

2

3

4

5

Пропустить
задачу

Подсказка

← Предыдущий

→ Следующий

Выбрать

Теория

Закреть

Подъехав к трамваю попутного направления, остановившемуся у посадочной площадки, расположенной на проезжей части посередине дороги, Вы должны:

- 1. Остановиться и продолжить движение только после закрытия дверей трамвая.**
- 2. Уступить дорогу пешеходам, идущим к трамваю или от него.**
- 3. Остановиться и продолжить движение только после начала движения трамвая.**

?

1






2

3

4

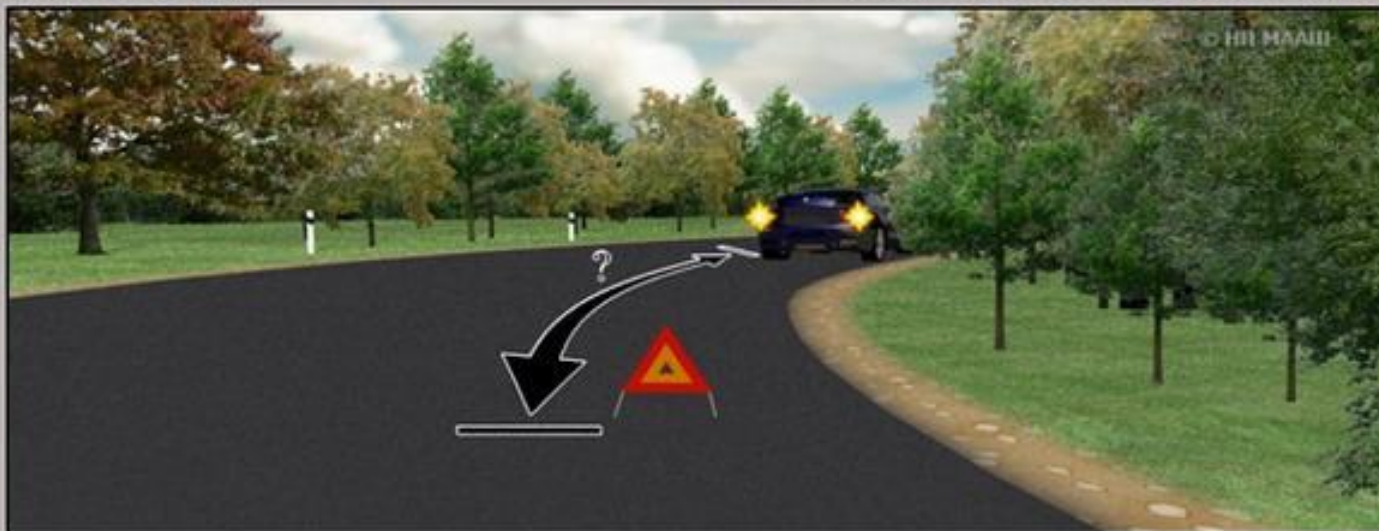
5

Пропустить задачу

 Подсказка Предыдущий Следующий Выбрать Теория Закреть

Укажите правильный номер ответа (клавиши 1-5). Пробел - пропуск задачи

Вопрос 4 из 4



На каком расстоянии от транспортного средства должен быть выставлен знак аварийной остановки в данной ситуации?

- 1. Не менее 15 м.**
- 2. Не менее 20 м.**
- 3. Не менее 30 м.**
- 4. Не менее 100 м.**

?

1

2

3

4

5

Пропустить
задачу

Подсказка

← Предыдущий

→ Следующий

Выбрать

Теория

Закреть

Укажите правильный номер ответа (клавиши 1-5). Пробел - пропуск задачи

Вопрос 6 из 9

Пользователь Аркадий

Задача Б.2.17 Т.20.5

Категория А и В

В каких из перечисленных случаев запрещена буксировка на гибкой сцепке?

- 1. Только на горных дорогах.**
- 2. Только в гололедицу.**
- 3. Только в темное время суток и в условиях недостаточной видимости.**
- 4. Во всех перечисленных случаях.**

?

1






2

3

4

5

Пропустить задачу

 Подсказка ← Предыдущий → Следующий Выбрать Теория Закреть

Укажите правильный номер ответа (клавиши 1-5). Пробел - пропуск задачи

Вопрос 5 из 8

Пользователь Аркадий

Задача Б.9.17 Т.22.3

Категория А и В

Разрешается ли перевозка людей в прицепе-даче?

- 1. Не разрешается.**
- 2. Разрешается.**
- 3. Разрешается при наличии места для сидения.**

?






1

2

3

4

5

Пропустить
задачу Подсказка Предыдущий Следующий Выбрать Теория Закреть

Укажите правильный номер ответа (клавиши 1-5). Пробел - пропуск задачи

Вопрос 3 из 3



Как в данной ситуации должен поступить водитель легкового автомобиля при приближении автомобиля оперативной службы?

- 1. Перестроиться на правую полосу и продолжить движение.**
- 2. Остановиться справа у тротуара.**

?

1

2

3

4

5

Пропустить
задачу

Подсказка

← Предыдущий

→ Следующий

Выбрать

Теория

Закреть

Укажите правильный номер ответа (клавиши 1-5). Пробел - пропуск задачи

Вопрос 5 из 7

**A****Б****В**

Какой знак должен быть закреплен на задней части буксируемого механического транспортного средства при отсутствии или неисправности аварийной сигнализации?

1. А.
2. Б.
3. В.

?

1

2

3

4

5

Пропустить
задачу

Подсказка

Предыдущий

Следующий

Выбрать

Теория

Закреть

Укажите правильный номер ответа (клавиши 1-5). Пробел - пропуск задачи

Вопрос 8 из 9

Пользователь Аркадий

Задача Б.17.17 Т.20.1

Категория А и В

Разрешено ли Вам перевозить людей в буксируемом легковом автомобиле?

- 1. Разрешено.**
- 2. Разрешено только при буксировке на гибкой или жесткой сцепке.**
- 3. Запрещено.**

?


1

2

3


4

5

Пропустить
задачу Подсказка

< Предыдущий

Следующий >

 Выбрать Теория Закрыть

Укажите правильный номер ответа (клавиши 1-5). Пробел - пропуск задачи

Вопрос 1 из 8

В каких случаях разрешено применять звуковые сигналы в населенных пунктах?

- 1. Только для предупреждения о намерении произвести обгон.**
- 2. Только для предотвращения дорожно-транспортного происшествия.**
- 3. В обоих перечисленных случаях.**

?

1





2

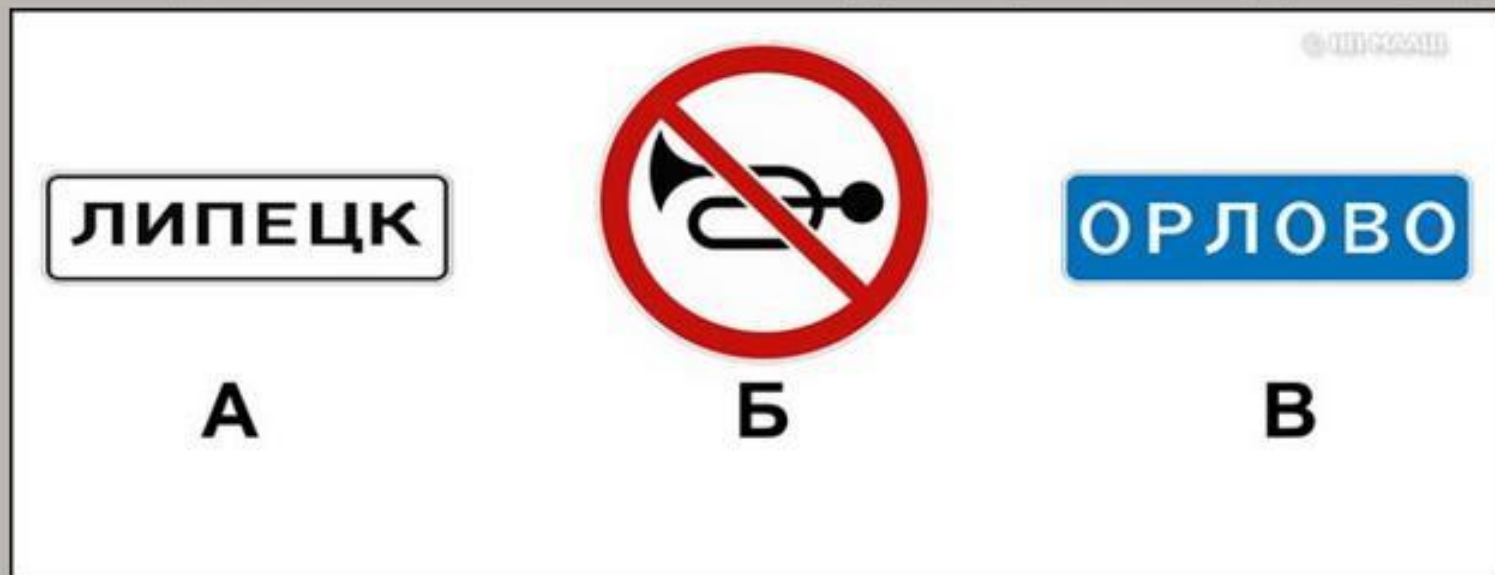
3

4

5

Пропустить задачу

 Подсказка Предыдущий Следующий Выбрать Теория Закреть



В зоне действия каких знаков Правила разрешают подачу звуковых сигналов только для предотвращения дорожно-транспортных происшествий?

- 1. Только А.
- 2. Только Б.
- 3. А и Б.
- 4. А и В.

? 1 2 3 4 5 Пропустить задачу

Подсказка ← Предыдущий → Следующий Выбрать Теория Закреть



Разрешено ли Ван, управляя грузовым автомобилем, совершить опережение в данной ситуации?

- 1. Да, если разрешенная максимальная масса Вашего автомобиля менее 2,5 т.**
- 2. Да, независимо от величины разрешенной максимальной массы Вашего автомобиля.**
- 3. Нет.**

?

1

2

3

4

5

Пропустить
задачу

Подсказка

Предыдущий

Следующий

Выбрать

Теория

Закрыть

Перевозка груза запрещается, если он:

- 1. Выступает более чем на 1 м за габариты транспортного средства спереди или сзади.**
- 2. Закрывает внешние световые приборы, световозвращатели, регистрационные и опознавательные знаки.**
- 3. Установлен на сиденье для пассажиров.**

?







1

2

3

4

5

Пропустить
задачу Подсказка Предыдущий Следующий Выбрать Теория Закреть



**Вы намерены продолжить движение прямо.
При желтом мигающем сигнале светофора Вы должны:**

- 1. Проехать перекресток первым.**
- 2. Уступить дорогу только грузовому автомобилю.**
- 3. Уступить дорогу только трамваю.**
- 4. Уступить дорогу обоим транспортным средствам.**

?

1

2

3

4

5

Пропустить
задачу

Подсказка

Предыдущий

Следующий

Выбрать

Теория

Закрыть

Пользователь Аркадий

Задача Б.34.16 Т.15.10

Категория А и В

Сигналом остановки для машиниста поезда служат:

- 1. Вытянутые в стороны руки.**
- 2. Круговое движение рукой.**
- 3. Поднятая вверх правая рука.**
- 4. Поднятые вверх обе руки.**

?




1

2

3

4

5

Пропустить
задачу Подсказка ← Предыдущий → Следующий Выбрать Теория Закреть

Укажите правильный номер ответа (клавиши 1-5). Пробел - пропуск задачи

Вопрос 10 из 10

Разрешается ли буксировка в гололедицу, если у буксируемого транспортного средства исправны тормоза и рулевое управление?

- 1. Разрешается любым способом.**
- 2. Разрешается на жесткой сцепке или методом частичной погрузки.**
- 3. Не разрешается.**

?







1

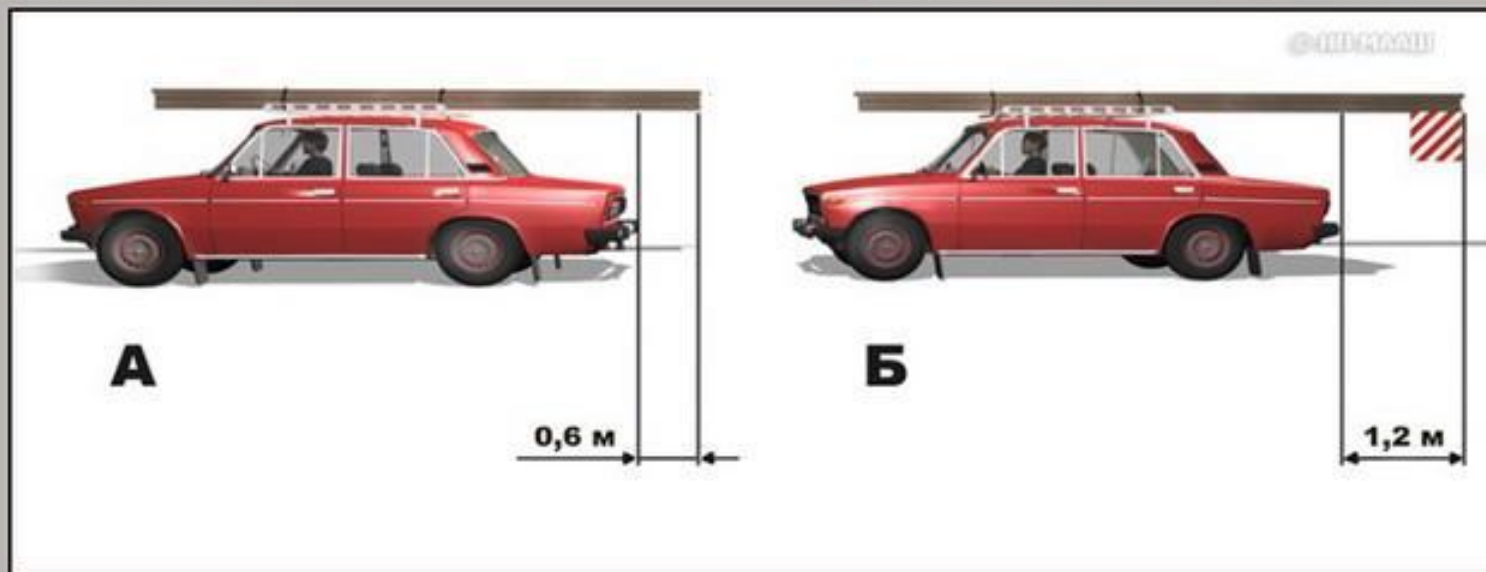
2

3

4

5

Пропустить
задачу Подсказка Предыдущий Следующий Выбрать Теория Закреть



На каком рисунке изображен автомобиль, водитель которого не нарушает правил перевозки грузов?

1. Только на А.
2. Только на Б.
3. На обоих.

?

1

2

3

4

5

Пропустить
задачу

Подсказка

Предыдущий

Следующий

Выбрать

Теория

Закрыть

Как следует обозначить буксируемый автомобиль при отсутствии или неисправности аварийной сигнализации?

- 1. Включить габаритные огни.**
- 2. Включить задний противотуманный фонарь.**
- 3. Установить на задней части буксируемого автомобиля знак аварийной остановки.**

?






1

2

3

4

5

Пропустить
задачу Подсказка Предыдущий Следующий Выбрать Теория Закрыть

Укажите правильный номер ответа (клавиши 1-5). Пробел - пропуск задачи

Вопрос 9 из 9

Какое расстояние должно быть обеспечено между буксирующим и буксируемым транспортными средствами при буксировке на гибкой сцепке?

- 1. Не более 4 м.**
- 2. От 4 до 6 м.**
- 3. Правилами не регламентируется.**

?





1

2

3

4

5

Пропустить
задачу Подсказка ← Предыдущий → Следующий Выбрать Теория Закрыть



Кто из водителей должен уступить дорогу трамваю?

- 1. Оба водителя.**
- 2. Только водитель грузового автомобиля.**
- 3. Только водитель легкового автомобиля.**
- 4. Никто из водителей.**

?

1

2

3

4

5

Пропустить
задачу

Подсказка

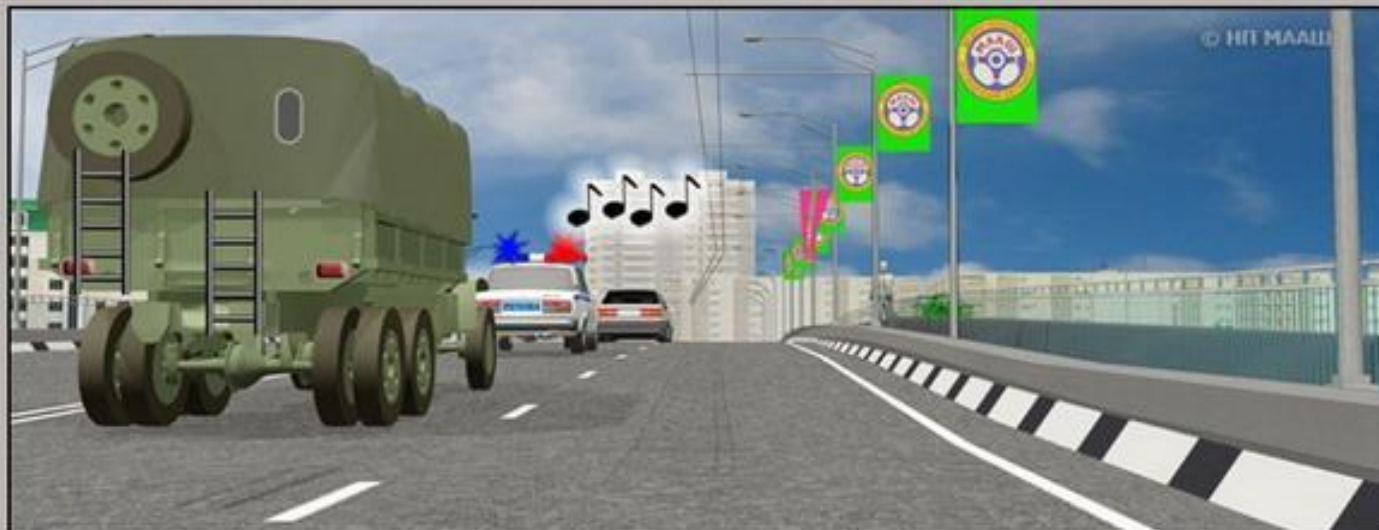
Предыдущий

Следующий

Выбрать

Теория

Закрыть



Как в данной ситуации должен поступить водитель легкового автомобиля при приближении автомобиля оперативной службы, сопровождающего колонну?

- 1. Перестроиться на правую полосу и продолжить движение.**
- 2. Остановиться у тротуара и продолжить движение сразу же после проезда автомобиля оперативной службы.**
- 3. Остановиться у тротуара и продолжить движение только после проезда замыкающего колонну транспортного средства.**

?

1

2

3

4

5

Пропустить задачу

Подсказка

← Предыдущий

→ Следующий

Выбрать

Теория

Закреть

Укажите правильный номер ответа (клавиши 1-5). Пробел - пропуск задачи

Вопрос 6 из 7

Как Вы можете в светлое время суток привлечь внимание водителя обгоняемого автомобиля при движении в населенном пункте?

- 1. Только звуковым сигналом.**
- 2. Только кратковременным переключением фар с ближнего света на дальний.**
- 3. Любым из перечисленных способов, включая совместную подачу этих сигналов.**

?






1

2

3

4

5

Пропустить
задачу Подсказка ← Предыдущий → Следующий Выбрать Теория Закреть



Вы намерены повернуть направо. Ваши действия?

- 1. Уступите дорогу трамваю.**
- 2. Проедете перекресток первым.**

?






1

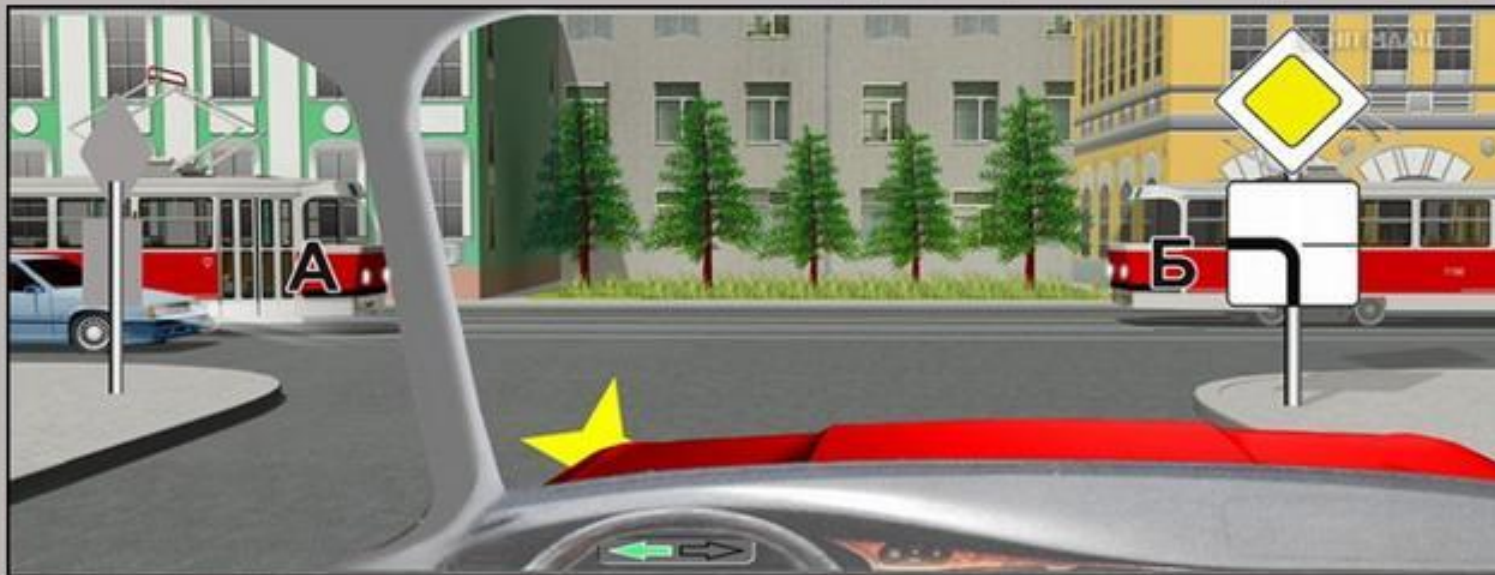
2

3

4

5

Пропустить
задачу Подсказка Предыдущий Следующий Выбрать Теория Закрыть



Вы намерены повернуть налево. Кому следует уступить дорогу?

- 1. Трамваю А и легковому автомобилю.**
- 2. Только трамваю А.**
- 3. Всем транспортным средствам.**
- 4. Никому.**

?

1

2

3

4

5

Пропустить
задачу

Подсказка

← Предыдущий

→ Следующий

Выбрать

Теория

Закреть



А



Б



В

Какой знак используется для обозначения автомобиля при вынужденной остановке в местах, где с учетом условий видимости транспортное средство не может быть своевременно замечено другими водителями?

1. А.
2. Б.
3. В.

?






1

2

3

4

5

Пропустить
задачу Подсказка Предыдущий Следующий Выбрать Теория Закреть

Укажите правильный номер ответа (клавиши 1-5). Пробел - пропуск задачи

Вопрос 7 из 9

Какое расстояние должно быть обеспечено между буксирующим и буксируемым транспортными средствами при буксировке на жесткой сцепке?

- 1. Не более 4 м.**
- 2. От 4 до 6 м.**
- 3. Правилами не регламентируется.**

?






1

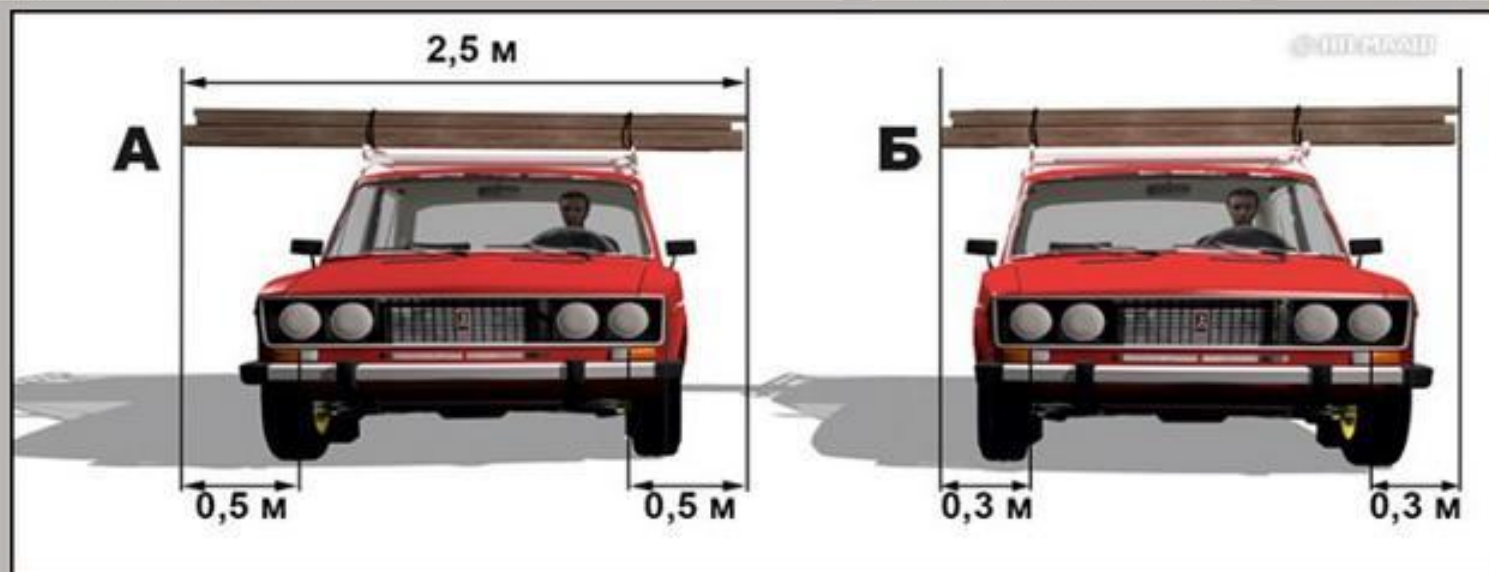
2

3

4

5

Пропустить
задачу Подсказка Предыдущий Следующий Выбрать Теория Закреть



На каком рисунке изображен автомобиль, водитель которого не нарушает правил перевозки грузов?

- 1. Только на А.**
- 2. Только на Б.**
- 3. На обоих.**

?

1

2

3

4

5

Пропустить
задачу

Подсказка


← Предыдущий

→ Следующий

Выбрать

Теория

Закреть



На каком наименьшем расстоянии до ближайшего рельса Вы должны остановиться?

- 1. 5 м.**
- 2. 10 м.**
- 3. 15 м.**
- 4. 20 м.**

?

1

2

3

4

5

Пропустить задачу

Подсказка

← Предыдущий

→ Следующий

Выбрать

Теория

Закреть



Как Вы должны поступить в данной ситуации?

- 1. Снизить скорость и быть готовым в случае необходимости незамедлительно остановиться.**
- 2. Продолжить движение, не изменяя скорости.**
- 3. Остановиться около автомобиля ДПС и продолжить движение только после разрешения сотрудника полиции.**

?

1

2

3

4

5

Пропустить
задачу

Подсказка

Предыдущий

Следующий

Выбрать

Теория

Закрыть

Укажите правильный номер ответа (клавиши 1-5). Пробел - пропуск задачи

Вопрос 7 из 7



Можно ли обучать вождению на этой дороге?

- 1. Можно, используя для движения только правую полосу проезжей части.**
- 2. Можно только при наличии данного опознавательного знака.**
- 3. Нельзя.**

?





1

2

3

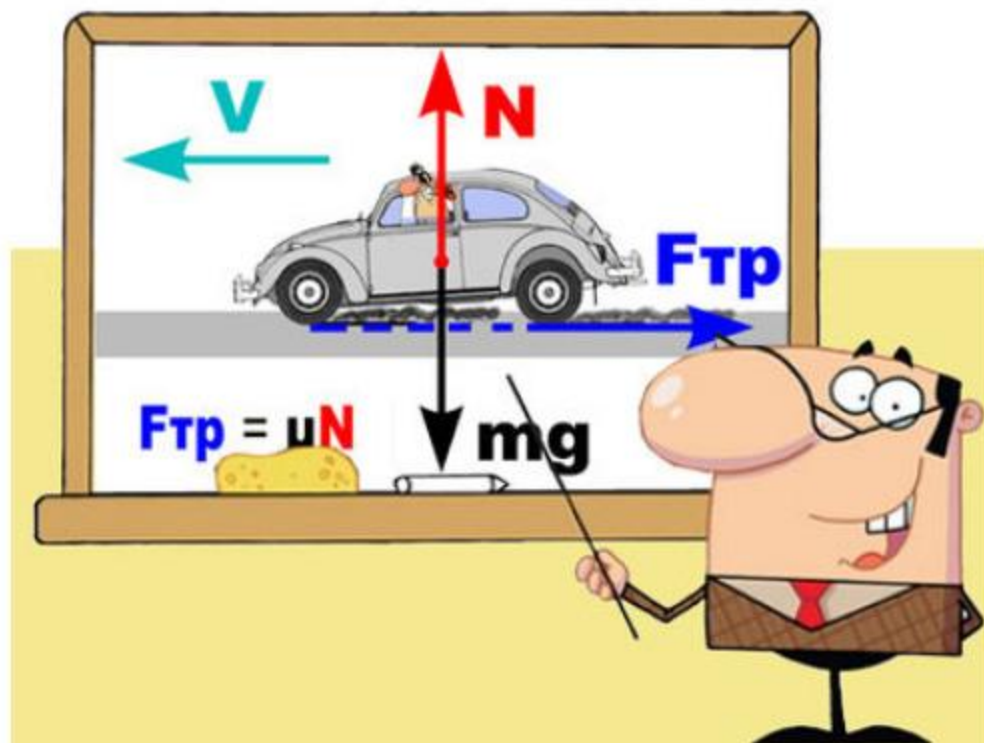
4

5

Пропустить
задачу Подсказка Предыдущий Следующий Выбрать Теория Закрыть

Преподаватель

ПДД > Преподаватель



Козлов Аркадий Юрьевич

Тел. 8 (916) 301-76-07

Почта: arkan100@mail.ru 📧

Сайт ПДД 🌐 - wiki.zr.ru/pdd

Фейсбук 📱

В контакте 📱