


Вычитание
предшествующего
числа





1	5	2	8
2	6	4	9
3	7	6	10



Сравни
выражения, не
вычисляя их







Запиши в левой клеточке число, предшествующее числу в правой клеточке.

1

2

3

4

0

1

6

7

8

9

2

3


На сколько нужно увеличить каждое предшествующее число, чтобы получить последующее?

Запиши: на **1**.






Дополни математические записи к схемам.



$$\square - \square = \square$$



$$\square - \square = \square$$





Выпиши из таблицы сложения ту сумму, которая поможет найти значения разностей.

$$8 - 7 = \boxed{1}$$

$$\boxed{1} + \boxed{7} = \boxed{8}$$

$$5 - 4 = \boxed{1}$$

$$\boxed{} + \boxed{} = \boxed{}$$

$$3 - 2 = \boxed{1}$$

$$\boxed{} + \boxed{} = \boxed{}$$


$$7 - 6 = \boxed{1}$$

$$\boxed{} + \boxed{} = \boxed{}$$





Отметь отрезок, имеющий наибольшую длину.





Начерти отрезки заданной длины: 4 см и 6 см.

