

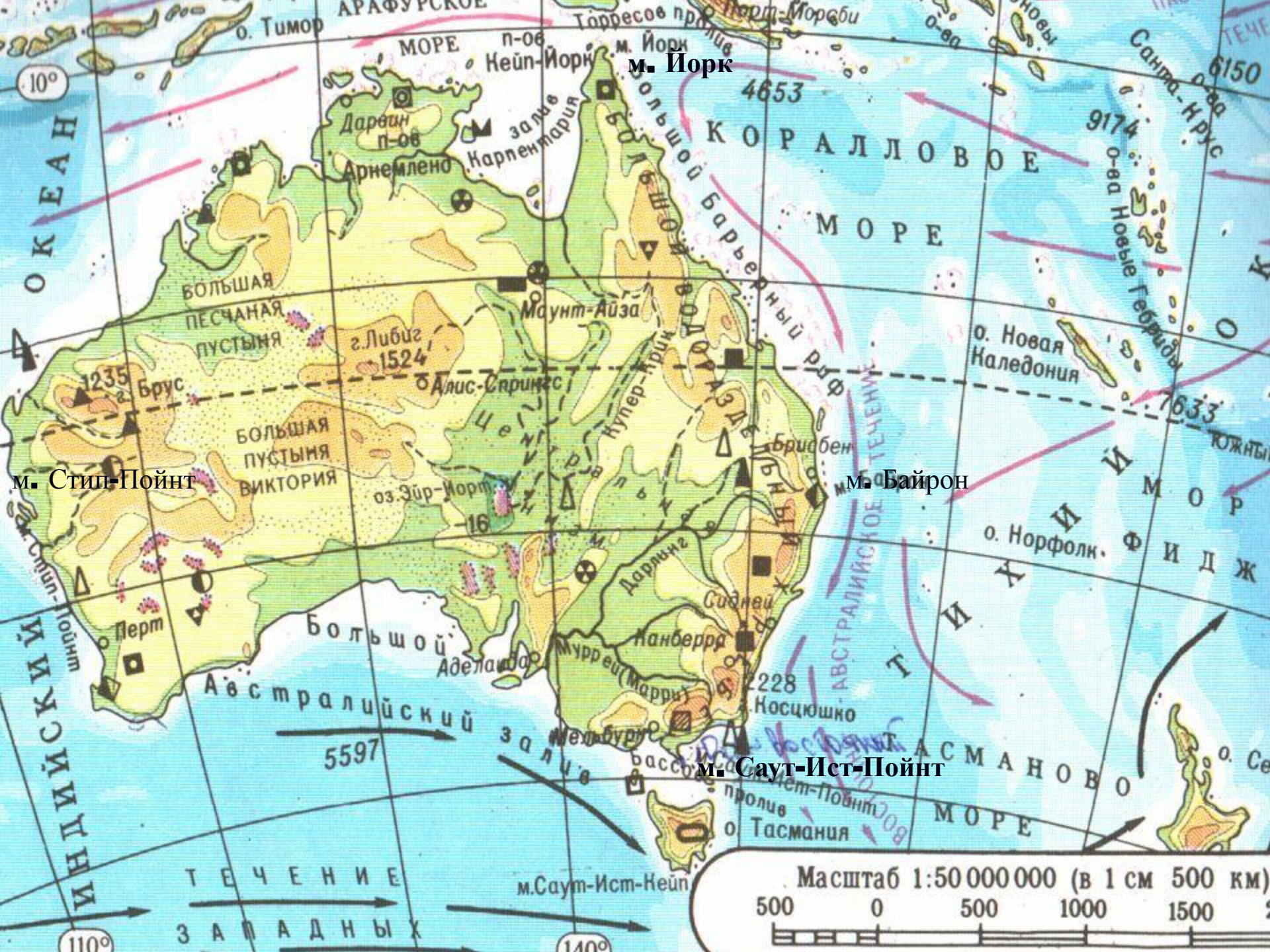
Она располагается под нами.
Там, очевидно, ходят вверх ногами,
Там наизнанку вывернутый год,
Там расцветают в октябре сады,
Там в октябре, а не в июле лето,
Там протекают реки без воды
(они в пустыне пропадают где-то)
Там в зарослях следы бескрылых птиц,
Там кошкам в пищу достаются змеи,
Рождаются зверята из яиц,
И там собаки лаять не умеют,
Деревья сами лезут из коры.

A world map in a circular frame, with the continent of Australia highlighted in a dark green color. The rest of the map is in a light purple-grey tone.

*Физико-географическое
положение и рельеф
Австралии*

Географическое положение материка

- Положение по отношению к экватору, нулевому меридиану, тропикам;
- Соседние материки;
- Океаны, моря, омывающие материк;
- Изрезанность береговой линии;
- Крайние точки.

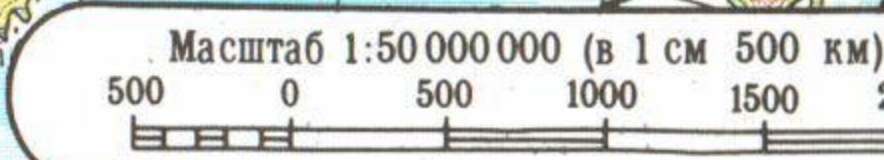


м. Иорк

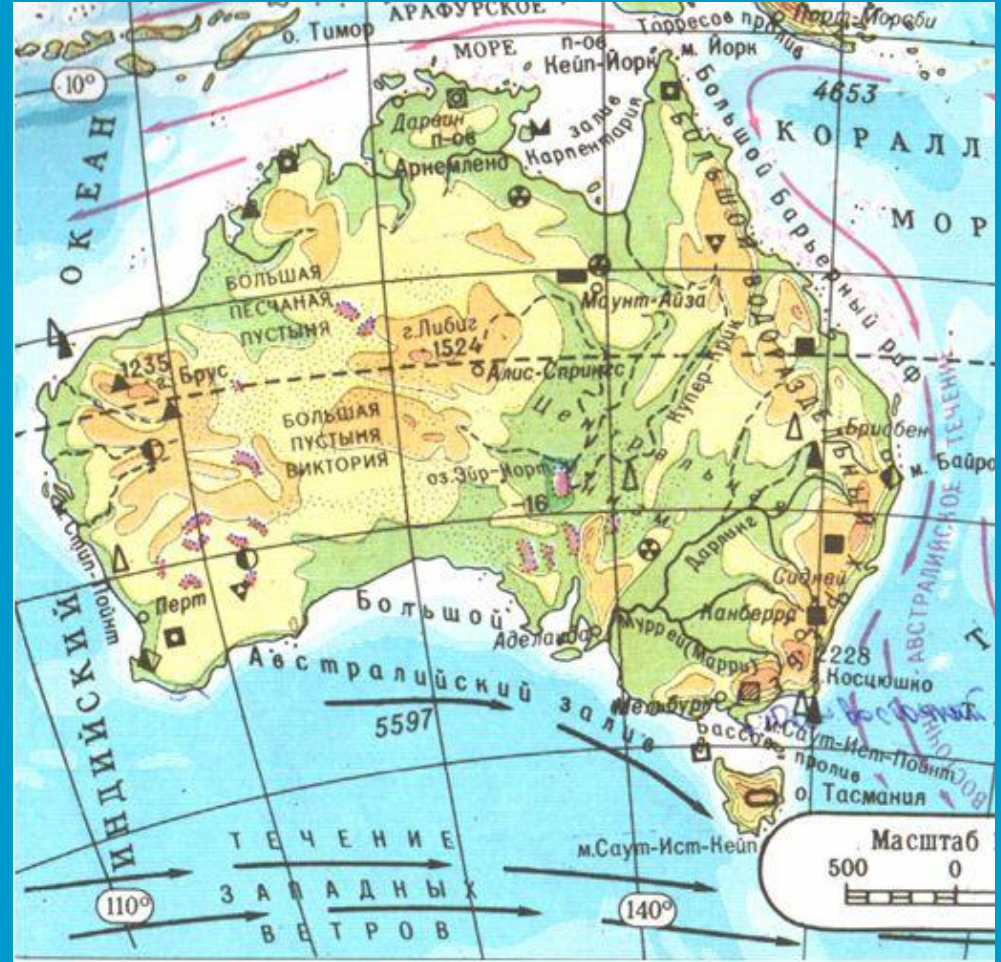
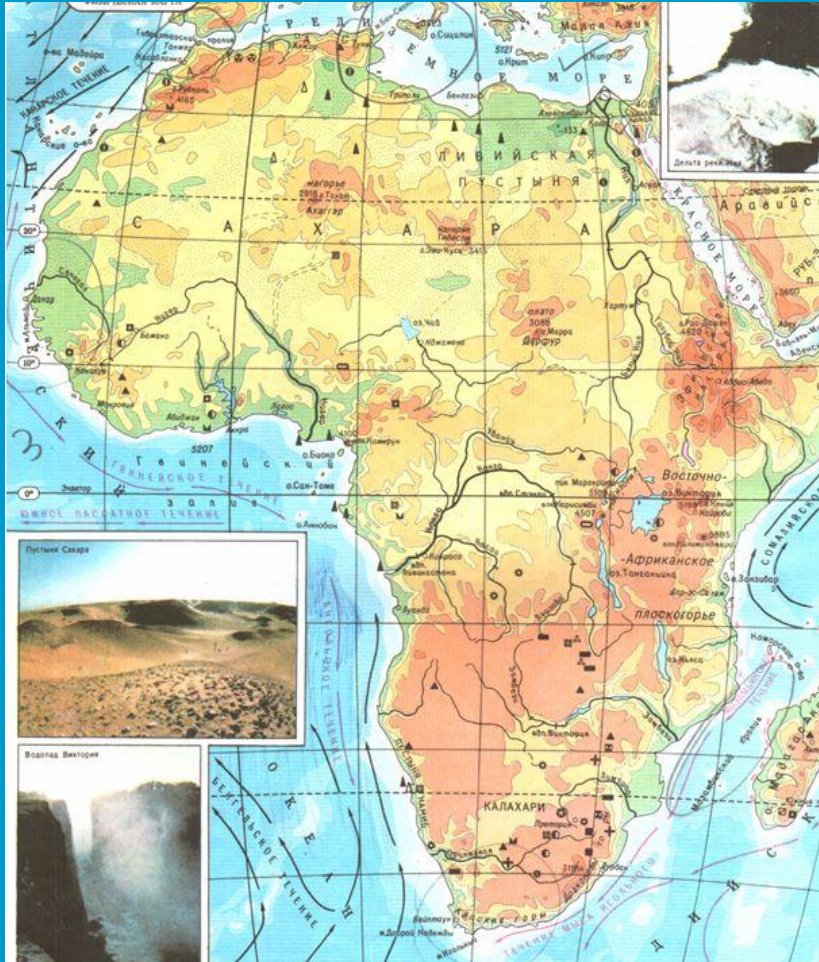
м. Стил-Пойнт

м. Байрон

м. Саут-Ист-Пойнт



Сравните географическое положение Африки и Австралии



Тектоническая карта Австралии





Заполните текст, вставляя пропущенные слова.

Очертания материка Австралия просты, берега _____ изрезаны. Вдоль северо-восточных берегов Австралии более чем на 2000 км тянется полоса коралловых островов и рифов, получившая название _____. Высшая точка Австралии _____. Ее высота равна _____ м. В геологическом прошлом большая половина Австралии была частью материка _____, от которого она отделилась к концу мезозоя. Крайними точками материка являются _____

Домашнее задание

- параграф 31, пункты 1, 2;
- «Мой тренажер» с.32-33, задания 1 - 4, 7
- нанести на контурную карту объекты ФГП и формы рельефа Австралии;
- *сообщение об одном из путешественников - первооткрывателей Австралии;