

# Отгадайте загадки

1. Не видать ее корней,  
Вершина выше тополей,  
Все вверх и вверх она идет,  
Но не растет.....

2. Стала группа гор в цепочку,  
Есть для перевалов точки.  
И конца цепочке нет –  
Это тянется ...

3. Её название – два слова.  
Первое – цветочек с поля.  
Алый, с черной сердцевинкой  
И с дурманящею силой.  
Справа **"Кинли"** напиши,  
Все название найди!



# Где находятся горы?



Эверест 8848 м



Аконкагуа 6960 м



Килиманджаро 5895 м



Эльбрус 5642 м

- Какую форму рельефа мы изучили на прошлом уроке?
- На какие группы горы делятся по абсолютной высоте?
- По карте полушарий определите какие горы пересекает параллель  $30^{\circ}$  ю.ш.
- По карте полушарий определите какие горы расположены вдоль меридиана  $60^{\circ}$  в.д.

*Тема:*

*РАВНИНЫ СУШИ*



Как угрюмый кошмар исполина,  
Поглотивший луга и леса,  
Без конца протянулась равнина  
И краями ушла в небеса.  
И краями пронзила пространство,  
И до звезд прикоснулась вдали,  
Затенив мировое пространство  
Монотонной печалью земли.

К.Бальмонт

***Назовите главное отличие гор от  
равнин***



***Попытайтесь сами сказать, что такое «равнина»***



***Равнины*** – это участки земной поверхности, на которых перепады относительных высот не превышают 200м.





# По характеру рельефа выделяют следующие виды равнин:

Плоские (без перепада  
высот)  
Западно - Сибирская

Холмистые (с перепадом  
высот менее 200 м)  
Восточно - Европейская



**По абсолютной высоте  
выделяют три группы  
равнин:**

**Низменности (0-200м):** Амазонская,  
Прикаспийская

**Возвышенности (200-500м):** Валдайская

**Плоскогорья (500-1000м):**  
Среднесибирское

# Низменность



# Возвышенность



# Плоскогорье

# **Определите каким цветом на физической карте показаны равнины:**

- **Западно – Сибирская равнина**

**(зеленый цвет)**

- **Среднерусская возвышенность**

**(желтый цвет)**

- **Среднесибирское плоскогорье**

**(оранжевый цвет)**

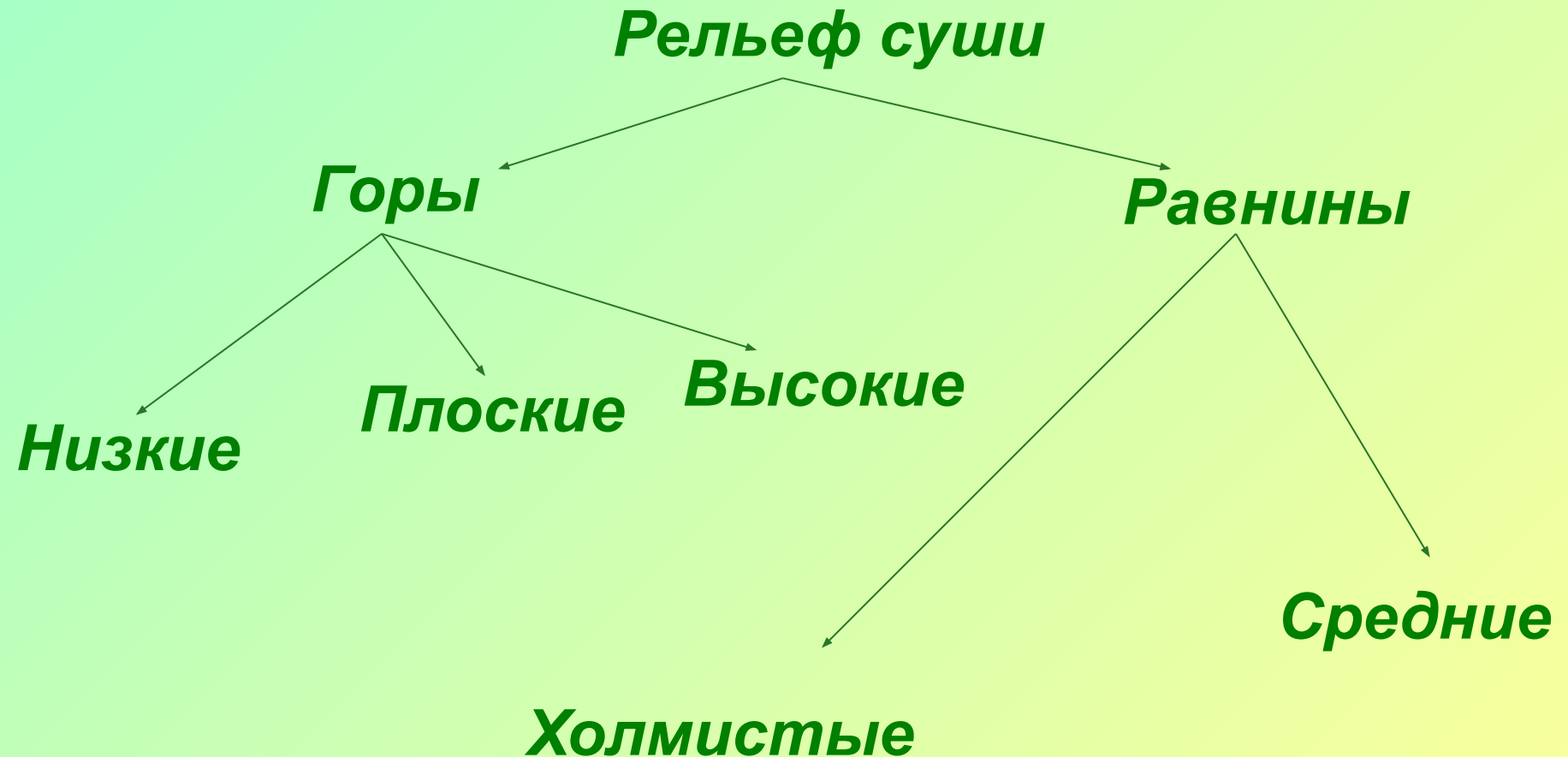
# ***Определите лишнее понятие***

- Западно-Сибирская
- Амазонская
- Восточно-Европейская
- Кордильеры
- Среднесибирское


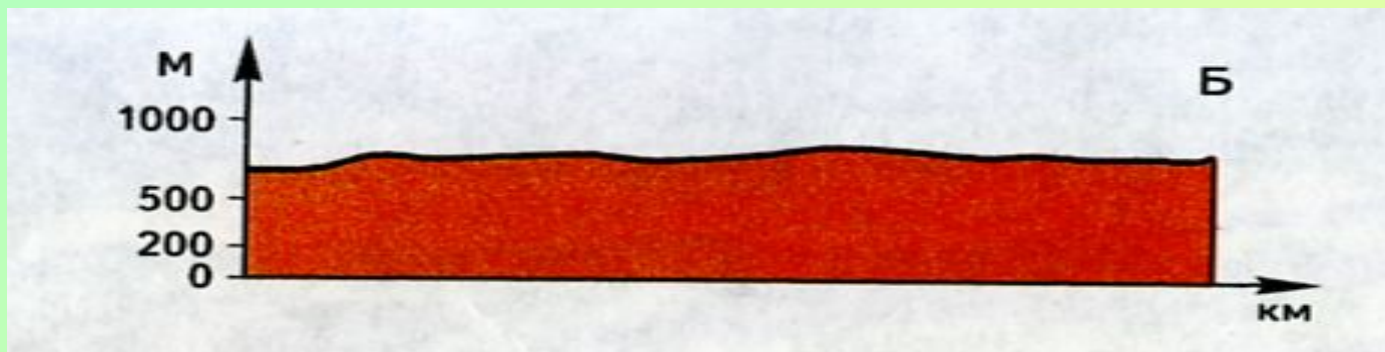
# ***Определите лишнее понятие***

- Амазонская
- Среднерусская
- Западно-Сибирская
- Восточно-Европейская

# Какая ошибка допущена в классификации?



# Определите, какой вид равнин изображен на профиле





# *Домашнее задание*

1. § 21, стр. 63, упр. 4 (письменно)

2. Нанести на контурную карту:

- Восточно – Европейскую равнину
- Западно – Сибирскую равнину
- Амазонскую низменность
- Среднерусскую возвышенность
- Среднесибирское плоскогорье

3. (По желанию)

Составить кроссворд по теме «Рельеф»