

РОБОЧИЙ ЗОШИТ-КОНСПЕКТ
з дисципліни
«ПРАВИЛА ДОРОЖНЬОГО РУХУ»

Назва навчального закладу: _____

Практичні роботи виконав студент (учень): _____

Мобільний телефон _____

Електронна адреса _____

Група _____ Категорія _____ Аудиторія _____

Викладач (ПІБ): _____

Електронна адреса _____

РОЗКЛАД ЗАНЯТЬ

	Понеділок	Вівторок	Середа	Четвер	П'ятниця	Субота	Неділя
Час проведення							
Аудиторія							

РОЗКЛАД КОНСУЛЬТАЦІЙ

	Понеділок	Вівторок	Середа	Четвер	П'ятниця	Субота	Неділя
Час проведення							
Аудиторія							

ВСТУП

Робочий зошит-конспект – це місток між засвоєнням теоретичного матеріалу і застосуванням отриманих знань на практиці для розв'язування завдань.

Є така приказка : краще один раз побачити, ніж сім разів почути.

А ми з Вами підемо далі і доповнимо цю приказку: краще один раз зробити, ніж один раз побачити! Це слід віднести до роботи у нашому зошиті – конспекті над навчальним матеріалом з Правил дорожнього руху.

Звичайно, на опрацювання навчального матеріалу з дисципліни “Правила дорожнього руху” за допомогою даного робочого зошита – конспекту потрібен деякий час. Але дайте, будь ласка, відповідь на запитання: яким чином кандидат у водії під час навчання повинен зрозуміти і запам'ятати суть усіх пунктів ПДР? Тільки за допомогою розв'язування завдань якогось одного видавництва? Звичайно, це добре, що є такі завдання , але вони не відображають 100% суті усіх пунктів ПДР. А ВИ повинні бути готові дати відповідь на запитання, пов'язане з будь-яким пунктом Правил дорожнього руху !

Використання даного робочого зошита-конспекту дозволяє суттєво покращити ефективність проведення занять і самостійної роботи над навчальним матеріалом. Звичайно, текст Правил дорожнього руху – понад усе, але опрацювання навчального матеріалу за допомогою робочого зошита-конспекту дозволить ВАМ не тільки краще запам'ятати зміст тексту пунктів ПДР, але й краще його зрозуміти. Набуті таким чином знання ВИ можете застосовувати на практиці. Як підсумок, ВИ будете впевнено почувати себе на дорозі !

Під час роботи із завданнями слід мати Правила дорожнього руху, ручку із пастою чорного або синього кольору , кольорові олівці (зелений , жовтий , червоний і оранжевий) або багатокольорову ручку .



Порядок роботи:

- прослухайте пояснення викладача теоретичного матеріалу;
- уважно прочитайте текст конкретного пункту Правил дорожнього руху;
- виконайте вказані завдання;
- після виконання всіх завдань на рисунку, спробуйте пояснити своїми словами суть зображеної на малюнку ситуації відповідно до тексту конкретного пункту Правил дорожнього руху, попередньо закривши цей текст пункту;
- розв'яжіть тематичні завдання.

В останньому завданні по кожній темі перед розв'язуванням тематичних завдань, необхідно самостійно пронумерувати завдання в таблиці, тому що у кожного викладача може бути своя система кодування номерів. В одній таблиці після кожної теми вистачає місця для 240 завдань.

У кожній таблиці в першому стовпчику є такі позначення: **З** і **В**. Ці позначення слід розшифрувати наступним чином: **З** – номер завдання; **В** – номер відповіді.

Під час виконання завдань слід пам'ятати:

- нумерація завдань, рисунків і таблиць в кожній темі окрема;
- межі між завданнями одного пункту розділяються такою лінією  , а межі між пунктами ПДР розділяються такою лінією 

**АВТОРСЬКИЙ КОЛЕКТИВ БАЖАЄ ВАМ
СКЛАСТИ ЕКЗАМЕН З ПЕРШОГО РАЗУ !!!**

1. ЗАГАЛЬНІ ПОЛОЖЕННЯ

Пункт 1.1. Уважно прочитайте пункт 1.1 і виконайте наступні завдання

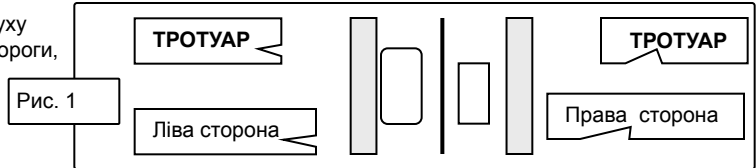
Завдання 1. Напишіть, що встановлює єдиний порядок дорожнього руху на всій території України.

Завдання 2. Напишіть, на чому повинно ґрунтуватися перевезення спеціальних вантажів.

Завдання 3. Напишіть, на чому повинен ґрунтуватися порядок дорожнього руху на закритій території.

Пункт 1.2. Уважно прочитайте пункт 1.2 і виконайте наступне завдання

Завдання 4. Вкажіть стрілками напрямки руху транспортних засобів на проїзній частині дороги, якщо рух здійснюється в Україні (рис. 1).



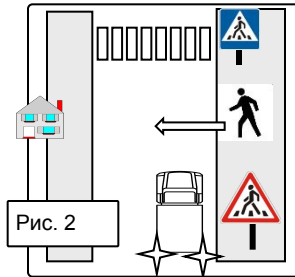
Пункт 1.3. Уважно прочитайте пункт 1.3 і виконайте наступне завдання

Завдання 5. Напишіть, які вимоги ставляться до учасників дорожнього руху.

1. _____
2. _____
3. _____

Пункт 1.4. Уважно прочитайте пункт 1.4 і виконайте наступне завдання

Завдання 6. Напишіть, хто із учасників дорожнього руху не виконує Правила дорожнього руху: водій вантажного автомобіля чи пішохід (рис. 2).



Пункт 1.5. Уважно прочитайте пункт 1.5 і виконайте наступне завдання

Завдання 7. Напишіть, що повинна зробити особа, яка створила небезпеку чи перешкоду для руху.

Пункт 1.6. Уважно прочитайте пункт 1.6 і виконайте наступні завдання

Завдання 8. Напишіть, на підставі якого Закону дозволяється використовувати дороги не за їхнім призначенням.

Завдання 9. Наведіть приклад щодо використання доріг не за їхнім призначенням.

Пункт 1.7. Уважно прочитайте пункт 1.7 і виконайте наступне завдання

Завдання 10. Напишіть, до яких категорій учасників дорожнього руху водії, пішоходи та пасажери зобов'язані бути особливо уважними.

1. _____ 2. _____
3. _____

Пункт 1.8. Уважно прочитайте пункт 1.8 і виконайте наступне завдання

Завдання 11. Напишіть, яким чином можуть бути запроваджені обмеження в дорожньому русі, крім передбачених цими Правилами.

Пункт 1.9. Уважно прочитайте пункт 1.9 і виконайте наступне завдання

Завдання 12. Напишіть, до якої відповідальності можуть бути притягнуті особи, які порушують Правила дорожнього руху.

Пункт 1.10. Терміни, що наведені у цих Правилах, мають таке значення:

Завдання 13. Пронумеруйте за порядком всі терміни, які викладені в пункті 1.10 у Ваших навчальних посібниках з Правил дорожнього руху.

Примітка: в наведеній таблиці № 1 і далі за текстом пункту 1.10 застосована авторська нумерація термінів (1. АВТОБУС, 2. АВТОМАГІСТРАЛЬ, ... 77. УЗБІЧЧЯ, 78. УЧАСНИК ДОРОЖНЬОГО РУХУ, 79. ШЛЯХОПРОВІД), яку Ви (студенти, курсанти, учні) повинні продублювати у своїх навчальних посібниках з Правил дорожнього руху.

Перелік термінів згідно пункту 1.10 ПДР

Таблиця № 1

№ п/п	Назва термінів	Номер групи	Стор.
1	Автобус	2	8
2	Автомагістраль	6	29
3	Автомобільна дорога, вулиця (дорога)	3	11
4	Автомобільні дороги державного значення	3	12
5	Автопоїзд (транспортний состав)	2	8
6	Безпечна дистанція	4	24
7	Безпечний інтервал	4	24
8	Безпечна швидкість	4	24
9	Буксирування	7	32
10	Вантажний автомобіль	2	8
11	Велосипед	2	8
12	Велосипедист	1	6
13	Велосипедна доріжка	3	19
14	Видимість у напрямку руху	5	28
15	Вимушена зупинка	4	23
16	Випередження	4	22
17	Власник транспортного засобу	7	31
18	Водій	1	6
19	Габаритно-ваговий контроль	2	10
20	Газон	3	17
21	Гальмовий шлях	4	23
22	Головна дорога	4	25
23	Дати дорогу	4	24
24	Денні ходові вогні	7	33
25	Дозволена максимальна маса	2	10
26	Дорожньо-транспортна пригода	7	33
27	Дорожні роботи	3	21
28	Дорожні умови	5	26
29	Дорожня обстановка	5	27
30	Експлуатація транспортного состава	7	32
31	Естакада	3	20
32	Житлова зона	6	30
33	Залишення місця дорожньо-транспортної пригоди	7	33
34	Залізничний переїзд	6	30
35	Засліплення	5	28
36	Зупинка	4	23
37	Колона пішоходів	7	31
38	Колона транспортних засобів	7	32
39	Край проїзної частини	3	13
40	Крайнє положення на проїзній частині	4	21
41	Легковий автомобіль	2	8
42	Маневрування (маневр)	4	22
43	Маршрутні транспортні засоби (транспортні засоби загального користування)	2	9
44	Механічний транспортний засіб	2	7
45	Мікроавтобус	2	8
46	Міст	3	20
47	Мопед	2	8
48	Мотоцикл	2	8
49	Населений пункт	6	29
50	Небезпека для руху	5	28
51	Недостатня видимість	5	27
52	Обгін	4	22
53	Обмежена оглядовість	5	26
54	Оглядовість	5	26
55	Острівець безпеки	3	16
56	Пасажир	1	6
57	Перевага	4	24
58	Перевезення організованих груп дітей	7	31
59	Перешкода для руху	5	28
60	Перехрестя	3	17
61	Пішохід	1	6
62	Пішохідний перехід	3	18
63	Пішохідна доріжка	3	19
64	Прилегла територія	4	25
65	Причіп	2	8
66	Проїзна частина	3	13
67	Регулювальник	1	5
68	Рейковий транспортний засіб	2	9
69	Розділювальна смуга	3	14
70	Смуга руху	3	14
71	Стоянка	4	23
72	Темна пора доби	5	28
73	Транспортний засіб	2	7
74	Трамвайна колія	2	9
75	Тротуар	3	15
76	Удосконалене покриття	3	21
77	Узбіччя	3	15
78	Учасник дорожнього руху	1	5
79	Шляхопровід	3	20

Для швидкого знаходження будь-якого терміна з переліком відповідних завдань до нього, в робочому зошиті-конспекті розміщено перелік (зміст), в якому всі терміни знаходяться в алфавітному порядку (як у Правилах дорожнього руху - пункт 1.10). Номер сторінки для кожного терміна відповідає його приналежності до конкретної групи, кожна із яких об'єднує терміни, які близькі за значенням і використанням. Для чого потрібні цей перелік термінів і розподіл їх по групах? Відповідь: Для кращого розуміння значення всіх термінів, їхнього взаємозв'язку в дорожній обстановці.

Для кращого розуміння значення всіх термінів, їхнього взаємозв'язку в дорожньої обстановці всі терміни розподілені за такими групами (табл. № 2):

Група №1: 67. РЕГУЛЮВАЛЬНИК; 78. УЧАСНИК ДОРОЖНЬОГО РУХУ

Група №2: ТРАНСПОРТНІ ЗАСОБИ

Група №3: ДОРОГА ТА ЇЇ ЕЛЕМЕНТИ

Група №4: ПОРЯДОК РУХУ ТА ПРІОРИТЕТНІСТЬ

Група №5: ДОРОЖНЯ ОБСТАНОВКА, ВИДИМІСТЬ ТА ОГЛЯДОВІСТЬ ДОРОГИ

Група №6: ОСОБЛИВІ ТЕРИТОРІЇ ТА ЗОНИ, НА ЯКИХ ДІЮТЬ СПЕЦІАЛЬНІ ПРАВИЛА

Група №7: ІНШІ ТЕРМІНИ.

Таблиця № 2

ЗАГАЛЬНА СИСТЕМАТИЗОВАНА ТАБЛИЦЯ ТЕРМІНІВ

<p><u>Група №1: стор. 5-6</u> <u>67. РЕГУЛЮВАЛЬНИК</u></p>	
<p><u>78. УЧАСНИК ДОРОЖНЬОГО РУХУ</u></p>	
<p><u>18. ВОДІЙ</u></p>	<p><u>61. ПІШОХІД</u></p>
<p><u>56. ПАСАЖИР</u></p>	<p><u>12. ВЕЛОСИПЕДИСТ</u></p>
<p><u>Група №2:</u> стор. 8-11 <u>ТРАНСПОРТНІ ЗАСОБИ</u></p>	<p><u>Група №3:</u> стор. 12-22 <u>ДОРОГА ТА ЇЇ ЕЛЕМЕНТИ</u></p>
<p>73. ТРАНСПОРТНИЙ ЗАСІБ 44. МЕХАНІЧНИЙ ТРАНСПОРТНИЙ ЗАСІБ 1. АВТОБУС 45. МІКРОАВТОБУС 41. ЛЕГКОВИЙ АВТОМОБІЛЬ 10. ВАНТАЖНИЙ АВТОМОБІЛЬ 65. ПРИЧІП 5. АВТОПОЇЗД 48. МОТОЦИКЛ 47. МОПЕД 11. ВЕЛОСИПЕД 43. МАРШРУТНИЙ ТРАНСПОРТНИЙ ЗАСІБ 68. РЕЙКОВИЙ ТРАНСПОРТНИЙ ЗАСІБ 74. ТРАМВАЙНА КОЛІЯ 25. ДОЗВОЛЕНА МАКСИМАЛЬНА МАСА 19. ГАБАРИТНО-ВАГОВИЙ КОНТРОЛЬ</p>	<p>3. АВТОМОБІЛЬНА ДОРОГА 4. АВТОМОБІЛЬНІ ДОРОГИ ДЕРЖАВНОГО ЗНАЧЕННЯ 66. ПРОЇЗНА ЧАСТИНА 39. КРАЙ ПРОЇЗНОЇ ЧАСТИНИ 70. СМУГА РУХУ 69. РОЗДІЛЮВАЛЬНА СМУГА 75. ТРОТУАР 77. УЗБІЧЧЯ 55. ОСТРИВЕЦЬ БЕЗПЕКИ 20. ГАЗОН 60. ПЕРЕХРЕСТЯ 62. ПІШОХІДНИЙ ПЕРЕХІД 63. ПІШОХІДНА ДОРІЖКА 13. ВЕЛОСИПЕДНА ДОРІЖКА 46. МІСТ 31. ЕСТАКАДА 79. ШЛЯХОПРОВІД 76. УДОСКОНАЛЕНЕ ПОКРИТТЯ 27. ДОРОЖНІ РОБОТИ</p>
<p><u>Група №5:</u> стор. 27-30 <u>ДОРОЖНЯ ОБСТАНОВКА, ВИДИМІСТЬ ТА ОГЛЯДОВІСТЬ ДОРОГИ</u></p>	<p><u>Група №6:</u> стор. 30-31 <u>ОСОБЛИВІ ТЕРИТОРІЇ ТА ЗОНИ, НА ЯКИХ ДІЮТЬ СПЕЦІАЛЬНІ ПРАВИЛА</u></p>
<p>54. ОГЛЯДОВІСТЬ 53. ОБМЕЖЕНА ОГЛЯДОВІСТЬ 28. ДОРОЖНІ УМОВИ 29. ДОРОЖНЯ ОБСТАНОВКА 51. НЕДОСТАТНЯ ВИДИМІСТЬ 14. ВИДИМІСТЬ У НАПРЯМКУ РУХУ 72. ТЕМНА ПОРА ДОБИ 35. ЗАСЛІПЛЕННЯ 59. ПЕРЕШКОДА ДЛЯ РУХУ 50. НЕБЕЗПЕКА ДЛЯ РУХУ</p>	<p>2. АВТОМАГІСТРАЛЬ 49. НАСЕЛЕНИЙ ПУНКТ 32. ЖИТЛОВА ЗОНА 34. ЗАЛІЗНИЧНИЙ ПЕРЕЇЗД</p>
<p><u>Група №4:</u> стор. 22-26 <u>ПОРЯДОК РУХУ ТА ПРІОРИТЕТНІСТЬ</u></p>	<p><u>Група №7:</u> стор. 32-34 <u>ІНШІ ТЕРМІНИ</u></p>
<p>40. КРАЙНЄ ПОЛОЖЕННЯ НА ПРОЇЗНІЙ ЧАСТИНІ 42. МАНЕВРУВАННЯ 16. ВИПЕРЕДЖЕННЯ 52. ОБГІН 36. ЗУПИНКА 71. СТОЯНКА 15. ВИМУШЕНА ЗУПИНКА 21. ГАЛЬМОВИЙ ШЛЯХ 6. БЕЗПЕЧНА ДИСТАНЦІЯ 7. БЕЗПЕЧНИЙ ІНТЕРВАЛ 8. БЕЗПЕЧНА ШВИДКІСТЬ 57. ПЕРЕВАГА 23. ДАТИ ДОРОГУ 22. ГОЛОВНА ДОРОГА 64. ПРИЛЕГЛА ТЕРИТОРІЯ</p>	<p>17. ВЛАСНИК ТРАНСПОРТНОГО ЗАСОБУ 37. КОЛОНА ПІШОХОДІВ 58. ПЕРЕВЕЗЕННЯ ОРГАНІЗОВАНИХ ГРУП ДІТЕЙ 30. ЕКСПЛУАТАЦІЯ ТРАНСПОРТНОГО СОСТАВА 9. БУКСИРУВАННЯ 38. КОЛОНА ТРАНСПОРТНИХ ЗАСОБІВ 24. ДЕННІ ХОДОВІ ВОГНІ 26. ДОРОЖНЬО-ТРАНСПОРТНА ПРИГОДА 33. ЗАЛИШЕННЯ МІСЦЯ ДОРОЖНЬО-ТРАНСПОРТНОЇ ПРИГОДИ</p>

Зразок виконання нумерації

1. ЗАГАЛЬНІ ПОЛОЖЕННЯ

Рис. 3

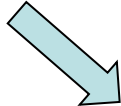
1.10 Терміни, що наведені у цих Правилах, мають таке значення:

автобус – автомобіль з кількістю місць для сидіння більше дев'яти з місцем водія включно, який за своєю конструкцією та обладнанням призначений для перевезення пасажирів та їх багажу із забезпеченням необхідного комфорту та безпеки;

75 тротуар – елемент дороги, призначений для руху пішоходів, який прилягає до проїзної частини або відокремлений від неї газоном;

Для кращого розуміння вище сказаного розглянемо приклад знаходження термінів **№23 ДАТИ ДОРОГУ**, **№57 ПЕРЕВАГА** у робочому зошиті-конспекті. Ці терміни відносяться до групи **№4 (ПОРЯДОК РУХУ ПО ДОРОЗІ ТА ПРІОРИТЕТНІСТЬ)** і мають порядкові номери 57 і 23 (Ви повинні особисто пронумерувати всі терміни в навчальному посібнику з Правил дорожнього руху перед початком вивчення теми «Загальні положення»). Номер сторінки в робочому зошиті-конспекті – **25**. На цій сторінці розміщені відповідні завдання до термінів **ДАТИ ДОРОГУ** і **ПЕРЕВАГА**.

Нижче наводимо приклад відповідних завдань для цих термінів, які згруповані з метою розуміння і показу їх взаємозв'язку у дорожній обстановці. Якщо є бажання, то можете виконати в якості розминки ці наведені завдання.



Група №4:
стор.22-26

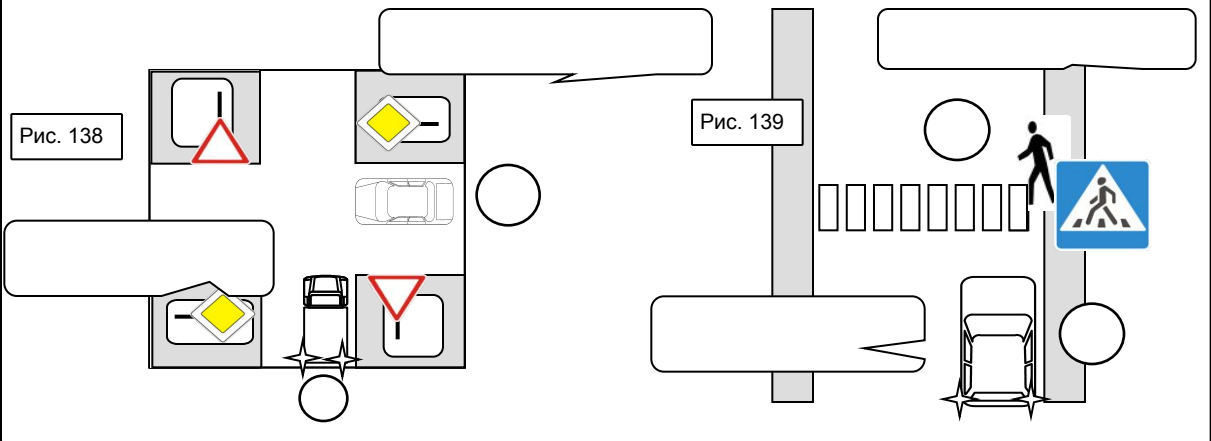
**ПОРЯДОК
РУХУ ТА
ПРІОРИТЕТНІСТЬ**

- 40. КРАЙНЄ ПОЛОЖЕННЯ НА ПРОЇЗНІЙ ЧАСТИНІ
- 42. МАНЕВРУВАННЯ
- 16. ВИПЕРЕДЖЕННЯ
- 52. ОБГІН
- 36. ЗУПИНКА
- 71. СТОЯНКА
- 15. ВИМУШЕНА ЗУПИНКА
- 21. ГАЛЬМОВИЙ ШЛЯХ
- 6. БЕЗПЕЧНА ДИСТАНЦІЯ
- 7. БЕЗПЕЧНИЙ ІНТЕРВАЛ
- 8. БЕЗПЕЧНА ШВИДКІСТЬ
- 57. ПЕРЕВАГА
- 23. ДАТИ ДОРОГУ
- 22. ГОЛОВНА ДОРОГА
- 64. ПРИЛЕГЛА ТЕРИТОРІЯ

Визначення №57, №23. Уважно прочитайте визначення №57 ПЕРЕВАГА, №23 ДАТИ ДОРОГУ і виконайте наступні завдання

Завдання 133. Напишіть у виносках, хто має перевагу, а хто повинен дати дорогу (рис. 138-139).

Завдання 134. Напишіть у кружечках цифри, які свідчать про порядок руху (рис. 138-139).



Група №1: РЕГУЛЮВАЛЬНИК, УЧАСНИК ДОРОЖНЬОГО РУХУ, ВОДИЙ, ПІШОХІД, ПАСАЖИР, ВЕЛОСИПЕДИСТ

Визначення №67. Уважно прочитайте визначення №67 РЕГУЛЮВАЛЬНИК і виконайте наступні завдання

Завдання 14. Напишіть під рисунками, за допомогою чого регулювальник виконує регулювання дорожнього руху (рис. 4).

Завдання 15. Напишіть, у чому повинен виконувати регулювання поліцейській.

Рис. 4

Завдання 16. Напишіть у виносках назви осіб, які прирівнюються до РЕГУЛЮВАЛЬНИКА (рис. 5)).

Рис. 5

до РЕГУЛЮВАЛЬНИКА прирівнюються

Завдання 17. Напишіть, що повинні мати особи, які прирівнюються до РЕГУЛЮВАЛЬНИКА.

1. _____ 2. _____

3. _____ 4. _____

Завдання 18. Напишіть, у чому повинні виконувати регулювання дорожнього руху особи, які прирівнюються до РЕГУЛЮВАЛЬНИКА.

Визначення №78. Уважно прочитайте визначення №78 УЧАСНИК ДОРОЖНЬОГО РУХУ і виконайте наступне завдання

Завдання 19. Напишіть під рисунками назви осіб, які беруть безпосередню участь у процесі руху на дорозі (рис.6-9).



Рис. 6



Рис. 7



Рис. 8





Рис. 9

**Визначення №18. Уважно прочитайте визначення
№18 ВОДІЙ і виконайте наступні завдання**

Завдання 20. Напишіть, який документ повинен мати водій. _____

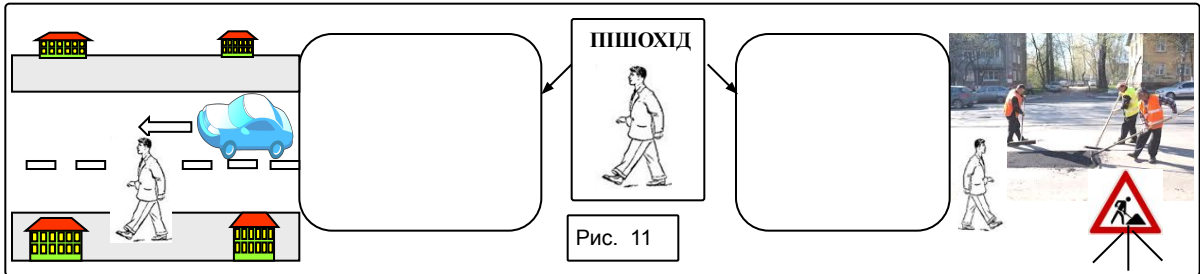
Завдання 21. Напишіть, які можуть бути види посвідчень водія.

Завдання 22. Напишіть у виносках, хто є водієм, а хто – ні (рис. 10).




**Визначення №61. Уважно прочитайте визначення
№61 ПІШОХІД і виконайте наступні завдання**

Завдання 23. Напишіть у виносках ознаки, за якими особа прирівнюється до пішохода (рис.11).




Завдання 24. Напишіть під рисунками назви осіб, хто також може прирівнюватися до пішоходів (рис. 12-17).



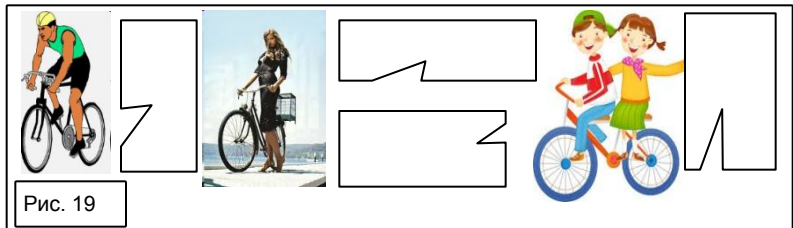
**Визначення №56. Уважно прочитайте визначення
№56 ПАСАЖИР і виконайте наступне завдання**

Завдання 25. Напишіть у виносках ознаки, за якими особа прирівнюється до пасажир (рис. 18).



**Визначення №12. Уважно
прочитайте визначення
№12 ВЕЛОСИПЕДИСТ і
виконайте наступне
завдання**

Завдання 26. Напишіть у виносках назви осіб (рис. 19).



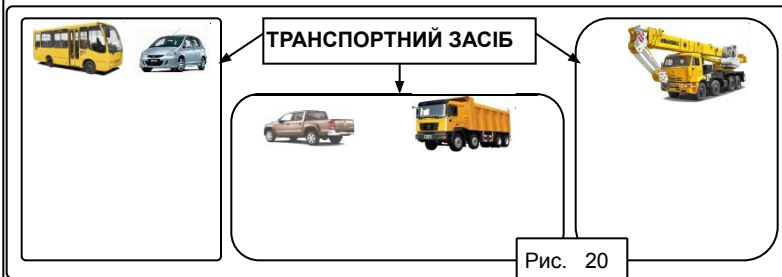
Група №2 ТРАНСПОРТНІ ЗАСОБИ

- 73. ТРАНСПОРТНИЙ ЗАСІБ
- 44. МЕХАНІЧНИЙ ТРАНСПОРТНИЙ ЗАСІБ
- 3. АВТОБУС
- 45. МІКРОАВТОБУС
- 41. ЛЕГКОВИЙ АВТОМОБІЛЬ
- 10. ВАНТАЖНИЙ АВТОМОБІЛЬ
- 65. ПРИЧІП
- 5. АВТОПОЇЗД
- 48. МОТОЦИКЛ
- 47. МОПЕД
- 11. ВЕЛОСИПЕД
- 43. МАРШРУТНИЙ ТРАНСПОРТНИЙ ЗАСІБ
- 68. РЕЙКОВИЙ ТРАНСПОРТНИЙ ЗАСІБ
- 74. ТРАМВАЙНА КОЛІЯ
- 25. ДОЗВОЛЕНА МАКСИМАЛЬНА МАСА
- 19. ГАБАРИТНО-ВАГОВИЙ КОНТРОЛЬ

Визначення №73. Уважно прочитайте визначення

№73 ТРАНСПОРТНИЙ ЗАСІБ і виконайте наступне завдання

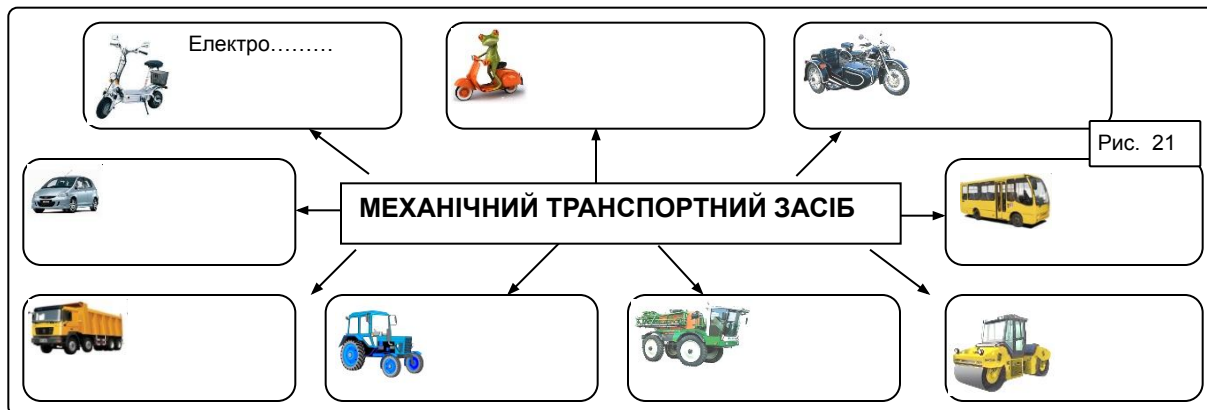
Завдання 27. Напишіть у виносках призначення кожного зображеного транспортного пристрою (рис. 20).



Визначення №44. Уважно прочитайте визначення №44 МЕХАНІЧНИЙ ТРАНСПОРТНИЙ ЗАСІБ і виконайте наступні завдання

Завдання 28. Напишіть, яка головна ознака механічного транспортного засобу.

Завдання 29. Напишіть у виносках назви транспортних засобів, що відносяться до механічних (рис.21).



Визначення №1. Уважно прочитайте визначення №1 АВТОБУС і виконайте наступне завдання

Завдання 30. Знаючи визначення терміна АВТОБУС згідно з ПДР, вставте пропущені слова, використовуючи підказки-рисунок (рис. 22).


- це автомобіль, який за своєю
Конструкцією та обладнанням
призначений для _____ та їх _____ із

забезпеченням _____ та _____

Рис. 22

Визначення №1. Визначення №45. Визначення №41.
Уважно прочитайте визначення №1 “АВТОБУС”, №45 МІКРОАВТОБУС,
№41 ЛЕГКОВИЙ АВТОМОБІЛЬ і виконайте наступне завдання.

Завдання 31. Напишіть у виносках назви зображених транспортних засобів і максимальну кількість пасажирів з місцем водія включно (рис. 23).



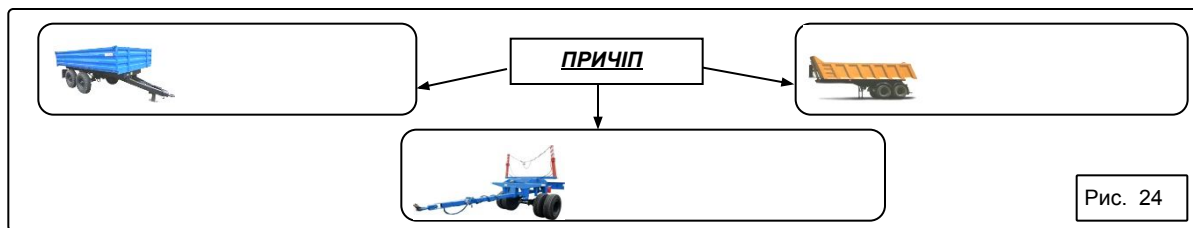
Визначення №10. Уважно прочитайте визначення
№10 ВАНТАЖНИЙ АВТОМОБІЛЬ і виконайте наступне завдання

Завдання 32. Напишіть, яке основне призначення вантажного автомобіля.



Визначення №65. Уважно прочитайте визначення
№65 ПРИЧІП і виконайте наступне завдання

Завдання 33. Напишіть у виносках назви транспортних засобів, що відносяться до причепа (рис. 24).



Визначення №5. Уважно прочитайте визначення
№5 АВТОПОЇЗД (транспортний состав) і виконайте
наступні завдання



Завдання 34. Напишіть, скільки може мати причепів автопоїзд (рис.25).



Рис. 25

Завдання 35. Напишіть, за допомогою чого з'єднується механічний транспортний засіб із причепами.

Визначення №47. Визначення №48. Уважно прочитайте визначення №47
МОПЕД, визначення №48 МОТОЦИКЛ і виконайте наступне завдання



Завдання 36. Прочитавши ці визначення, напишіть, що є схожим у цих визначеннях, а що – відмінним.

Визначення №11. Уважно прочитайте визначення №11 ВЕЛОСИПЕД
і виконайте наступні завдання

Завдання 37. Напишіть, чим приводиться в рух велосипед (рис. 26).

Рис. 26



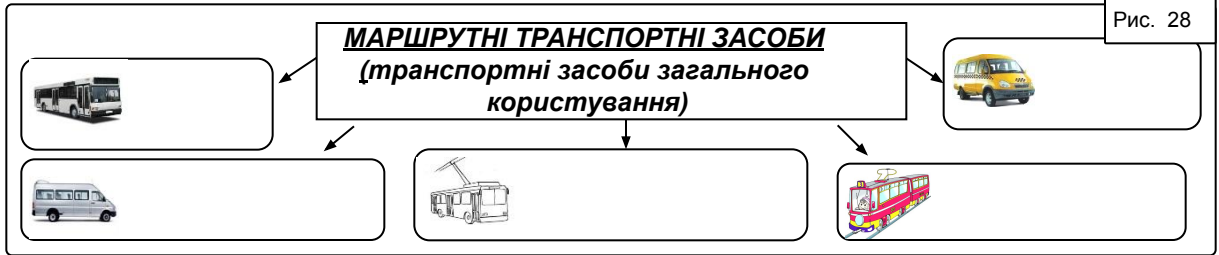
Завдання 38. Напишіть, який транспортний засіб не відноситься до велосипедів (рис.27)

Рис. 27

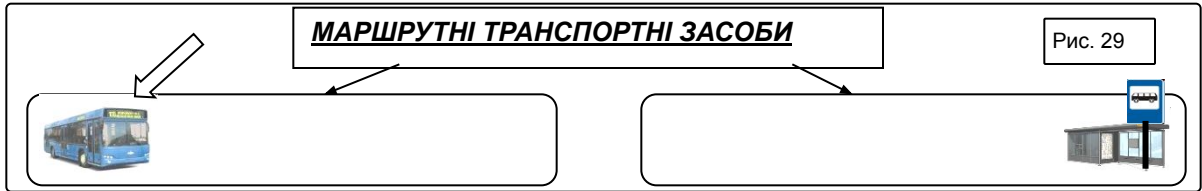


Визначення №43. Уважно прочитайте визначення №43 **МАРШРУТНІ ТРАНСПОРТНІ ЗАСОБИ (транспортні засоби загального користування) і виконайте наступні завдання**

Завдання 39. Напишіть у виносках назви транспортних засобів, що відносяться до маршрутних транспортних засобів (рис. 28).



Завдання 40. Напишіть у виносках, чим визначається маршрутний транспортний засіб (рис.29).




Визначення №68. Уважно прочитайте визначення №68 **РЕЙКОВИЙ ТРАНСПОРТНИЙ ЗАСІБ і виконайте наступне завдання**

Завдання 41. Напишіть під рисунками назви транспортних засобів, що належать до рейкових.

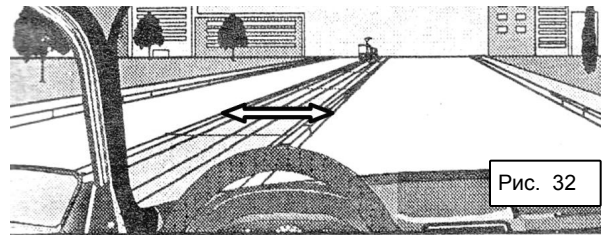

Вкажіть стрілкою на рисунку і напишіть, що є основною ознакою рейкового транспортного засобу (рис. 30).

Рис. 30



Визначення №74. Уважно прочитайте визначення №74 **ТРАМВАЙНА КОЛІЯ і виконайте наступні завдання**

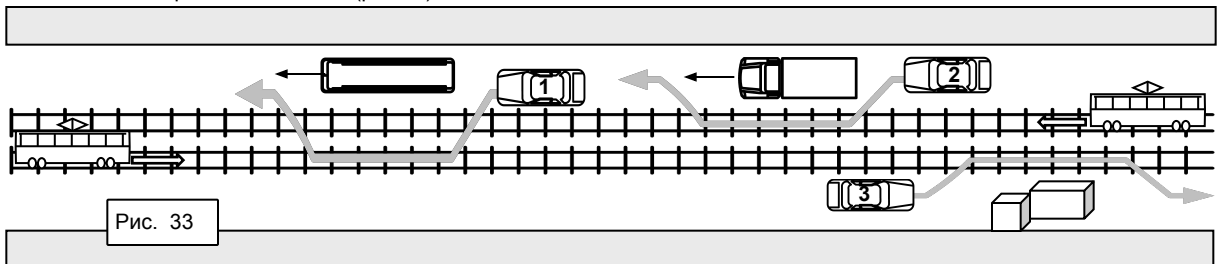
Завдання 42. Використовуючи зображені стрілки, напишіть під рисунками, чим обмежується по ширині трамвайна колія. (рис. 31-32).



Для кращого розуміння про дозволений рух нерейкових транспортних засобів по трамвайним коліям, уважно прочитайте пункти 11.8, 11.9 і виконайте наступні завдання.

Завдання 43. Розфарбуйте зеленим кольором стрілку, яка вказує дозволену траєкторію руху легкових автомобілів по трамвайних коліях (рис.33).

Завдання 44. Закресліть хрестиком червоного кольору стрілку, яка вказує заборонену траєкторію руху легкових автомобілів по трамвайних коліях (рис.33).



Визначення №25. Уважно прочитайте визначення №25 “ДОЗВОЛЕНА МАКСИМАЛЬНА МАСА” і виконайте наступні завдання

Завдання 45. Напишіть під рисунком назви складових дозволеної максимальної маси (рис. 34).





Дозволена максимальна маса =  +  +  + 

Рис. 34

Завдання 46. Напишіть, чим встановлена дозволена максимальна маса.

Завдання 47. Напишіть, дозволена максимальна маса - це величина постійна чи ні.

Завдання 48. Напишіть, що позначає споряджена маса транспортного засобу і фактична маса транспортного засобу: споряджена маса транспортного засобу _____

фактична маса транспортного засобу _____

Завдання 49. Напишіть, чому дорівнює дозволена максимальна маса автопоїзда. (рис. 35).

Рис. 35



Дозволена максимальна маса тягача

Дозволена максимальна маса причепа

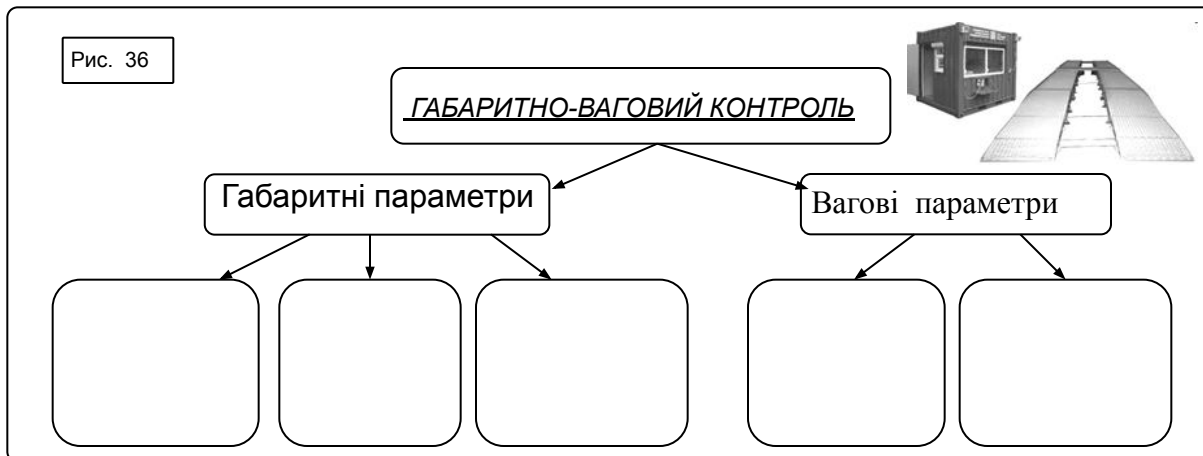
Завдання 50. Напишіть, чи дозволяється рухатися за знак 3.15 його фактична маса складає 13 т: 9 т - тягач і 4 т - причіп.



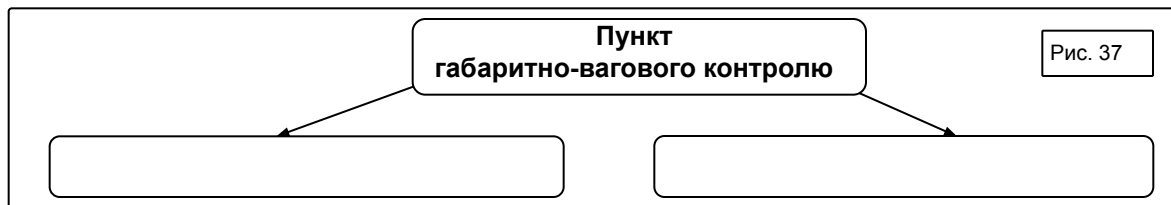
даному автопоїзду, якщо він без вантажу і _____

Визначення №19. Уважно прочитайте визначення №19 “ ГАБАРИТНО-ВАГОВИЙ КОНТРОЛЬ ” і виконайте наступні завдання

Завдання 51. Напишіть у виносках назви габаритних і вагових показників (рис. 36).



Завдання 52. Напишіть у виносках, які є пункти габаритно-вагового контролю (рис.37).



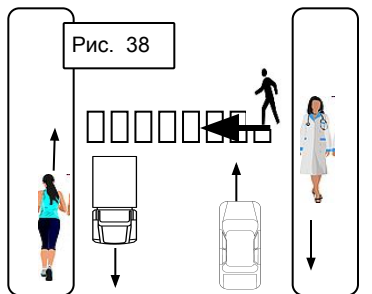
**Група №3 ДОРОГА
ТА ЇЇ ЕЛЕМЕНТИ**

- 3. АВТОМОБІЛЬНА ДОРОГА
- 4. АВТОМОБІЛЬНА ДОРОГА
ДЕРЖАВНОГО ЗНАЧЕННЯ
- 66. ПРОЇЗНА ЧАСТИНА
- 39. КРАЙ ПРОЇЗНОЇ ЧАСТИНИ
- 70. СМУГА РУХУ
- 69. РОЗДІЛЮВАЛЬНА СМУГА
- 75. ТРОТУАР
- 77. УЗБІЧЧЯ
- 55. ОСТРІВЕЦЬ БЕЗПЕКИ
- 20. ГАЗОН
- 60. ПЕРЕХРЕСТЯ
- 62. ПІШОХІДНИЙ ПЕРЕХІД
- 63. ПІШОХІДНА ДОРІЖКА
- 13. ВЕЛОСИПЕДНА ДОРІЖКА
- 31. ЕСТАКАДА
- 46. МІСТ
- 79. ШЛЯХОПРОВІД
- 76. УДОСКОНАЛЕНЕ ПОКРИТТЯ
- 27. ДОРОЖНІ РОБОТИ

ДОРОГА ТА ЇЇ ЕЛЕМЕНТИ

**Визначення №3. Уважно прочитайте визначення
№3 АВТОМОБІЛЬНА ДОРОГА, ВУЛИЦЯ
і виконайте наступні завдання**

Завдання 53. Напишіть під рисунком призначення автомобільної дороги (рис. 38).



Завдання 54. Розшифруйте, що відноситься до засобів організації дорожнього руху на дорозі (пункт 8.1 ПДР), (рис. 39).

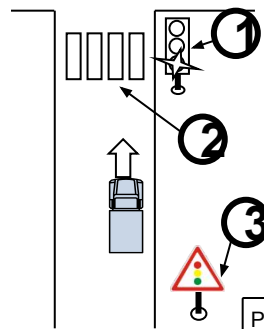


Рис. 39

1 _____

2 _____

3 _____

Завдання 55. Напишіть назви елементів автомобільної дороги поза населеним пунктом (рис. 40-41).

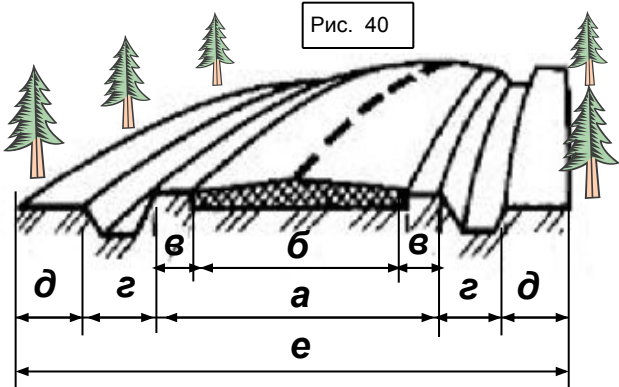


Рис. 40

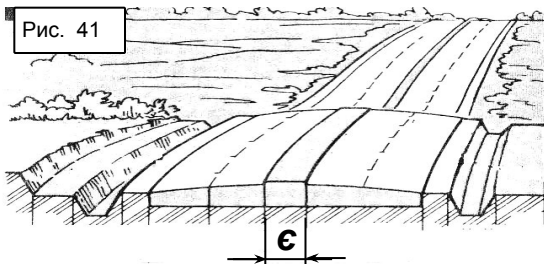


Рис. 41

а _____

б _____

в _____

г _____

д _____

е _____

є _____

Завдання 56. Вкажіть на рисунку межі автомобільної дороги поза населеним пунктом (рис. 42).

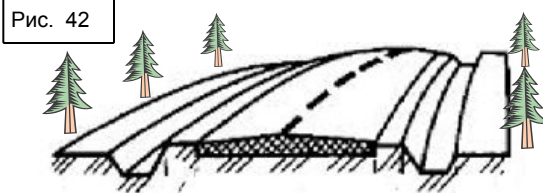


Рис. 42

Завдання 57. Напишіть у виносках до рисунка, де є тимчасова дорога, а де - накатані колії, які не є дорогою (рис. 43).


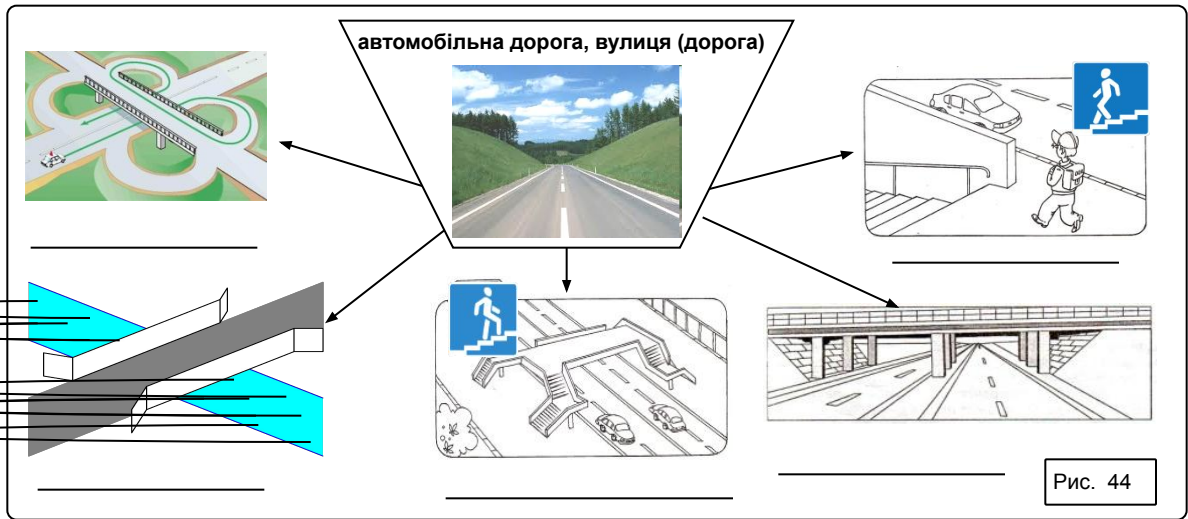


Рис. 43

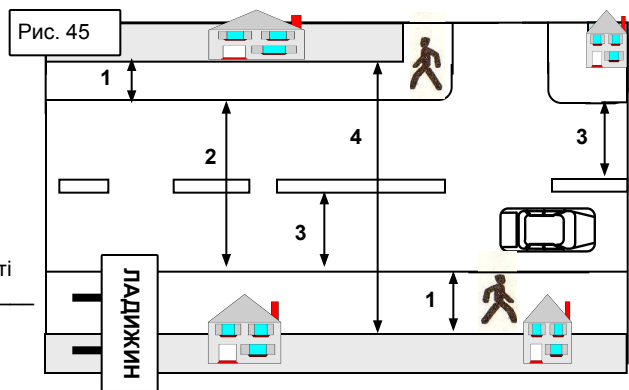
Завдання 58. Напишіть під рисунками назви споруд, що відносяться до автомобільної дороги і можуть бути розташовані на ній (рис. 44).



Завдання 59. Напишіть назви елементів автомобільної дороги у населеному пункті (рис. 45).

1. _____
2. _____
3. _____
4. _____

Завдання 60. Напишіть, якою цифрою на рисунку зображено межі автомобільної дороги у населеному пункті (рис. 45).



Визначення №4. Уважно прочитайте визначення №4 АВТОМОБІЛЬНІ ДОРОГИ ДЕРЖАВНОГО ЗНАЧЕННЯ і виконайте наступні завдання

Завдання 61. Напишіть у виносках назви знаків (5.61), (рис. 46-48).

Завдання 62. Напишіть під рисунками назви автомобільних доріг державного значення (рис. 46-48).



Рис. 46




Рис. 47


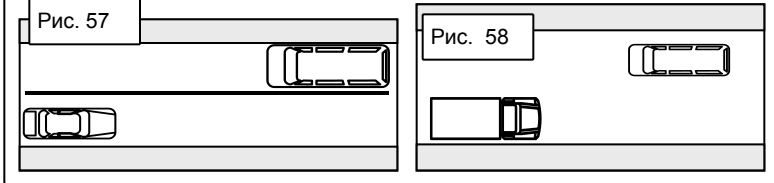


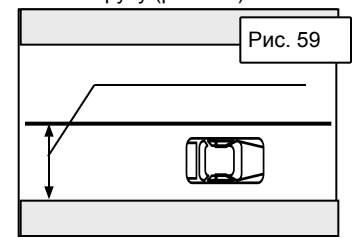
Рис. 48

Визначення № 70. Уважно прочитайте визначення №70 СМУГА РУХУ і виконайте наступні завдання

Завдання 69. Вкажіть стрілками на рисунках межі смуги руху (рис.57-58).



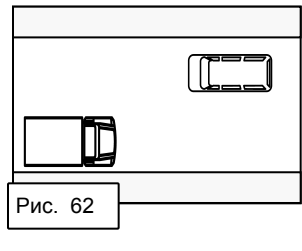
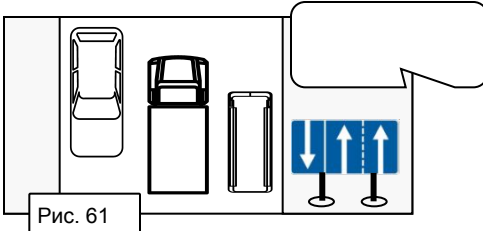
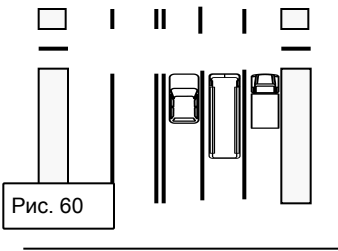
Завдання 70. Зобразіть на рисунку, якою повинна бути заширшки смуга руху (рис. 59).



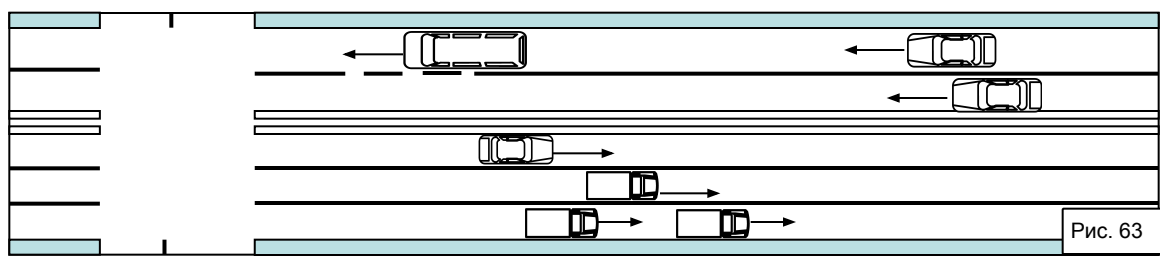
Завдання 71. Напишіть, для яких транспортних засобів призначена смуга руху.



Завдання 72. Напишіть під кожним рисунком (рис. 60-62), чим визначається кількість смуг руху (пункт 11.1).



Завдання 73. Порахуйте і напишіть під рисунком, скільки смуг для руху має дорога (рис. 63).



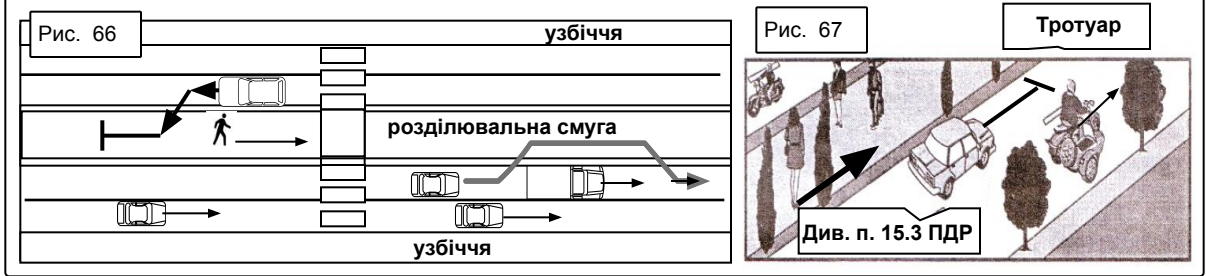
Визначення № 69. Уважно прочитайте визначення №69 РОЗДІЛЮВАЛЬНА СМУГА і виконайте наступні завдання

Завдання 74. Напишіть призначення розділювальної смуги.

Завдання 75. Напишіть під рисунками (рис. 64-65), чим конкретно виділяється розділювальна смуга.



Завдання 76. Закресліть хрестиком червоного кольору заборонні дії учасників дорожнього руху (рис. 66-67)



Визначення № 75. Уважно прочитайте визначення №75 ТРОТУАР і виконайте наступні завдання


Завдання 77. Напишіть призначення тротуару. _____

Завдання 78. Напишіть, яка різниця між розташуванням тротуарів на дорогах (рис. 68-69).

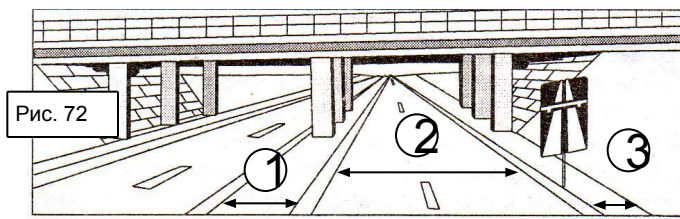


Визначення № 77. Уважно прочитайте визначення №77 УЗБІЧЧЯ і виконайте наступні завдання

Завдання 79. Напишіть під кожним рисунком, яким чином виділяється на дорозі узбіччя (рис. 70-71).



Завдання 80. Напишіть назви вказаних елементів автомобільної дороги (рис. 72).



- 1 _____
- 2 _____
- 3 _____

Завдання 81. Вкажіть стрілкою край проїзної частини, суміжної з узбіччям (рис. 72).

Завдання 82. Напишіть на виносках назви випадків, коли дозволяється використовувати узбіччя (рис.73).




Рис. 73

Завдання 83. Напишіть, чи правильно здійснює рух по узбіччю водій легкового автомобіля: якщо ні – то закресліть цей маневр хрестиком червоного кольору, а якщо так – то наведіть траєкторію цього маневру зеленим кольором (рис. 74).

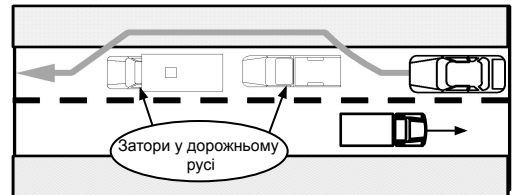


Рис. 74

Визначення №55. Уважно прочитайте визначення №55 ОСТРІВЕЦЬ БЕЗПЕКИ і виконайте наступні завдання

Завдання 84. Напишіть, яке має призначення острівця безпеки.




Рис. 75

Завдання 85. Напишіть у виносці назву технічного засобу регулювання дорожнього руху (рис. 75).

Завдання 86. Напишіть під рисунками, чим відрізняються зображені острівці безпеки (рис. 76-77)




Рис. 76

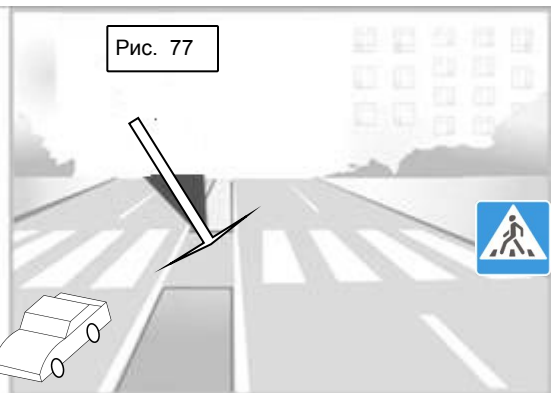


Рис. 77

Визначення №20. Уважно прочитайте визначення №20 ГАЗОН і виконайте наступні завдання

Доповнення до визначення: одернування - створення трав'яного покриву за допомогою природної або рулонної дернини (рис. 78).

Завдання 87. Напишіть, чому саме було введено в Правилах дорожнього руху визначення «газон»?




Рис. 78

Завдання 88. Уважно прочитайте текст пункту 15.10.є.

Завдання 89. Розфарбуйте кружечок зеленим кольором у разі, якщо транспортний засіб не порушу правила стоянки (рис. 79-82).

Завдання 90. Розфарбуйте кружечок червоним кольором у разі, якщо транспортний засіб порушує правила стоянки (рис. 79-82).

Завдання 91. Напишіть під рисунками назви місць порушення водіями правил стоянки (рис. 79-82).



Рис. 79



Рис. 80



Рис. 81



Рис. 82

Визначення №60. Уважно прочитайте визначення №60 ПЕРЕХРЕСТЯ і виконайте наступні завдання

Завдання 92. Напишіть, як повинні перетинатися дороги на перехресті.

Завдання 93. Напишіть назви вказаних цифрами елементів дороги (рис. 83-84).

1. _____
2. _____

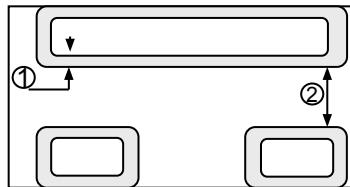


Рис. 83

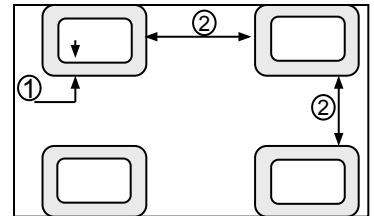


Рис. 84

Зобразіть на рисунку межі перехрестя (рис. 83-84).

Завдання 94. Зобразіть цифрами у кружечках порядок проїзду транспортних засобів, якщо покриття однакове (рис.85-86).

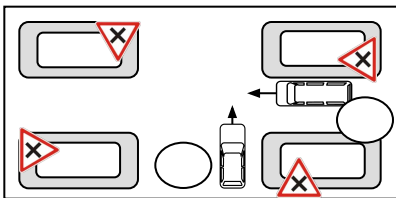


Рис. 85

Завдання 95. Напишіть, чому в одному випадку перешкода праворуч має перевагу, а в іншому – ні (рис. 85-86).

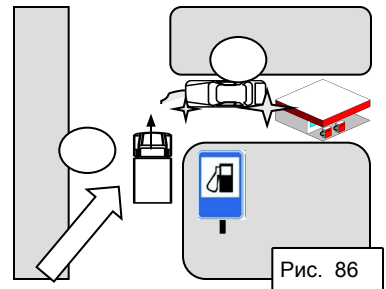


Рис. 86

Завдання 96. Напишіть, чи буде вважатися перехрестям місце прилягання до дороги виїзду з прилеглої території (рис. 86).

Визначення №62. Уважно прочитайте визначення №62 ПІШОХІДНИЙ ПЕРЕХІД і виконайте наступні завдання

Завдання 97. Напишіть призначення пішохідного переходу _____

Завдання 98. Напишіть на виносках, чим позначаються пішохідні переходи (рис.87-88)

Рис. 87

Завдання 99. Напишіть під рисунками назви видів пішохідних переходів (рис.89-92).

Рис. 89

Рис. 90

Рис. 91

Рис. 92

Завдання 100. Укажіть на рисунках і напишіть під ними, чим визначаються межі пішохідного переходу за відсутності дорожньої розмітки (рис. 93-94).

Рис. 93

Рис.94

Завдання 101. Вкажіть на рисунку і опишіть межі пішохідного переходу на перехрестті за відсутності пішохідних світлофорів, дорожніх знаків та розмітки (рис. 95).

Рис. 95

Завдання 102. Напишіть під рисунками назви пішохідних переходів: **регульований** чи **нерегульований** (рис. 96-100).

Жовтий миготливий

Рис. 98

Рис. 99

Рис. 100

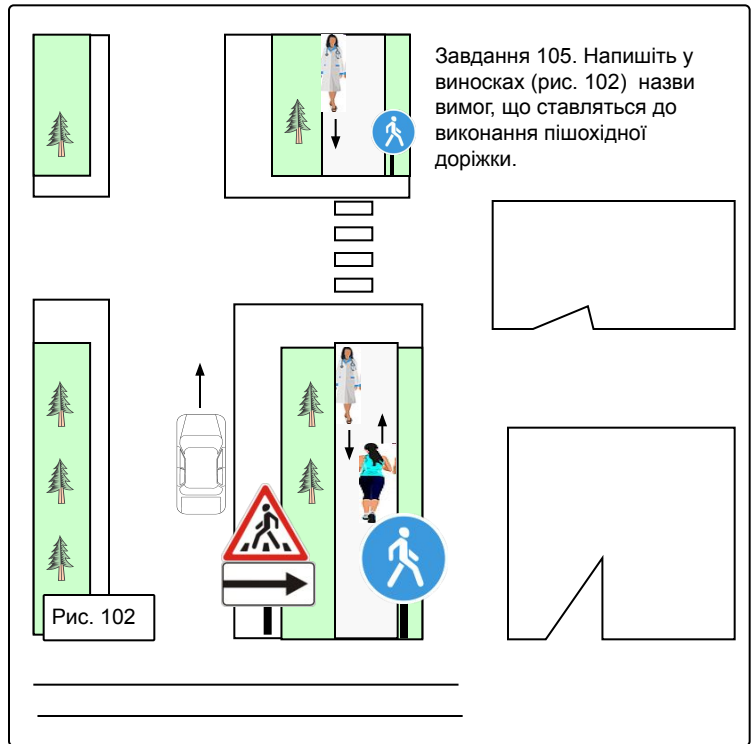
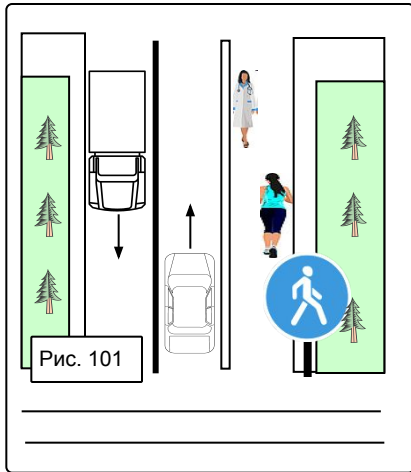
Рис. 96

Рис. 97

**Визначення №63. Уважно прочитайте визначення
№63 ПІШОХІДНА ДОРІЖКА і виконайте наступні завдання**

Завдання 103. Напишіть призначення пішохідної доріжки . _____

Завдання 104. Напишіть під рисунками, де виконана пішохідна доріжка (рис. 101-102).



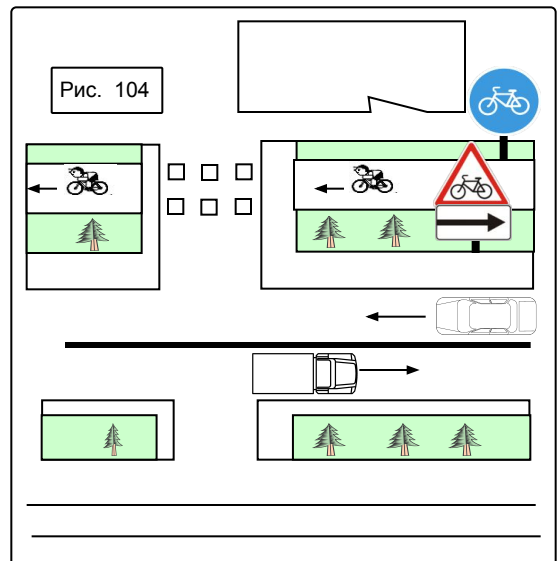
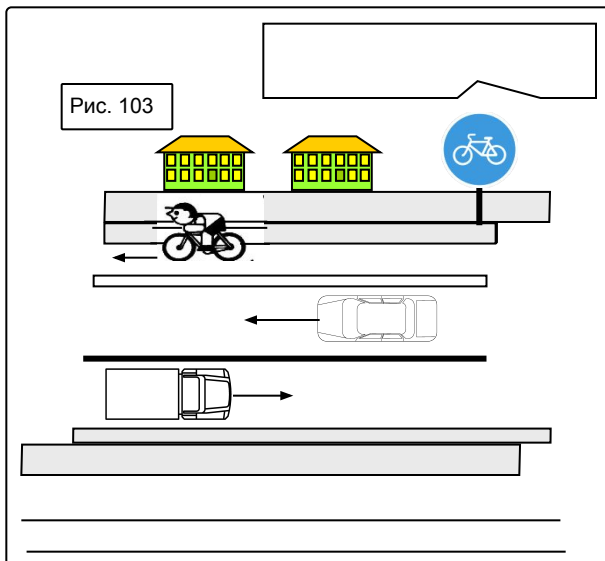
Завдання 105. Напишіть у виносках (рис. 102) назви вимог, що ставляться до виконання пішохідної доріжки.

**Визначення №13. Уважно прочитайте визначення
№13 ВЕЛОСИПЕДНА ДОРІЖКА і виконайте наступні завдання**

Завдання 106. Напишіть призначення велосипедної доріжки. _____

Завдання 107. Напишіть під рисунками, де виконана велосипедна доріжка (оис. 103-104).

Завдання 108. Напишіть у виносках (рис. 103-104) назви вимог, що ставляться до виконання велосипедної доріжки.



**Визначення №46, №31 і №79. Уважно прочитайте визначення
№46 МІСТ, №31 ЕСТАКАДА, №79 ШЛЯХОПРОВІД
і виконайте наступні завдання**

Завдання 109. Напишіть під кожним рисунком (рис. 105-108) назву інженерної споруди (міст, естакада чи шляхопровід).

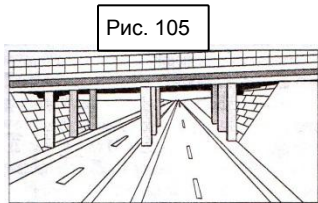


Рис. 105

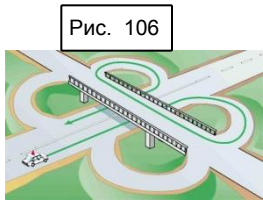


Рис. 106

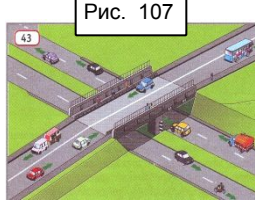


Рис. 107

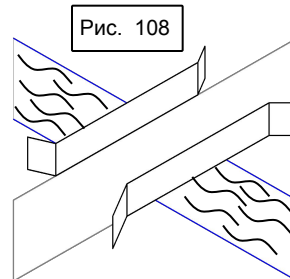


Рис. 108

Завдання 110. Напишіть, у чому різниця між «естакадою» і «шляхопроводом».

Рис. 109

Завдання 111. Напишіть призначення мосту (рис. 109).



Завдання 112. Вкажіть на рисунку межі мосту (рис. 109).

Завдання 113. Прочитайте уважно пункти ПДР 10.7.6, 10.10, 14.6.г і вкажіть стрілками червоного кольору маневри, які забороняються на мостах, шляхопроводах і естакадах. Під рисунками напишіть назви цих маневрів (рис.110-113).

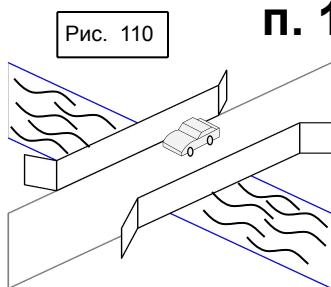


Рис. 110

п. 10.7.6

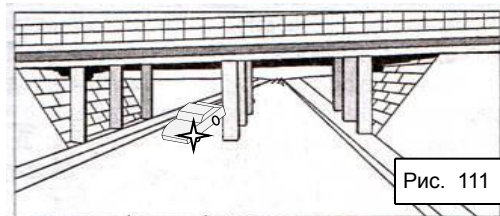


Рис. 111

п. 10.10

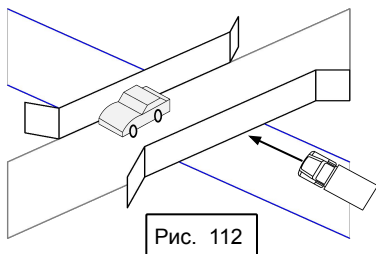


Рис. 112

п. 14.6.г

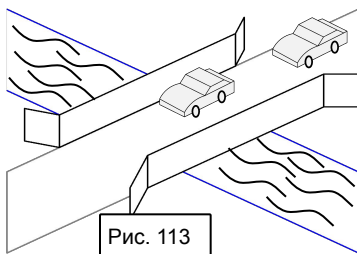
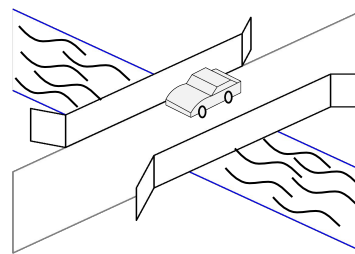


Рис. 113

п. 15.9.в



**Визначення №76. Уважно прочитайте визначення
№76 УДОСКОНАЛЕНЕ ПОКРИТТЯ і виконайте наступні завдання**

КОМЕНТАР: Удосконалене покриття застосовують на автомобільних дорогах з високою інтенсивністю руху. Ці покриття характеризуються високою міцністю, зносостійкістю, погодостійкістю.

Завдання 114. Закресліть хрестиком червоного кольору дороги без удосконаленого покриття (рис. 114-118).



Рис. 114



Рис. 115



Рис. 116



Рис. 117



Рис. 118

Завдання 115. Прочитайте уважно інформацію про знак 1.40 «Кінець дороги з удосконаленим покриттям» і напишіть номери рисунків, на яких слід встановити цей знак (рис. 114-118).



**Визначення №76. Уважно прочитайте визначення
№27 ДОРОЖНІ РОБОТИ і виконайте наступне завдання**

Завдання 116. Напишіть, чи відноситься до дорожніх робіт встановлення (ремонт, заміна) технічних засобів організації дорожнього руху. _____

**ПОРЯДОК РУХУ ПО ДОРОЗІ
ТА ПРІОРИТЕТНІСТЬ**

**Визначення №40. Уважно прочитайте
визначення**

**№40 КРАЙНЄ ПОЛОЖЕННЯ НА ПРОЇЗНІЙ
ЧАСТИНІ і виконайте наступні завдання**

Завдання 117. Напишіть, на якому рисунку показано правильне крайнє положення на проїзній частині (рис. 119-120).

Закресліть хрестиком червоного кольору неправильне крайнє положення на проїзній частині

**Група №4 ПОРЯДОК
РУХУ ТА
ПРІОРИТЕТНІСТЬ**

- 40. КРАЙНЄ ПОЛОЖЕННЯ НА ПРОЇЗНІЙ ЧАСТИНІ
- 42. МАНЕВРУВАННЯ
- 16. ВИПЕРЕДЖЕННЯ
- 52. ОБГІН
- 36. ЗУПИНКА
- 71. СТОЯНКА
- 15. ВИМУШЕНА ЗУПИНКА
- 21. ГАЛЬМІВНИЙ ШЛЯХ
- 6. БЕЗПЕЧНА ДИСТАНЦІЯ
- 7. БЕЗПЕЧНИЙ ІНТЕРВАЛ
- 8. БЕЗПЕЧНА ШВИДКІСТЬ
- 57. ПЕРЕВАГА
- 23. ДАТИ ДОРОГУ
- 22. ГОЛОВНА ДОРОГА
- 64. ПРИЛЕГЛА ТЕРИТОРІЯ

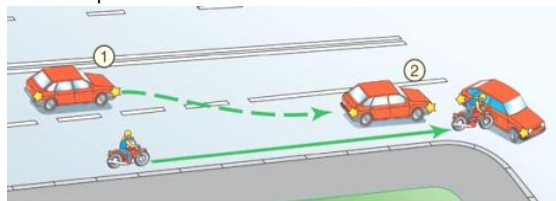
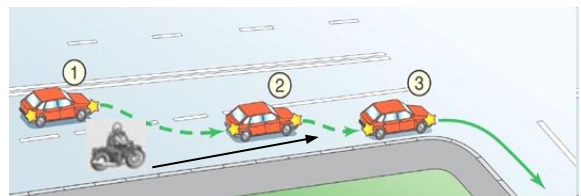


Рис. 119

Рис. 120



Завдання 118. Напишіть, чому саме Ви вибрали цей рисунок.

Визначення №42. Уважно прочитайте визначення №42 МАНЕВРУВАННЯ і виконайте наступне завдання

Завдання 119. Напишіть у виносках назви маневрів (рис. 121).



Рис. 121

Визначення №16. Уважно прочитайте визначення №16 ВИПЕРЕДЖЕННЯ і виконайте наступні завдання

Завдання 120. Зобразіть на рисунку стрілками випередження праворуч і ліворуч в залежності від швидкості руху транспортних засобів. Напишіть у виносках назви цих маневрів (рис.122).

Завдання 121. Домалюйте стрілками траєкторії руху транспортних засобів і увімкніть (розфарбуйте) світлові покажчики поворотів (рис. 122).



Рис. 122

Визначення №52. Уважно прочитайте визначення №52 ОБГІН і виконайте наступні завдання

Завдання 122. Зобразіть траєкторії обгону легковими автомобілями а і б (рис. 123).

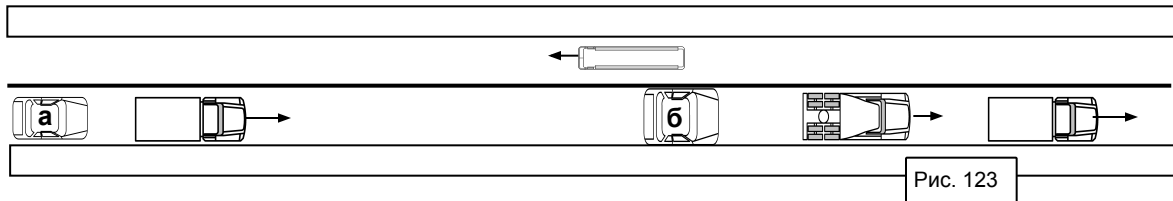
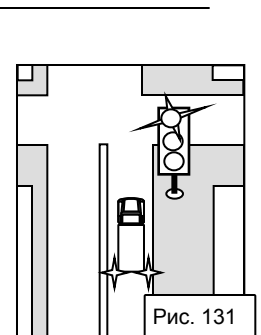
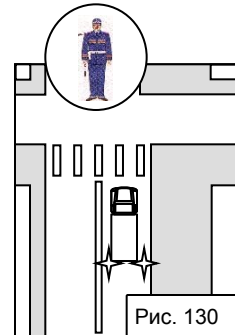
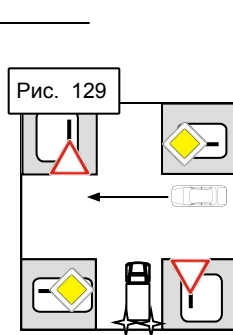
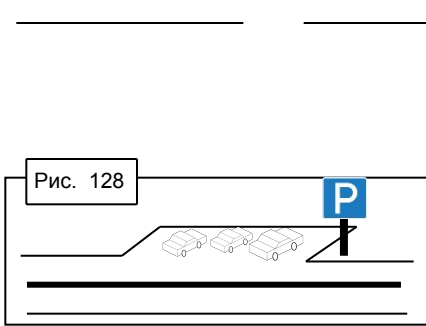
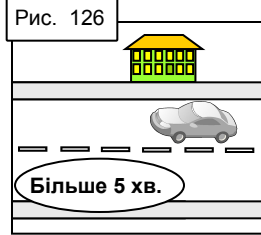
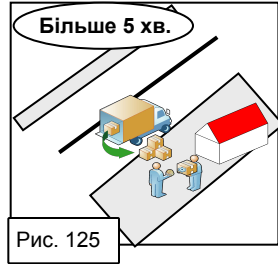
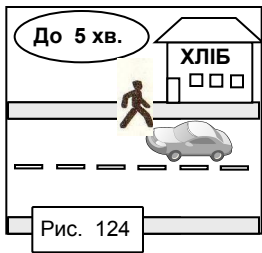


Рис. 123

Завдання 123. Напишіть, у чому різниця обгону автомобілем а і автомобілем б (рис. 123).

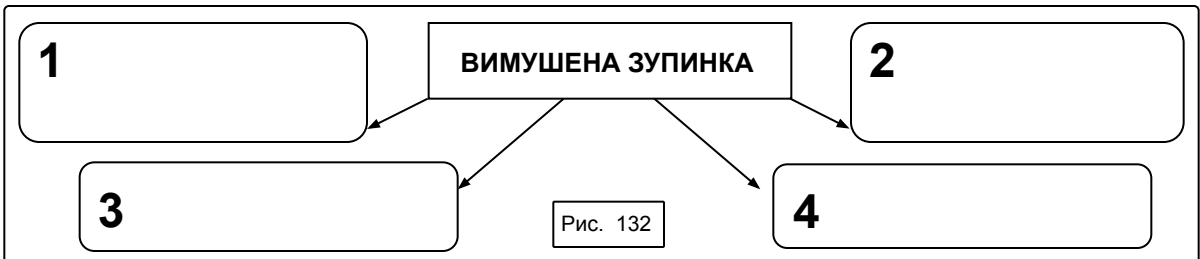
Визначення №36, №71. Уважно прочитайте визначення №36 ЗУПИНКА, №71 СТОЯНКА і виконайте наступне завдання

Завдання 124. Напишіть під кожним рисунком, що зображено: зупинка чи стоянка (рис. 124-131).



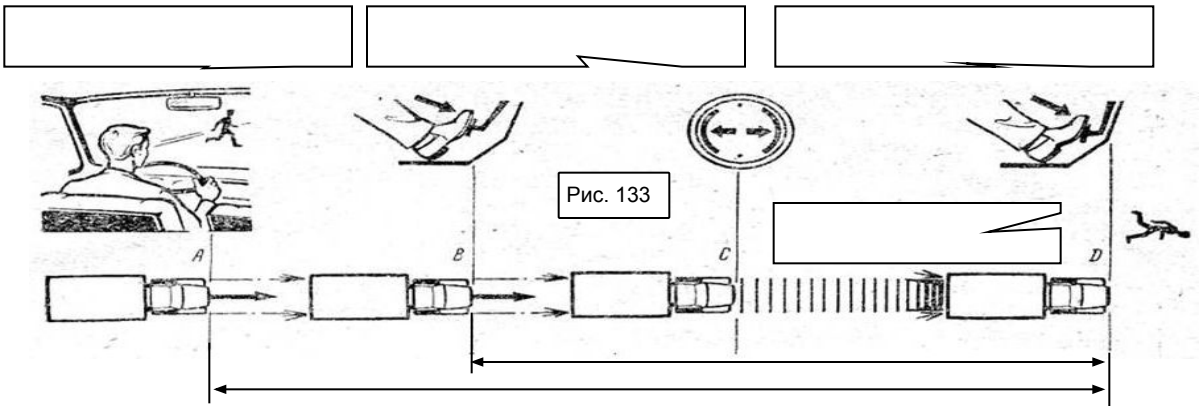
Визначення №15. Уважно прочитайте визначення №15 ВИМУШЕНА ЗУПИНКА і виконайте наступне завдання

Завдання 125. Напишіть у виносках причини, які можуть призвести до вимушеної зупинки (рис. 132).



Визначення №21. Уважно прочитайте визначення №21 ГАЛЬМОВИЙ ШЛЯХ і виконайте наступні завдання

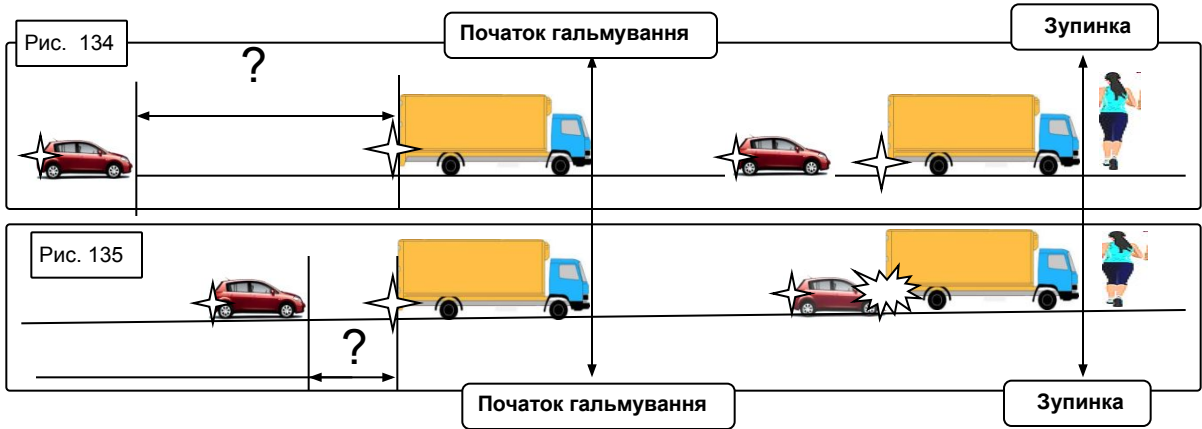
Завдання 126. Напишіть у виносках процес зупинки автомобіля у разі появи небезпеки для руху (рис. 133).



Завдання 127. Позначте літерами і вкажіть стрілками на рисунку: гальмівний шлях _____ зупинний шлях _____

**Визначення №6. Уважно прочитайте визначення
№6 БЕЗПЕЧНА ДИСТАНЦІЯ і виконайте наступні завдання**

Завдання 128. Напишіть на рисунках, де зображена безпечна дистанція, а де – небезпечна (рис. 134-135).

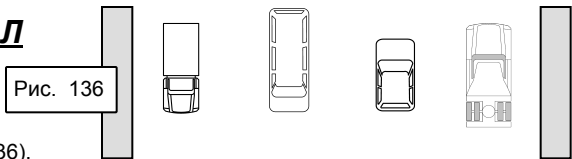


Завдання 129. Напишіть, яка головна мета дотримання безпечної дистанції . _____

**Визначення №7. Уважно прочитайте
визначення №7 БЕЗПЕЧНИЙ ІНТЕРВАЛ
і виконайте наступні завдання**

Завдання 130. Вкажіть стрілками напрямки руху транспортних засобів (рис. 136).




Завдання 131. Вкажіть на рисунках безпечні інтервали (рис. 136).



**Визначення №8. Уважно прочитайте визначення
№8 БЕЗПЕЧНА ШВИДКІСТЬ і виконайте наступне завдання**


Завдання 132.1. Вставте пропущені слова в визначення **БЕЗПЕЧНА ШВИДКІСТЬ** - швидкість, за якої має змогу безпечно транспортним засобом та його рух у конкретних умовах

Завдання 132.2. Знаючи значення гальмівного шляху транспортного засобу в залежності від стану покриття, напишіть у виносці, які дії повинен вжити водій, рухаючись в умовах ожеледиці із швидкістю 60 км/год (рис. 137)

<p>60 → Сухий асфальт 27 м </p> <p>60 → Мокрий асфальт 39 м </p> <p>60 → Ожеледиця </p>	Рис. 137	<p>Дії водія</p> <hr/> <hr/> <hr/>
--	----------	------------------------------------

**Визначення №57, №23. Уважно прочитайте визначення
№57 ПЕРЕВАГА, №23 ДАТИ ДОРОГУ і виконайте наступні завдання**

Завдання 133. Напишіть під рисунками назви вимог до учасника дорожнього руху: **не продовжувати рух** чи **не відновлювати рух** (рис. 138-139).

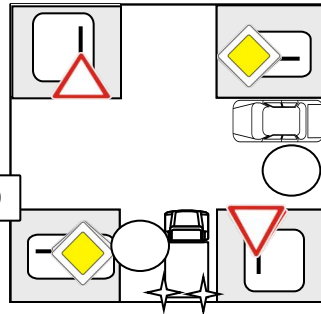



**Визначення №22. Уважно прочитайте визначення
№22 ГОЛОВНА ДОРОГА і виконайте наступні завдання**


Завдання 135. Напишіть у виносках назви знаків і таблички, які позначають головну і другорядну дороги (рис. 140).


Завдання 136. Упишіть у кружечках цифри, які свідчать про черговість проїзду перехрестя. Усі транспортні засоби рухаються прямо (рис. 140).

Рис. 140



 _____

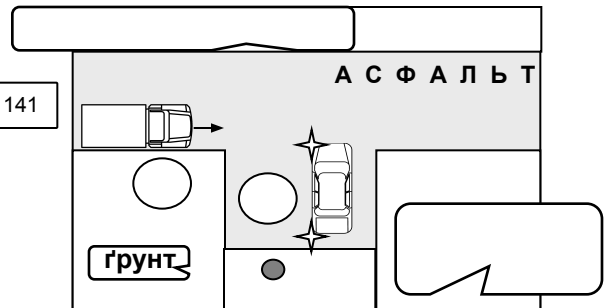
 _____

 _____

Завдання 137. Напишіть у виносках, де головна дорога, а де – другорядна (рис. 141).

Рис. 141

Завдання 138. Напишіть, чи пріврівнює наявність на другорядній дорозі покриття за значенням до перехрещуваної. Упишіть у кружечках цифри, що свідчать про черговість проїзду перехрестя (рис. 141).



**Визначення №64. Уважно прочитайте визначення
№64 ПРИЛЕГЛА ТЕРИТОРІЯ і виконайте наступні завдання**

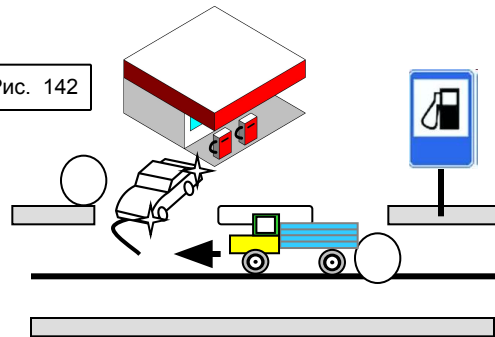
Завдання 139. Напишіть, який маневр здійснює водій легкового автомобіля (рис. 142) _____

Завдання 140. Напишіть назву цього місця прилеглої території (рис. 142). _____

Завдання 141. Напишіть, для чого не призначена прилегла територія. _____

Завдання 142. Упишіть у кружечках цифри, що свідчать про порядок руху (рис. 142). _____

Рис. 142



Завдання 143. Напишіть під рисунками назви прилеглих територій (рис. 143-144).

Рис. 143

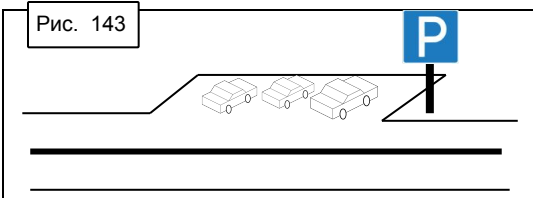
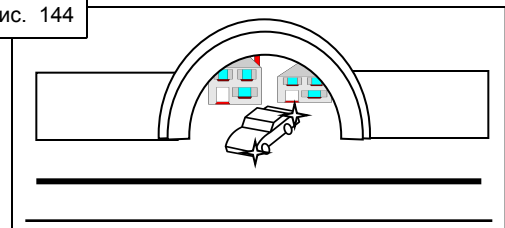


Рис. 144



Група №5 ДОРОЖНЯ ОБСТАНОВКА, ВИДИМІСТЬ ТА ОГЛЯДОВІСТЬ ДОРОГИ

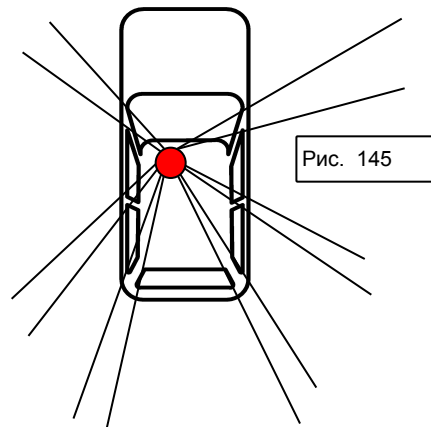
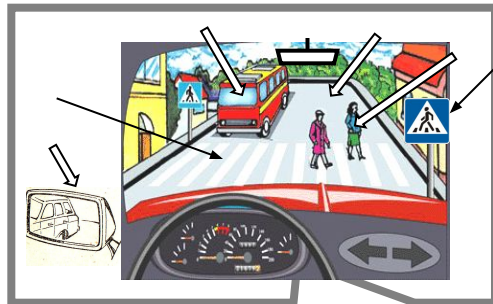
- 54. ОГЛЯДОВІСТЬ
- 53. ОБМЕЖЕНА ОГЛЯДОВІСТЬ
- 28. ДОРОЖНІ УМОВИ
- 29. ДОРОЖНЯ ОБСТАНОВКА
- 51. НЕДОСТАТНЯ ВИДИМІСТЬ
- 14. ВИДИМІСТЬ У НАПРЯМКУ РУХУ
- 72. ТЕМНА ПОРА ДОБИ
- 35. ЗАСЛІПЛЕННЯ
- 59. ПЕРЕШКОДА ДЛЯ РУХУ
- 50. НЕБЕЗПЕКА ДЛЯ РУХУ

Завдання 144. Заштрихуйте «сліпі» зони і напишіть, за рахунок чого вони утворюються (рис. 145).

Завдання 145. Напишіть назви того, що водій може бачити із робочого місця (рис. 145).

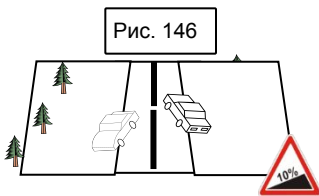
ДОРОЖНЯ ОБСТАНОВКА, ВИДИМІСТЬ ТА ОГЛЯДОВІСТЬ ДОРОГИ

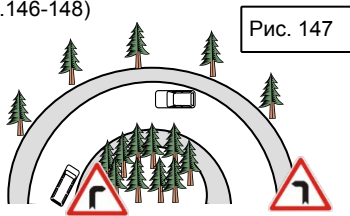
Визначення №54.
Уважно прочитайте визначення №54 ОГЛЯДОВІСТЬ і виконайте наступні завдання

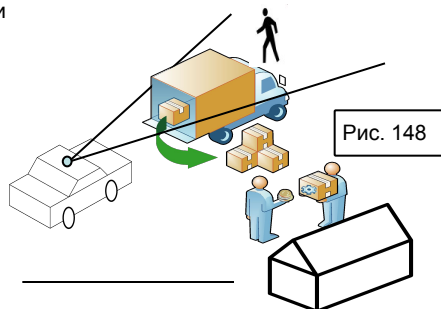


Визначення №53. Уважно прочитайте визначення №53 ОБМЕЖЕНА ОГЛЯДОВІСТЬ і виконайте наступне завдання

Завдання 146. Напишіть під рисунками, чим обмежена оглядовість дороги у кожному конкретному випадку (рис. 146-148)







Визначення №28. Уважно прочитайте визначення №28 ДОРОЖНІ УМОВИ і виконайте наступне завдання

Завдання 147. Напишіть під рисунками і на виносках назви факторів, що характеризують дорожні умови (рис. 149-153).

Рис. 149



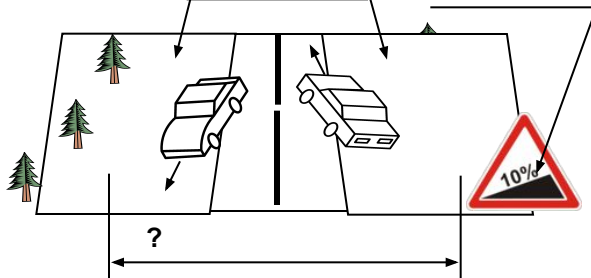
?

Рис. 150

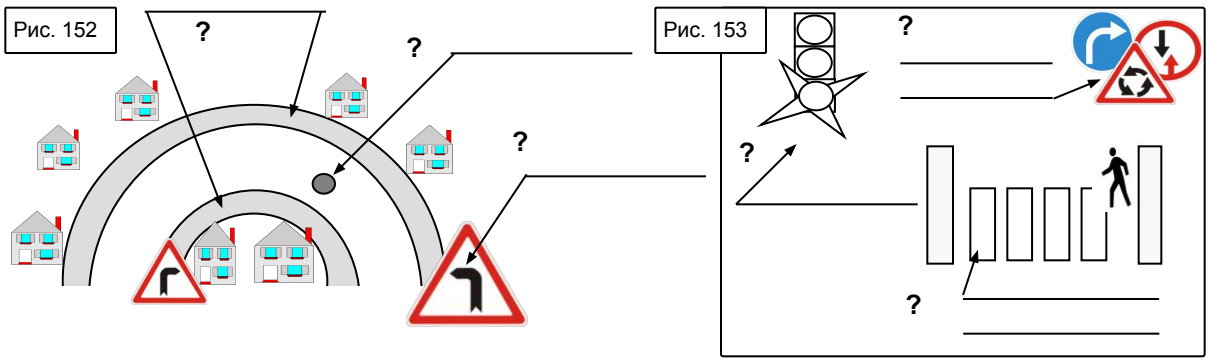


?

Рис. 151



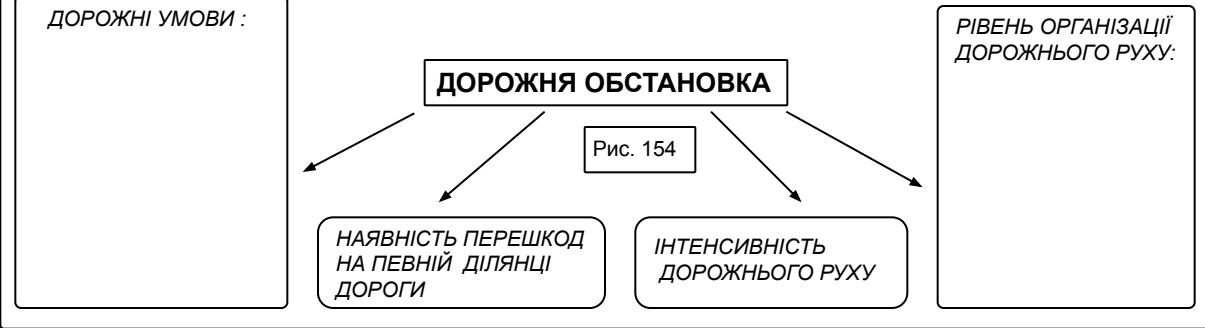
?



Визначення №29. Уважно прочитайте визначення №29 ДОРОЖНЯ ОБСТАНОВКА і виконайте наступні завдання

Завдання 148. Допишіть у виносках назви факторів, що характеризують дорожню обстановку (рис. 154). Зразок подано.

ФАКТОРИ, ЩО ХАРАКТЕРИЗУЮТЬ ДОРОЖНЮ ОБСТАНОВКУ



Завдання 149. Напишіть, коли водій повинен враховувати дорожню обстановку?

1. _____
2. _____
3. _____

Визначення №51. Уважно прочитайте визначення №51 НЕДОСТАТНЯ ВИДИМІСТЬ і виконайте наступні завдання

Завдання 150. Вкажіть на виносці величину відстані, яка свідчить про недостатню видимість (рис. 155).

Завдання 151. Напишіть під рисунками назви умов, які зменшують видимість (рис. 155-157).

Рис. 155

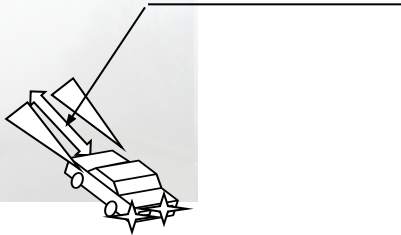


Рис. 156



Рис. 157



Завдання 152. Легковий автомобіль рухається в умовах недостатньої видимості (туман). Розфарбуйте відповідним кольором один з варіантів (див. п. 19.5 ПДР) увімкнення зовнішніх світлових приладів (рис. 158).

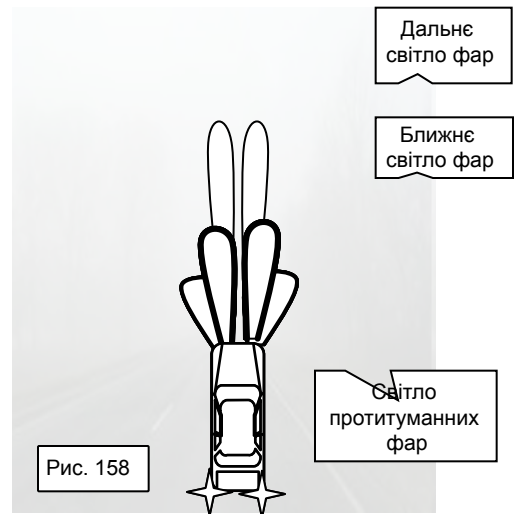


Рис. 158

**Визначення №14. Уважно прочитайте визначення
№14 ВИДИМІСТЬ У НАПРЯМКУ РУХУ і виконайте наступні завдання**

Завдання 153. Напишіть, що водій може чітко розпізнати при максимальній видимості у напрямку руху.

1. _____
2. _____

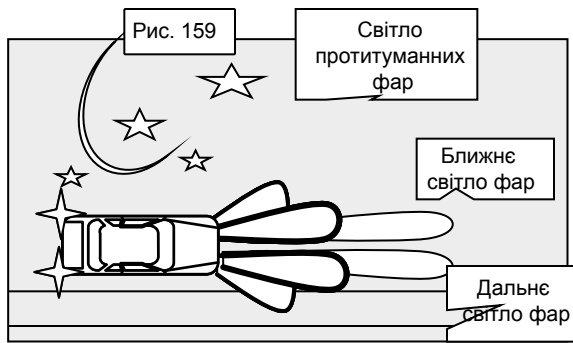
Завдання 154. Напишіть, що дає водієві знання терміна **Видимість у напрямку руху**.

1. _____
2. _____
3. _____

**Визначення №72. Уважно прочитайте визначення
№72 ТЕМНА ПОРА ДОБИ і виконайте наступне завдання**

Завдання 155. Знаючи визначення терміна **ТЕМНА ПОРА ДОБИ** згідно з ПДР, вставте пропущені слова: **Темна пора доби – частина від до сходу**

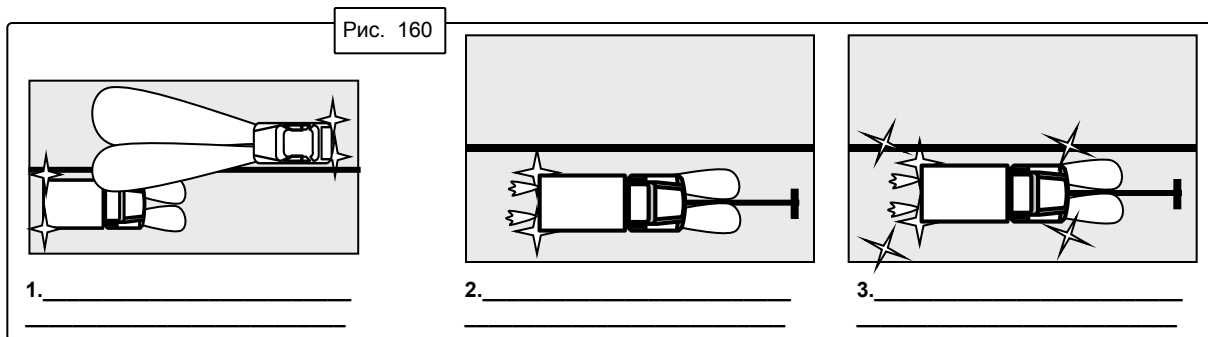
Легковий автомобіль рухається у темну пору доби. Розфарбуйте відповідним кольором увімкнення зовнішніх світлових приладів під час руху у темну пору доби (**див. пункт 19.1 ПДР**) при відсутності зустрічних транспортних засобів (рис. 159).



**Визначення №35.
Уважно прочитайте
визначення №35 ЗАСЛІПЛЕННЯ
і виконайте наступні завдання**

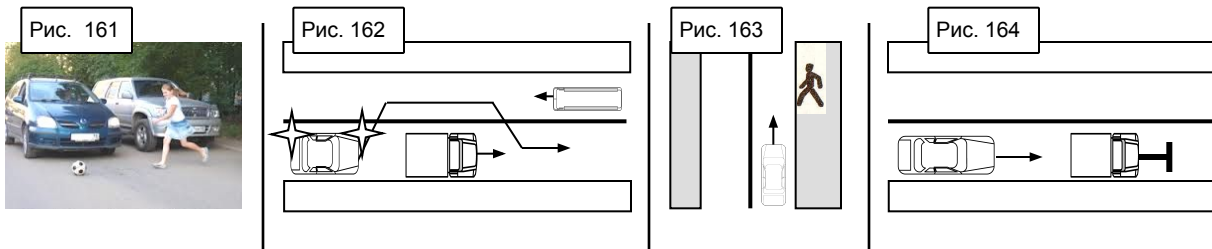
Завдання 156. Напишіть, під дію чого виникає **засліплення**.
Напишіть, до яких негативних наслідків може призвести **засліплення**.

Які необхідно взяти заходи водієві під час засліплення, враховуючи негативні наслідки процесу засліплення (**пункт 19.3 ПДР**)? Напишіть під рисунками **послідовність** дій водія вантажного автомобіля у разі **засліплення** і при необхідності розфарбуйте увімкнення світлових приладів відповідним кольором (рис. 160).



**Визначення №59 і №50. Уважно прочитайте визначення
№59 ПЕРЕШКОДА ДЛЯ РУХУ, №50 НЕБЕЗПЕКА ДЛЯ РУХУ
і виконайте наступні завдання**

Завдання 157. Напишіть під рисунками, де зображена небезпека для руху, а де - перешкода для руху (рис. 161-164).

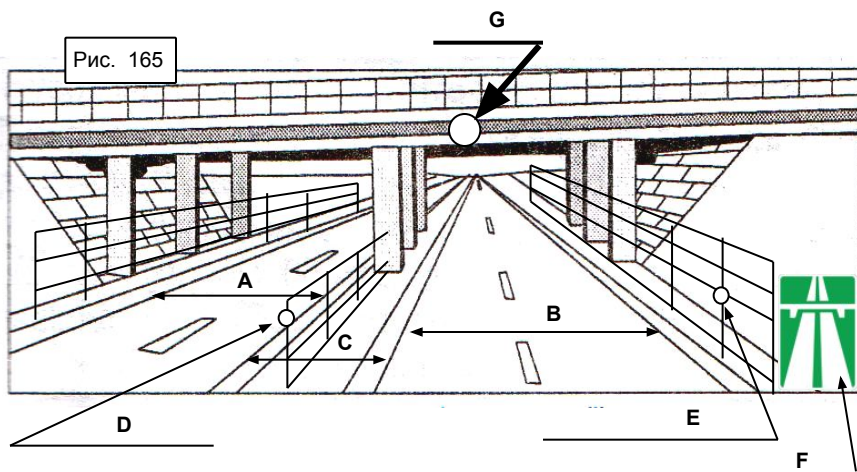


Завдання 158. Напишіть, що повинен зробити водій при появі небезпеки для руху _____

при появі перешкоди для руху _____

Група №6
ОСОБЛИВІ ТЕРИТОРІЇ ТА ЗОНИ, НА ЯКИХ ДІЮТЬ СПЕЦІАЛЬНІ ПРАВИЛА
2. АВТОМАГІСТРАЛЬ
49. НАСЕЛЕНИЙ ПУНКТ
32. ЖИТЛОВА ЗОНА
34. ЗАЛІЗНИЧНИЙ ПЕРЕЇЗД

ОСОБЛИВІ ТЕРИТОРІЇ ТА ЗОНИ, НА ЯКИХ ДІЮТЬ СПЕЦІАЛЬНІ ПРАВИЛА
Визначення №2. Уважно прочитайте визначення №2 АВТОМАГІСТРАЛЬ і виконайте наступне завдання



Завдання 159. Напишіть під рисунками назви ознак Автомагістралі (рис. 165).

- A _____
- B _____
- C _____
- D _____
- E _____
- F _____
- G _____


Визначення №49. Уважно прочитайте визначення №49 НАСЕЛЕНИЙ ПУНКТ і виконайте наступні завдання


Завдання 160. Напишіть, чим визначається НАСЕЛЕНИЙ ПУНКТ _____


Напишіть на виносках назви знаків (рис. 166-167).


Завдання 161. Напишіть перелік відмінностей між населеними пунктами (рис. 166-167).

Фон знака синій УМАНЬ Рис. 166 Фон знака білий

 Максимальна швидкість руху

 Максимальна швидкість руху

 Подачу звукового сигналу.....

 Подачу звукового сигналу.....

Зупинку на лівому боці дороги (автомобіль **а**) (рис. 167)

Зупинку на лівому боці дороги (автомобіль **б**) (рис. 167)

Завдання 162. Впишіть у кружечках максимальне значення швидкості руху на конкретних ділянках доріг (рис. 167).

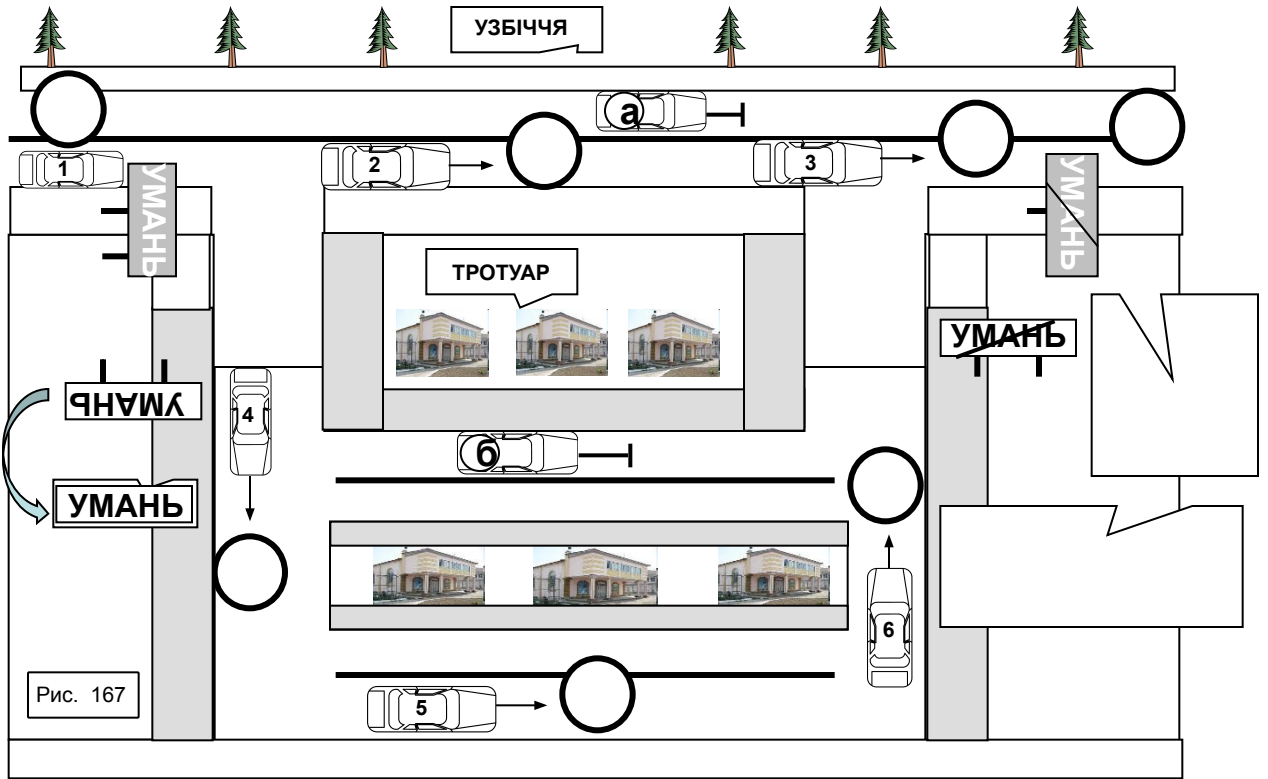


Рис. 167

Визначення №32. Уважно прочитайте визначення №32 ЖИТЛОВА ЗОНА і виконайте наступні завдання

Завдання 163. Напишіть під рисунками, чим визначається **ЖИТЛОВА ЗОНА** (рис. 168-169).

Завдання 164. Напишіть на виносці назву знака (рис. 168).



Рис. 168



Рис. 169

Завдання 165. Напишіть у кружечку, яка максимальна швидкість руху у житловій зоні.

○

Визначення №34. Уважно прочитайте визначення №34 ЗАЛІЗНИЧНИЙ ПЕРЕЇЗД і виконайте наступні завдання

Завдання 166. Вставте пропущені слова у визначення

ЗАЛІЗНИЧНИЙ ПЕРЕЇЗД:
перехрещення
із залізничними
на рівні;

Напишіть на виносках назви знаків (рис. 170).

Завдання 167. Вкажіть на рисунках переривчасту лінію або розфарбуйте межі залізничних переїздів (рис. 170).

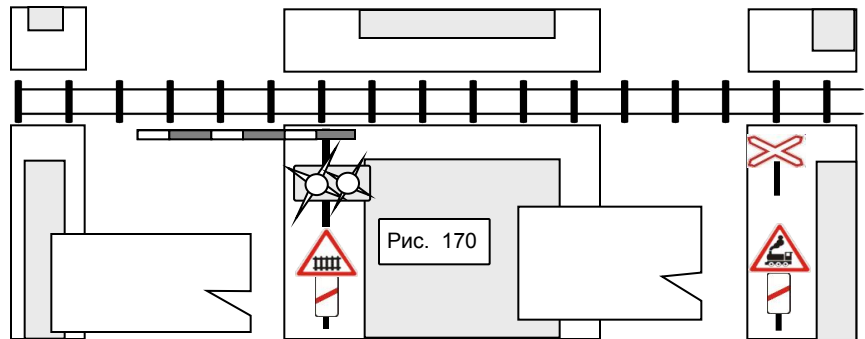


Рис. 170

Завдання 168. Напишіть під рисунком назви зображених залізничних переїздів (рис. 170).

ІНШІ ТЕРМІНИ

Група №7

ІНШІ ТЕРМІНИ

17. ВЛАСНИК ТРАНСПОРТНОГО ЗАСОБУ
37. КОЛОНА ПІШОХОДІВ
58. ПЕРЕВЕЗЕННЯ ОРГАНІЗОВАНИХ ГРУП ДІТЕЙ

30. ЕКСПЛУАТАЦІЯ ТРАНСПОРТНОГО СОСТАВА
9. БУКСИРУВАННЯ
38. КОЛОНА ТРАНСПОРТНИХ ЗАСОБІВ

24. ДЕННІ ХОДОВІ ВОГНІ

26. ДОРОЖНЬО-ТРАНСПОРТНА ПРИГОДА
33. ЗАЛИШЕННЯ МІСЦЯ ДОРОЖНЬО-ТРАНСПОРТНОЇ ПРИГОДИ

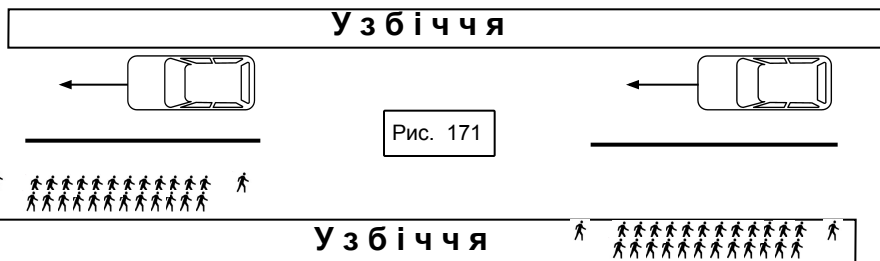
Визначення №17. Уважно прочитайте визначення №17 ВЛАСНИК ТРАНСПОРТНОГО ЗАСОБУ і виконайте наступні завдання

Завдання 169. Напишіть, якою особою є ваш навчальний заклад як власник навчальних автомобілів.

Завдання 170. Напишіть, якою особою станете Ви після купівлі автомобіля у власне користування.

Завдання 171. Напишіть, які документи підтверджують майнові права на транспортний засіб.

Завдання 172. Напишіть під рисунком, де правильно зображено рух колони пішоходів і чому саме (рис. 171). Неправильне зображення закресліть хрестиком червоного кольору (рис. 171).



Визначення №58. Уважно прочитайте визначення №58 ПЕРЕВЕЗЕННЯ ОРГАНІЗОВАНИХ ГРУП ДІТЕЙ і виконайте наступні завдання


Завдання 173. Напишіть, скільки повинно бути дітей для того, щоб був призначений керівник (рис.172).



Завдання 174. Напишіть, скільки повинно бути дітей, щоб був призначений додатково медичний працівник (рис. 173).



Завдання 175. Розфарбуйте відповідним кольором увімкнені світлові прилади на транспортному засобі з розпізнавальним знаком «Діти» під час посадки (висадки) до (з) нього пасажирів і напишіть їхні назви (рис. 174).

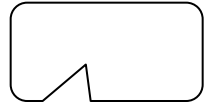


Завдання 176. Напишіть, які світлові пристрої повинен увімкнути водій на автобусі (мікроавтобусі), що здійснює перевезення організованих груп дітей під час руху у світлу пору доби.

Визначення № 30. Уважно прочитайте визначення №30 ЕКСПЛУАТАЦІЯ ТРАНСПОРТНОГО СОСТАВА і виконайте наступні завдання

Завдання 177. Напишіть у виносках назви транспортних засобів, рух яких можна віднести до експлуатації транспортних составів (рис. 175).

Рис. 175



Завдання 178. Напишіть під рисунками назви критеріїв, які свідчать про причетність транспортування тягачем причепа до експлуатації транспортного состава (рис. 176).

ЕКСПЛУАТАЦІЯ ТРАНСПОРТНОГО СОСТАВА

Рис. 176

Визначення №9. Уважно прочитайте визначення №9 БУКСИРУВАННЯ і виконайте наступні завдання

Завдання 179. Напишіть назви кожного виду буксирування (рис. 177).

① _____

③ _____

② _____

④ _____

Рис. 177

Завдання 180. Напишіть, у чому полягає відмінність між буксирування і експлуатацією транспортного состава.

Визначення №38. Уважно прочитайте визначення №38 КОЛОНА ТРАНСПОРТНИХ ЗАСОБІВ і виконайте наступні завдання

Завдання 181. Напишіть, яка мінімальна кількість транспортних засобів у колоні.

Завдання 182. Розфарбуйте увімкнення світлових приладів під час руху колони і напишіть їхню назву (рис. 178).

Напишіть, коли розпізнавальний знак "Колона" може не встановлюватися (рис. 178) – див. пункт 25.1 ПДР.

Рис. 178

2. ОБОВ'ЯЗКИ І ПРАВА ВОДИЇВ МЕХАНІЧНИХ ТРАНСПОРТНИХ ЗАСОБІВ

Пункт 2.1. Уважно прочитайте пункт 2.1 і виконайте наступні завдання

Завдання 1. Напишіть назви документів, які повинен мати при собі водій приватного автомобіля, і які повинен пред'явити для перевірки на вимогу працівника поліції.

1. _____
2. _____
3. _____

Завдання 2. Напишіть назву документа на транспортний засіб Збройних Сил, внутрішніх військ МВС, Держприкордонслужби, Держспецтрансслужби, Держспецзв'язку, Оперативно-рятувальної служби цивільного захисту.

Завдання 3. Напишіть назву документа, який повинен мати водій при собі у разі встановлення на транспортних засобах проблискових маячків та (або) спеціальних звукових пристроїв.

Напишіть назву документа, який повинен мати при собі водій у разі встановлення проблискового маячка оранжевого кольору на великогабаритних та великовагових транспортних засобах.

Завдання 4. Напишіть назви документів, які повинен мати при собі водій маршрутного транспортного засобу

Пункт 2.2. Уважно прочитайте пункт 2.2 і виконайте наступні завдання

Завдання 5. Напишіть, кому може передавати управління власник транспортного засобу, а також особа, яка використовує цей транспортний засіб на законних підставах.

Завдання 6. Напишіть, що повинен передати власник транспортного засобу іншій особі, крім самого транспортного засобу.

Пункт 2.3. Уважно прочитайте пункт 2.3 і виконайте наступні завдання

Завдання 7. Напишіть, що водій зобов'язаний перевірити і забезпечити перед виїздом транспортного засобу для забезпечення безпеки дорожнього руху.

Завдання 8. Напишіть, що водій зобов'язаний робити під час руху транспортного засобу для забезпечення безпеки дорожнього руху.

Завдання 9. Напишіть, яким особам і де дозволяється не пристібятися ременями безпеки.

Завдання 10. Напишіть, які особи повинні бути в мотошоломах і на яких транспортних засобах.

Завдання 11. Напишіть, яким організаціям водій повинен повідомляти про виявлені факти створення перешкод для дорожнього руху.

Пункт 2.4. Уважно прочитайте пункт 2.4 і виконайте наступне завдання

Завдання 12. Напишіть, що водій повинен зробити на вимогу працівника поліції.

Пункт 2.4.1. Уважно прочитайте пункт 2.4.1 і виконайте наступне завдання

Завдання 13. Напишіть, що водій вантажного автомобіля повинен зробити на вимогу поліцейського у місці здійснення габаритно-вагового контролю.

Пункт 2.4.2. Уважно прочитайте пункт 2.4.2 і виконайте наступне завдання

Завдання 14. Напишіть, якою повинна бути процедура дій у разі виявлення під час здійснення габаритно-вагового контролю невідповідності фактичних вагових або габаритних параметрів установленим нормам і правилам.

Пункт 2.5. Уважно прочитайте пункт 2.5 і виконайте наступне завдання

Завдання 15. Напишіть, що водій повинен зробити на вимогу поліцейського і для чого.

Пункт 2.6. Уважно прочитайте пункт 2.6 і виконайте наступне завдання

Завдання 16. Напишіть, у якому випадку водій зобов'язаний пройти позачерговий медичний огляд з метою визначення здатності безпечно керувати транспортним засобом.

Пункт 2.7. Уважно прочитайте пункт 2.7 і виконайте наступні завдання

Завдання 17. Напишіть, водії яких транспортних засобів не повинні надавати транспортний засіб поліцейським та працівникам охорони здоров'я.

Завдання 18. Напишіть, у яких випадках водій повинен надавати свій транспортний засіб поліцейським та працівникам охорони здоров'я.

Напишіть, у яких випадках водій зобов'язаний надавати транспортний засіб тільки поліцейським.










Завдання 19. Напишіть, які транспортні засоби залучаються для транспортування пошкоджених транспортних засобів.

Завдання 20. Напишіть, що повинно бути зазначено у довідці, що видала особа, яка скористалася транспортним засобом. 1. _____ 2. _____

3. _____ 4. _____ 5. _____

Пункт 2.8. Уважно прочитайте пункт 2.8 і виконайте наступне завдання

Завдання 21. Напишіть назви дорожніх знаків, від вимог яких може відступати водій-інвалід, що керує мотоциклом або автомобілем, позначеними розпізнавальним знаком "Інвалід".

						 
_____	_____		_____	_____	_____	_____
						
_____		_____				
_____		_____				

Пункт 2.9. Уважно прочитайте пункт 2.9
і виконайте наступні завдання

Завдання 22. Напишіть, у якому стані водієві забороняється керувати транспортним засобом.

Завдання 23. Напишіть, з якими номерними знаками водієві забороняється керувати транспортним засобом.

Завдання 24. Напишіть, яким особам водієві забороняється передавати керування транспортним засобом.

Завдання 25. Напишіть, у якому випадку водієві дозволяється передавати керування транспортним засобом особі, яка не має при собі посвідчення на право керування.

Завдання 26. Напишіть, у яких випадках дозволяється водієві користуватися засобами зв'язку.

1.

2.

Пункт 2.10. Уважно прочитайте пункт 2.10
і виконайте наступні завдання

Завдання 27.1. Складіть правильний порядок дій водія у разі його причетності до дорожньо-транспортної пригоди, поставивши порядковий номер у кружечку. Зразок виконання подано.

- увімкнути аварійну сигналізацію і встановити знак аварійної зупинки відповідно до вимог пункту 9.10 цих Правил;
- 1 негайно зупинити транспортний засіб і залишатися на місці пригоди;
- не переміщати транспортний засіб і предмети, що мають причетність до пригоди;
- повідомити про дорожньо-транспортну пригоду орган чи уповноважений підрозділ Національної поліції, записати прізвища та адреси очевидців, чекати прибуття поліцейських;
- у разі неможливості виконати дії, перелічені в підпункті «г» пункту 2.10 цих Правил, відвезти потерпілого до найближчого лікувального закладу своїм транспортним засобом, попередньо зафіксувавши розташування слідів пригоди, а також положення транспортного засобу після його зупинки; у лікувальному закладі повідомити своє прізвище та номерний знак транспортного засобу (з пред'явленням посвідчення водія або іншого документа, який посвідчує особу, реєстраційного документа на транспортний засіб) і повернутися на місце пригоди
- вжити можливих заходів для надання домедичної допомоги потерпілим, викликати бригаду екстреної (швидкої) медичної допомоги, а в разі відсутності можливості вжити зазначених заходів, звернутися по допомогу до присутніх і відправити потерпілих до закладу охорони здоров'я;
- до проведення медичного огляду не вживати без призначення медичного працівника алкоголю, наркотиків, а також лікарських препаратів, виготовлених на їх основі (крім тих, які входять до офіційно затвердженого складу аптечки).
- вжити всіх можливих заходів для збереження слідів пригоди, огороження їх та організувати об'їзд місця пригоди;

Завдання 27.2. Напишіть, коли можна не викликати бригаду екстреної (швидкої) медичної допомоги. _____

Пункт 2.11. Уважно прочитайте пункт 2.11
і виконайте наступне завдання

Завдання 28. Напишіть назви умов, за яких водії, що причетні до дорожньо-транспортної пригоди можуть прибути до найближчого поста або до органу Національної поліції для оформлення відповідних матеріалів.

Пункт 2.12. Уважно прочитайте пункт 2.12
і виконайте наступні завдання

Завдання 29. Напишіть, чи має право власник довіряти свій транспортний засіб іншій особі.

Завдання 30. Напишіть, у яких випадках власник транспортного засобу має право на відшкодування яких витрат.

Завдання 31. Напишіть, на відшкодування яких збитків має право власник транспортного засобу.

Завдання 32. Напишіть, чи має право власник транспортного засобу на безпечні та зручні умови для руху. _____

Завдання 33. Напишіть, чи має право власник транспортного засобу запитувати оперативну інформацію про дорожні умови та напрямки руху. _____

Пункт 2.13. Уважно прочитайте пункт 2.13
і виконайте наступні завдання

Завдання 34. Упишіть у кружечках відповідні позначення, які належать до конкретних категорій транспортних засобів. Зразок виконання подано.

Завдання 35. Напишіть у прямокутниках, з якого віку може бути надано право на керування транспортним засобом в залежності від категорії транспортних засобів. Зразок виконання подано.

<input checked="" type="radio"/> А мотоцикли та інші двоколісні транспортні засоби, які мають двигун з робочим об'ємом 50 куб. см і більше або електродвигун потужністю 4 кВт і більше	з 16 р.
<input type="radio"/> мопеди, моторолери та інші двоколісні транспортні засоби, які мають двигун з робочим об'ємом до 50 куб. см або електродвигун потужністю до 4 кВт;	
<input type="radio"/> автомобілі, дозволена максимальна маса яких не перевищує 3500 кілограмів (7700 фунтів), а кількість сидячих місць, крім сидіння водія, - восьми, состав транспортних засобів з тягачем категорії В та причепом, повна маса якого не перевищує 750 кілограмів;	
<input type="radio"/> призначені для перевезення вантажів автомобілі, дозволена максимальна маса яких перевищує 7500 кілограмів (16500 фунтів), состав транспортних засобів з тягачем категорії С та причепом, повна маса якого не перевищує 750 кілограмів;	
<input type="radio"/> квадро- і трицикли, мотоцикли з боковим причепом, мотоколяски та інші триколісні (чотириколісні) мототранспортні засоби, дозволена максимальна маса яких не перевищує 400 кілограмів;	
<input type="radio"/> призначені для перевезення вантажів автомобілі, дозволена максимальна маса яких становить від 3500 до 7500 кілограмів (від 7700 до 16500 фунтів), состав транспортних засобів з тягачем категорії С1 та причепом, повна маса якого не перевищує 750 кілограмів;	
<input type="radio"/> трамваї та тролейбуси.	

