

II этап республиканской олимпиады
по учебному предмету «География»
3 ноября 2016 года

МУЛЬТИМЕДИЙНЫЙ ТЕСТ

11 КЛАСС

Уважаемый олимпоник!

На выполнение заданий мультимедийного теста олимпиадной работы отводится 1 час (60 минут).


Ты имеешь право воспользоваться интерактивными возможностями пакета PowerPoint (уменьшать и увеличивать рисунки и фотографии; просматривать слайды в произвольном порядке и в свободном ритме и т.п.).

Ответы на задания мультимедийного теста необходимо вписать в предлагаемый бланк ответов.

По результатам мультимедийного тестирования Вы можете получить максимум 50 баллов.

ЖЕЛАЕМ ТЕБЕ УДАЧИ!

Вопрос 1: Какому географическому объекту характерны ползающие камни?
(За правильный ответ – 2 балла)



Вопрос 2: Какие горы относятся к складчато-глыбовым?

Варианты ответа: А) Драконовы горы, Хибины; Б) Альпы, Гандисышань и Гималаи; В) Куньлунь, Тянь-Шань; Г) Альпы и Карпаты
(За правильный ответ – 1 балл)



Вопрос 4: Как называются растения, поселяющиеся на других растениях?

Варианты ответа: А) эфемеры В) эпифиты

Б) ксерофиты Г) андрофаги


(За правильный ответ – 1 балл)



Вопрос 5: Какое название носят периодически пересыхающие русла рек в пустынях Австралии?
(За правильный ответ – 1 балл)



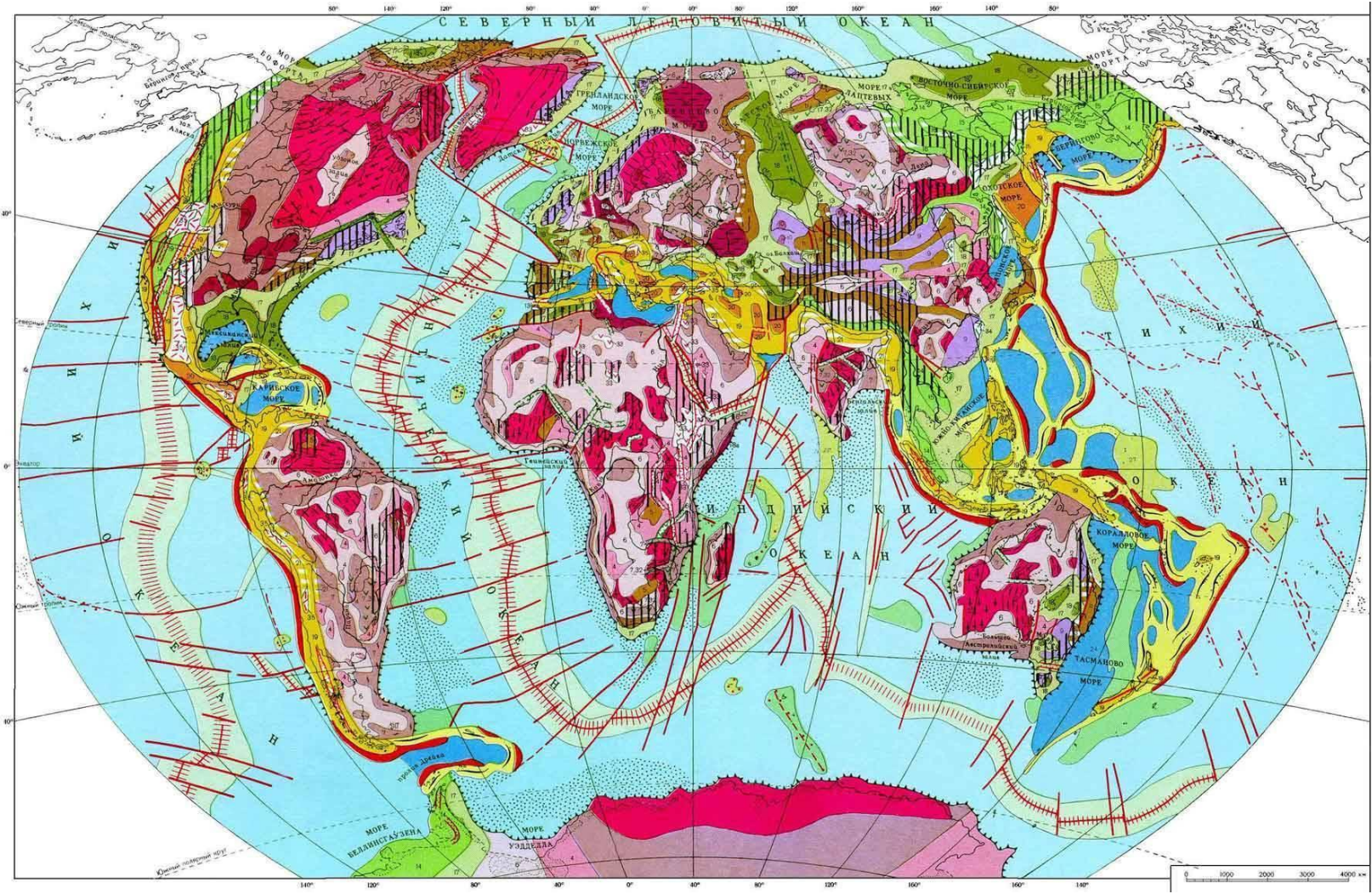
Вопрос 6: Определите природную зону по изображениям.
(За правильный ответ – 2 балл)



Вопрос 7: Какие литосферные плиты вам известны?

Варианты ответа: А) Регибатская; Б) Наска; В) Скоттия; Г) Берингия; Д) Сан-Андреас.

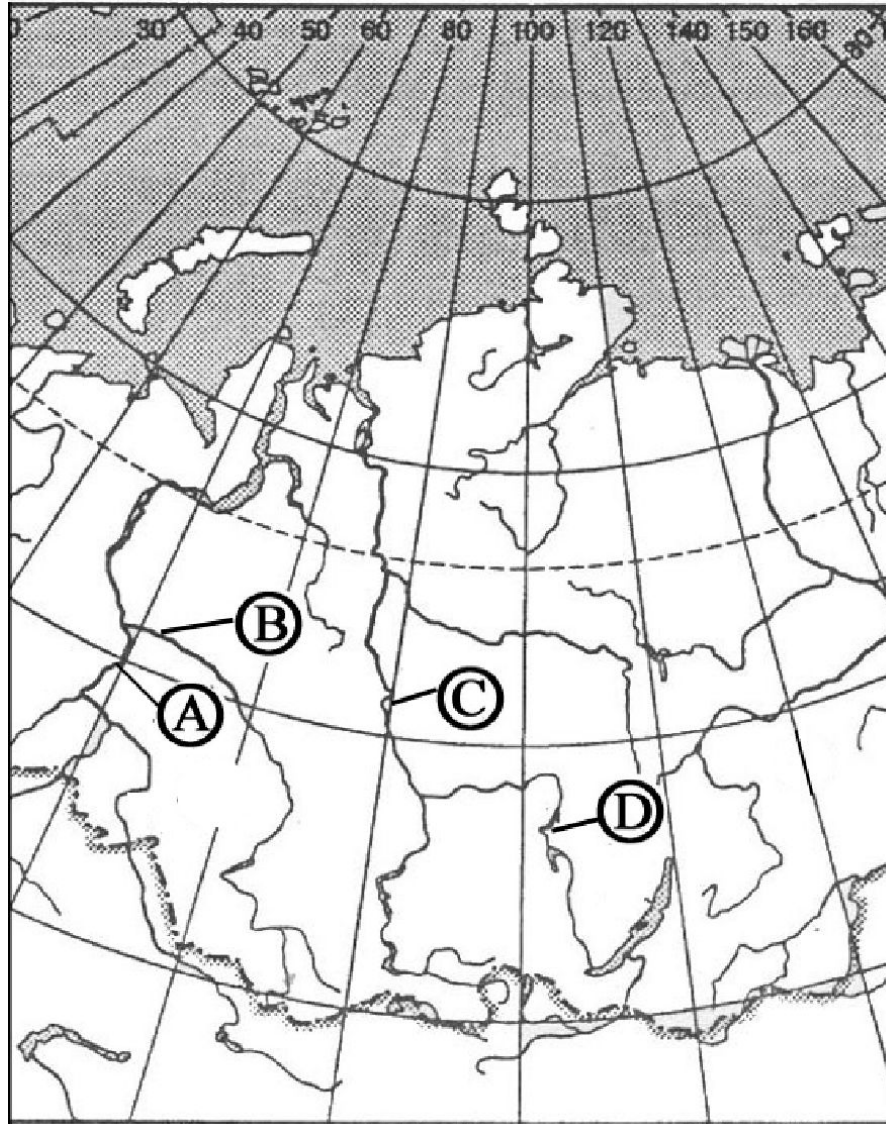
(За правильный ответ – 2 балла)



Вопрос 8: Какой буквой на фрагменте карты России обозначена река Енисей?

Варианты ответа: А) А; Б) В; В) С; Г) D.

(За правильный ответ – 1 балл)




Вопрос 10: Определите руда какого металла представлена на рисунках?

Варианты ответа: А) Марганцевая руда Б) Хромовая руда

В) Никелевая руда Г) Медная руда

(За правильный ответ – 1 балл)



Вопрос 12: Выберите крупнейшую алюминиевую компанию Австралии.

Варианты ответа: А) Alcoa Inc. В) Alcan

Б) BHP Billiton Г) Rio Tinto

(За правильный ответ – 2 балла)



Вопрос 13: Какому государству принадлежит самый длинный тоннель в Альпах?
(За правильный ответ – 1 балл)



Вопрос 15: Выберите крупнейшего добытчика чилийской меди?

Варианты ответа: А) Codelco В) «Phelps Dodge Corp»

Б) «Grupo Mexico» Г) Årdal og Sunndal

(За правильный ответ – 2 балла)



Вопрос 16: Какой памятник архитектуры, дворец в г. Лхаса является всемирно известной достопримечательностью?
(За правильный ответ – 2 балла)



Вопрос 17: Поставьте в соответствие племена Африки и территории их проживания?

Территории проживания: 1) Намибия, 2) Эфиопия, 3) Сенегал, 4) Ливия
(За правильный ответ – 4 балла)

А) Туареги

Б) Фульбе

В) Мурси

Г) Химба



Вопрос 18: Определите высшую точку Судетов?
(За правильный ответ – 1 балл)



Вопрос 19: Определите государство. Назовите его столицу?
(За правильный ответ – 2 балла)



Вопрос 20: Определите, что это за вещество из которого получают алюминий?

(За правильный ответ – 2 балла)



Вопрос 21: Определите тип почвы по фотографиям.
(За правильный ответ – 1 балл)



Вопрос 22: Герб какого города изображен на рисунке? В каком административном районе он расположен?

(За правильный ответ – 2 балла)



Вопрос 23: Сопоставьте соус и страну его происхождения

Страны: 1) Грузия, 2) Италия, 3) Мексика, 4) Франция

(За правильный ответ – 4 балла)



А) Тартар



Б) Гуакамоле



В) Песто



Г) Ткемали

Вопрос 24: К какому городу Беларуси относится футбольная команда «Крумкачы»?

Варианты ответа:

А) Свислочь **Б) Могилев**

В) Дятлово **Г) Минск**

(За правильный ответ – 1 балл)



Вопрос 25: Назовите самую обширную болотистую территорию планеты?
(За правильный ответ – 1 балл)



Вопрос 26: Назовите самое большое озеро Беларуси.
(За правильный ответ – 1 балл)



Вопрос 28: Поставьте в соответствие горные системы и возраст их образования.

Складчатости: 1) Каледонская, 2) Герцинская, 3) Мезозойская, 4) Альпийская.

(За правильный ответ – 2 балла)

А) Динарское нагорье



Б) Кембрийские горы



В) Большой Водораздельный хребет



Г) Сьерра Невада



Вопрос 29: Соотнесите крупнейших производителей шин со странами:
А) Япония; Б) Республика Корея; В) Германия; Г) Франция.
(За правильный ответ – 2 балла)



1



2



3



4

Вопрос 30: Назовите самый восточный административный район
Беларуси?

Варианты ответа:

- А) Хотимский Б) Кричевский
В) Бельничский Г) Октябрьский

(За правильный ответ – 1 балл)

