

Сборник интерактивных заданий для работы с географической картой



Содержание



Рельеф

1

2

3

4

5



Реки

1

2

3

4

5



Озера

1

2

3

4

5



Моря. Заливы.
Проливы

1

2

3

4

5



Острова.
Полуострова

1

2

3

4

5



Страны

1

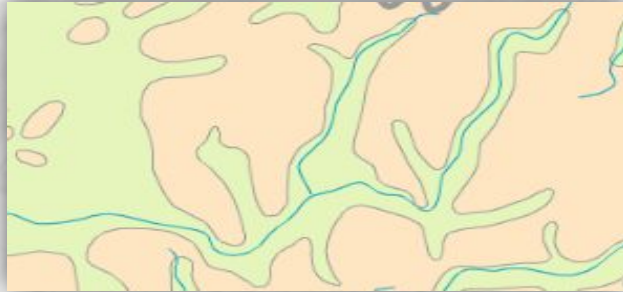
2

3

4

5

Определите типы форм рельефа по их высотам



Возвышенность



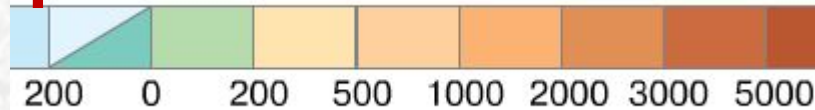
горы



ь



горы



Распределите горы по расположению на карте

в широтном направлении

в меридиональном
направлении

Анды

Гималаи

Кавказ

Кордильеры

Альпы

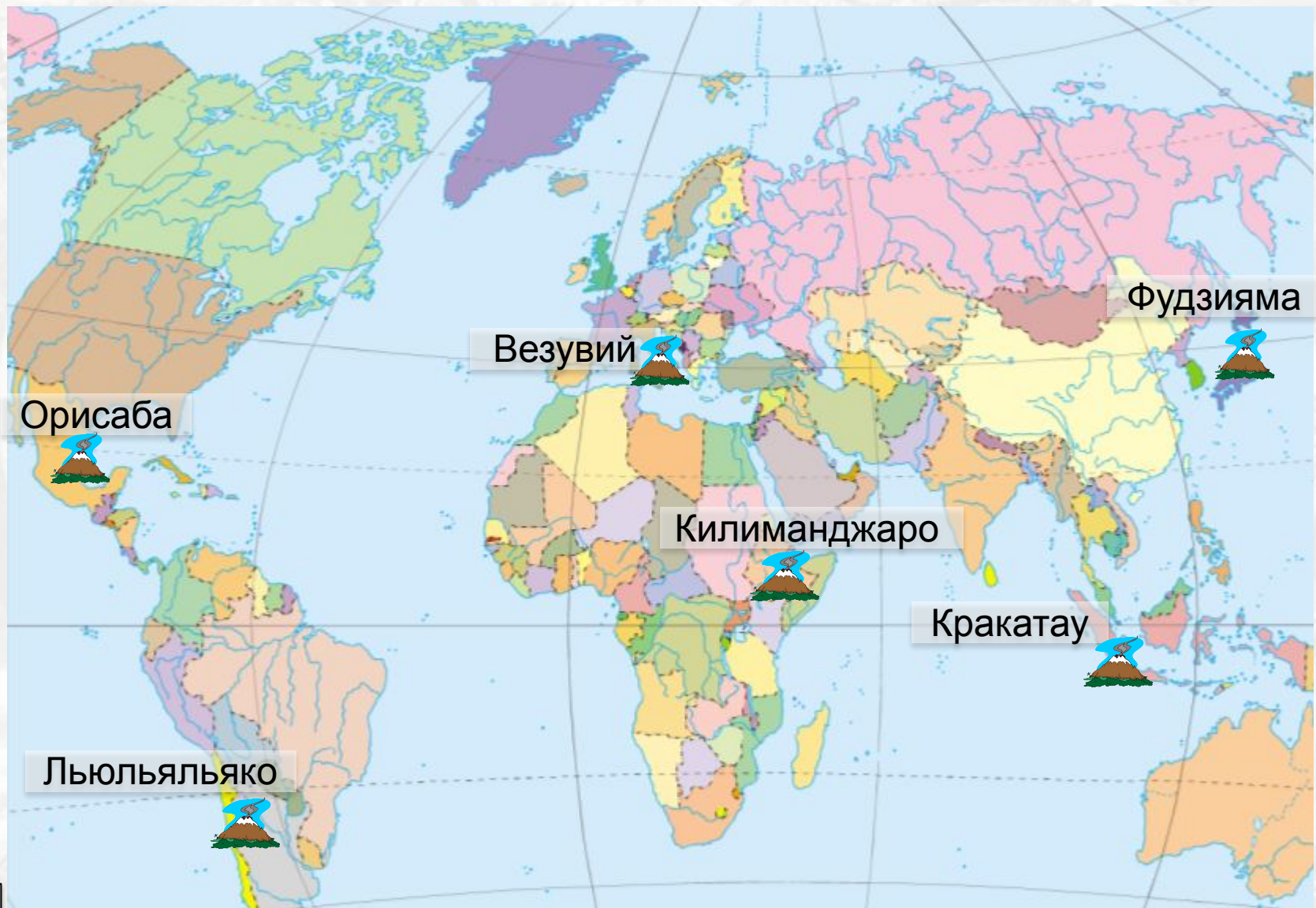
Урал

Тянь-Шань

Алтай



В каких странах расположены вулканы



В каких странах расположены вулканы



Везувий

**Итали
я**



Орисаба

**Мексик
а**



Фудзияма

**Япони
я**



Льюльляяко

**Аргентин
а - Чили**



Кракатау

**Индонез
ия**




Килиманджаро

Танзания




Заполните таблицу по наивысшим точкам

1

**Высота вершины 6 960 м**Название
вершиныНазвание горной
системы

Материк

2

**Высота вершины 5 642 м**Название
вершиныНазвание горной
системы

Материк


Заполните таблицу по наивысшим точкам

3

**Высота вершины 6 194 м**Название
вершиныНазвание горной
системы

Материк

4

**Высота вершины 2 228 м**Название
вершиныНазвание горной
системы

Материк

Заполните таблицу по наивысшим точкам

5

**Высота вершины 8 848 м**Название
вершиныНазвание горной
системы

Материк

6

**Высота вершины 4 807 м**Название
вершиныНазвание горной
системы

Материк

Заполните таблицу по наивысшим точкам

7

**Высота вершины 1 895 м**Название
вершиныНазвание горной
системы

Материк

8

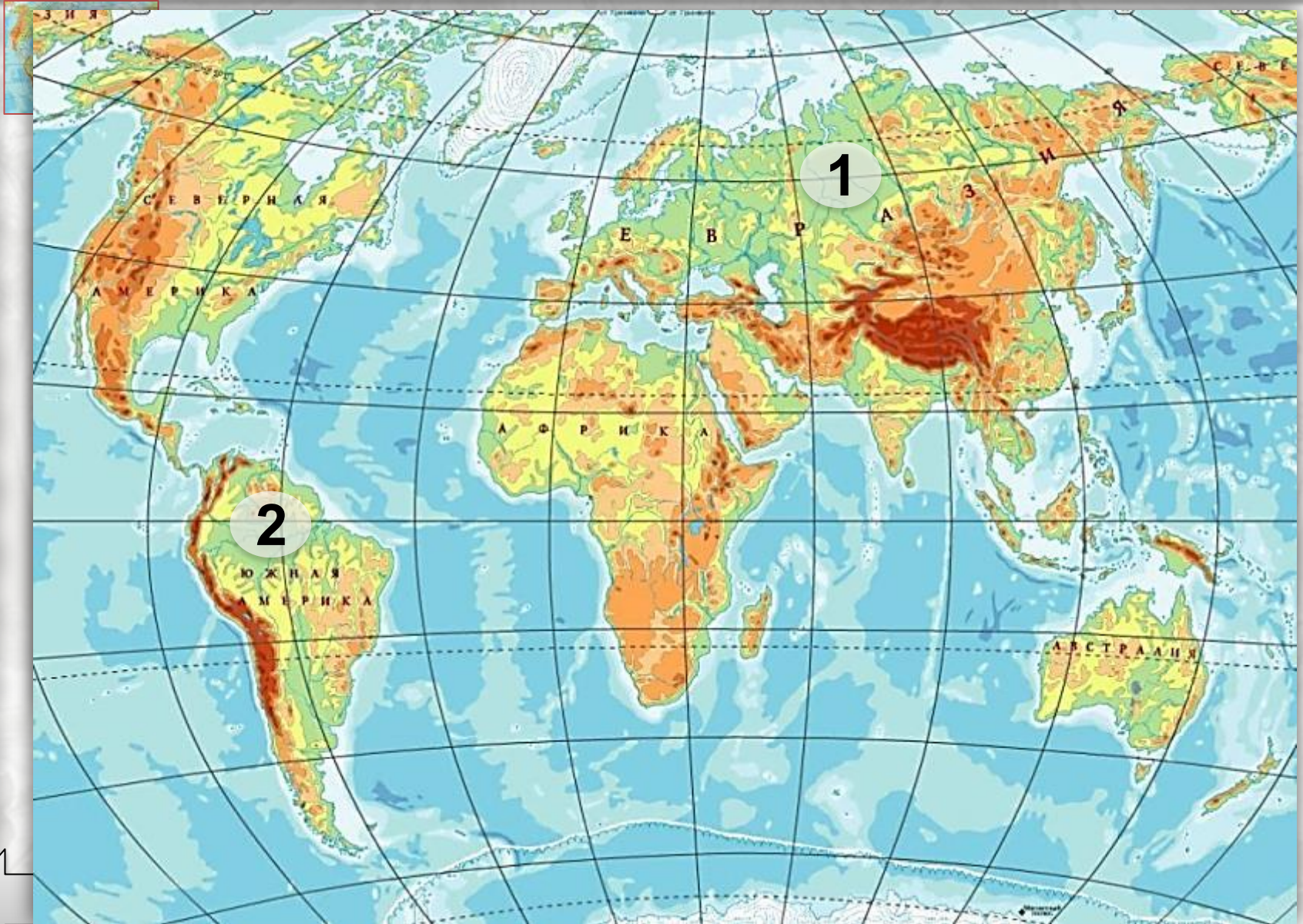
**Высота вершины 4 506 м**Название
вершиныНазвание горной
системы

Материк



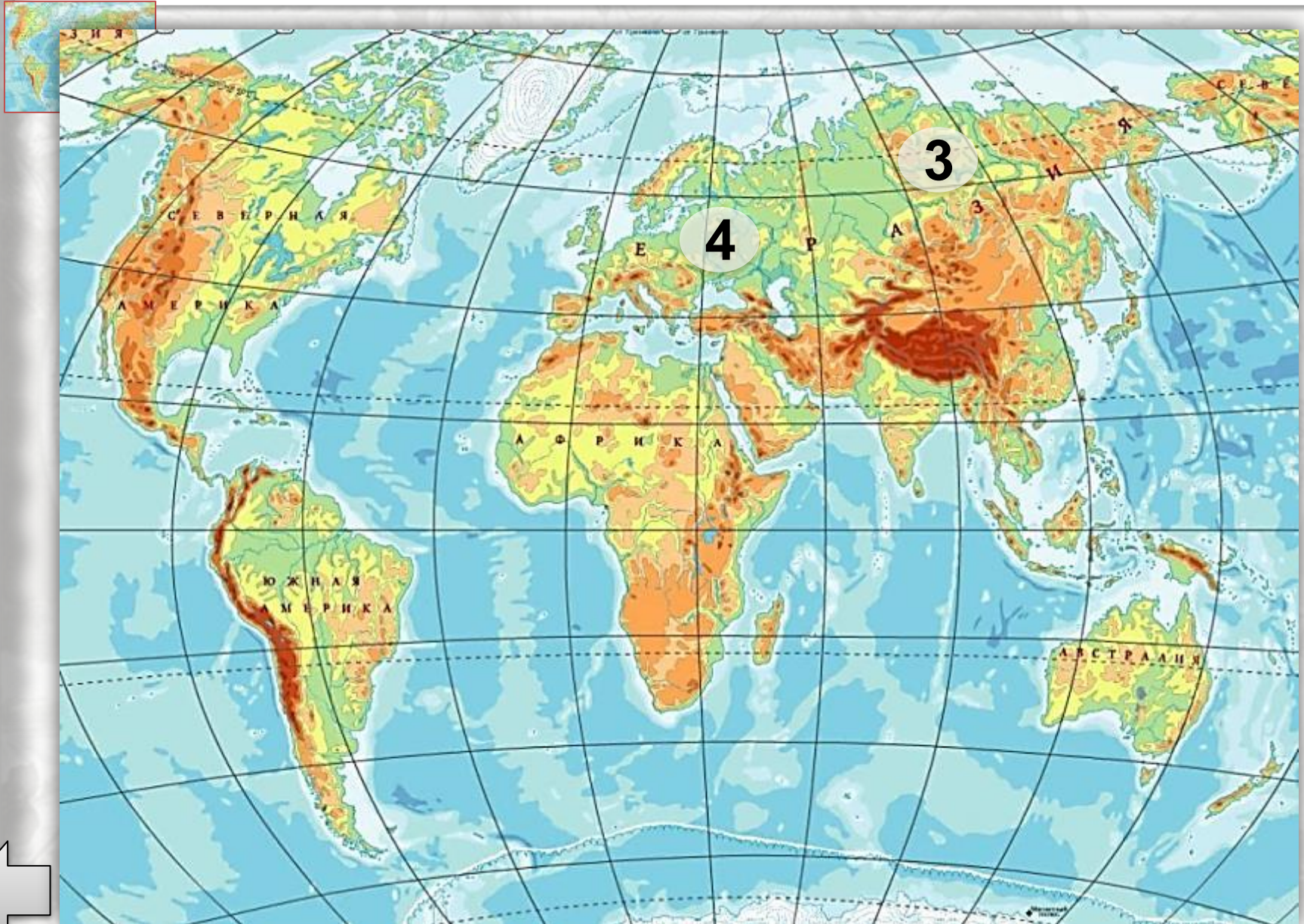
5

пределите равнины по фрагменту карты



5

Определите равнины по фрагменту карты



1

Соотнесите материки и реки



1. Амазонка

2. Енисей

3. Нил

4. Парана

5. Миссисипи

6. Обь

7. Хуанхэ

8. Колорадо

9. Муррей

10. Дунай

11. Ганг

12. Нигер

13. Конго

14. Лена

15. Замбези

16. Ориноко

17. Дарлинг

18. Макензи

19. Амур

20. Куперс-крик

21. Янцзы

22. Мараньон

23. Оранжевая

24. Миссури

проверка

1

Соотнесите материки и реки

А



2. Енисей

6. Обь

7. Хуанхэ

10. Дунай

11. Ганг

14. Лена

19. Амур

21. Янцзы

Б



3. Нил

12. Нигер

13. Конго

15. Замбези

23. Оранжевая

В



5. Миссисипи

8. Колорадо

18. Макензи

24. Миссури

Г



1. Амазонка

4. Парана

16. Ориноко

22. Мараньон

Д



9. Муррей

17. Дарлинг

20. Куперс-крик



1.

Миссисипи2. **Енисей**3. **Муррей**4. **Волга**

5.

Амазонка6. **Обь**

А. Иртыш

Б. Дарлинг

В. Миссури

Г. Укаяли

Д. Ангара

Е. Кама



3

Определите названия водопадов

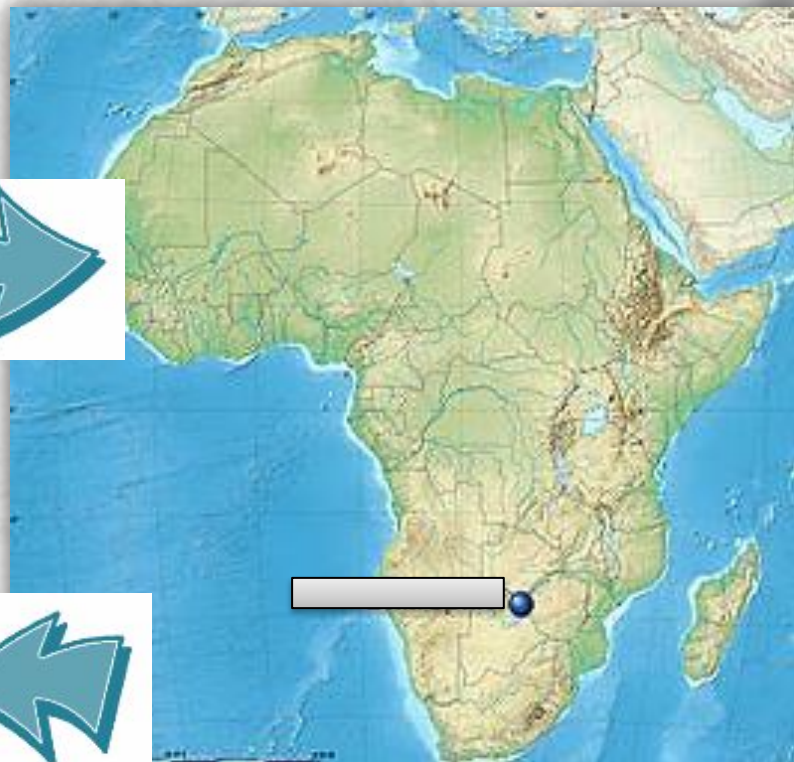


Водопад ИГУАСУ расположен на р. Игуасу притоке реки . Имеет максимальную высоту 82 м, ширина – 2 700 м.

Находится на границе двух государств: и .

3

Определите названия водопадов



Водопад ВИКТОРИЯ расположен на реке

Имеет максимальную высоту 108 м, ширину – 1 800м.

Находится на границе двух государств: и



3

Определите названия водопадов



НИАГАРСКИЙ водопад расположен на реке

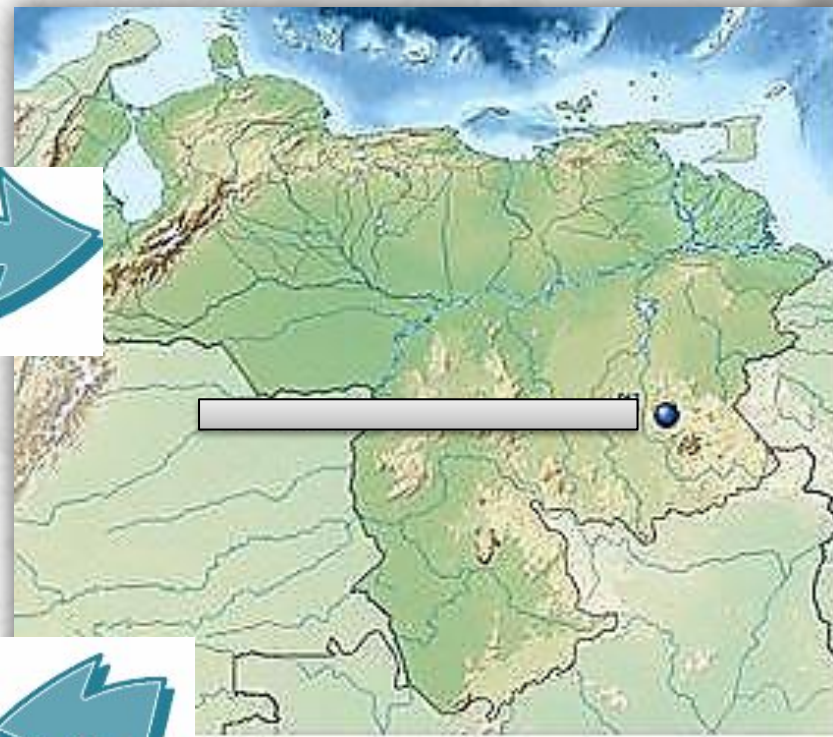
Имеет максимальную высоту 53 м, ширина – 792 м.

Находится на границе двух государств: и .



3

Определите названия водопадов



Водопад АНХЕЛЬ расположен
В бассейне реки
Имеет максимальную высоту 979 м,
ширина – 107 м.
Находится на территории
государства



4

Определите реки - рекордсмены

Самая широкая река в мире Ла-Плата – ширина в месте слияния реки Параны и реки Уругвая 48 километров.



1



Название

Исток

Устье

Материк

Название

Исток

Устье

Материк

2



Название

Исток

Устье

Материк

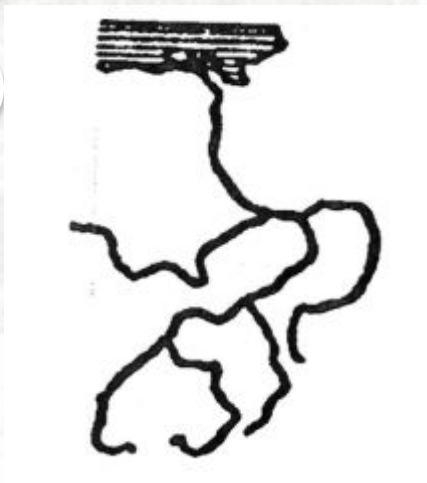
3



5

Определите по контуру реки

4



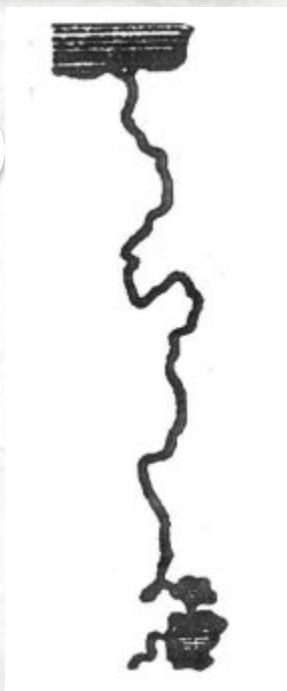
Название

Исток

Устье

Материк

5



Название

Исток

Устье

Материк



1

Найдите на карте озера



2**Определите озера по их координатам**

Широта	Долгота	Название
3° ю. ш.	33° в. д.	1 оз.
53° с. ш.	105° в. д.	2 оз. Виктория
16° ю. ш.	68° з. д.	3 оз. Титикака
48° с. ш.	88° з. д.	4 оз. Верхнее
28° ю. ш.	137° в. д.	5 оз. Эйр
7° ю. ш.	30° в. д.	6 оз.
61° с. ш.	32° в. д.	7 Танганьика оз.

Ладожское

3

Расположите озера-рекордсмены с севера на юг

1. Самое большое по площади озеро мира –
2. Самое большое пресное озеро мира –
3. Самое большое горное озеро –
4. Самое глубокое озеро мира – ...
5. Второе по глубине озеро мира –
6. Самое большое озеро Европы –



1

Озеро лежит на юго-западе Евразии. Это остаточное озеро, в результате движения земной коры водоем потерял связь с океаном. Наибольшая глубина его 1925 м. Это бессточное озеро. В него впадает великая русская река.

**Каспийское
море**

2

Этому озеру более 30 млн. лет. Его глубина 1 642 м и оно самое прозрачное в мире. В озере обитает 1800 видов животных и растений – $\frac{3}{4}$ из них эндемичны, т.е. встречаются только здесь.

Байкал

3

Это озеро – самый крупный пресноводный водоем в Европе. В него впадает более 30 рек, а вытекает одна Нева. У озера славная история: в годы Великой Отечественной войны по его льду проходила Дорога Жизни – единственная связь страны с осажденным Ленинградом.

Ладожское



4

Озеро находится на востоке материка, на территории трех государств. Расположено в тектоническом прогибе платформы, на высоте 1134 м. Это 2-е по величине пресное озеро мира после озера Верхнего и самое большое озеро на материке по площади. Оно также наибольшее среди тропических озёр. **Виктория**

5

Это одно из самых соленых озер. Его самая большая глубина свыше 400 метров, а расположено оно на 395 метров ниже уровня Мирового океана. В одном литре воды озера содержится до 310 граммов соли. **Мертвое море**

6

Большая часть озера расположена на территории одноименного государства, в центральной части материка. Площадь озера ежегодно меняется от 12 до 26 тыс. км². Глубина также колеблется от 4 до 11 м. Имеет слегка солоноватую воду, а вблизи устьев рек - пресную. **Чад**

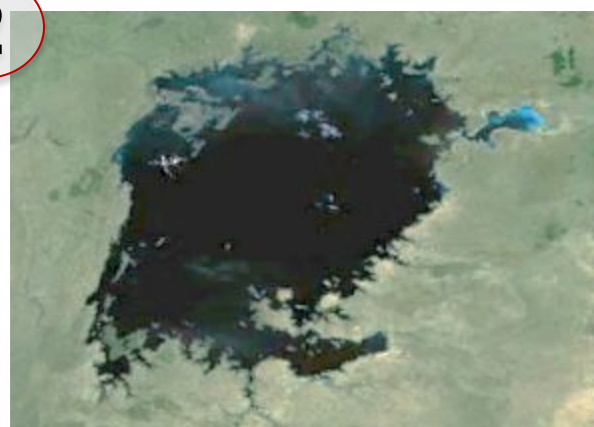


1



оз. Верхнее

2



оз.

3



оз.

4



оз.

5



оз. Байкал

оз. Виктория



1

Определите названия морей



1. Берингово

2. Карибское

3. Красное

4. Черное

5. Охотское

6. Карское

7. Средиземное

8. Аравийское

9. Баренцево

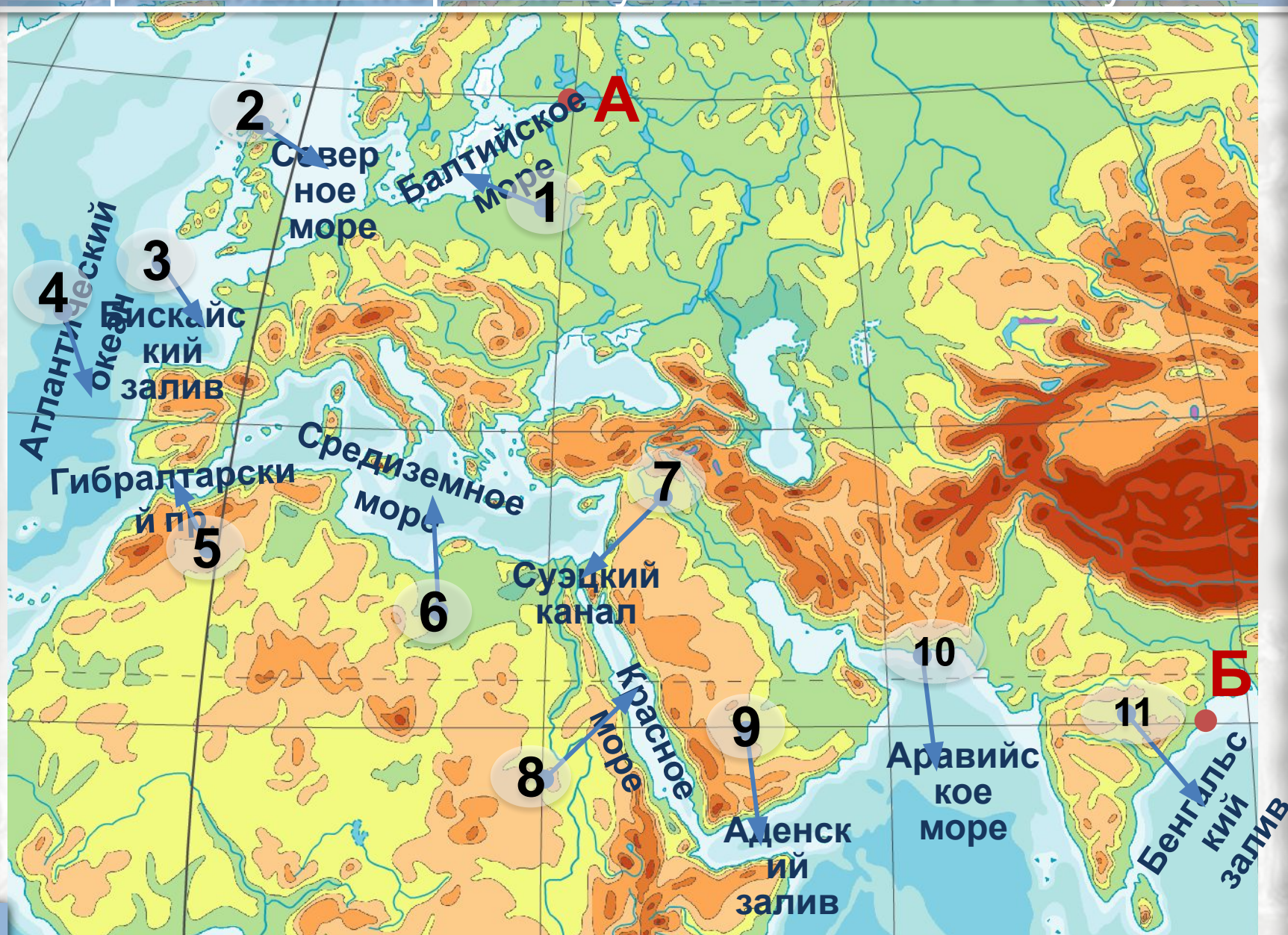
10. Коралловое

проверка



2

Через какие объекты можно попасть кратчайшим морским путем из точки А в точку Б?



1. Пиренейский п-в и северную часть Африки разъединяет пролив

Гибралтар

2. Дрейка

н с востока омывает

Бенгальский

залив.

Гибралтар

3. Берингов

убокое море в мире

Бенгальский

Коралловое

4. Ла-Манш

пролив

Дрейка

отде

Персидский

Берингово

Америки.

Гудзонов

Бискайский

Карибское

5. Антильские

Дрейка

деляют

Мексиканский

залив и

Карибское море

Магелланов

Мексиканский

Аденский

6.

Берингово

море омывает

Гвинейский

Америки и Евразии.

Берингово

Бенгальский

7.

Охотское

й из перечисленных -

Гудзонов

залив.

Баренцево

Бискайский

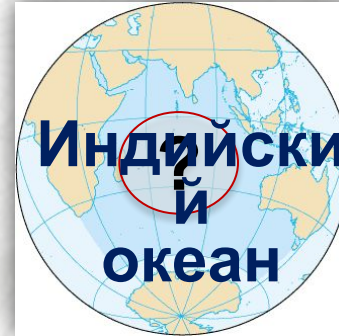

Японское

Гудзонов

Финский

Гвинейский

проверка



Персидский залив	Средиземное море	Южно-Китайское море	Берингов пролив
Берингово море	Аравийское море	Мозамбикский пролив	Карское море
Японское море		Белое море	Мексиканский залив
Калифорнийский залив	Залив Фанди	Красное море	Чукотское море
Бенгальский залив	Бискайский залив	Гудзонов залив	Море Бофорта
Карибское море	Желтое море	Бенгальский залив	Балтийское море
Баренцево море	Красное море	Малаккский пролив	Норвежское море
Пролив Дрейка	Гвинейский залив	Черное море	Финский залив
	Азовское море		Охотское море



5 А вы знаете древние названия морей?



Варяжское



**Понт
Эвксинский
Русское море**



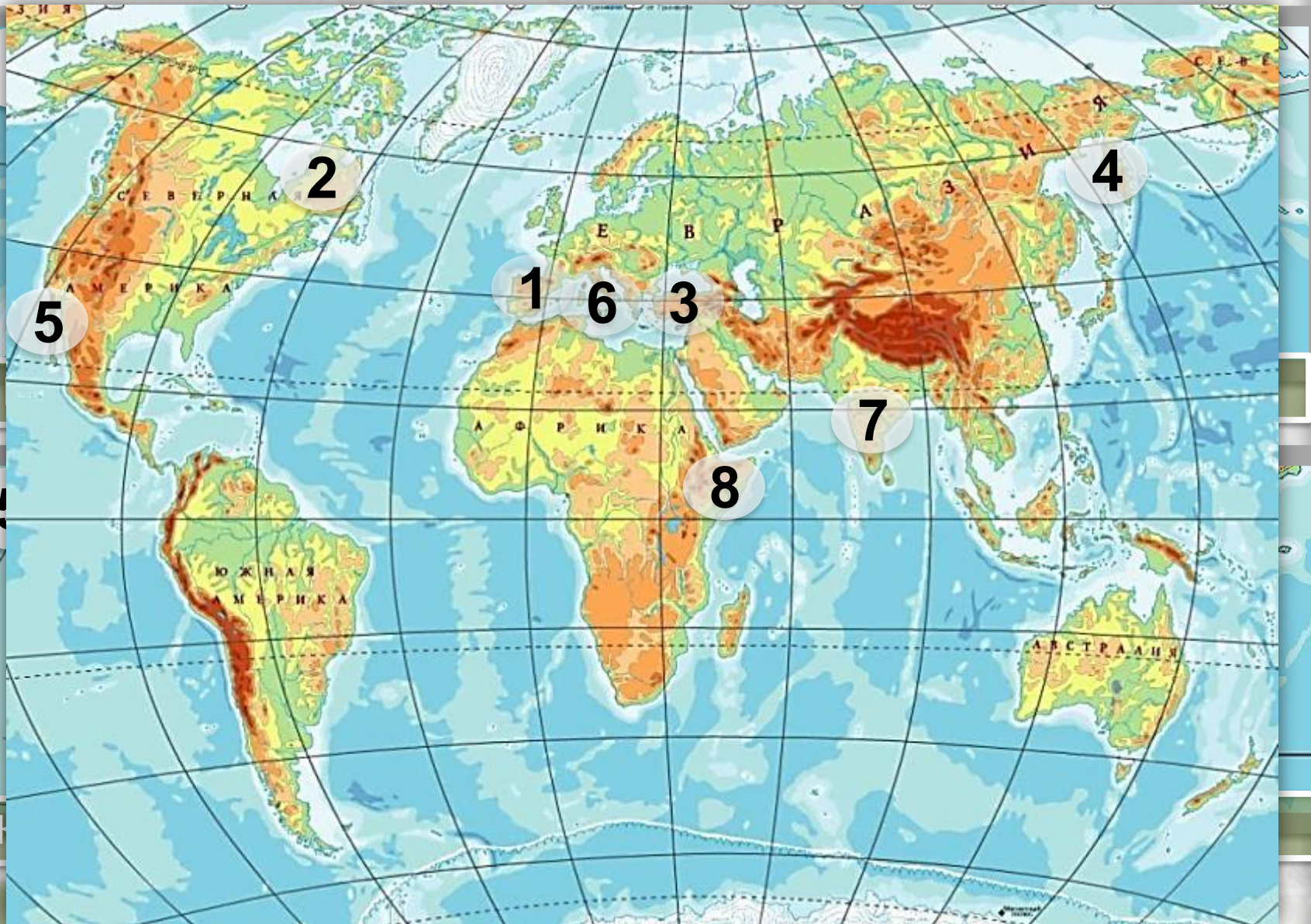
**Мурманское
море**



**Зелёное море
Оманское
море**

1

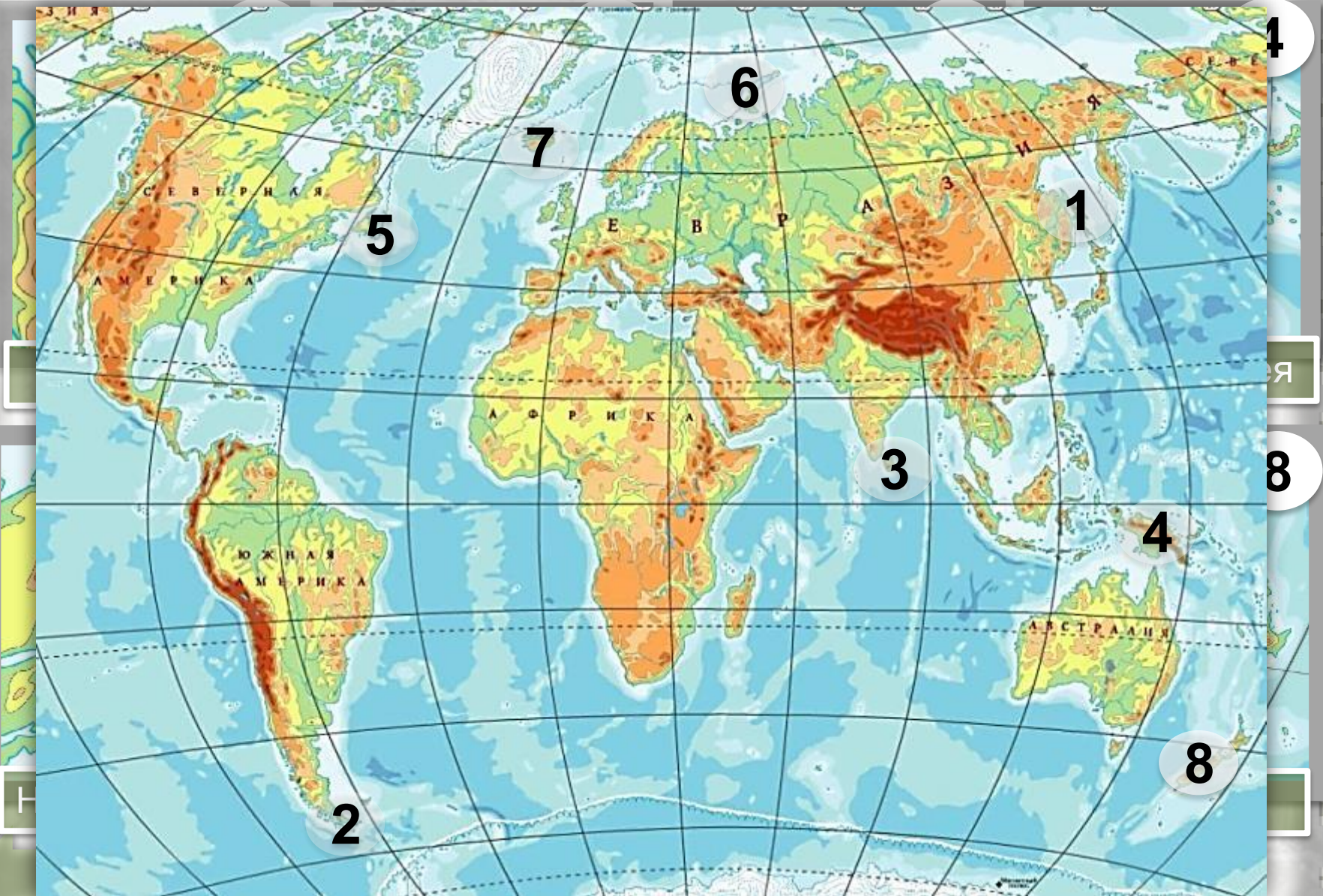
Определите полуострова



проверка

2



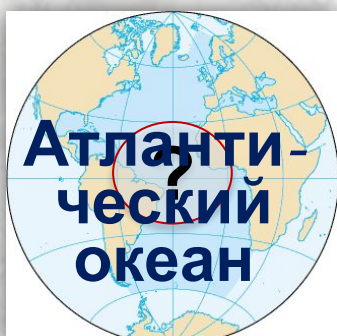
Определите острова



проверка

3

Распределите объекты по океанам



Шри - Ланка

Ямал

Сомали

Врангеля

Кольский

Калифорния

Флорида

Антильские

Лабрадор

Ирландия

начать

Аравийски

Индостан

Н. Зеландия

Ямыр

Сахалин

Камчатка

Индокитай

Новая Земля

Шпицберге

Мадагаска

Аляска

Пиренейский



4 Определите полуострова по контурам



- 1 Индостан 2 Скандинавский 3 Апеннинский 4 Салдин 5 Индокитай



1

Индостан



Индия

2

Балкански



Греция

3

Малая



Турция

4

Аляска



США

5

Сомали



6

Апеннинск

ий



Италия



5

Определите острова и государства, расположенные на них

1



Британские
острова

2



Большие
острова
Индонезия

3



Японские
острова
Япония

4



Новая
Зеландия

5



Филиппинские
острова
Филиппины

6



Мадагаскар



1

Распределите страны по частям света



Румыни

Франция

Германия

Фийлянд

Исландия

Чехия



ия

Китай

Индия

Кмении

Ирак



Танзани

Эфиопи

я

Чехия

Алжир

Замбик



Аргенти

Колумби

я

Венесуэл

Бразилия

Панама



2

Определите страну по столице

1

Б
Е
Р
Л
И
Н



Г
Е
Р
М
А
Н
И
Я

2

В
А
Ш
И
Н
Г
Т
О
Н



С
Ш
А

2

Определите страну по столице

3

П
Е
К
И
Н
Н



К
И
Т
А
Й

4

П
А
Р
И
Ж



Ф
Р
А
Н
Ц
И
Я

2

Определите страну по столице

5

Т
О
К
И
О



Я
П
О
Н
И
Я

6

Н
Ь
Ю
-
Д
Е
Л
И



И
Н
Д
И
Я

7

Б
У
Э
Н
О
С
-
А
Й
Р
Е
СА
Р
Г
Е
Н
Т
И
Н
А

8

Л
О
Н
Д
О
НВ
Е
Л
И
К
О
Б
Р
И
Т
А
Н
И
Я

9

Р
И
МИ
Т
А
Л
И
Я

10

К
И
Е
ВУ
К
Р
А
И
Н
А

3 Какие страны объединяет «река дружбы»?

1.

2.

3.

4.

5.

Хорватия
6. Сербия

7.

8.

9.

10.

Украина



4

Определите материк и страну по «соседям»

1



2



3



4



5

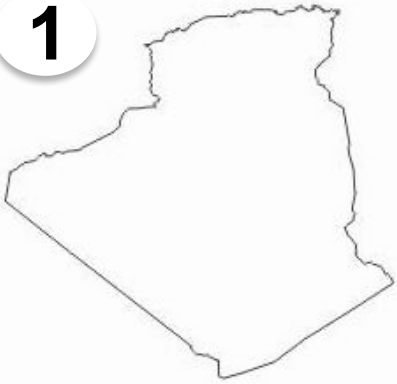


4

Определите материк и страну по «соседям»



1



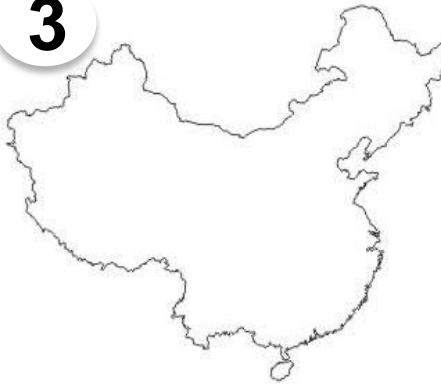
- | | |
|----|----------------|
| А. | Египет |
| Б. | Алжир |
| В. | Мексика |
| Г. | Германи |

2



- | | |
|----|----------------|
| А. | Индия |
| Б. | Перу |
| В. | Финлянд |
| Г. | Аргенти |

3



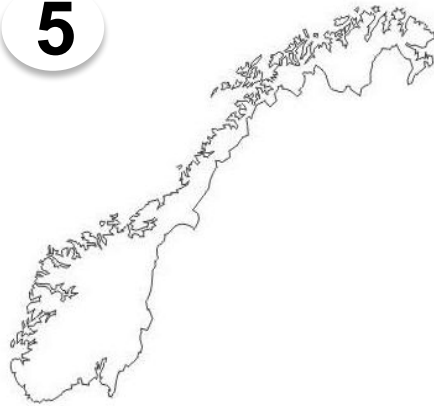
- | | |
|----|----------------|
| А. | Бразили |
| Б. | США |
| В. | Китай |
| Г. | Монголи |

4



- | | |
|----|----------------|
| А. | Канада |
| Б. | Нигерия |
| В. | Германи |
| Г. | Украина |

5



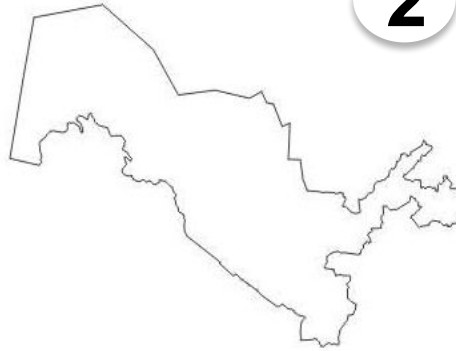
- | | |
|----|---------------|
| А. | Норве |
| Б. | Чили |
| В. | Швеция |
| Г. | Япония |

1



- А. **Вьетнам**
 Б. **Исланди**
 В. **Норвеги**
 Г. **Чили**

2



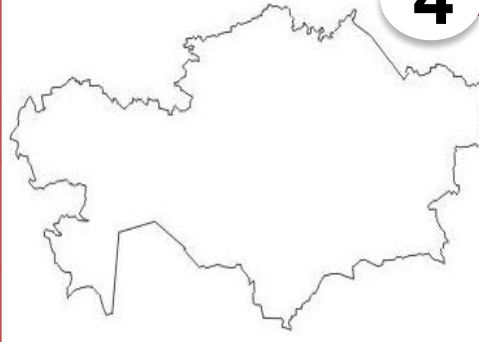
- А. **Туркмен**
 Б. **Испания**
 В. **Узбекист**
 Уз **Пакиста**
 Г. **н**

3



- А. **Иран**
 Б. **Болгари**
 В. **Колумби**
 Г. **Эфиопи**

4



- А. **Франция**
 Б. **Казахста**
 Ка **Египет**
 В. **Украина**

5



- А. **Мексика**
 Б. **Венесуэ**
 В. **Таиланд**
 Г. **Грузия**

Ресурсы

http://www.ppl-14.ru/new_gallery/21403236294f0eca4e97b48.jpg - фон

<http://www.oreninform.ru/upload/iblock/55e/17.02%20rlgttxfjldlyvwjv%204%20+.jpg> – клипарт

http://www.world-geographics.com/cfg/public/lib/img/maps/eurasia/map_of_russia_republics.png - к/к РФ с республиками

http://www.waimforthegridcomnorthamerica.webstarts.com/uploads/11949843562058740961world_map_saint_svg_hi.png - клипарт карта мира

<http://didaktor.ru/konstruktor-interaktivnogo-diktanta/> - Аствацатуров Г.О. Конструктор интерактивного диктанта

http://www.mdzol.com/files/image/95/95411/49527f03465ed_584_!.jpg?s=466a1cbcc16bfe775a102afa2ba271f0 – г. Аконкагуа

<http://www.fotka.by/img--i-19233-w-640.jpg> - г. Эльбрус

<http://100dorog.ru/upload/contents/422/mckinley.jpg> - г. Мак-Кинли

<http://s41.radikal.ru/i093/1004/17/a178f61ed38b.jpg> - г. Косцюшко

<http://www.x-team.ru/upload/blog/7cf/7cf821e656596863ff6f63a116e90789.jpg> - Эверест

<http://mountain.kz/images/4877t.jpg> - Монблан

http://www.skitalets.ru/photogallery/2004/pripolar_alex/narodnaya.jpg - Народная

http://vse.kz/uploads/1156245759/gallery_1757_899_54225.jpg - Белуха

http://www.mapsmaps.ru/wp-content/uploads/2010/10/polit_africa6.jpg - карта Африки

<http://chupakabr.ru/wp-content/uploads/2010/05/europe-map-travel.jpg> - карта Европы

<http://rmtc.fsdb.k12.fl.us/images/volcano2.gif> - клипарт вулкан

http://y.delfi.ee/norm/57821/2765853_fqMvew.jpeg - Везувий

<http://im8.asset.yvimg.kz/userimages/almazoff/b8btB7iXL5Lxb00PFbgAqgH3h71FOp.jpg> - Орисаба

<http://www.aniline.ru/pu/0/20597885.jpg> - Фудзияма

<http://meggietailor.files.wordpress.com/2010/01/lullail.jpg> - Льюльяльяко

<http://i1.alfi.lt/5413/62/36.jpg> - Кракатау

<http://turism.bzi.ro/public/upload/photos/5/kilimanjaro.jpg> - Килиманджаро

http://brazilgo.ru/photos/img_imagephp.jpg - Игуасу

http://upload.wikimedia.org/wikipedia/commons/thumb/5/51/South_America_laea_relief_location_map.jpg/280px-South_America_laea_relief_location_map.jpg - карта Игуасу

Ресурсы

http://3.bp.blogspot.com/_tVAiIATjQNw/THzUqZlvA8I/AAAAAAAAAB6Y/KhxyU9NiFgM/s1600/2975347.jpg -

Виктория

http://upload.wikimedia.org/wikipedia/commons/thumb/0/07/Africa_relief_location_map.jpg/280px-Africa_relief_location_map.jpg - карта Виктория

http://img-fotki.yandex.ru/get/4207/galikos.29/0_39c32_d57e416_XL.jpg - Ниагара

http://upload.wikimedia.org/wikipedia/commons/thumb/f/f3/Usa_edcp_relief_location_map.png/280px-Usa_edcp_relief_location_map.png - карта Ниагара

http://megalife.com.ua/uploads/posts/2010-09/1284149685_17.megalife.jpg - Анхель

http://animalworld.com.ua/images/2013/February/Nature/Fluss/Fluss_10.jpg - Нил

http://images.samogo.net/images/76123251_largest_tropic_forest_1.jpg - бассейн Амазонки

http://upload.wikimedia.org/wikipedia/commons/3/39/Gangesdelta_klein.jpg?uselang=ru – дельта Ганга

http://upload.wikimedia.org/wikipedia/commons/3/3c/Russia_edcp_relief_location_map.jpg?uselang=ru – карта эстуарий Обь

<http://review-planet.ru/wp-content/uploads/2012/05/923.jpg> - Конго

<http://most.ua/img/07-neveroyatnyh-rek-12.jpg> - Ла-Плата

http://geolab914.3dn.ru/_ph/2/185341541.jpg - контурная карта

http://www.profi-forex.org/system/user_files/Images/News/03-2011/130311/A13-12-2.jpg - Балтийское море

<http://apxeo.info/wp-content/uploads/2011/01/1.png> - Черное море

http://upload.wikimedia.org/wikipedia/commons/0/04/Barents_Sea_map_ru.svg?uselang=ru – Баренцево море

<http://lookvokrug.ru/uploads/posts/2012-10/bqfwz6mm19.jpg> - Аравийское море

http://upload.wikimedia.org/wikipedia/commons/c/c4/Pacific_Ocean.png?uselang=ru – Тихий океан

http://upload.wikimedia.org/wikipedia/commons/0/06/Atlantic_Ocean.png?uselang=ru – Атлантический океан

<http://upload.wikimedia.org/wikipedia/commons/c/c5/Indianocean.PNG?uselang=ru> – Индийский океан

http://upload.wikimedia.org/wikipedia/commons/thumb/f/fe/Arctic_Ocean.png/220px-Arctic_Ocean.png

Северный Ледовитый океан

Ресурсы

- http://www.vectory.ru/products_pictures/INDE2.jpg - Индия
- http://www.vectory.ru/products_pictures/ROYUNI2.jpg - Великобритания
- http://www.vectory.ru/products_pictures/GRECE2.jpg - Греция
- http://www.vectory.ru/products_pictures/INDONESI2.jpg - Индонезия
- http://www.vectory.ru/products_pictures/ITALIE2.jpg - Италия
- http://www.vectory.ru/products_pictures/MADAGASC2.jpg - Мадагаскар
- http://www.vectory.ru/products_pictures/NOUZELAN2.jpg - Новая Зеландия
- http://www.vectory.ru/products_pictures/SOMALIE2.jpg - Сомали
- http://www.vectory.ru/products_pictures/TURQUIE2.jpg - Турция
- http://www.vectory.ru/products_pictures/JAPON2.jpg - Япония
- http://www.vectory.ru/products_pictures/PHILIPPI2.jpg - Филиппины
- http://www.vectory.ru/products_pictures/ALASKA2.jpg - Аляска
- http://www.vectory.ru/products_pictures/ALGERIE2.jpg - Алжир
- http://www.vectory.ru/products_pictures/ARGENTIN2.jpg - Аргентина
- http://www.vectory.ru/products_pictures/CHINE2.jpg - Китай
- http://www.vectory.ru/products_pictures/NORVEGE2.jpg - Норвегия
- http://www.vectory.ru/products_pictures/MEXIQUE2.jpg - Мексика
- http://www.vectory.ru/products_pictures/ALLEMAGN2.jpg - Германия
- http://www.vectory.ru/products_pictures/KAZAKHST2.jpg - Казахстан
- http://www.vectory.ru/products_pictures/OUZBEKIS2.jpg - Узбекистан
- http://www.vectory.ru/products_pictures/CHILI2.jpg - Чили
- http://www.vectory.ru/products_pictures/IRAN2.jpg - Иран
- http://xn--gerstplane-ceb.com/cms/images/sonstige/1350327355_hZLxLThe8C_kl.jpg - Европа
- <http://www.clker.com/cliparts/M/9/Y/u/6/P/southeast-asia-hi.png> - Азия
- <http://www.clker.com/cliparts/C/C/d/6/Q/q/grey-americas-hi.png> - Америка
- http://www.vectory.ru/products_pictures/ROUMANIE2.jpg - Румыния
- http://www.vectory.ru/products_pictures/TANZANIE2.jpg - Танзания
- http://www.vectory.ru/products_pictures/ETHIOPIE2.jpg - Эфиопия

Ресурсы

http://www.vectory.ru/products_pictures/FINLANDE2.jpg - Финляндия
http://www.vectory.ru/products_pictures/FRANCE2.jpg - Франция
http://www.vectory.ru/products_pictures/TURKMEN2.jpg - Туркмения
http://www.vectory.ru/products_pictures/NIGERIA2.jpg - Нигерия
http://www.vectory.ru/products_pictures/LIBYE2.jpg - Ливия
http://www.vectory.ru/products_pictures/ISLANDE2.jpg - Исландия
http://www.vectory.ru/products_pictures/BRESIL2.jpg - Бразилия
http://www.vectory.ru/products_pictures/VENEZUEL2.jpg - Венесуэла
http://www.vectory.ru/products_pictures/IRAK2.jpg – Ирак
http://www.vectory.ru/products_pictures/MOZAMBIQ2.jpg - Мозамбик
http://www.vectory.ru/products_pictures/PANAMA2.jpg - Панама
http://www.vectory.ru/products_pictures/REPTCHEQ2.jpg - Чехия
http://upload.wikimedia.org/wikipedia/commons/5/52/Berlin_Montage_4.jpg?uselang=ru – Берлин
<http://www.divatravel.com.ua/upload/iblock/8b7/washington.jpg> - Вашингтон
<http://p.nahalyavu.com/photos/big/16/16220.jpg> - Пекин
http://www.bygeo.ru/uploads/posts/2011-05/day_04/1304497252453838.jpeg - Париж
<http://59travel.ru/public/upload/images/6409.jpg> - Токио
<http://shooow.me/uploads/images/00/00/02/2011/07/30/8206a9.jpg> - Дели
http://sfw.so/uploads/posts/2010-09/thumbs/1284492757_1284475196_003.jpg - Буэнос - Айрес
<http://www.bestphotosite.net/photos/411142475.jpg> - Лондон
<http://event-a-way.com/wp-content/gallery/art-puteshestvie-v-rim/223528x0.jpg> - Рим
<http://img11.nnm.ru/2/5/2/b/2/3d09febe61b0c2ab6bbb68fe139.jpg> - Киев