

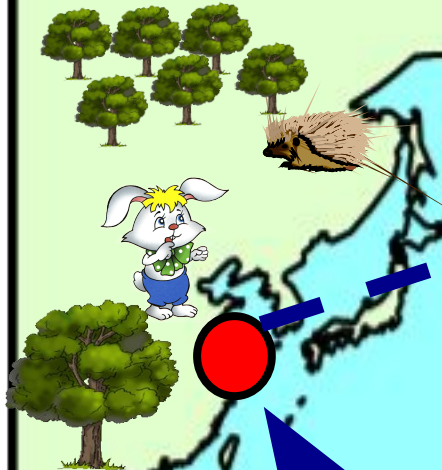
**Флипчарт на тему:
"Сложение и вычитание в пределах 10"
Математика 1 класс**

**Юрикова Елена Валерьевна
учитель начальных классов
муниципальной средней общеобразовательной школы № 9 с
углубленным изучением предметной области "Технология"
г. Нижневартовск**

Предлагаю вам совершить
увлекательное
путешествие и найти клад.
В добрый путь, друзья!



В гостях у лесных жителей.



В гостях у Мудрой совы.



Царство Золотой рыбки.




Карта путешествия.

Материк Попугаев



Пустыня Атакама











Королевство Математики





Найдите закономерность
в размещении фигур и
заполните пустые клетки.







Мы подскажем, как
выбраться из леса,
если вы поможете
нам выполнить
задания...

Вспомните состав числа 7
и найди правильный пример



$7+0$

$6+2$

7


$5+2$

$4+3$


$6+1$

$5+3$

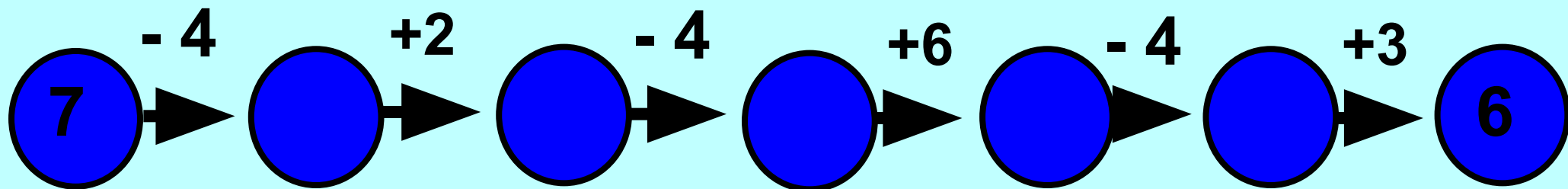


У нас большой урожай яблок.
Помогите мне расложить
яблоки в две корзинки.



Кажется вам нужна помощь?
Поможем! Смело выполните
задание рыбки и вы попадёте
обратно на сушу.



Заполните цепочку



1 2 3 4 5 6 7 8 9



Выполните мои задания и продолжите путь
дальше.






Вы, наверное,
немного устали?
Давайте
отдохнём.


Сколько яблочек зелёных - столько сделаем наклонов.



Сколько ягодок у нас - столько мы подпрыгнем раз.






Повернёмся столько раз - сколько куколок у нас.






Наш караван движется
туда, куда вам надо.
Возьмём вас с собой.
А по пути вместе
выполним задание
в тетради на странице 30



Решите примеры и раскрасьте
нужным цветом.



$10-2$	$4+2$	$7-1$	$0+5$
$6+1$	$5+3$	$8-1$	$4+3$
$3+3$	$1+4$	$6+2$	$9-3$
$7-2$	$10-3$	$9-2$	$9-1$




Вижу: осталось вам совсем чуть-чуть! Вы почти пришли! На вашем пути последняя - преграда!



Подберите яблоко к каждой корзинке.



$3+2 \underline{\quad} 5$




$6-2 \underline{\quad} 3$



$10-2 \underline{\quad} 7$



$5+1 \underline{\quad} 7$



$6-3 \underline{\quad} 3$




$3+2 \underline{\quad} =$

$6-2 \underline{\quad} > 3$

$10-2 \underline{\quad} >$

$5+1 \underline{\quad} <$

$6-3 \underline{\quad} = 3$



Я Королева математики.
Вы прошли трудный путь,
попали в моё царство
и нашли клад.




Вам, наверное, интересно
узнать, что же за клад
спрятан в сундуке?



Правильно, это книга.
Ведь именно книги
хранят главное богатство
- это знания.






Расскажите мне,
какие препятствия
были на вашем пути?
Что вы делали?

А теперь определите
своё настроение.





Молодцы,
вы справились
со всеми испытаниями.
До новых встреч!