



«Лесная школа»
Игра-
Менеджер
Для детей 5-7
лет

Составила
Воспитатель Кудрячева
Э.Р.




ЛЕСНАЯ
ШКОЛА

АЗБУКА

А

А




Внимание! Внимание!
Сегодня проводится урок по математике
Для лесных жителей.
Просьба не опаздывать на урок!

Повторяем



**Сколько солнышек за
тучкой,
Сколько стержней в
авторучке,
Сколько у слона носов,
Сколько на руке часов?
Сколько ног у мухомора
И попыток у сапера,
Знает и собой гордится,
Цифра-столбик...**



Сколько ушек на макушке,
Сколько ног у пол-лягушки,
Сколько у сома усов
У планеты полюсов,
Сколько в целом
половинок,
В паре - новеньких
ботинок,
И передних лап у льва
Знает только цифра...



**Сколько месяцев в зиме,
В лете, в осени, в весне,
Сколько глаз у
светофора,
Баз на поле для
бейсболаней
у спортивной шпаги
И полос на нашем флаге,
Что нам кто ни говори,
Знает правду цифра**



... Сколько лапок у
мангуста,
Лепестков в цветке
капусты,
Пальцев на куриной
ножке

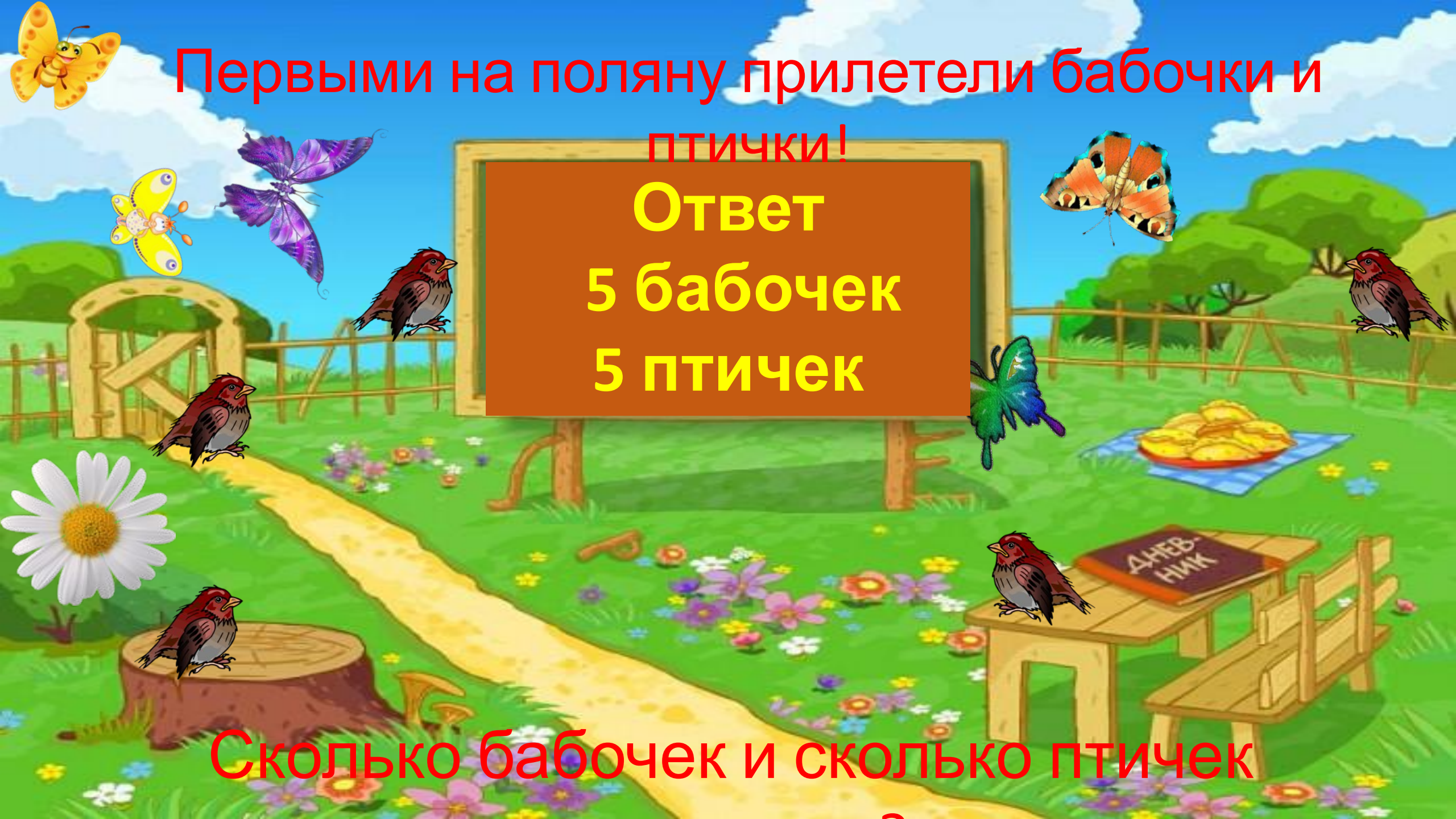
И на задней лапе кошки
Рук у Тани вместе с
Петей

И всего сторон на свете
Да и океанов в мире,
Знает циферка...



**Сколько пальцев на
руке
И копеек в пяточке,
У морской звезды
лучей,
Клювов у пяти грачей,
Лопастей у листьев
клена
И углов у бастиона,
Про все это
рассказать
Нам поможет цифра...**



A vibrant illustration of a garden scene. In the center, a brown sign with a wooden frame contains yellow text. The background features a green lawn with a wooden fence, a path, a tree stump, a picnic table with a book, and a plate of food. Various butterflies and birds are scattered throughout the scene.

Первыми на поляну прилетели бабочки и
птички!

Ответ
5 бабочек
5 птичек

Сколько бабочек и сколько птичек

Потом прискакали
зайчата

Ответ:
4 зайчика



Сколько зайчат на

Следом пришли
ежата

Ответ:
5 ежат

Сколько ежат на



За ними прискакали лягушата и
мышата

Ответ:
3 лягушонка
2 мышонка

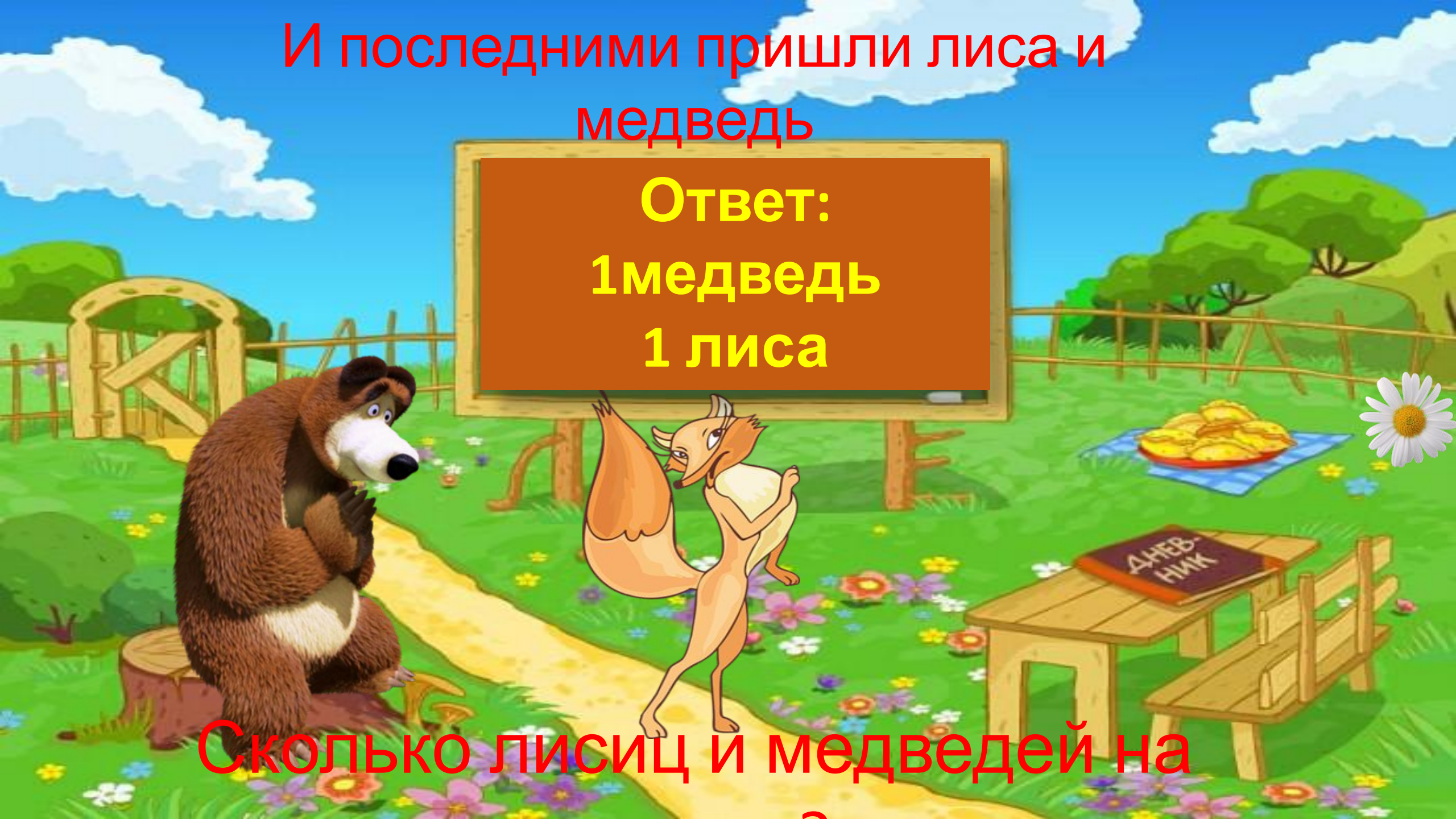


Сколько лягушат и мышат на


И последними пришли лиса и
медведь

Ответ:
1 медведь
1 лиса

Сколько лисиц и медведей на



Геометрические фигуры.





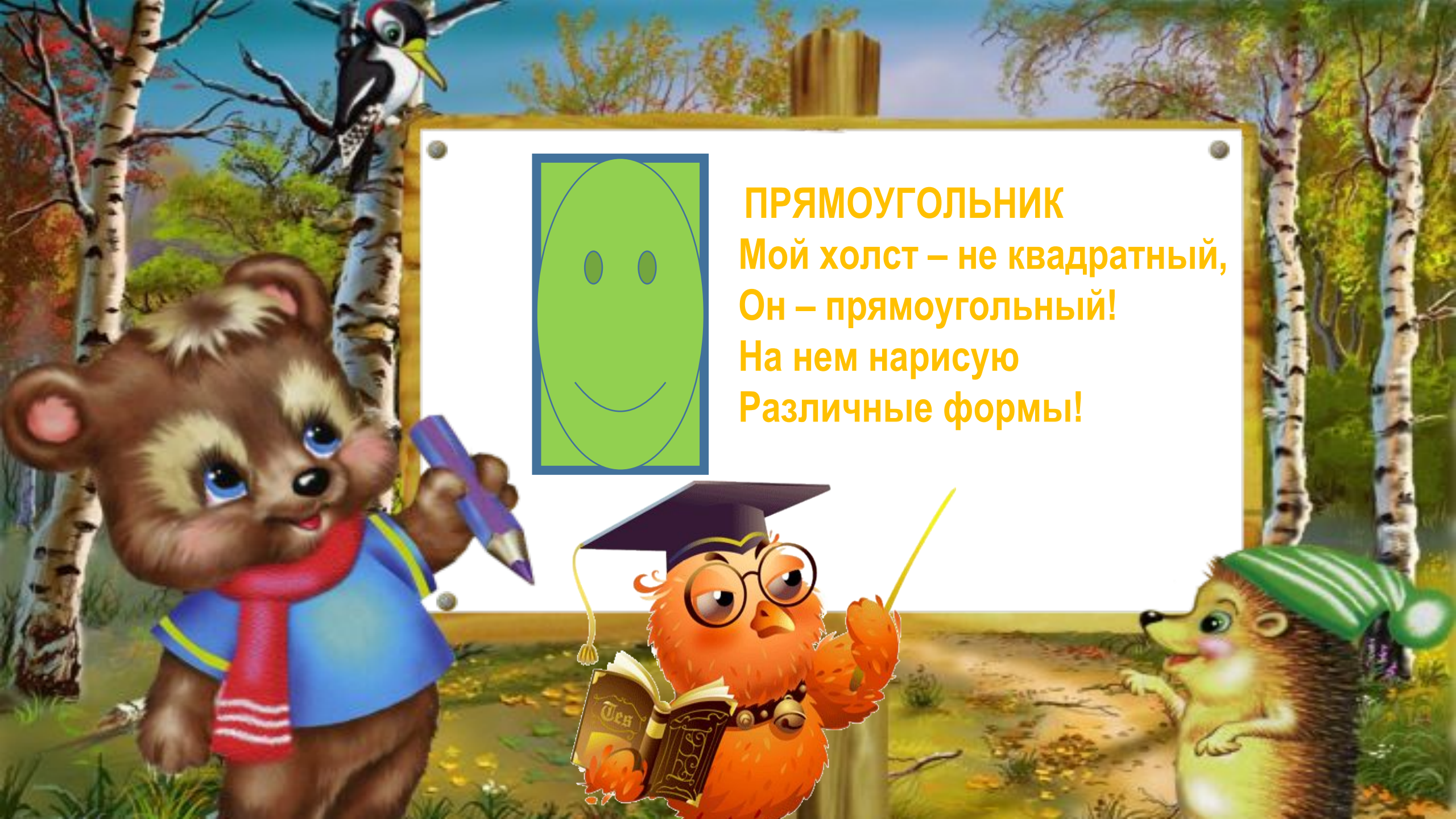
6.15%

7^2

КВАДРАТ

Я фигура – хоть куда,
Очень ровная всегда,
Все углы во мне равны
И четыре стороны.
Кубик – мой любимый брат,
Потому что я квадрат.





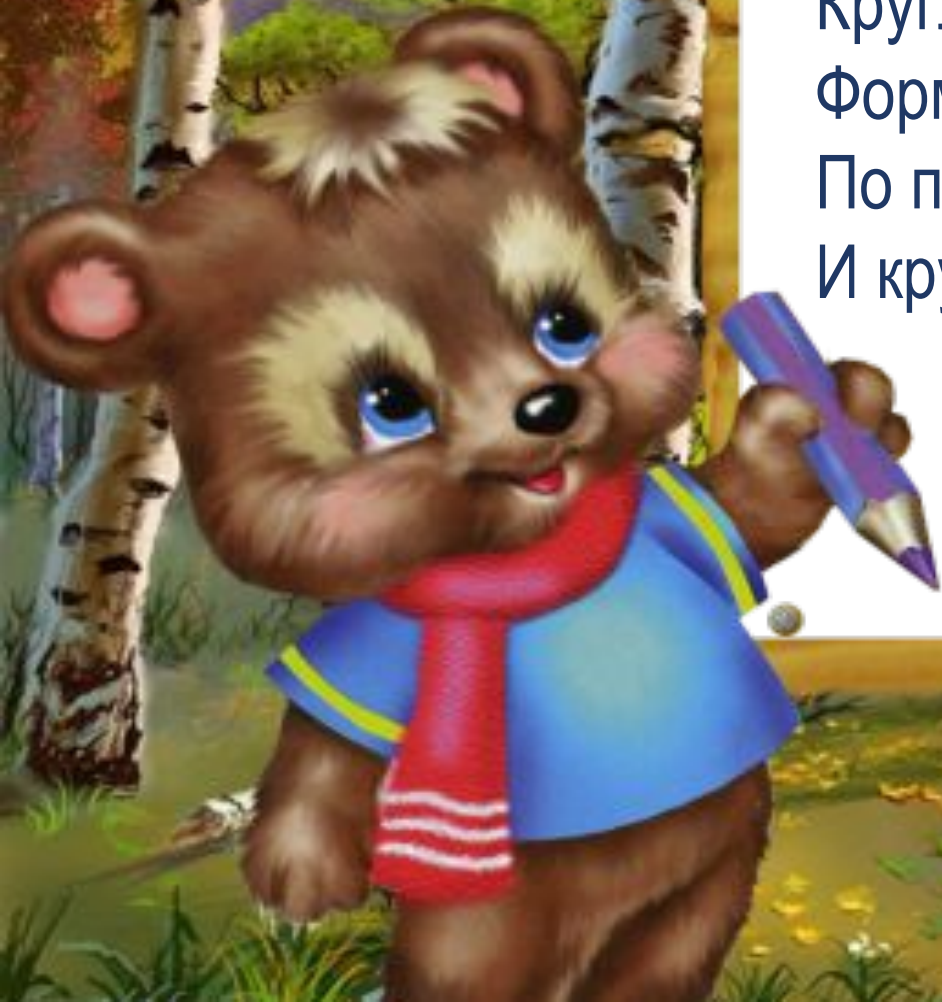
ПРЯМОУГОЛЬНИК

Мой холст – не квадратный,
Он – прямоугольный!
На нем нарисую
Различные формы!



КРУГ

Круглый мяч и солнца диск
Формы круглой тоже!
По поляне мяч катись,
И круг катиться может!



ОВАЛ

С высоты кружок упал.
Он теперь не круг – овал!
Он овальный, как жучок,
Он похож на кабачок,
На глаза и на картошку,
А еще похож на ложку,
На орех и на яйцо,
На овальное лицо!



Лесная школа.

Какие фигуры лежат на дороге?

Овал
л

Круг
г

Треугольник

Прямоугольн
ик


Квадра
т

Лесная школа.

Пришли зверушки и взяли

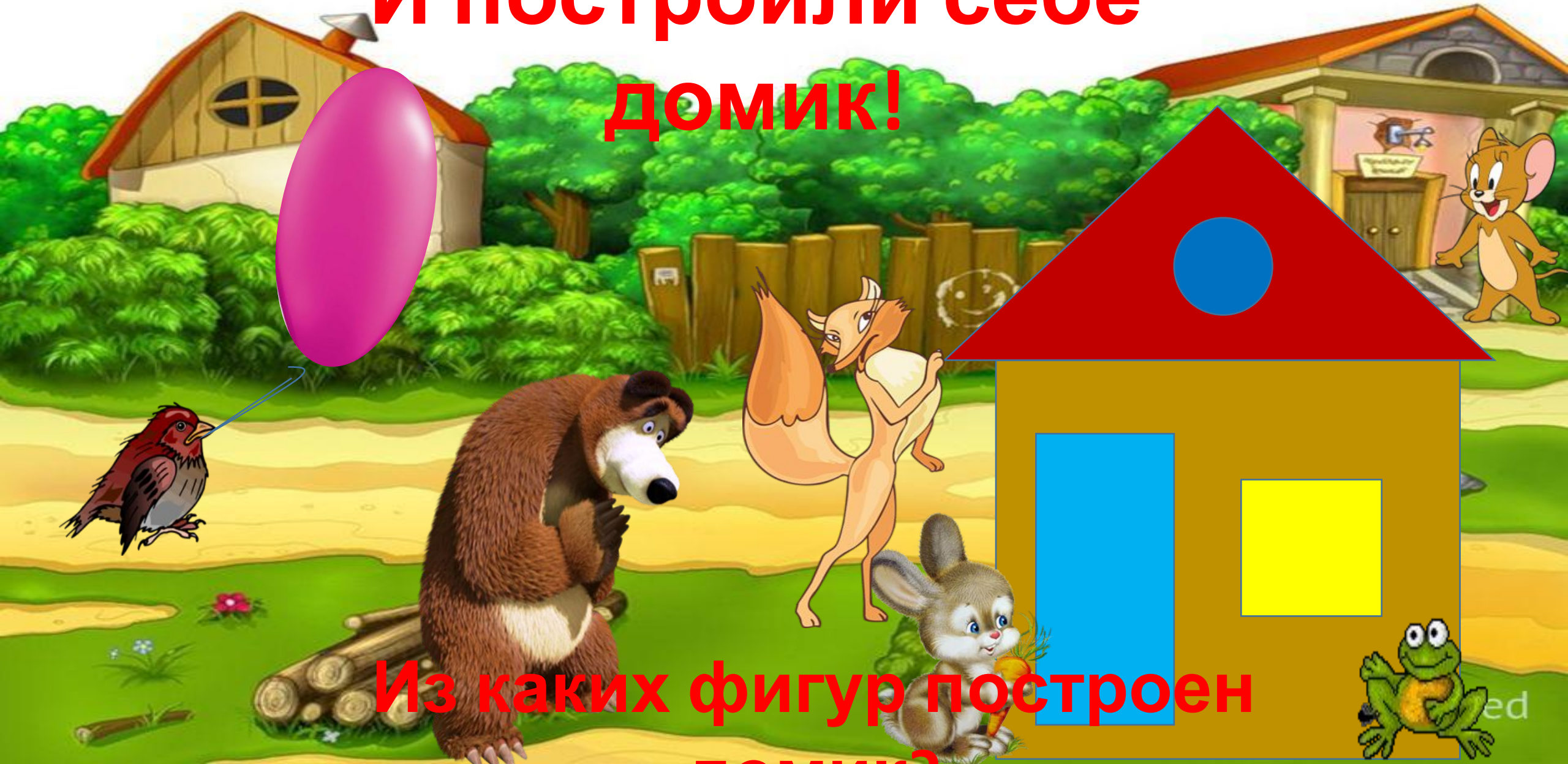
Какие фигурки взяли

зверушки ?




Лесная школа.

И построили себе
домик!



Из каких фигур построен
домик?

ed

A vibrant, cartoon-style illustration of a classroom scene. On the left, a brown bear wearing glasses and a blue suit with a red tie holds a wooden pointer stick. In the center, a green rectangular box contains the Russian text 'И последнее задание' in blue. On the right, several animal students are gathered: a grey squirrel, a grey and white wolf, a yellow fox, and a brown owl perched on a tree stump. The background features a window with a view of a sunset, a blue butterfly, and a yellow flower.

**И последнее
задание**

Найди 10 отличий





Лесная школа

Молодцы ребята
!!!