

Задания дистанционной
олимпиады «Созвездие
талантов» по географии
10 – 11 класс
2015 – 2016 учебный год

Вопрос 1.1

Назовите город в США, где находится штаб-квартира Chrysler Corporation:

А) Оберн-Хилз; Б) Дирборн; В) Флинт; Г) Хайленд-Парк; Д) Уоррен.



Вопрос 1.2

Назовите город в США, где находится штаб-квартира Ford Motor Company:

А) Оберн-Хилз; Б) Дирборн; В) Флинт; Г) Хайленд-Парк; Д) Уоррен.



Вопрос 1.3

Назовите город в США, где находится штаб-квартира Buick Motor Division:

А) Оберн-Хилз; Б) Дирборн; В) Флинт; Г) Хайленд-Парк; Д) Уоррен.



Вопрос 1.4

Назовите город в США, где находится штаб-квартира Dodge Division:

А) Оберн-Хилз; Б) Дирборн; В) Флинт; Г) Хайленд-Парк; Д) Уоррен.



Вопрос 1.5

Назовите город в США, где находится штаб-квартира Chevrolet Motor Division:

А) Оберн-Хилз; Б) Дирборн; В) Флинт; Г) Хайленд-Парк; Д) Уоррен.



Вопрос 2 – 4.1

Эту продукцию производят в:

А) Городке; Б) Бресте; В) Слониме; Г) Черикове.



Вопрос 2 – 4.2

Эту продукцию производят в:

А) Минске; Б) Бресте; В) Витебске; Г) Петрикове.



Вопрос 2 – 4.3

Эту продукцию производят в:

А) Минске; Б) Гродно; В) Бресте; Г) Орше.



Вопрос 2 – 4.4

Эту продукцию производят в:

А) Гомеле; Б) Лиде; В) Новополоцке; Г) Борисове.



Вопрос 2 – 4.5

Эту продукцию производят в:

А) Могилеве; Б) Светлогорске; В) Бресте; Г) Волковыске.



Вопрос 2 – 4.6

Эту продукцию производят в:

А) Могилеве; Б) Жлобине; В) Минске; Г) Полоцке.



Вопрос 2 – 4.7

Эту продукцию производят в:

А) Бресте; Б) Мяделе; В) Рогачеве; Г) Пинске.



Вопрос 2 – 4.8

Эту продукцию производят в:

А) Мозыре; Б) Новополоцке; В) Речице; Г) Бобруйске.



Вопрос 2 – 4.9

Эту продукцию производят в:

А) Костюковичах; Б) Сморгони; В) Кобрине; Г) Гомеле.



Вопрос 5.1

На слайде показано геологическое тело, образованное в результате вертикального внедрения магмы в толщу вмещающих пород. Назовите это геологическое тело:

А) силл; Б) дайка; В) штوك; Г) некк.



Вопрос 5.2

Дюна Пилá— самая большая песчаная дюна на территории Европы. Ширина — 500 м, высота — 130 м. Дюна продвигается в глубь от берега на несколько метров в год.

Назовите страну, на чьей территории она расположена:

А) Франция; Б) Германия; В) Нидерланды; Г) Португалия.



Вопрос 5.3

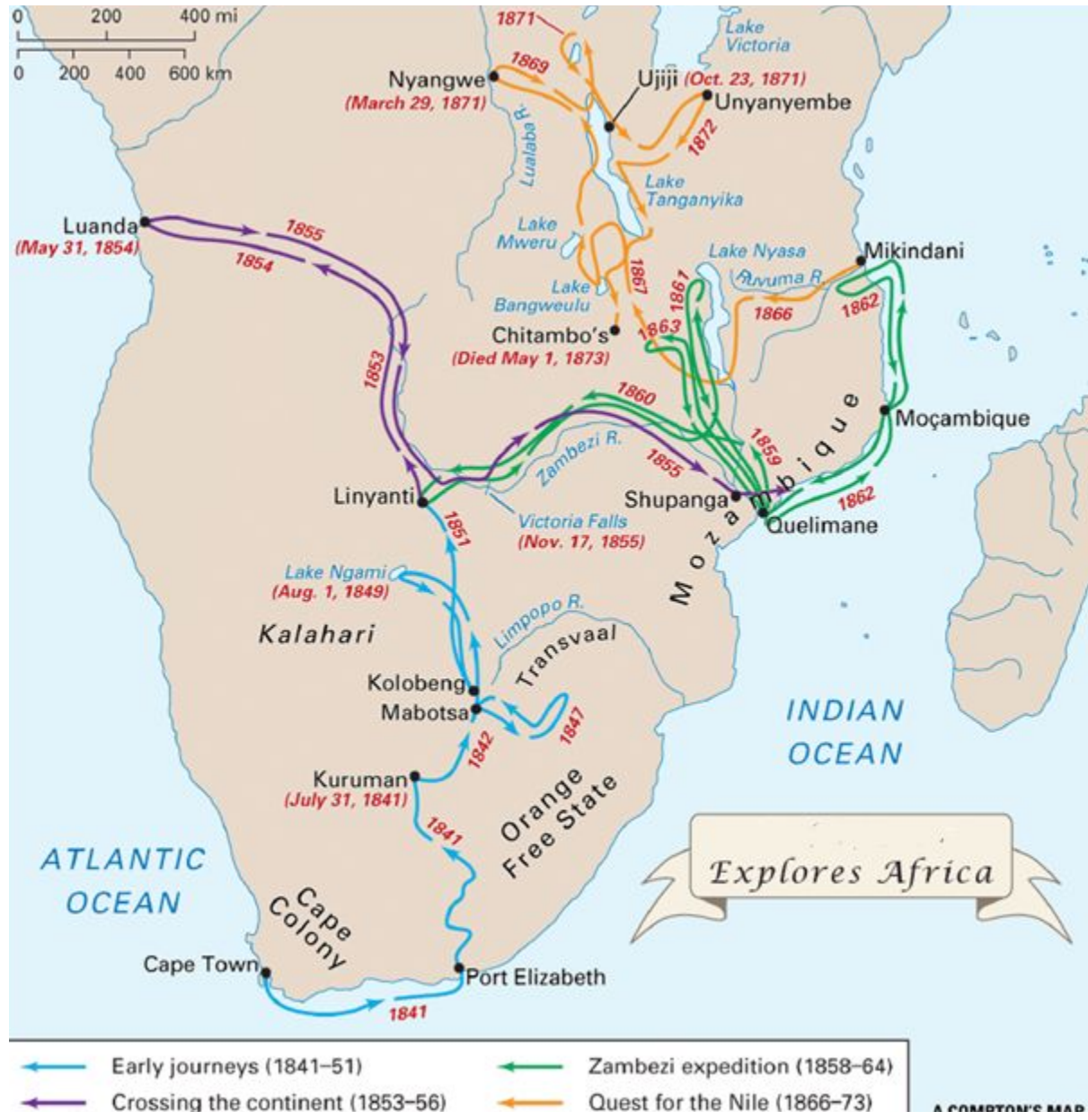
Данная воронка образовалась в результате деятельности:

А) человека; Б) подземных вод; В) землетрясения; Г) мерзлоты.



Вопрос 6.1. На слайде показаны маршруты путешествий:

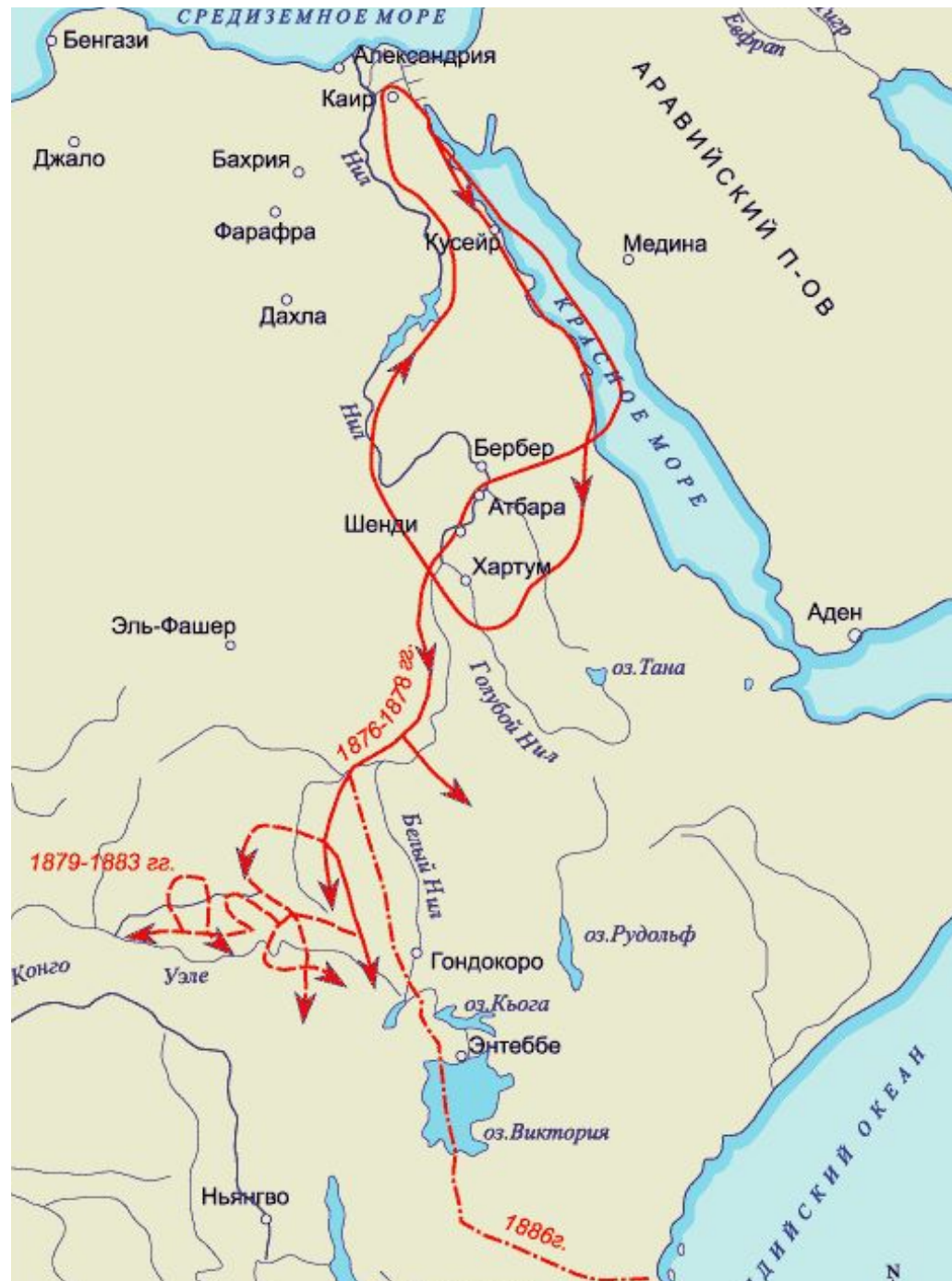
А) Д. Ливингстона; Б) Г. Барта; В) М. Парка; Г) В. Юнкера; Д) Г. Стэнли.



Вопрос 6.2

На слайде показаны маршруты путешествия:


- А) Д. Ливингстона;
- Б) Г. Барта;
- В) М. Парка;
- Г) В. Юнкера;
- Д) Г. Стэнли.



Вопрос 7.1

Дерево, произрастающее во влажных тропиках восточного и западного полушарий, даёт до 2 кг плодов в год, имеющих жёлто-зеленый или красный цвет, вытянутую форму и 25 – 60 семян (бобов) внутри. Главный ареал культивирования в современном мире – страны Гвинейского залива, а центр происхождения – тропические леса Амазонии.

Варианты ответа: А) авокадо; Б) манговое дерево; В) какао (шоколадное дерево); Г) финиковая пальма; Д) кофейное дерево.



Вопрос 7.2

Выберите страну, о которой идёт речь. Основным торговым партнёром этого островного государства является Австралия. Это явилось главной причиной в принятии решения о «прыжке» на другую сторону от линии перемены дат в конце декабря 2011 г. Раньше это государство называли страной последних закатов, а теперь – страной первых рассветов.

Варианты ответа: А) Вануату; Б) Самоа; В) Тонга; Г) Тувалу; Д) Фиджи.



Вопрос 7.3

Выберите страну Содружества Независимых Государств, имеющую наибольшую долю выработки электроэнергии на ГЭС в общей структуре энергопроизводства:

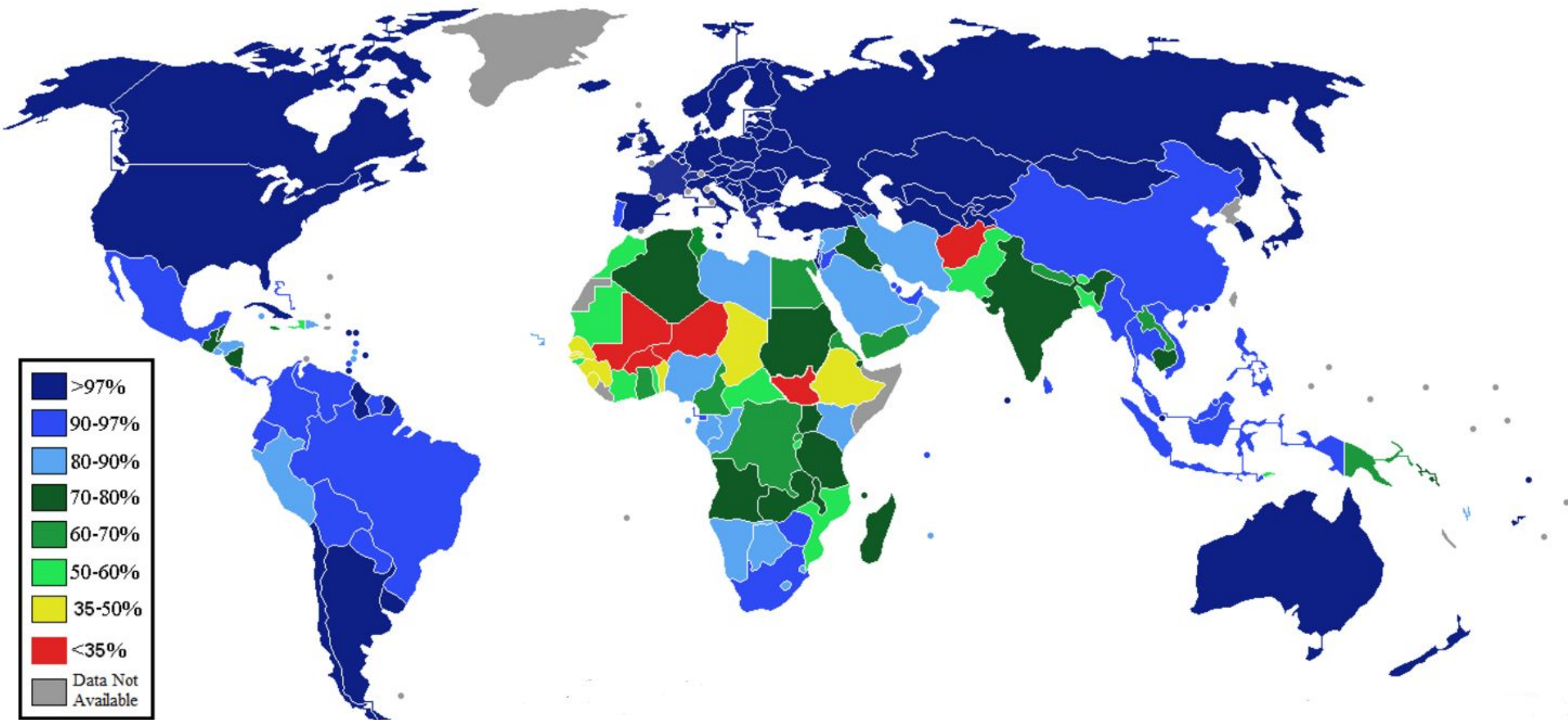
А) Таджикистан; Б) Украина; В) Грузия; Г) Россия; Д) Беларусь; Е) Казахстан.



Вопрос 8 – 9.1

Установите какую информацию несет данная карта:

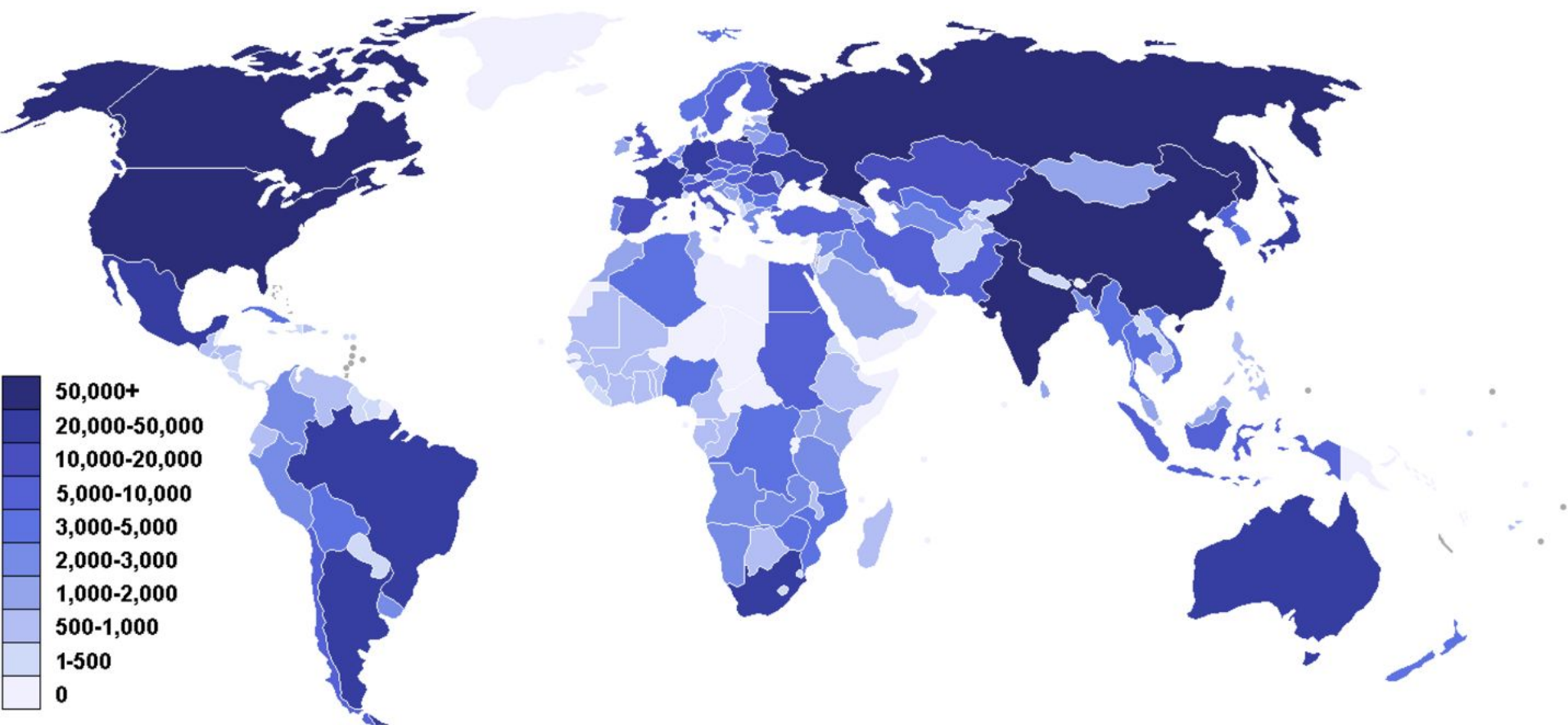
- А) число заключённых на 100 000 граждан по странам;
- Б) распространение пользователей интернета по всему миру;
- В) уровень грамотности по странам;
- Г) добыча железной руды по странам;
- Д) производство цинка по странам;
- Е) длина железнодорожной сети по странам.



Вопрос 8 – 9.2

Установите какую информацию несет данная карта:

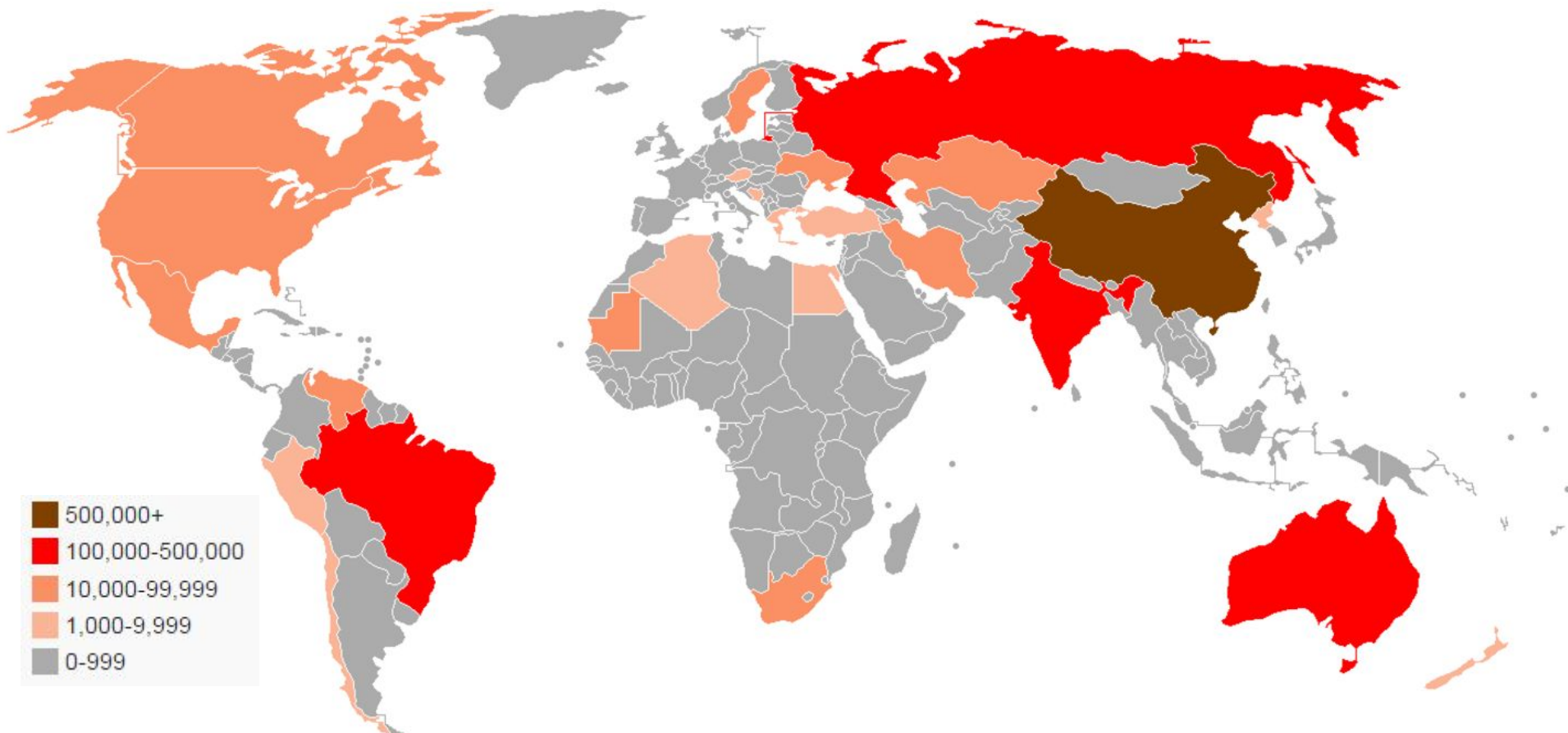
- А) число заключённых на 100 000 граждан по странам;
- Б) распространение пользователей интернета по всему миру;
- В) уровень грамотности по странам;
- Г) добыча железной руды по странам;
- Д) производство цинка по странам;
- Е) длина железнодорожной сети по странам.



Вопрос 8 – 9.3

Установите какую информацию несет данная карта:

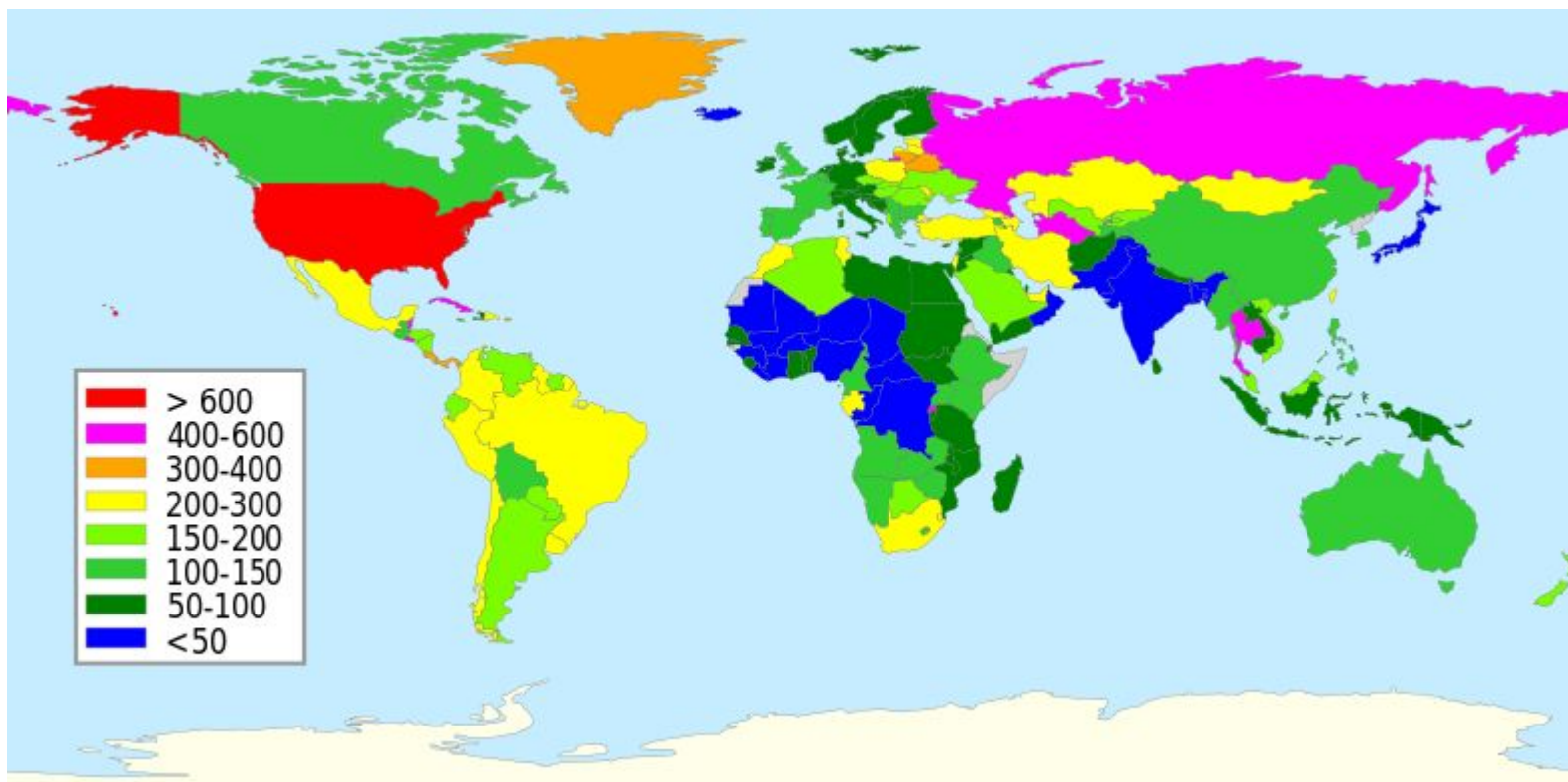
- А) число заключённых на 100 000 граждан по странам;
- Б) распространение пользователей интернета по всему миру;
- В) уровень грамотности по странам;
- Г) добыча железной руды по странам;
- Д) производство цинка по странам;
- Е) длина железнодорожной сети по странам.



Вопрос 8 – 9.4

Установите какую информацию несет данная карта:

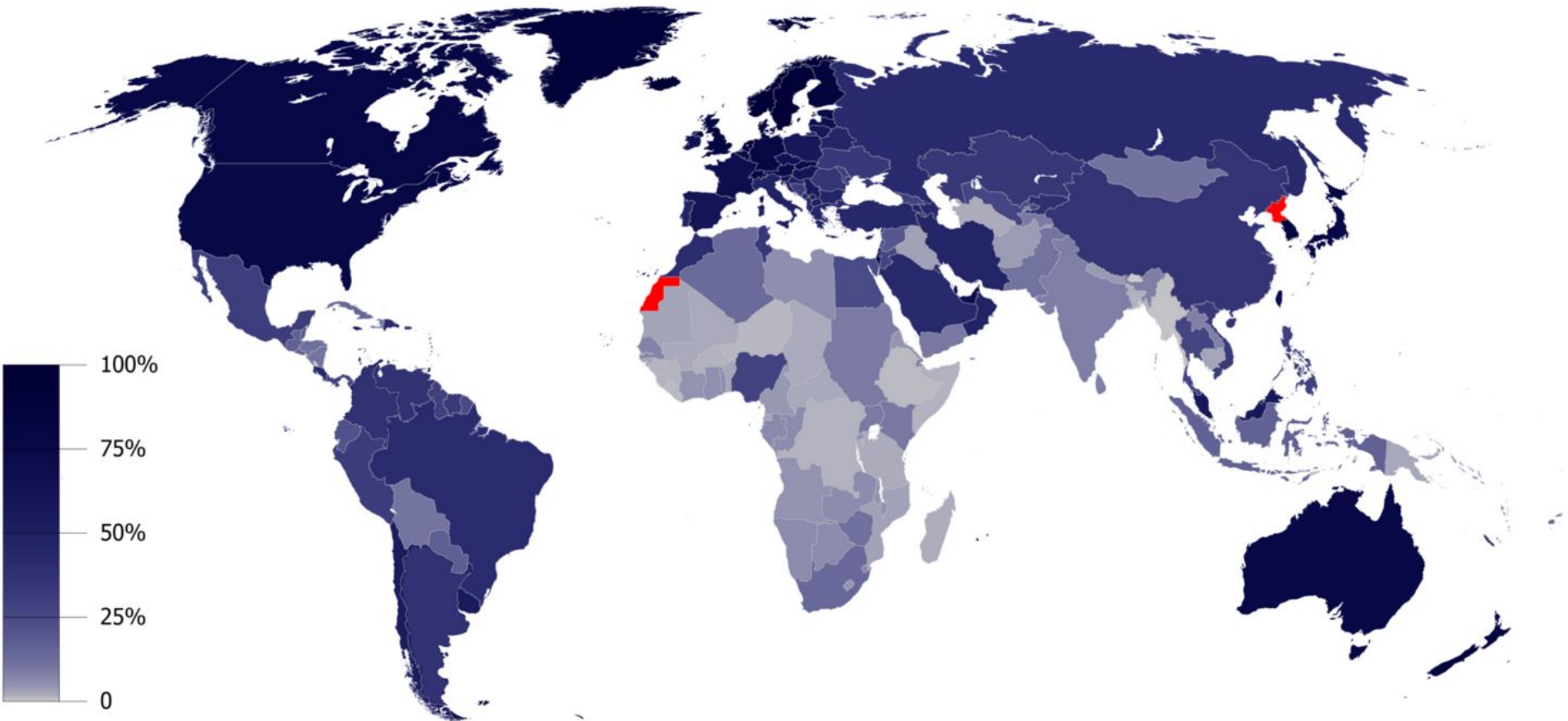
- А) число заключённых на 100 000 граждан по странам;
- Б) распространение пользователей интернета по всему миру;
- В) уровень грамотности по странам;
- Г) добыча железной руды по странам;
- Д) производство цинка по странам;
- Е) длина железнодорожной сети по странам.



Вопрос 8 – 9.5

Установите какую информацию несет данная карта:

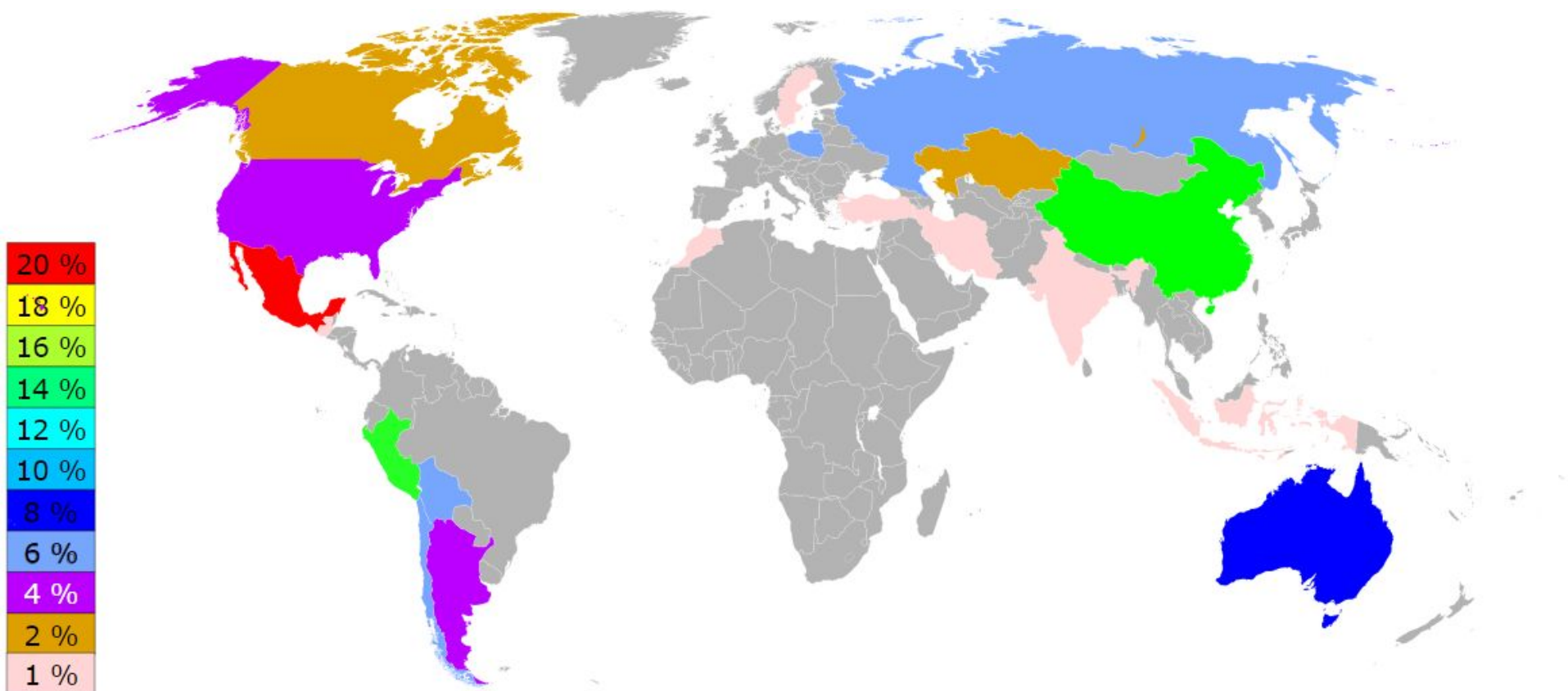
- А) число заключённых на 100 000 граждан по странам;
- Б) распространение пользователей интернета по всему миру;
- В) уровень грамотности по странам;
- Г) добыча железной руды по странам;
- Д) производство цинка по странам;
- Е) длина железнодорожной сети по странам.



Вопрос 8 – 9.6

Установите какую информацию несет данная карта:

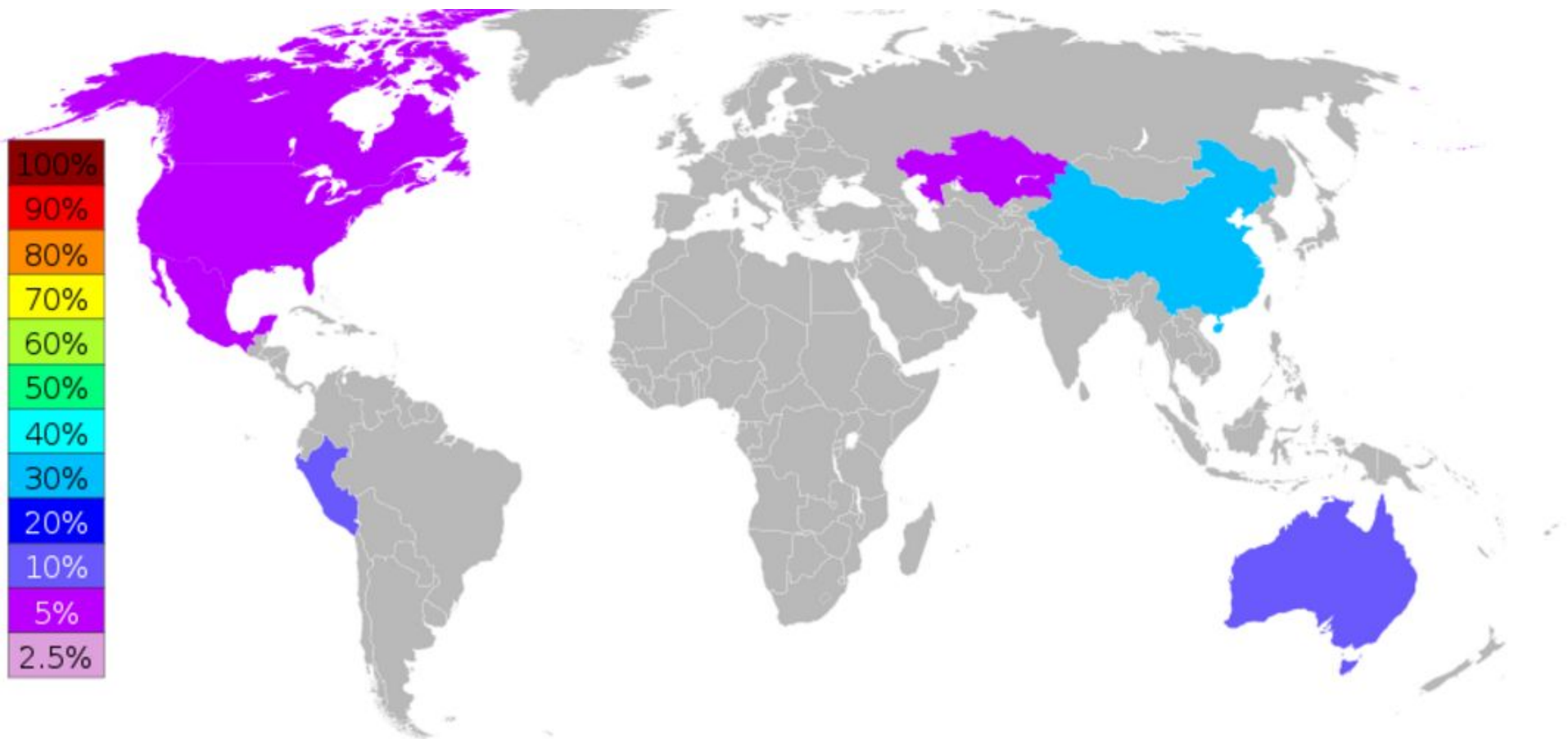
- А) число заключённых на 100 000 граждан по странам;
- Б) распространение пользователей интернета по всему миру;
- В) уровень грамотности по странам;
- Г) добыча железной руды по странам;
- Д) производство цинка по странам;
- Е) производство серебра по странам.



Вопрос 8 – 9.7

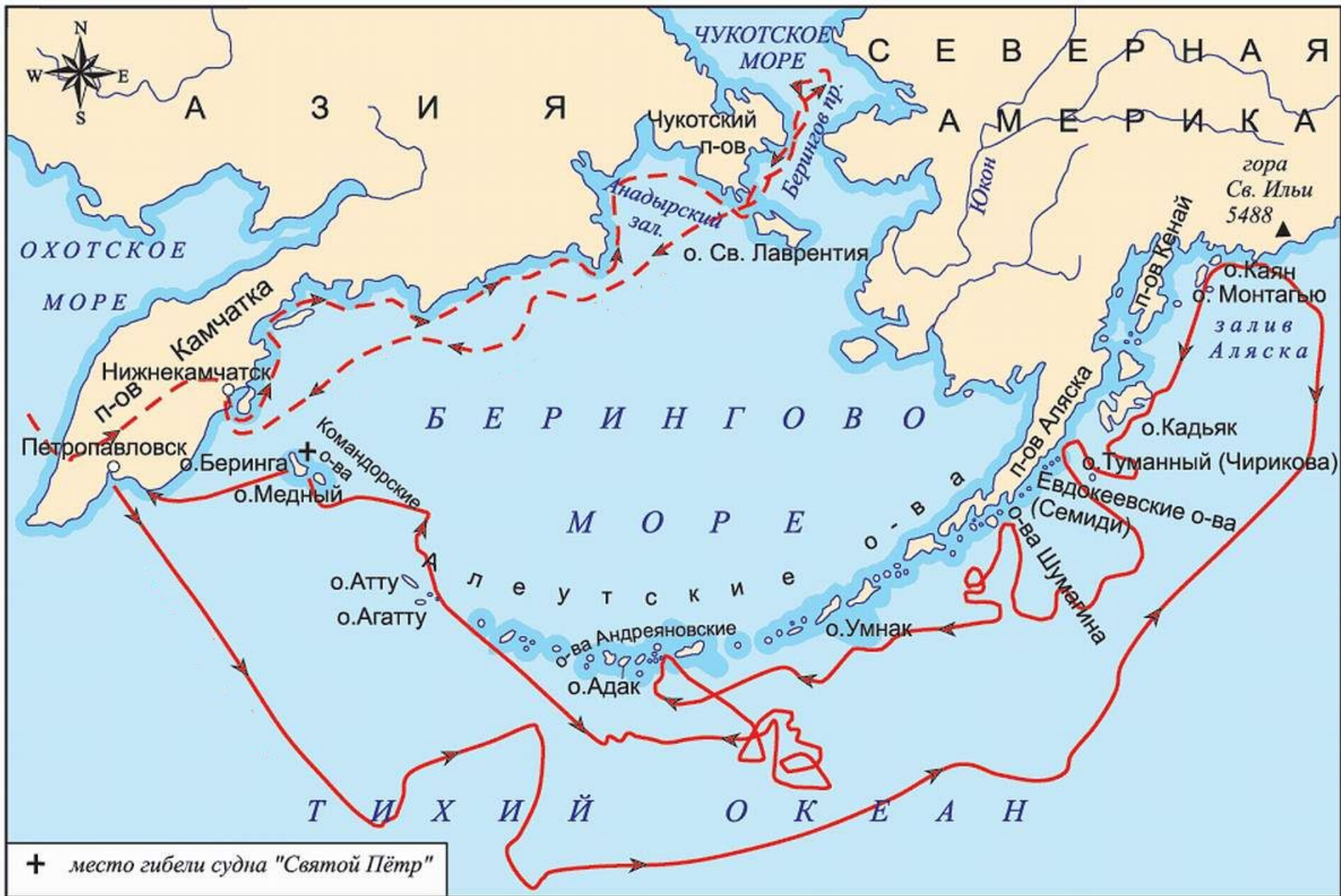
Установите какую информацию несет данная карта:

- А) число заключённых на 100 000 граждан по странам;
- Б) распространение пользователей интернета по всему миру;
- В) уровень грамотности по странам;
- Г) добыча железной руды по странам;
- Д) производство цинка по странам;
- Е) длина железнодорожной сети по странам.



Вопрос 10.1. На слайде показаны маршруты путешествий:

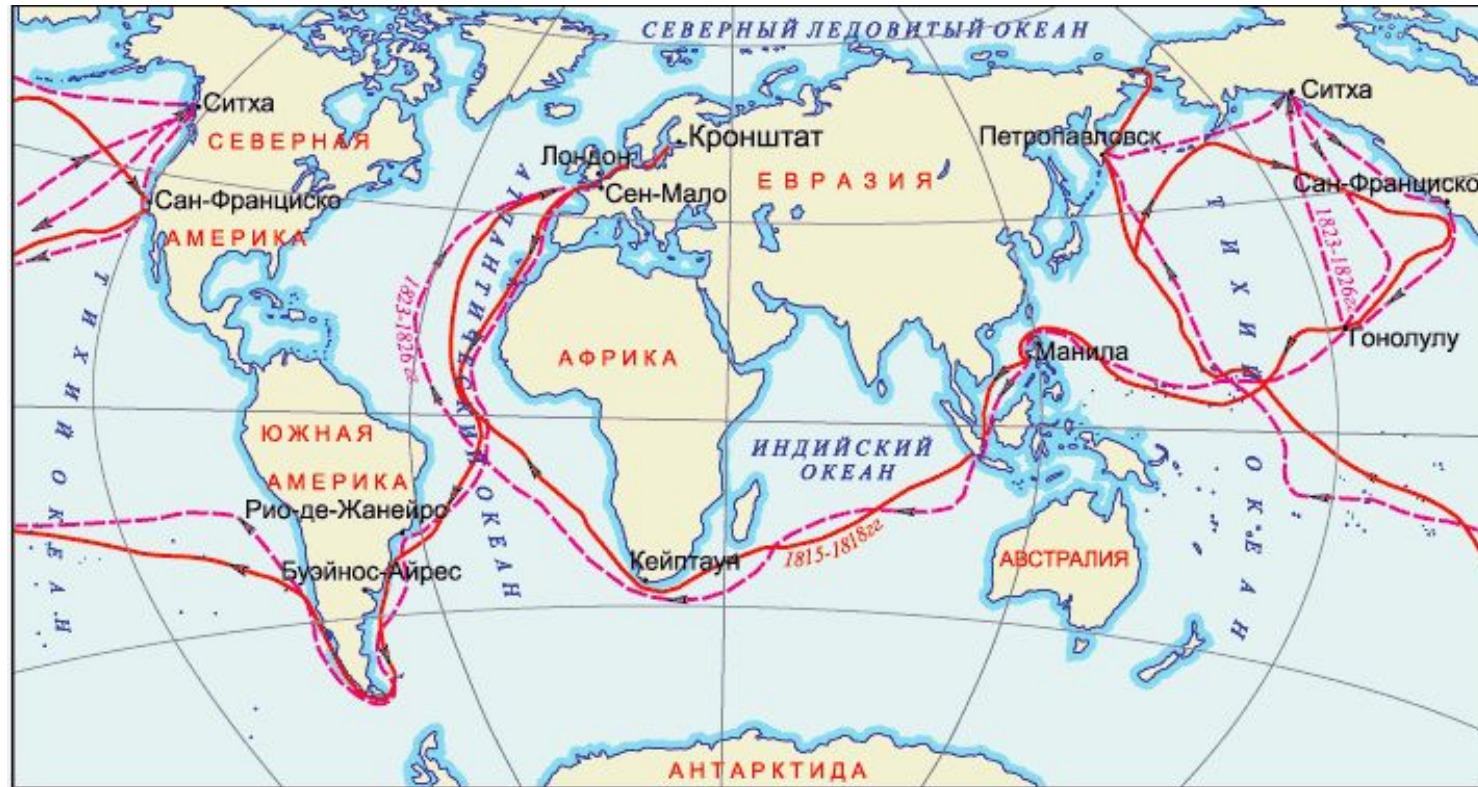
А) Г. Невельского; Б) Б. Вилькицкого; В) Лаперуза; Г) В. Беринга; Д) В. Прончищева.



Вопрос 10.2

На слайде показаны маршруты путешествий:

А) Д. Кука; Б) Ф. Беллинсгаузена; В) О. Коцебу; Г) Лаперуза; Д) И. Крузенштерна.



Вопрос 10.3

На слайде показан маршрут путешествия:

А) Д. Кука; Б) Ф. Беллинсгаузена; В) О. Коцебу; Г) Лаперуза; Д) И. Крузенштерна.



Вопрос 11.1

На слайде показан Микашевичский гранитный карьер. Его глубина более 150 м. Он расположен на территории: А) Лунинецкого района; Б) Житковичского района; В) Лельчицкого района; Г) Солигорского района.



Вопрос 11.2

На слайде показан Рубовский карьер по добыче доломита. Он расположен на территории: А) Мстиславского района; Б) Витебского района; В) Малоритского района; Г) Новогрудского района.



Вопрос 12.1

Назовите тектоническую структуру в пределах которой обнаружены Мозырское и Давыдовское месторождения каменной соли:

- А) Белорусская антеклиза;
- Б) Украинский щит;
- В) Микашевичско-Житковичский выступ;
- Г) Припятский прогиб;
- Д) Воронежская антеклиза;
- Е) Оршанская впадина.



Вопрос 12.2

Назовите тектоническую структуру в пределах которой обнаружены Мстиславское и Лобковичское месторождения фосфоритов:

- А) Белорусская антеклиза; Б) Украинский щит; В) Микашевичско-Житковичский выступ; Г) Припятский прогиб; Д) Воронежская антеклиза; Е) Оршанская впадина.



Вопрос 12.3

Назовите тектоническую структуру в пределах которой обнаружены Тонежское и Лельчицкое месторождения бурого угля:

А) Белорусская антеклиза; Б) Украинский щит; В) Микашевичско-Житковичский выступ; Г) Припятский прогиб; Д) Воронежская антеклиза; Е) Оршанская впадина.



Вопрос 12.4

Назовите тектоническую структуру в пределах которой обнаружены Туровское и Любанское месторождения горючих сланцев:


- А) Белорусская антеклиза;
- Б) Украинский щит;
- В) Микашевичско-Житковичский выступ;
- Г) Припятский прогиб;
- Д) Воронежская антеклиза;
- Е) Оршанская впадина.



Вопрос 13.1

Эту сельскохозяйственную культуру выращивают в:

А) Аргентине, Б) Сомали; В) Гане; Г) Новой Зеландии.



Вопрос 13.2

Эту сельскохозяйственную культуру выращивают в:
А) Канаде; Б) Намибии; В) Монголии; Г) Колумбии.



Вопрос 13.3

Эту сельскохозяйственную культуру выращивают в:
А) Венесуэле, Б) Кении; В) Норвегии; Г) Сингапуре.



Вопрос 14 – 15.1

Назовите пропущенную страну в списке стран по выплавке алюминия за 2012 год.

№ ↕	Страна ↕	Производство алюминия ↕ (тыс. тонн)
—	Мир	47 300
1	 КНР	21 500
2	 Россия	3950
3	 Индия	2900
4	 США	1950
5	 ОАЭ	1800
6	 Австралия	1750
7	 Индия	1700
8	 Бразилия	1330
9	 Норвегия	1200
10	 Бахрейн	900

Вопрос 14 – 15.2

Назовите пропущенную страну в списке стран по выплавке меди.

№	Страна	Выплавка меди в 2006 г (тонн)	Выплавка меди в 2013 г (тонн)
1	 Чили	5 360 800	5 700 000
2	 КНР	915 000	1 650 000
3		1 049 933	1 300 000
4	 США	1 220 000	1 220 000
5	 Австралия	875 000	990 000
6	 Россия	675 000	930 000
7	 ДРК	131 400	900 000
8	 Замбия	502 998	830 000
9	 Канада	606 958	630 000
10	 Мексика	129 042	480 000

Вопрос 14 – 15.3

Назовите пропущенную страну в списке стран по запасам урана за 2011 год.

◆	страна ◆	тонн U ◆	% ◆
1	 Австралия	661000	12,40%
2	 Казахстан	629000	11,81%
3		487200	9,15%
4	 Канада	468700	8,80%
5	 Нигер	421000	7,90%
6	 ЮАР	279100	5,24%
7	 Бразилия	276700	5,19%
8	 Намибия	261000	4,90%
9	 США	207400	3,89%
10	 КНР	166100	3,12%








Вопрос 14 – 15.4

Назовите пропущенную страну в списке стран по производству марганца за 2006 год.

№ ↕	Страна ↕	Производство марганца (тонн) ↕
	Мир	31 200 000
1	 КНР	6 000 000
2	 ЮАР	5 213 338
3		4 567 000
4	 Бразилия	3 128 000
5	 Габон	2 978 972
6	 Казахстан	2 200 000
7	 Индия	2 092 000
8	 Украина	2 000 000
9	 Гана	1 800 000
10	 Мексика	381 982

Вопрос 14 – 15.5

Назовите пропущенную страну в списке стран по производству урана.

◆	Страна ◆	2013 тонн ◆ U	% ◆	2012 тонн ◆ U
1		22574	37,85%	21317
2	 Канада	9332	15,65%	8999
3	 Австралия	6350	10,65%	6991
4	 Нигер	4528	7,59%	4667
5	 Намибия	4315	7,24%	4495
6	 Россия	3135	5,26%	2872
7	 Узбекистан	2400	4,02%	2400
8	 США	1835	3,08%	1596
9	 КНР	1450	2,43%	1500
10	 Малави	1132	1,90%	1101

Вопрос 14 – 15.6

Назовите пропущенную страну в списке стран по производству цемента за 2012 год.

№	Страна	млн.т.
1	 КНР	2150
2		250
3	 США	74
4	 Бразилия	70
5-6	 Вьетнам	65
5-6	 Иран	65
7-8	 Россия	60
7-8	 Турция	60
9	 Япония	52
10	 Республика Корея	49

Вопрос 14 – 15.7

Назовите пропущенную страну в списке стран по производству цинка за 2010 год.

№	Страна	Тонн
1	 КНР	3 500 000
2	 Перу	1 520 000
3		1 450 000
4	 Индия	750 000
5	 США	720 000
6	 Канада	670 000


Вопрос 16 – 17.1

Определите страну Азии, в которой расположен данный объект всемирного наследия ЮНЕСКО: А) Вьетнам; Б) Сирия; В) Россия; Г) Бангладеш; Д) Узбекистан; Е) Иран.



Вопрос 16 – 17.2

Определите страну Азии, в которой расположен данный объект всемирного наследия ЮНЕСКО: А) Вьетнам; Б) Сирия; В) Россия; Г) Бангладеш; Д) Узбекистан; Е) Иран.





Вопрос 16 – 17.3

Определите страну Азии, в которой расположен данный объект всемирного наследия ЮНЕСКО: А) Вьетнам; Б) Сирия; В) Россия; Г) Бангладеш; Д) Узбекистан; Е) Иран.



Вопрос 16 – 17.4

Определите страну Азии, в которой расположен данный объект всемирного наследия ЮНЕСКО: А) Вьетнам; Б) Сирия; В) Россия; Г) Бангладеш; Д) Узбекистан; Е) Иран.



Вопрос 16 – 17.5

Определите страну Азии, в которой расположен данный объект всемирного наследия ЮНЕСКО: А) Вьетнам; Б) Сирия; В) Россия; Г) Бангладеш; Д) Узбекистан; Е) Иран.



Вопрос 16 – 17.6

Определите страну Азии, в которой расположен данный объект всемирного наследия ЮНЕСКО: А) Вьетнам; Б) Сирия; В) Россия; Г) Бангладеш; Д) Узбекистан; Е) Иран.



Вопрос 18 – 20.1. Определите административный район Беларуси



Вопрос 18 – 20.2. Определите административный район Беларуси



Вопрос 18 – 20.3. Определите административный район Беларуси



Вопрос 18 – 20.4. Определите административный район Беларуси



Вопрос 18 – 20.5. Определите административный район Беларуси



Вопрос 18 – 20.6. Определите административный район Беларуси




Вопрос 18 – 20.7. Определите административный район Беларуси



Вопрос 18 – 20.8. Определите административный район Беларуси



Вопрос 18 – 20.9. Определите административный район Беларуси



Вопрос 21 – 23.1. Определите страну по рисункам на слайде





Вопрос 21 – 23.2. Определите страну по рисункам на слайде



Вопрос 21 – 23.3. Определите страну по рисункам на слайде



Вопрос 21 – 23.4. Определите страну по рисункам на слайде



Вопрос 21 – 23.5. Определите страну по рисункам на слайде



Вопрос 21 – 23.6. Определите страну по рисункам на слайде




Вопрос 21 – 23.7. Определите страну по рисункам на слайде



Вопрос 21 – 23.8. Определите страну по рисункам на слайде



Вопрос 21 – 23.9. Определите страну по рисункам на слайде




Вопрос 24.1

Соотнесите изобретения со странами:

А) Великобритания; Б) Россия; В) Франция; Г) Германия

1



2



3



4

ПЕРИОДЫ	ГРУППЫ ЭЛЕМЕНТОВ																VIII	B
	A	I	II	III	IV	V	VI	VII	VA	VB	VI	VII	VA	VB	VI	VII		
1	(H)																H	He
2	Li	Be	B	C	N	O	F	Ne									Ar	
3	Na	Mg	Al	Si	P	S	Cl	Ar									Kr	
4	K	Ca	Sc	Ti	V	Cr	Mn	Fe	Co	Ni								
5	Rb	Sr	Y	Zr	Nb	Mo	Tc	Ru	Rh	Pd								
6	Cs	Ba	La	Hf	Ta	W	Re	Os	Ir	Pt								
7	Fr	Ra	Ac	Rf	Db	Sg	Bh	Hs	Mt									
LANTANIDES		Ce	Pr	Nd	Pm	Sm	Eu	Gd	Tb	Dy	Ho	Er	Tm	Yb	Lu			
ACTINIDES		Th	Pa	U	Np	Pu	Am	Cm	Bk	Cf	Es	Fm	Md	No	Lr			

Вопрос 24.2

Соотнесите изобретения со странами: А) США; Б) Венгрия; В) Италия; Г) Россия

1




2



3



4



Вопрос 24.3

Соотнесите изобретения со странами:
А) США; Б) Россия; В) Великобритания; Г)
Нидерланды



3



2

4



Вопрос 24.4

Соотнесите изобретения со странами:
А) Россия; Б) США; В) Великобритания; Г)
Германия



3



2



4



Вопрос 25.1. Распределите по типам электростанции, показанные на слайде:
А) АЭС; Б) ГЭС; В) ТЭС; Г) ГеоЭС.

1



2



3



4



Вопрос 25.2. Распределите по типам электростанции, показанные на слайде:
А) ВЭС; Б) СЭС; В) ПЭС; Г) ГеоЭС.

1



2



3



4



Вопрос 26.1. Определите народы Центральной Азии:
А) казахи; Б) киргизы; В) тибетцы; Г) монголы

1



2



3



4



Вопрос 26.2. Определите народы Океании:

А) гавайцы; Б) маори; В) меланезийцы; Г) папуасы

1



2



3



4



Вопрос 26.3. Определите народы Восточной Европы:

А) румыны; Б) поляки; В) украинцы; Г) болгары

1



2



3



4



Вопрос 27.1

Соотнесите национальные блюда со странами:

А) Индия; Б) Япония; В) Украина; Г)

Филиппины



1. Курица тандури



2. Кацудон



3. Адобо



4. Вареники

Вопрос 27.2

Соотнесите национальные блюда со странами:

А) Нидерланды; Б) Мексика; В) Россия; Г)

Норвегия



1. Соус Моле



2. Ракфиск



3. Селедка



4. Щи

Вопрос 27.3

Соотнесите национальные блюда со странами:

А) Румыния; Б) Саудовская Аравия; В) Узбекистан; Г)

Португалия



1. Франсезинья



2. Сармале



3. Касба



4. Плов

Вопрос 28.1. Найдите соответствие между зональными типами флоры и видами растений, встречающимися в Беларуси:

А) полупустынная; Б) степная; В) таежная; Г) широколиственная; Д) тундровая.



1.
Граб



2. Полевичка
малая



3. Ель
европейская



4. Лен
желтый

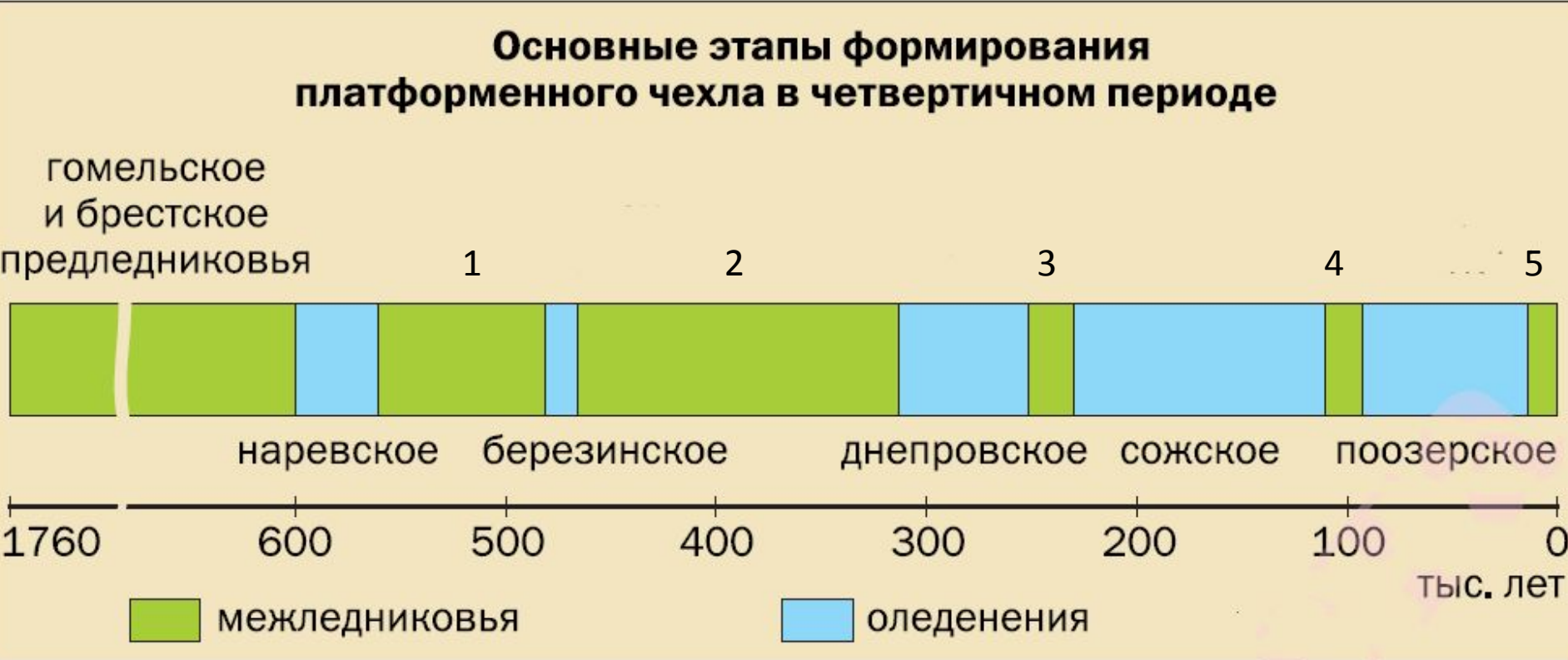


5. Багульник
болотный

Вопрос 28.2

Распределите медледниковья, начиная с наиболее древнего:

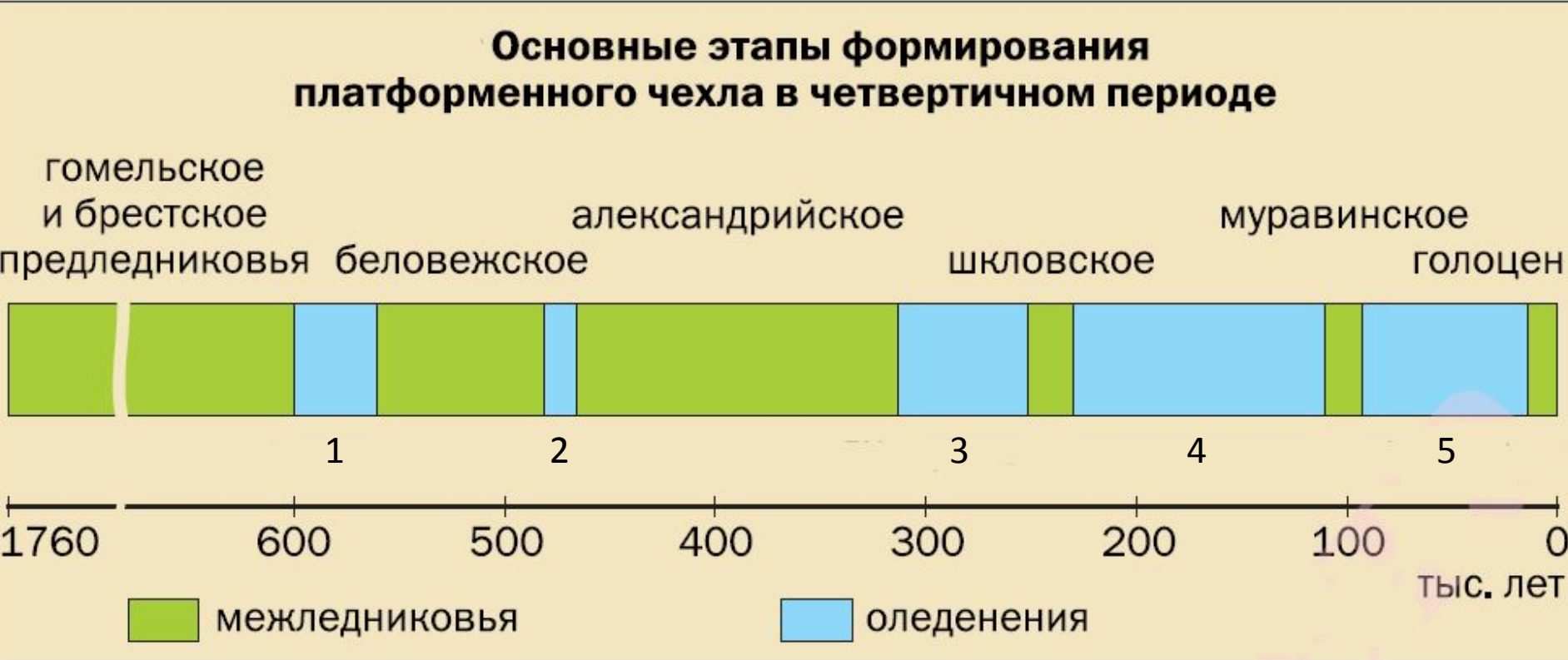
- А) александрийское; Б) беловежское; В) голоцен; Г) муравинское; Д) шкловское.



Вопрос 28.3

Распределите оледенения, начиная с наиболее древнего:

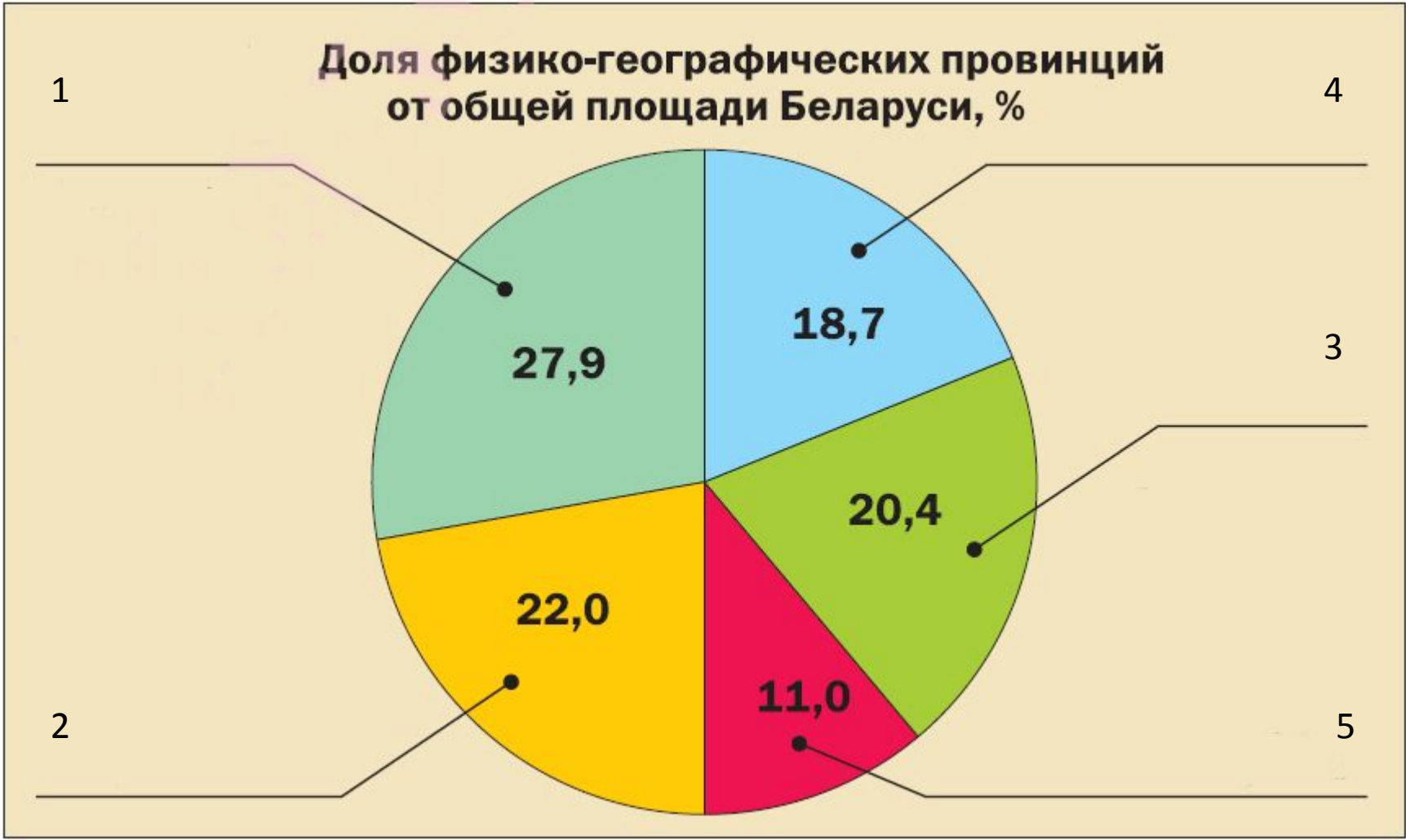
- А) березинское;
- Б) днепровское;
- В) наревское;
- Г) поозерское;
- Д) сожское.



Вопрос 28.4. Установите обозначенные цифрами тектонические структуры Беларуси: А) Брагинско-Лоевская седловина; Б) Волыно-Азовская плита; В) Воронежская антекклиза; Г) Латвийская седловина; Д) Полесская седловина.



Вопрос 28.5. Распределите физико-географические провинции по доле от общей площади Беларуси: А) Белорусская Поозерская; Б) Восточно-Белорусская; В) Западно-Белорусская; Г) Полесская; Д) Предполесская.



Вопрос 29 – 30.1


Соотнесите виды птиц, занесенных в Красную книгу Республики Беларусь:

А) белая лазоревка; Б) мухоловка-белошейка; В) садовая овсянка; Г) усатая синица;
Д) хохлатый жаворонок.



Вопрос 29 – 30.2. Соотнесите виды птиц, занесенных в Красную книгу Республики Беларусь:

А) большая белая цапля; Б) большая выпь; В) кваква; Г) серый журавль; Д) черный аист.



Вопрос 29 – 30.3

Соотнесите виды птиц, занесенных в Красную книгу Республики Беларусь:

А) авдотка; Б) большой веретенник; В) большой кроншнеп; Г) кулик-сорока; Д) малая чайка.



Вопрос 29 – 30.4

Соотнесите виды птиц, занесенных в Красную книгу Республики Беларусь:


А) беркут; Б) змееяд; В) орлан-белохвост; Г) сапсан; Д) скопа.



Вопрос 29 – 30.5

Соотнесите виды птиц, занесенных в Красную книгу Республики Беларусь:

А) белая куропатка; Б) коростель; В) обыкновенный зимородок; Г) сизоворонка; Д) трехпалый дятел.



Вопрос 29 – 30.6

Соотнесите виды птиц, занесенных в Красную книгу Республики Беларусь:

А) болотная сова; Б) бородатая неясыть; В) сипуха; Г) сплюшка; Д) филин.



Вопрос 29 – 30.7

Соотнесите виды птиц, занесенных в Красную книгу Республики Беларусь:

А) белоглазая чернеть; Б) длинноносый крохаль; В) луток; Г) серощекая поганка; Д) чернозобая гагара.



Вопрос 31.1

Соотнесите местные ветры и страны:

А) Аргентина; Б) США; В) Франция; Г) Израиль; Д) Ливия; Е) Россия.



1.
Хамсин



2.
Памперо



3.
Сарма



4.
Чинук



5.
Гибли



6.
Мистраль


Вопрос 31.2

Соотнесите местные ветры и страны:

А) Австралия; Б) Нигерия; В) Испания; Г) Россия; Д) Судан; Е) США.



1.
Баргузин




2.
Сирокко



3.
Торнадо



4.
Хабуб



5. Вилли-
Вилли



6.
Харматан

Вопрос 31.3

Соотнесите местные ветры и страны:

А) Египет; Б) Италия; В) Россия; Г) США; Д) Таджикистан; Е) Япония.



1.

Блиссарт



2.

Боро



3.

Тромбетто



4.

Тайфун



5.

Афганец



6.

Самум

Вопрос 32.1

Найдите соответствия: известный мореплаватель – открытые им острова (архипелаги).

Варианты ответа: А) остров Врангеля; Б) Южные Оркнейские острова; В) Острова Диомиды; Г) Шри-Ланка; Д) Земля Франца Иосифа; Е) Мартиника.



1. Витус Беринг




4. Генри Келлетт



2. Юлиус Пайер



5. Лоуренсу ди Алмейда



3. Христофор Колумб



6. Натаниэль Браун Палмер

Вопрос 32.2

Найдите соответствия: известный мореплаватель – открытые им острова (архипелаги).

Варианты ответа: А) Кергелен; Б) Гваделупа; В) Буве; Г) Мадейра; Д) Острова Крозе; Е) Остров Святой Елены.




1. Марк Марион-Дюфрэн



2. Ив-Жозеф Кергелен




3. Христофор Колумб



4. Шарль Буве де Лозье



5. Жуан да Нова



6. Жуан Гонсалвиш Зарку


Вопрос 32.3

Найдите соответствия: известный мореплаватель – открытые им острова (архипелаги).

Варианты ответа: А) Тувалу; Б) архипелаг Чагос; В) Остров Рождества (Индийский океан); Г) Самоа; Д) Тубуаи; Е) Туамоту.



1. Уильям Дампир



4. Джеймс Кук




2. Педро Фернандес Кирос



5. Якоб Роггевен



3. Альваро Менданья



6. Васко да Гама

Вопрос 33.1. Соотнесите растения со странами:

А) Австралия; Б) Индонезия; В) Мадагаскар; Г) Намибия; Д) США; Е) ЮАР.



1. Венерина мухоловка



2. Вельвичия удивительная




3. Дикий банан



4. Адансония Грегори




5. Стапелия



6. Казуарина

Вопрос 33.2. Соотнесите растения со странами:
А) Китай; Б) Мадагаскар; В) Перу; Г) США; Д) Чили; Е) ЮАР.



1. Гинкго



2.



3.



4. Колчанное



5. Дерево



6. Хинное

Вопрос 33.3. Соотнесите растения со странами:

А) Австралия; Б) Бразилия; В) Мексика; Г) США; Д) Перу; Е) ЮАР.



1.
Дарлингтония



2.
Протея



3.
Агатис



4. Хлопковое
дерево



5.
Какао



6.
Гуайява

Вопрос 33.4. Соотнесите растения со странами:

А) Австралия; Б) Бразилия; В) Египет; Г) Зимбабве; Д) США; Е) Папуа-Новая Гвинея.



1. Тюльпанное
дерево



2.
Банксия



3. Хлебное
дерево



4. Слоновая
трава



5. Виктория
регия



6. Сикомор («ослиный
инжир»)

Вопрос 33.5. Соотнесите растения со странами:

А) Австралия; Б) Бразилия; В) Индия; Г) Китай; Д) Мексика; Е) Парагвай.



1.
Эвкалипт



2.
Гевея



3. Квебрахо («сломай
топос»)»



4.



5. Камфорное



6.