

Закрепление изученного

Урок № 124

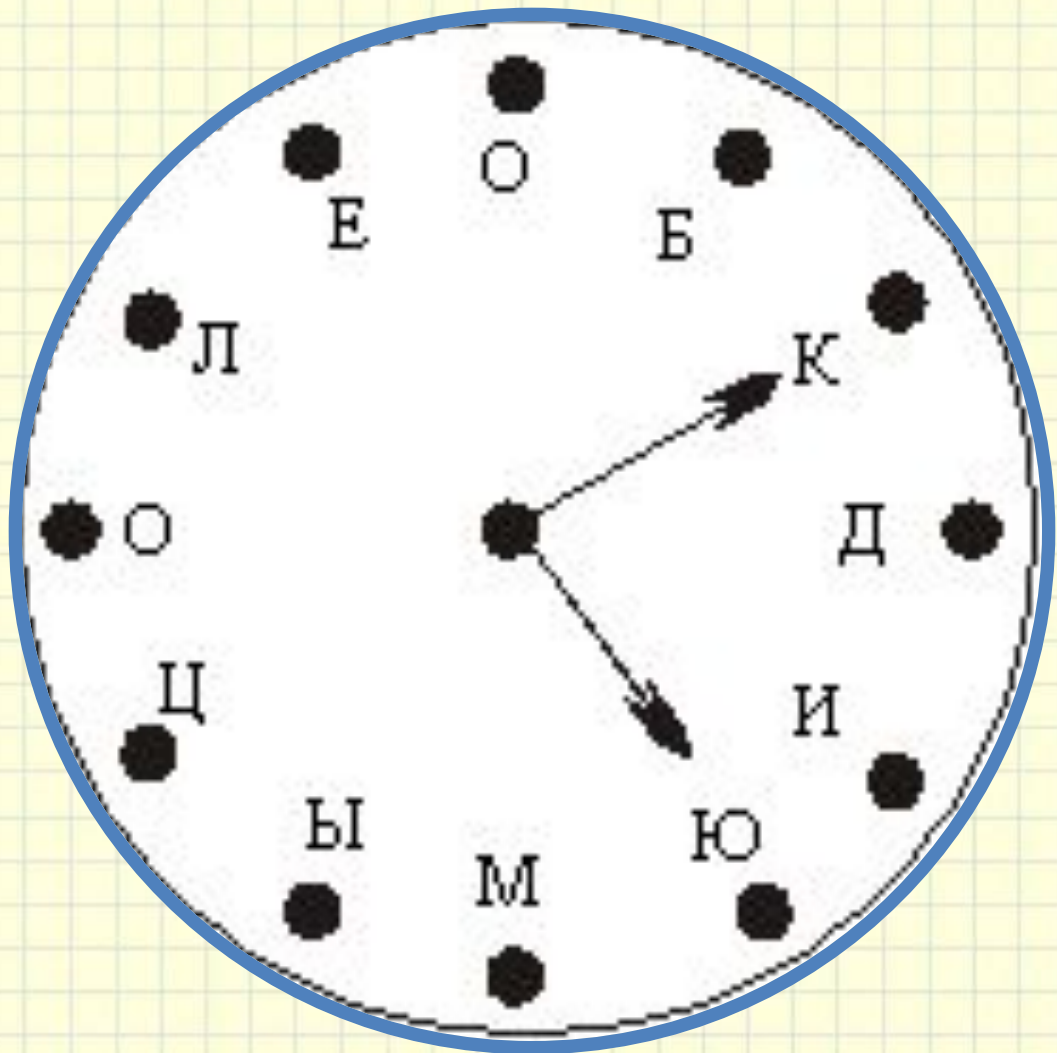


Школа России
Математика 2 класс





Устный счёт



$$12 : 2 =$$

$$3 \cdot 3 =$$

$$36 - 26 =$$

$$18 : 2 =$$

$$12 : 4 =$$

$$24 - 16 =$$

$$77 - 70 =$$

Найди уравнения с неизвестным делителем.

Найди

его значение.



$$x - 8 = 26$$

$$24 : a = 4$$

$$x : 5 = 3$$

$$6 \cdot a = 12$$

$$23 - x = 7$$

$$x : 10 = 2$$

$$a + 7 = 16$$

$$b - 37 = 34$$

**Вырази в новых единицах
длины.**



$$4 \text{ м} = \underline{\quad} \text{ дм}$$

$$2 \text{ дм} = \underline{\quad} \text{ см}$$


$$1 \text{ дм } 5 \text{ см} = \underline{\quad} \text{ см}$$

$$4 \text{ м } 7 \text{ дм} = \underline{\quad} \text{ дм}$$

$$3 \text{ см } 5 \text{ мм} = \underline{\quad} \text{ мм}$$

$$87 \text{ см} = \underline{\quad} \text{ дм } \underline{\quad} \text{ см}$$

Вспомни какие ты знаешь виды углов? Назови углы у данной фигуры.



Яйцо скворца весит **6** граммов. Сколько весят
граммов

2 яйца?



12 г



$$6 \cdot 2 = 12 \text{ (г)}$$

За 6 дней дятел выдолбил 2 дупла. Сколько дней ушло на строительство 1 дупла?

3

ДНЯ

$$6 : 2 = 3 \text{ (д.)}$$



В теплице собрали за день **60** ящиков грибов.

Из них

37 ящиков вешенки, а остальные шампиньоны. На

сколько меньше ящиков вешенки собрали, чем



$$37 - (60 - 37) = 14 \text{ (ящ.)}$$



на 14

(ящ.)

Заполни магический квадрат.

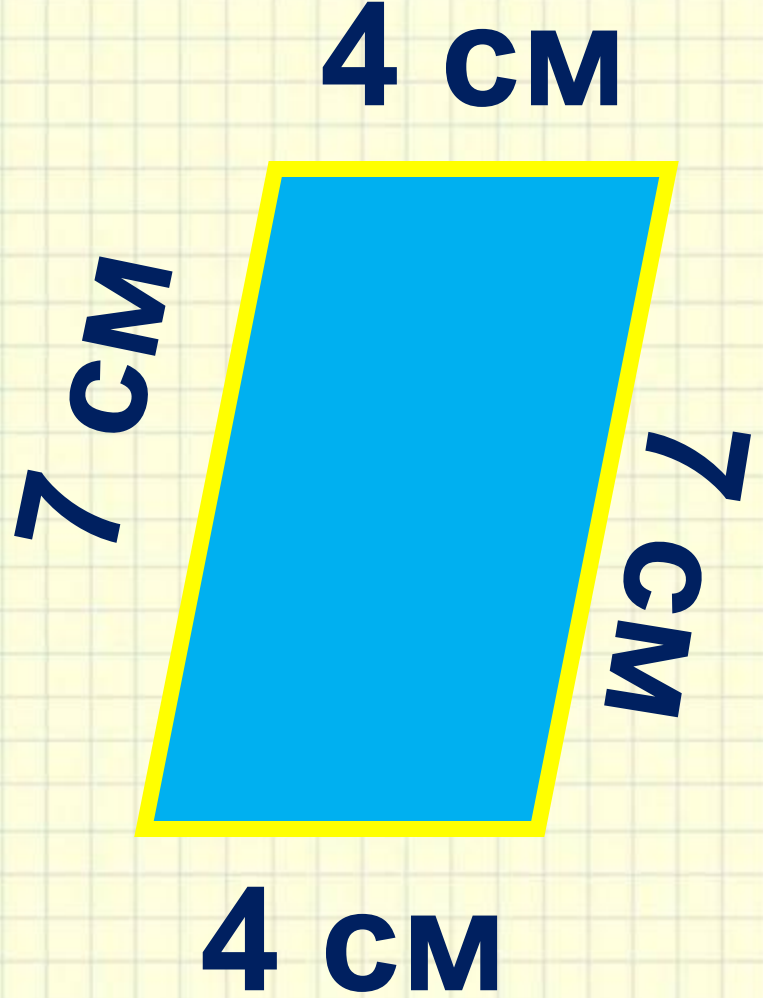
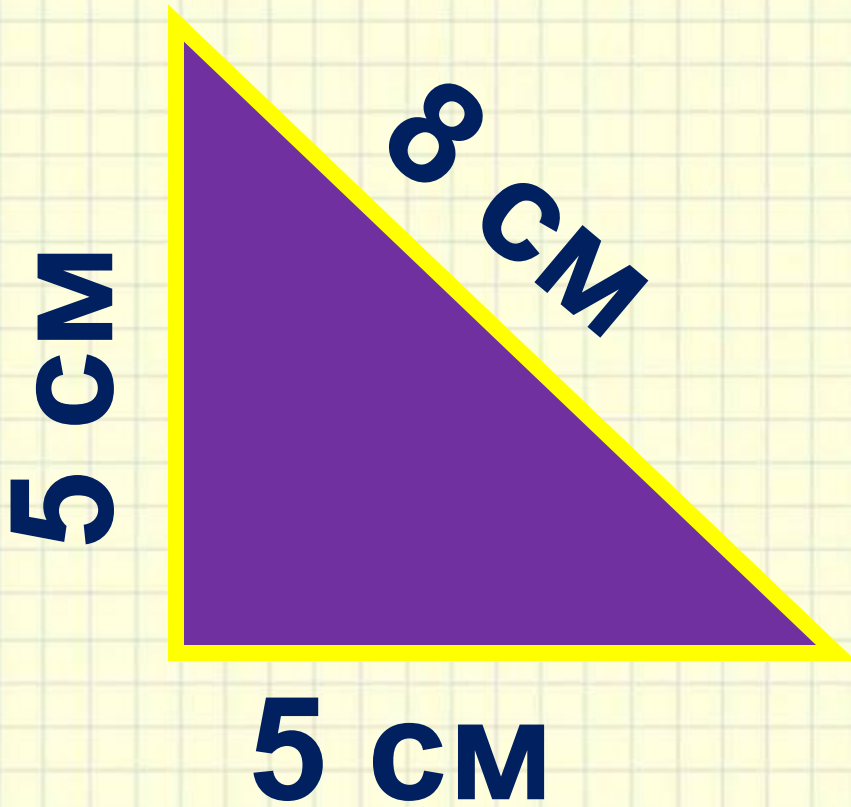
18



6	5	7
7	6	5
5	7	6



Найди периметры
фигур.




Задания на смекалку






Эстони


Я




пистолет



ЛИСТОК



простор



расстояние


Физкультминутка



http://www.youtube.com/watch?v=3ILs_uu5arQ

Весёлая физкультминутка:

Физкультминутка



**Самолет летит по небу,
Крылья подставляя ветру.
То как птица он парит,
То по воздуху кружит.
А теперь пора спускаться,
На посадку приземляться.
Опустились мы легонько
И садимся потихоньку.**

Конец