

# Урок 14

## Правление Павла Первого. Начало правления Александра Первого



**Проверяем домашнее  
задание**

# Тест 1

<b>Пётр Первый</b>	<b>Сигизмунд Третий</b>
<b>Лжедмитрий Первый</b>	<b>Стефан Баторий</b>
<b>Екатерина Вторая</b>	<b>Карл XII</b>
<b>Алексей Михайлович</b>	<b>Оливер Кромвель</b>
	<b>Станислав Понятовский</b>

# Тест 2

Географический объект	Событие (явление, процесс)	Время события
_____ (А)	Подписание перемирия с Речью Посполитой	_____ (Б)
Устье Дуная	_____ (В)	1790
Полтава	Сражение со шведской армией	_____ (Г)
_____ (Д)	_____ (Е)	1774

1. Штурм крепости

2. Ништадт

3. 1667

4. 1709

5. Осада города восставшими

6. Посёлок Андрусово

7. 1768

8. Казань





**3. А. Кто правил в России в тот год, когда произошло событие, которому посвящена марка? Обоснуйте ответ**

**3. А. Какое здание было построено в том же веке, когда произошло событие, показанное на марке? Укажите номер картинки. В каком стиле оно построено? Кто его архитектор?**



# Тест

**4. Какие города вошли в состав России в 18 веке?**

**Киев**

**Керчь**

**Минск**

**Смоленск**

**Нарва**

**Варшава**

# Тест

5. А. В царствование какого монарха?

Б. Название города, где был подписан мирный договор?

В. Название крепости, обозначенной цифрой 1.





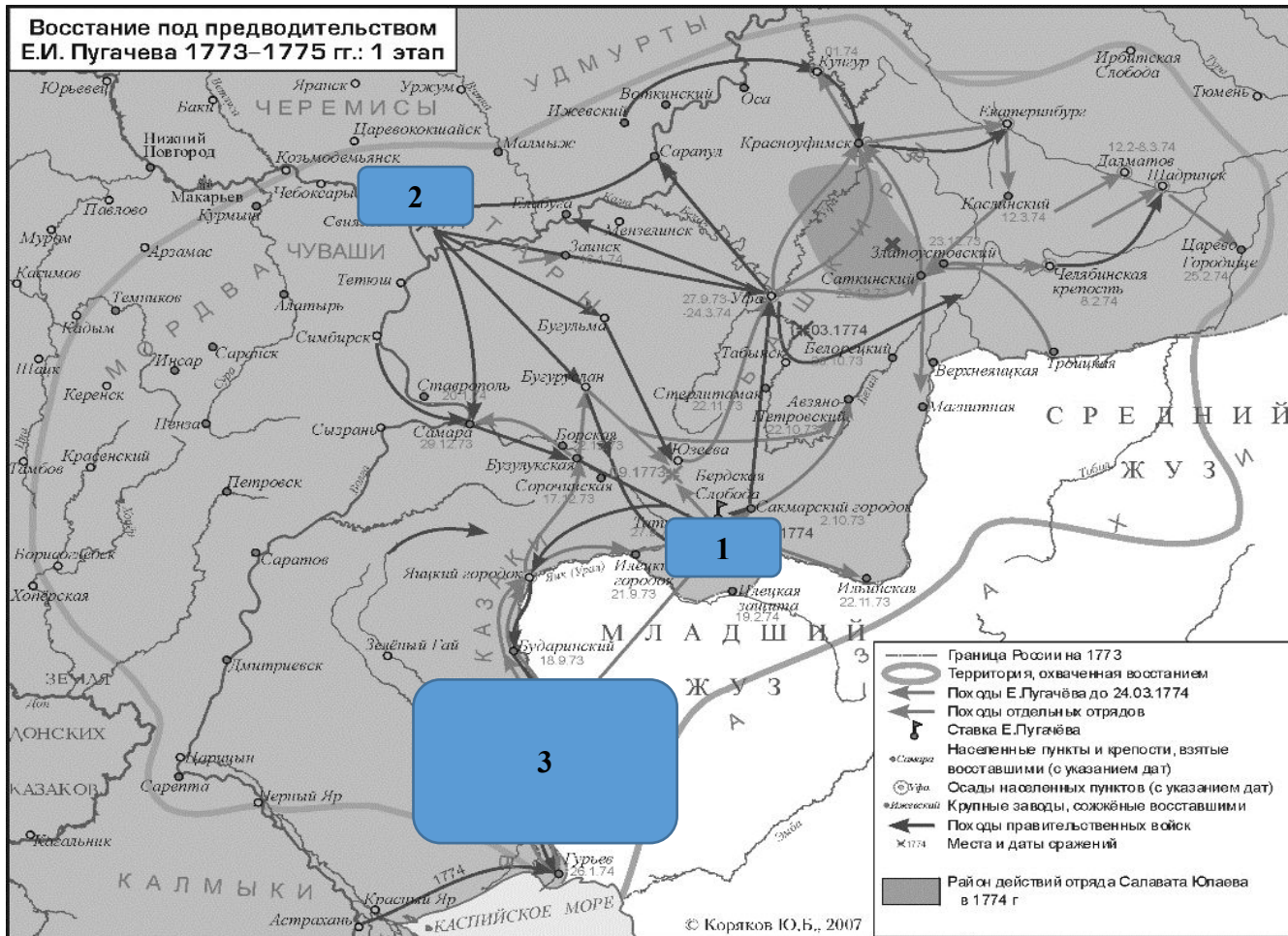
## Г. Укажите верные суждения:

1. Город, обозначенный цифрой 3, был основан во время данной войны.
2. В штурме крепости, обозначенной цифрой 1, принимал участие Кутузов.
3. Крым вошёл в состав Российской империи до начала этой войны.
4. Крепость, обозначенная цифрой 2, была взята русскими во время этой войны.
5. В событиях, обозначенных на схеме, принимал участие Нахимов.
6. В период этой войны проходила Великая французская революция.



# Тест

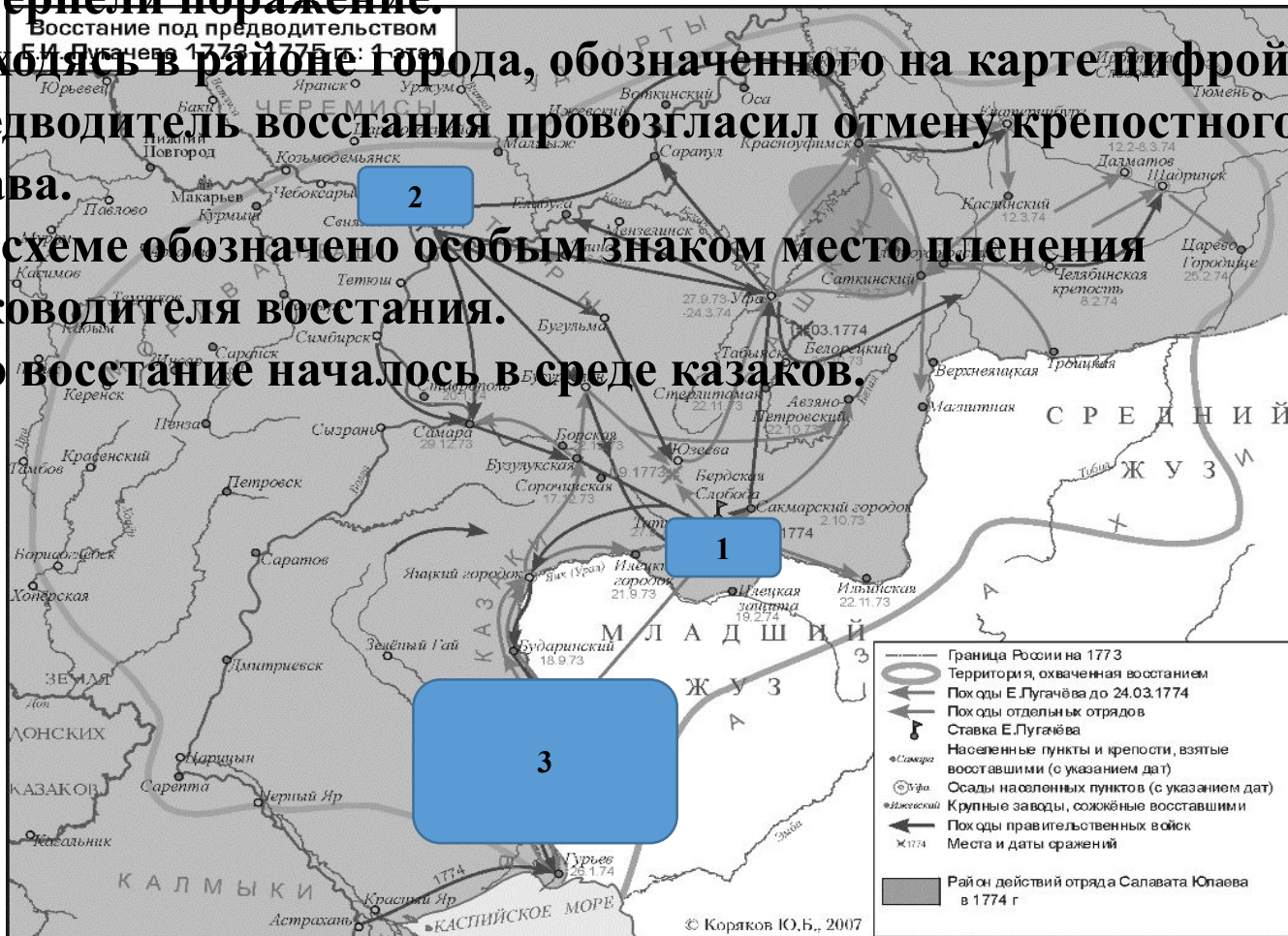
6. А. Имя монарха. Б. Название реки. В. Название страны, с которой Россия воевала в это время





## Г. Укажите верные суждения:

1. Восставшим удалось взять город, обозначенный цифрой 1.
2. Предводитель восстания выдавал себя за императора Ивана VI.
3. В сражении, обозначенном на карте цифрой 2, восставшие потерпели поражение.
4. Находясь в районе города, обозначенного на карте цифрой 1, предводитель восстания провозгласил отмену крепостного права.
5. На схеме обозначено особым знаком место пленения руководителя восстания.
6. Это восстание началось в среде казаков.



## Тест

**7. Во второй половине XVIII века во Франции и России происходят масштабные волнения и выступления против правящих монархов. Используя исторические знания, приведите аргументы в подтверждение точки зрения, что оба указанных процесса повлияли на дальнейшую внутреннюю политику правительства в странах, где они произошли: один аргумент для России и один для Франции. При изложении аргументов обязательно используйте исторические факты.**

**Ответ запишите в следующем виде.**

**Аргумент для России:**

---

**Аргумент для Франции:**

---

**8. Укажите, в каком веке происходили события обоих отрывков. Укажите название любого сражения, которое проходило в войну, события которой описано во втором отрывке. Приведите одно любое суждение, которым автор одного из отрывков указывает на свое отношение к главе государства.**

**А) «<...> взошла на престол насильственным и незаконным образом. И странно, как это удалось! Два гвардейских офицера, братья Орловы, почти без всякого участия вельмож, генералов, Сената, Синода и прочих коллегий, Императрицу, гонимую мужем своим, привозят, на удачу, к командиру одного гвардейского полка, в тёмной надежде на его к ней расположение, собирают три полка гвардии, убеждают присягнуть ей, низвергают царствовавшего Императора и таким образом делают переворот, которому безмолвно покоряется всё пространнейшее в мире государство без малейшего кровопролития. Нет ни одной жертвы, кроме самого венценосца».**

**Б) «...Увидев стоящего неприятеля в боевом порядке, убавили парусов, чтоб дожидаться отставших судов. По приближении которых главные командиры съехавшись вместе, сделали распоряжение к атаке следующим образом: кораблям команды адмирала Спиридова сочинять передовой строй боя; а кораблям графа Орлова средний, Елфинстоновым же делать сторожевой строй. Как разъехались начальники по своим местам, то дан был сигнал с корабля «Трёх Иерархов», дабы строиться к бою по вышеположенному расписанию и идти к атаке. Первым был корабль «Европа»... 24 июня в половине двенадцатого часа подошли к Турецкому флоту. Он стоял одним крылом, примкнувшись к мели и к небольшому каменному острову, другим протянулся к порту, называемому Чесме, находясь в весьма выгодном положении. Вдруг началась с Турецкого флота по нашему жестокая пальба. «Европа» вступила в бой, который в половине первого часа сделался общим...**

**Турки не могли уже более терпеть зря столь жестокую и неустрашимую с нашей стороны атаку... флот Оттоманский, отрубя якоря и подняв**

**9.**

- А) В. Н. Татищев**
- Б) А. Н. Радищев**
- В) Д. Г. Левицкий**
- Г) В. И. Баженов**

- 1) «Путешествие из Петербурга в Москву»**
- 2) «История Российская с самых древнейших времён»**
- 3) картина «Екатерина-законодательница»**
- 4) комедия «Недоросль»**
- 5) дом Пашкова в Москве**

**10.**

**А) Аввакум**

**Б) Григорий Потёмкин**

**В) Василий Баженов**

**Г) Федот Шубин**

**1) государственный деятель**

**2) композитор**

**3) церковный деятель**

**4) архитектор**

**5) скульптор**



**11. А) Алексей Михайлович**

**Б) Петр Первый**

**В) Петр Третий**

**Г) Екатерина Вторая**

**1) «Наказ» Уложенной комиссии**

**2) «Указ о престолонаследии»**


**3) «Соборное Уложение»**

**4) «Манифест о вольности дворянства»**


**5) «Крестоцеловальная запись»**

**12. В 1796 г. умерла Екатерина Великая. Укажите три позитивных для России итога внешней политики Екатерины II.**

Правление Павла  
Петровича  
1796 - 1801



Всё наперекор!





# Смотры и парады





**Проявления реакции:**

**Отмена жалованной грамоты  
дворянам.**

**Увеличение числа чиновников**

**Ужесточение цензуры**

**Затруднение выезда за границу**





**Но реформы:  
Ограничение барщины тремя  
днями в неделю.  
Закон о престолонаследии.**





# Марсово поле. Козловский «Суворов – бог войны Марс»





# Михайловский замок






# Внешняя политика – отношения с Наполеоном



# Присоединение к континентальной блокаде





11 марта 1801 года






**Давайте повторим!**

# Практикум

**Ниже приведен перечень терминов. Все они, за исключением двух, относятся к событиям, явлениям XVIII—середины XIX в.**

- 1) Барщина**
- 2) думская монархия**
- 3) крепостничество**
- 4) император**
- 5) Земский собор**
- 6) денежный оброк**

# «Дней Александровых прекрасное начало» 1801-1805



# Воспитание и личность



# Негласный комитет

**Строганов**

**Кочубей**

**Новосильцев**

**Чарторыйский**





# Программа реформ





# Михаил Сперанский





# Реформы в крестьянском вопросе





# Запрет печатать объявления





# Реформы в дворянском вопросе



**Восстановление жалованной  
грамоты Екатерины**

**Смягчение цензуры**

**Упрощение порядка выезда за  
границу**



# Политические реформы

**1802 – учреждение  
министерств**



# Политические реформы



1810 – Государственный совет



# Реформы в области культуры

## Учреждение Царскосельского лицея



И И  
АЛЕКСАНДР ПУШКИНЪ





# Реформы в области культуры






# Реформы в области культуры

## Церковно-приходские школы



# Внешняя политика

**3 анти-  
наполеоновская  
коалиция:  
Пруссия,  
Австрия,  
Россия  
(Англия)**





# Русско-французские войны





# Александр и Кутузов





# 1805 - Сражение при Аустерлице





# Русско-французские войны





# 1807 – Тильзитский мир



**Присоединение к континентальной блокаде**

**Отказ от помощи европейским странам**

**Право на завоевания на севере Европы**



# Русско-шведская война 1808-1809



# Великое княжество Финляндское





# Русско-турецкая война 1806-1812

## Бухарестский мир



- Автономия Сербии
- Восточная Молдавия в составе России
- Базы на Черном море
- Абхазия к Турции

# 1811- отставка Сперанского





**Давайте повторим!**

# Практикум



**Ниже приведён перечень названий. Все они, за исключением двух, обозначают государственные органы Российской империи в XVIII–XIX вв.**

- 1) Земский собор**
- 2) Верховный тайный совет**
- 3) Приказ Тайных дел**
- 4) Государственный совет**
- 5) Военная коллегия**
- 6) Комитет министров**

**Дайте определение понятию «автономия». Приведите факт, конкретизирующий это понятие, не повторяя определения.**



**Дайте определение понятию «министерства». Приведите факт, конкретизирующий это понятие, не повторяя определения.**

**Запишите в ответ цифры, расположив их в порядке, соответствующем буквам:**

**ПРОЦЕССЫ  
(ЯВЛЕНИЯ,  
СОБЫТИЯ)**

**А) «стояние» на реке  
Угре**

**Б) реформирование  
Российской империи  
в 1800-е**

**В) битва на реке  
Калке**

**Г) правление Михаи  
ла Фёдоровича Рома  
нова**

**ФАКТЫ**

**1) первое столкновение с  
монголами**

**2) создание полков нового  
строя**

**3) отмена местничества**

**4) окончание монголо-та  
тарского ига**

**5) указ о трёхдневной  
барщине**

**6) указ о «вольных  
хлебопашцах»**



**Какие из перечисленных событий относятся к царствованию Александра I?**

**1) подготовка М. М. Сперанским**

**«Введения к уложению государственных законов»**

**2) создание Негласного комитета**

**3) введение суда присяжных заседателей**

**4) Крымская война**

**5) учреждение Государственной думы**

**6) участие России в Континентальной блокаде**

**Укажите, о каком императоре идет речь в обоих отрывках. Укажите любую реформу, проведенную данным императором. Приведите одно любое суждение, которым автор одного из отрывков характеризует отношение императора к выполнению своих обязанностей.**



**А) «Захваченный всецело сначала идеей ниспровержения европейского тирана Наполеона, а затем ловко увлеченный Меттернихом мыслью искоренить в Европе революционные идеи, [император] надолго увлекается ролью европейского арбитра, навсегда отвлекаясь от своих прежних светлых идеалов в деле перестройки собственного государства. Бремя внутреннего правления становилось при этих условиях для него все тяжелее и невыносимее. Явилась необходимость часть этого бремени переложить на доверенного и ближайшего своего помощника <...>. Таким избранником оказался граф Аракчеев, ставший к концу царствования [императора] неограниченным, бесконтрольным правителем всего государства, единственным докладчиком по всем делам правления <...>»**

**Б) «[Император] сознавал, что ему невозможно высказать свои чувства откровенно и проявлять их перед обществом, столь мало подготовленным для восприятия этих идей. <... > Чтобы до известной степени смягчить это печальное противоречие с самим собою, император образовал род <...> комитета, составленного из лиц, которых он считал своими личными друзьями, разделявшими его взгляды и убеждения... Каждый нес туда свои мысли, свои работы, свои сообщения о текущем ходе правительственных дел и о замеченных злоупотреблениях власти. Император вполне откровенно раскрывал перед нами свои мысли и свои истинные чувства. <...> Не было ни одного внутреннего улучшения, ни одной полезной реформы, намеченной или проведенной в России в царствование императора, которые не зародились на этих именно тайных совещаниях».**

**Взойдя на престол, император Александр I заявил о стремлении поддерживать нейтралитет России в европейских делах. Но уже через четыре года Россия приняла участие в формировании очередной антифранцузской коалиции. Укажите три любые причины конфликта России и Франции.**

**Приступайте к  
выполнению домашнего  
задания!**



**Спасибо за внимание!**

**До новых встреч!**

