



Демонстрационный вариант ЕГЭ 2015 г. МАТЕМАТИКА, 11 класс (профиль)

Полезная информация

- Членам НМС
- Разработчикам КИМ
- Экспертам ПК регионов
- Преподавателям вузов и союзов
- Учителям школ
- Родителям и учащимся



Подписаться
на рассылку новостей



Структура демонстрационного варианта

Экзаменационная работа состоит из двух частей, включающих в себя 21 задание.

Часть 1 содержит 9 заданий базового уровня сложности с кратким ответом.

Часть 2 содержит 5 заданий повышенного уровня сложности с кратким ответом и 7 задания высокого уровня сложности с развёрнутым ответом.

Оценивание экзаменационной работы

Каждое из заданий 1–14 считается выполненными верно, если экзаменуемый дал верный ответ в виде целого числа или конечной десятичной дроби. Каждое верно выполненное задание оценивается 1 баллом.

15-17 задания оцениваются в 2 балла.

18-19 задания оцениваются в 3 балла.

20-21 задания оцениваются в 4 балла.

Максимальный первичный балл за выполнение всей работы – 34 балла.

Инструкция по выполнению работы

На выполнение заданий варианта КИМ по математике даётся *3 часа 55 минут* (235 минут). Работа состоит из двух частей, включающих в себя 21 задание. Ответы к заданиям 1–14 записываются в виде целого числа или

конечной десятичной дроби. Числа запишите в поля ответов в тексте работы, а затем перенесите в бланк ответов № 1.

При выполнении заданий 15–21 требуется записать полное решение и ответ в бланке ответов № 2.

Все бланки ЕГЭ заполняются яркими чёрными чернилами.

Допускается использование гелевой, капиллярной или перьевой ручек.

При выполнении заданий можно пользоваться черновиком. Записи в черновике не учитываются при оценивании работы.

Баллы, полученные Вами за выполненные задания, суммируются.

Постарайтесь выполнить как можно больше заданий и набрать наибольшее количество баллов.

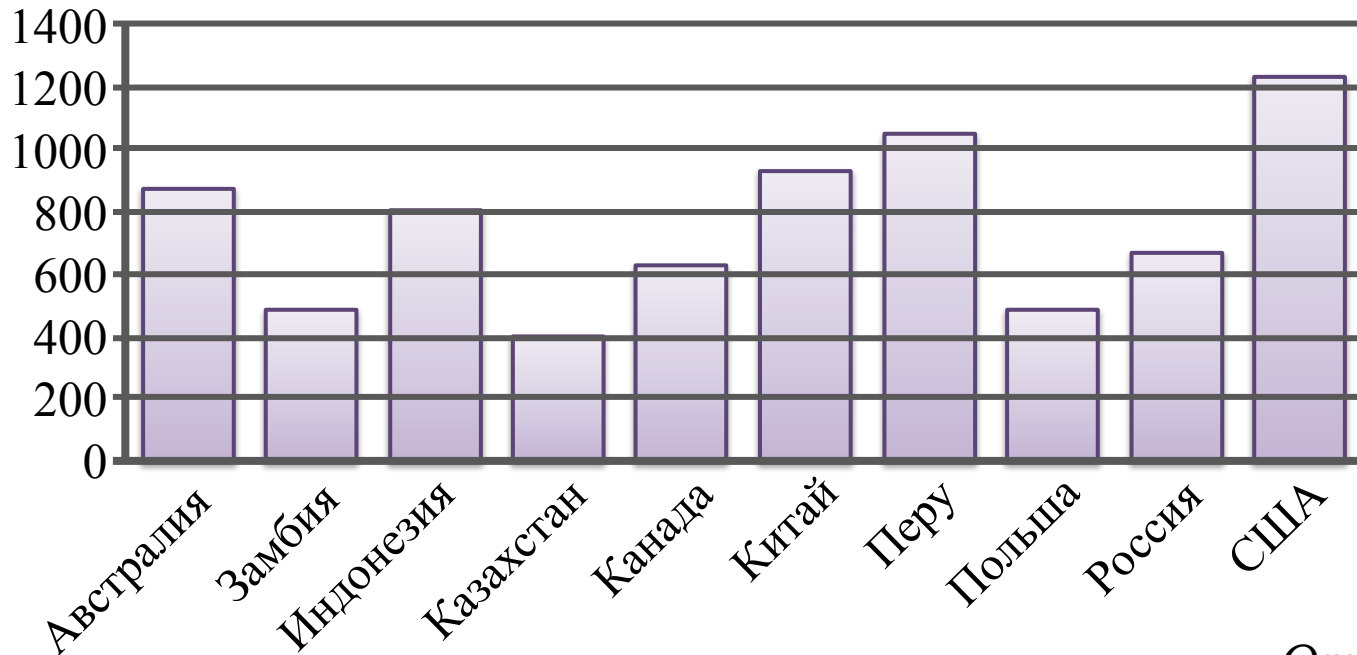
Часть 1

Ответом на задания 1–9 должно быть целое число или конечная десятичная дробь. Ответ следует записать в бланк ответов №1 справа от номера выполняемого задания, начиная с первой клеточки. Каждую цифру, знак минус и запятую пишите в отдельной клеточке в соответствии с приведёнными в бланке образцами. Единицы измерений писать не нужно.

- 1 Поезд отправился из Санкт-Петербурга в 23 часа 50 минут и прибыл в Москву в 7 часов 50 минут следующих суток. Сколько часов поезд находился в пути?

Часть 1

2 На диаграмме показано распределение выплавки меди в 10 странах мира (в тысячах тонн) за 2006 год. Среди представленных стран первое место по выплавке меди занимали США, десятое место – Казахстан. Какое место занимала Канада?



Ответ: 7.

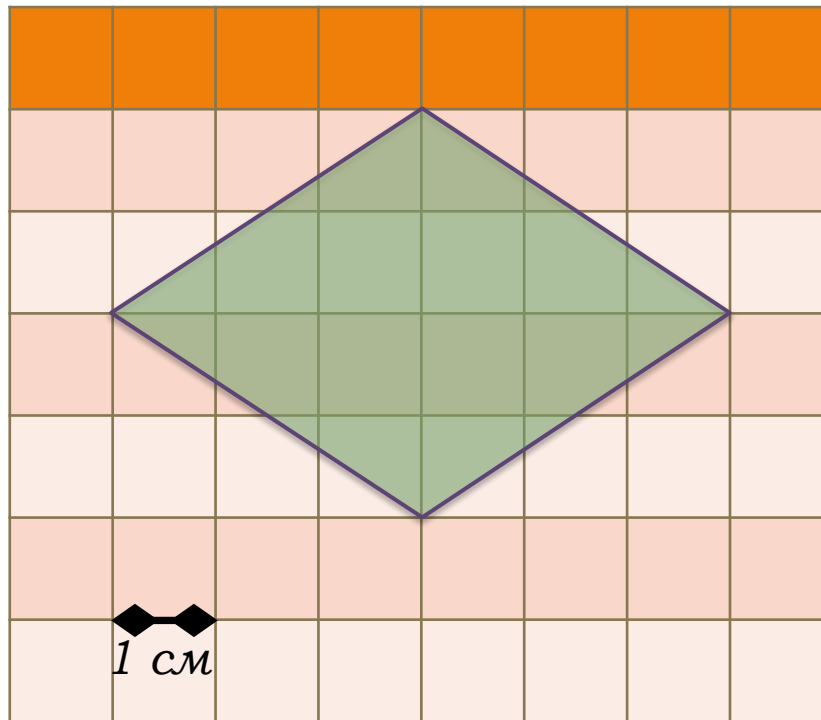
Часть 1

3 Строительная фирма планирует купить 70 м пеноблоков у одного из трёх поставщиков. Цены и условия доставки приведены в таблице. Сколько рублей нужно заплатить за самую дешёвую покупку с доставкой?

Поставщик	Стоимость пеноблоков (руб. за 1 м ³)	Стоимость доставки (руб.)	Дополнительные условия доставки
А	2600	10 000	Нет
Б	2800	8 000	При заказе товара на сумму свыше 150 000 рублей доставка бесплатная
В	2700	8 000	При заказе товара на сумму свыше 200 000 рублей доставка бесплатная

Часть 1

- 4 Найдите площадь ромба, изображённого на клетчатой бумаге с размером клетки 1 см × 1 см. Ответ дайте в квадратных сантиметрах.



Часть 1

5 В сборнике билетов по биологии всего 25 билетов, в двух из них встречается вопрос о грибах. На экзамене школьнику достаётся один случайно выбранный билет из этого сборника. Найдите вероятность того, что в этом билете не будет вопроса о грибах.

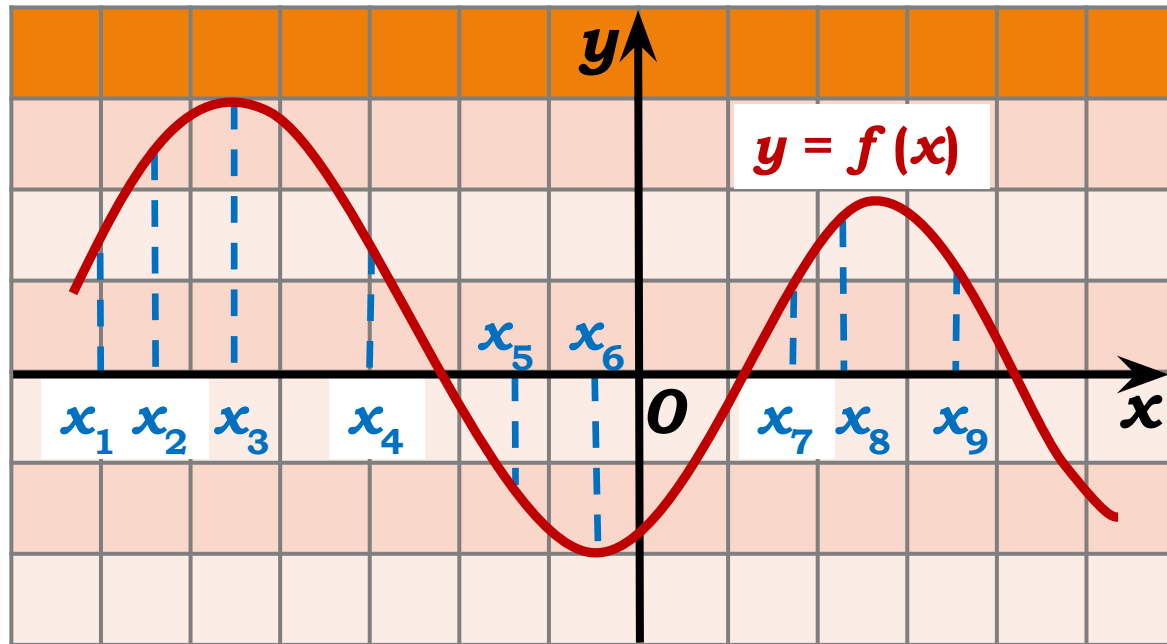
6 Найдите корень уравнения $3^{x-5} = 81$.

7 Треугольник ABC вписан в окружность с центром O . Найдите угол BOC , если угол BAC равен 32° . Ответ дайте в градусах.

Часть 1

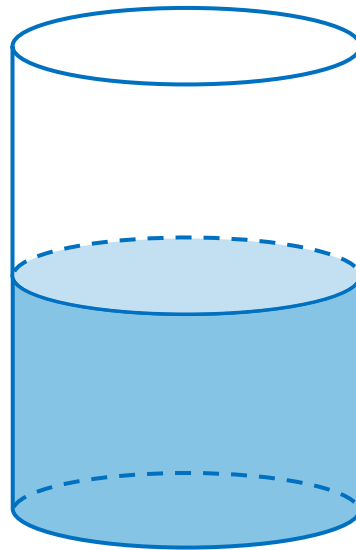
8 На рисунке изображён график дифференцируемой функции $y = f(x)$. На оси абсцисс отмечены девять точек: x_1, x_2, \dots, x_9 .

Среди этих точек найдите все точки, в которых производная функции $f(x)$ отрицательна. В ответе укажите количество найденных точек.



Часть 1

- 9 В цилиндрическом сосуде уровень жидкости достигает 16 см. На какой высоте будет находиться уровень жидкости, если её перелить во второй цилиндрический сосуд, диаметр которого в 2 раза больше диаметра первого? Ответ выразите в сантиметрах.



Ответ: 4.

Не забудьте перенести все ответы в бланк ответов №1.

Часть 2

Ответом на задания 10–14 должно быть целое число или конечная десятичная дробь. Ответ следует записать в бланк ответов №1 справа от номера выполняемого задания, начиная с первой клеточки. Каждую цифру, знак минус и запятую пишите в отдельной клеточке в соответствии с приведёнными в бланке образцами. Единицы измерений писать не нужно.

10 Найдите $\sin \alpha$, если $\cos \alpha = 0,6$ и $\pi < \alpha < 2\pi$.

Часть 2

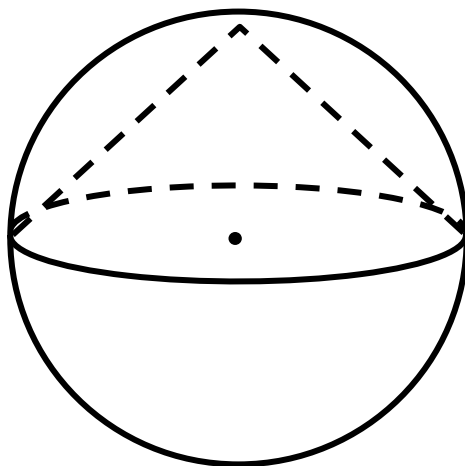
11 Локатор батискафа, равномерно погружающегося вертикально вниз, испускает ультразвуковой сигнал частотой 749 МГц. Приёмник регистрирует частоту сигнала, отражённого от дна океана. Скорость погружения батискафа (в м/с) и частоты связаны соотношением

$$v = c \cdot \frac{f - f_0}{f + f_0},$$

где $c = 1500$ м/с – скорость звука в воде, f_0 – частота испускаемого сигнала (в МГц), f – частота отражённого сигнала (в МГц). Найдите частоту (в МГц) отражённого сигнала, если батискаф погружается со скоростью 2 м/с.

Часть 2

12 Около конуса описана сфера (сфера содержит окружность основания конуса и его вершину). Центр сферы совпадает с центром основания конуса. Радиус сферы равен $10\sqrt{2}$. Найдите образующую конуса.



Часть 2

13 Весной катер идёт против течения реки в $5/3$ раза медленнее, чем по течению. Летом течение становится на 1 км/ч медленнее. Поэтому летом катер идёт против течения в $3/2$ раза медленнее, чем по течению. Найдите скорость течения весной (в км/ч).

14 Найдите точку максимума функции $y = \ln(x + 4)^2 + 2x + 7$.

Не забудьте перенести все ответы в бланк ответов №1.

Часть 2

Для записи решений и ответов на задания 15–21 используйте бланк ответов №2. Запишите сначала номер выполняемого задания, а затем полное обоснованное решение и ответ.

15

а) Решите уравнение $\cos 2x = 1 - \cos\left(\frac{\pi}{2} - x\right)$.

б) Найдите все корни этого уравнения,

принадлежащие промежутку $\left[-\frac{5\pi}{2}; -\pi\right)$.

16

В прямоугольном параллелепипеде $ABCD A_1 B_1 C_1 D_1$ известны рёбра: $AB = 3$, $AD = 2$, $AA_1 = 5$. Точка O принадлежит ребру BB_1 и делит его в отношении $2 : 3$, считая от вершины B . Найдите площадь сечения этого параллелепипеда плоскостью, проходящей через точки A , O и C_1 .

Часть 2

17 Решите неравенство

$$\log_{x-1} x + 2 * \log_3 (x^2 - 2x + 1) \geq \log_9 (10 - x) .$$

18 Две окружности касаются внешним образом в точке K . Прямая AB касается первой окружности в точке A , а второй – в точке B . Прямая BK пересекает первую окружность в точке D , прямая AK пересекает вторую окружность в точке C .

а) Докажите, что прямые AD и BC параллельны.

б) Найдите площадь треугольника AKB , если известно, что радиусы окружностей равны 4 и 1.

19. 31 декабря 2013 года Сергей взял в банке 9 930 000 рублей в кредит под 10% годовых. Схема выплаты кредита следующая: 31 декабря каждого следующего года банк начисляет проценты на оставшуюся сумму долга (то есть увеличивает долг на 10%), затем Сергей переводит в банк определённую сумму ежегодного платежа. Какой должна быть сумма ежегодного платежа, чтобы Сергей выплатил долг тремя равными ежегодными платежами?

Часть 2

20

Найдите все значения a , при каждом из которых наименьшее значение функции $f(x) = 2ax + |x^2 - 8x + 7|$ больше 1.

21

На доске написано более 40, но менее 48 целых чисел. Среднее арифметическое этих чисел равно 3, среднее арифметическое всех положительных из них равно 4, а среднее арифметическое всех отрицательных из них равно 8.

а) Сколько чисел написано на доске?

б) Каких чисел написано больше: положительных или отрицательных?

в) Какое наибольшее количество положительных чисел может быть среди них?