

Тема урока: «Страны мира»

- **Цели урока:**
 - проверить знания о населении Земли;
 - расширить знания о политической карте мира;
 - познакомиться с классификацией стран;
 - узнать о формах правления.
- На карте мира много разных стран. Они различаются по величине, площади и численности населения.
- **Каждая страна уникальна и неповторима!**



Задание №1

О какой расе людей идет речь в следующем описании:

«Изначально обитали на открытых пространствах с суровыми ветрами; от слепящих пыльных и снежных бурь их глаза защищены благодаря узкому разрезу, дополнительной складке на веках, выступающим скулам; характерен желтоватый цвет кожи, черные прямые волосы; к этой расе принадлежат многие народы Азии, а также американские индейцы»:

европеоидная; негроидная; монголоидная ?



Задание №2

- Какие из этих религий относятся к мировым?
- 1) Ислам
- 2) Буддизм
- 3) Язычество
- 4) Христианство
- 5) Православие

ПОЛИТИЧЕСКАЯ КАРТА



Задание №3

Определите название стран крупных по числу жителей, пользуясь политической картой мира



А теперь узнаем о странах мира!

- Политическая карта мира – это карта стран.
- **Политическая карта мира** — тематическая карта, на которой показаны государственные границы всех стран мира. Её называют зеркалом эпохи, поскольку на ней находят своё отражение все процессы, происходящие в мире на разных этапах развития человеческого общества.

16 век – эпоха Великих географических открытий

- **Колония** – это страна ... (продолжите из учебника)
- **Метрополии** – страны...(продолжите из учебника)
- «Империя, над которой никогда не заходит солнце». Так называли Великобританию. Рисунок 86 в учебнике
- **Вопрос:** почему появилось такое название?

Различия между странами

- Что такое страна? (Найдите определение в тексте учебника)
- **Различия стран по площади:**
 - 1) Страны – гиганты (приведите примеры стран)
 - 2) Карликовые государства (приведите примеры стран)
 - 3) Средние страны (приведите примеры стран)

Ватикан – самая маленькая по площади страна мира (0,44 кв.км.)



Различия стран по форме правления

Формы правления стран (запишите)


Монархия – такая форма правления, при которой власть принадлежит одному человеку.

Виды монархий

Абсолютная



Ограниченная



Приведите примеры монархий, пользуясь картой следующего слайда.

Монархии мира

Монархии мира

Монархия как форма правления существует в 29 странах мира



Монархии современных государств (виды):

- абсолютная монархия**
(неограниченная власть монарха)
- конституционная монархия**
(власть монарха ограничена конституцией)
- теократическая монархия**
(власть принадлежит главе церкви или религиозному лидеру)

* Эмир – (араб.) повелитель, вождь



Формы правления стран

- **Республика** - такая форма правления, при которой власть принадлежит народу страны (*запишите*)



- **Вопрос:** какая форма правления в нашей страны?

Национальные символы стран

■ Флаг

Герб

Гимн

■ Символы России



Слова гимна России

Россия — священная наша
держава,

Россия — любимая наша
страна.

Могучая воля, великая слава —
Твоё достоянье на все времена!

Славься, Отечество наше
свободное,

Братских народов союз
вековой,

Предками данная мудрость
народная!

Славься, страна! Мы
гордимся тобой!

Символы других государств



Герб
Египта



Герб
Германии





Герб
Ватикана



Герб
Великобритании

Различия стран по положению (запишите)

Географическое положение стран



**Пользуясь политической картой мира, приведите
примеры стран к каждой группе**



ЧАСТИ СВЕТА – материк или часть материка с расположенными вблизи островами.



Проверь себя:



1. Выберите страну с наибольшей численностью населения:

- А) Индия
- Б) Бразилия
- В) Индонезия
- Г) Россия

2. Самая маленькая страна по площади и по численности населения это:

- А) Люксембург
- Б) Монако
- В) Ватикан
- Г) Андорра

Тесты



3. Выделите часть света, где нет государств с монархической формой правления:

- А) Европа
- Б) Азия
- В) Америка
- Г) Африка

4. Выделите островное государство:

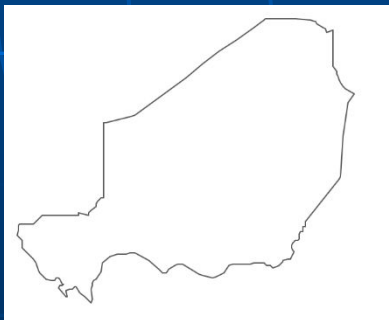
- А) Австрия
- Б) Индия
- В) Россия
- Г) Япония

5. Используя таблицу, выполните задания:

Численность и состав населения, 2017 г.

№	Страна	Численность населения, млн человек	Возрастной состав, %		
			Доля населения в возрасте до 15 лет	Доля населения в возрасте от 15 до 65 лет	Доля населения в возрасте старше 65 лет
1	Бразилия	211	22	69	9
2	Великобритания	66	17	65	18
3	Нигер	22	49	48	3
4	Япония	126	13	59	28

5.1. Найдите среди контуров стран, страну с самой большой численностью населения. Ее название.



А



Б

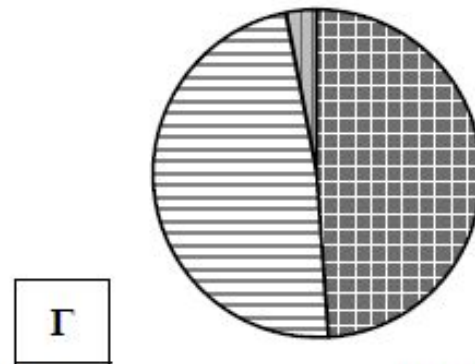
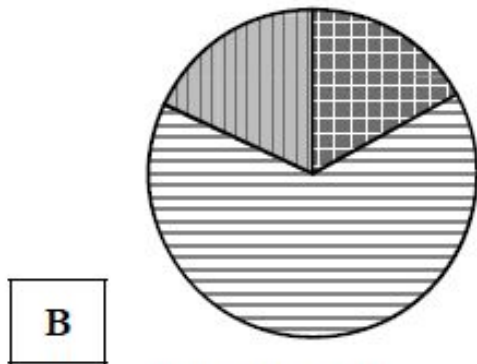
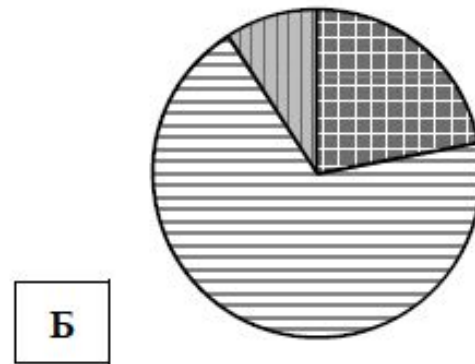
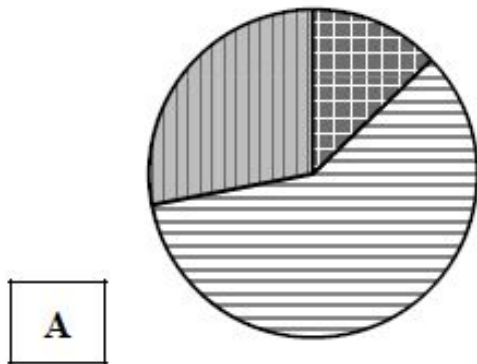


В



Г

5.2. Определите, возрастной состав населения какой страны отражает каждая диаграмма. Запишите в ответе порядковые номера стран под соответствующими буквами.



доля населения
в возрасте до 15 лет



доля населения
в возрасте от 15 до 65 лет



доля населения
в возрасте старше 65 лет

Ответ:

А	Б	В	Г